

高雄市立鼓山高級中學國中部 105 學年度第 2 學期第 3 次段考一年級地理科試題

考試範圍：第五、六章

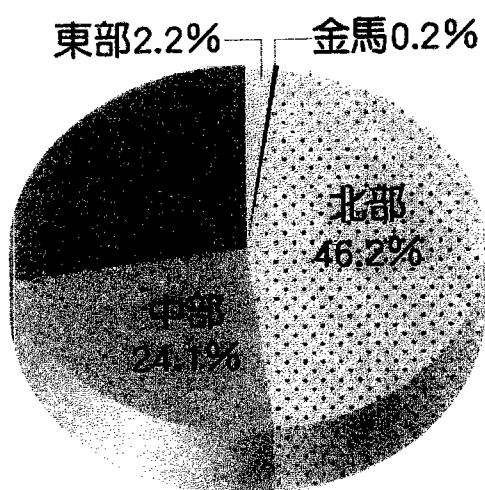
科目代碼：05

班級： 座號： 姓名：

單一選擇題 共 50 題，1 題 2 分

1. 請問北部冬季多吹哪一種方向的風 (A) 東北 (B) 西北 (C) 東南 (D) 西南
2. 請問北部冬季降雨為何種類型的雨 (A) 對流雨 (B) 地形雨 (C) 鋒面雨 (D) 颱風雨
3. 流經北部的的主要河川為 (A) 淡水河 (B) 濁水溪 (C) 高屏溪 (D) 秀姑巒溪
4. 北部地區最重要的港口為 (A) 高雄港 (B) 台中港 (C) 基隆港 (D) 花蓮港
5. 北部地區最重要的航空站為 (A) 松山機場 (B) 桃園機場 (C) 小港機場 (D) 清泉崗機場
6. 有台灣矽谷之稱的最早高科技發展基地為 (A) 台北市 (B) 新北市 (C) 新竹市 (D) 台中市
7. 連接台北和宜蘭之間的重要高速公路為 (A) 蔣渭水高速公路 (B) 北宜高速公路 (C) 國道五號高速公路 (D) 以上皆是
8. 彰化、雲林是哪一條河川沖積的平原 (A) 淡水河 (B) 濁水溪 (C) 高屏溪 (D) 秀姑巒溪
9. 中部地區最重要的核心都市為 (A) 苗栗縣 (B) 台中市 (C) 南投縣 (D) 斗六市
10. 雲林離島式基礎工業區位於 (A) 虎尾 (B) 四湖 (C) 北港 (D) 麥寮
11. 南投日月潭纜車上方直達哪一個遊樂區 (A) 劍湖山 (B) 六福村 (C) 小人國 (D) 九族文化村
12. 台中盆地西北方為何台地 (A) 林口 (B) 桃園 (C) 大肚 (D) 八卦
13. 台中盆地西南方為何台地 (A) 林口 (B) 桃園 (C) 大肚 (D) 八卦
14. 苗栗縣的觀光陶藝園區為 (A) 美濃窯 (B) 華陶窯 (C) 蛇窯 (D) 板陶窯
15. 南部地區最重要的港口為 (A) 高雄港 (B) 台中港 (C) 基隆港 (D) 花蓮港
16. 南部地區最重要的航空站為 (A) 松山機場 (B) 桃園機場 (C) 小港機場 (D) 清泉崗機場
17. 流經南部的的主要河川為 (A) 淡水河 (B) 濁水溪 (C) 高屏溪 (D) 秀姑巒溪
18. 南部地區的氣候類型為 (A) 熱帶季風 (B) 副熱帶季風 (C) 溫帶季風 (D) 熱帶莽原
19. 南部地區最重要的核心都市為 (A) 台南市 (B) 高雄市 (C) 嘉義市 (D) 屏東市
20. 號稱南部地區的文化首都為 (A) 台南市 (B) 高雄市 (C) 嘉義市 (D) 屏東市
21. 澎湖群島嶼類型為 (A) 火山島 (B) 大陸島 (C) 珊瑚礁島
22. 蘇花公路穿越哪一座山脈 (A) 中央山脈 (B) 雪山山脈 (C) 玉山山脈 (D) 海岸山脈
23. 因為預防強風，因此有地下屋建築的為 (A) 綠島 (B) 蘭嶼 (C) 龜山島 (D) 澎湖
24. 位於中央山脈和海岸山脈之間的地形為 (A) 花東縱谷平原 (B) 嘉南平原 (C) 宜蘭平原 (D) 屏東平原
25. 東部俗稱的火燒風即為 (A) 颱風 (B) 龍捲風 (C) 焚風 (D) 九降風
26. 東部地區的主要河川之一為 (A) 淡水河 (B) 濁水溪 (C) 高屏溪 (D) 秀姑巒溪
27. 切穿太魯閣峽谷的河川 (A) 和平溪 (B) 立霧溪 (C) 花蓮溪 (D) 秀姑巒溪
28. 東部地區將在地特色和觀光產業結合的活動為 (A) 太魯閣音樂季 (B) 國際石雕藝術季 (C) 原住民聯合豐年祭 (D) 以上皆是
29. 金門、馬祖島嶼類型為 (A) 火山島 (B) 大陸島 (C) 珊瑚礁島
30. 有關金門敘述何者正確 (A) 位於廈門灣口 (B) 高粱酒、貢糖、菜刀為特產 (C) 屬於福建省金門縣 (D) 以上皆是
31. 有關馬祖敘述何者正確 (A) 位於閩江口外 (B) 芹壁村為傳統花崗岩村落 (C) 屬於福建省連江縣 (D) 以上皆是
32. 金門的在地守護神為 (A) 保生大帝 (B) 三山國王 (C) 土地公 (D) 風獅爺
33. 金門最高山為 (A) 大武山 (B) 柴山 (C) 玉山 (D) 太武山
34. 金門、馬祖的地下坑道原來建築用意為 (A) 戰備通道 (B) 教學需要 (C) 娛樂觀光 (D) 鍛練官兵
35. 現今金門、馬祖的主要產業為 (A) 農業 (B) 工業 (C) 服務業
36. 臺灣區域差距的擴大，與下列何者關係最小? (A) 產業發展 (B) 教育程度 (C) 交通建設 (D) 氣候變遷
37. 為了讓區域均衡發展，達到人口及產業的合理分布，下列哪一項建設的目的最能符合此一目標? (A) 臺中市規畫捷運工程 (B) 新竹科學工業園區進行擴建 (C) 雲林設立中科虎尾園區 (D) 高雄市興建世運主場館。
38. 臺灣各區域間的差異主要在下列哪些層面? (甲) 人口分布 (乙) 氣候條件 (丙) 產業發展 (丁) 生活層面 (A) 甲乙丙 (B) 甲乙丁 (C) 甲丙丁 (D) 乙丙丁。
39. 臺灣的區域可分成北部、中部、南部和東部，在衡量區域發展的各項指標中，北部區域常高於其他三區，但下列哪一項指標，北部區域最可能低於其他三區? (A) 每人平均所得 (B) 六歲以上人口識字率 (C) 人口密度 (D) 人口移出率。

40. 附圖所示最可能是臺灣各區域何種比例的差異？ (A)森林面積比例 (B)稻米產量比例 (C)工商業從業人口比例 (D)老年人口占總人口比例。



41. 區域間的差異是臺灣整體所面臨的問題，具體的差異表現在下列哪些方面上？ (甲)產業發展 (乙)人口分布 (丙)家庭平均年所得 (丁)公務人員薪資 (A)甲乙丙 (B)甲乙丁 (C)甲丙丁 (D)乙丙丁。
42. 臺灣高鐵完成通車後，使臺灣南北形成「一日生活圈」。高鐵的大部分車站皆設置於非大都市地區，此種規畫具有下列哪一項功能？ (A)加速鄉村人口外移 (B)均衡東西部地區的發展 (C)縮短區域內城鄉差距 (D)加速都市更新。
43. 附表為經建會於民國 95 年，對甲、乙、丙、丁四縣市進行生活水準比較的統計表。請問：何者最有可能是位於臺灣的「東部」區域？ (A)甲 (B)乙 (C)丙 (D)丁。

| 縣市 | 平均每戶經常性收入(元) | 冷、暖氣普及率(%) | 汽車持有率(輛/千人) | 非農就業人口(%) |
|----|--------------|------------|-------------|-----------|
| 甲 | 1,195,049 | 67.27 | 302.4 | 72.3 |
| 乙 | 1,489,749 | 88.37 | 251.0 | 99.5 |
| 丙 | 955,003 | 68.23 | 213.7 | 75.6 |
| 丁 | 729,052 | 42.00 | 203.5 | 37.8 |

44. 臺灣過度強調產業的發展，雖得到成長的經濟，但也產生許多後遺症。為避免環境繼續惡化，下列何者是進一步落實永續發展的方法？(A)加強外銷增進國力(B)維護土地的生態環境(C)建設更高度的生產環境 (D)產業與人口積極外移。
45. 「OTOP」意指「One Town One Product」即「一鄉鎮一特產」之意，以鄉、鎮、市為主，發展出具有歷史性、文化性、獨特性或唯一性等特質的產品。通常此類的產品都是由工業(手工業)與下列哪項產業結合？ (A)科技業 (B)觀光業 (C)運輸業 (D)金融業
46. 近來政府欲施行「能源稅」政策，引起自行開車通勤的民眾反彈。臺灣哪個區域因產業發展最為發達、大眾交通運輸最為便捷，上述政策可能造成的影響較其他區域小？ (A)北部區域 (B)中部區域 (C)南部區域 (D)東部區域。
47. 民國 99 年立法通過「國土空間發展策略計畫」，所謂三軸為 (A)西部創新發展軸 (B)中央山脈保育軸 (C)東部優質生活產業軸 (D)以上皆是
48. 有關農村再生條例敘述何者正確 (A)提高青年返鄉務農意願 (B)提出農村建設構想補助經費 (C)鼓勵農村整合在地組織 (D)以上皆是
49. 有關離島建設條例敘述何者正確 (A)補助就學、就醫往返交通費 (B)補助離島居民就學、生活水、電、雜費 (C)離島居民賦稅補助或免繳 (D)以上皆是
50. 東部區域將何概念融入產業中 (A)樂活 (B)慢活 (C)養生休閒 (D)以上皆是

高雄市立鼓山高級中學國中部 105 學年度第 2 學期第 3 次段考二年級地理科試題

考試範圍：第五、六章
科目代碼：05

班級： 座號： 姓名：

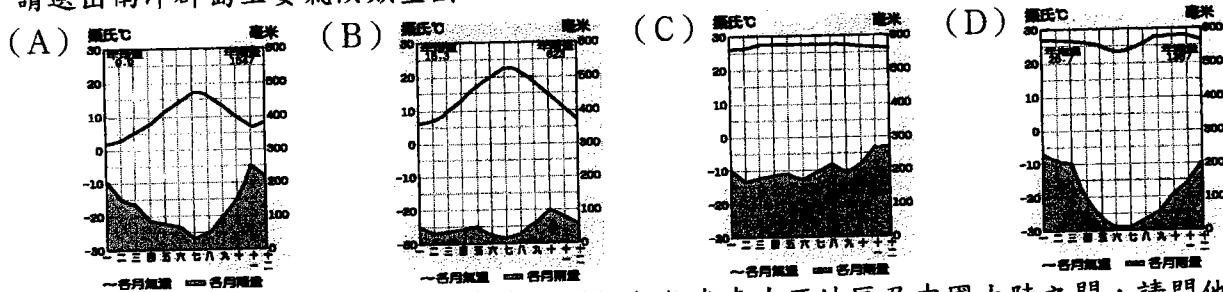
壹、單一選擇題

1. 請問東北亞為哪三國？(A) 北韓、中國、台灣 (B) 南韓、中國、俄羅斯 (C) 日本、南韓、北韓 (D) 北韓、中國、俄羅斯
2. 請問東北亞的氣候主要為 (A) 熱帶季風 (B) 副熱帶季風 (C) 溫帶季風 (D) 寒帶氣候
3. 舉辦世界最大動漫展的城市為 (A) 北京 (B) 首爾 (C) 平壤 (D) 東京
4. 日本最高峰為 (A) 玉山 (B) 阿里山 (C) 富士山 (D) 黑部立山
5. 日本為何多火山、地震 (A) 颱風多 (B) 降雪多 (C) 工業太發達 (D) 板塊接觸帶
6. 以下何非日本三大平原 (A) 關東平原 (B) 濃尾平原 (C) 近畿平原 (D) 嘉南平原
7. 中國鄭州、日本東京、南韓釜山三城市緯度相當，請問何者氣候最溫和濕潤 (A) 鄭州 (B) 東京 (C) 釜山
8. 承上題，請問何者年雨量最少，溫度變化最大？(A) 鄭州 (B) 東京 (C) 釜山
9. 承上題，造成這個現象的最主要原因為 (A) 緯度 (B) 地形 (C) 距海遠近 (D) 洋流
10. 在日本四大島賞櫻的順序 (A) 北海道—本州—四國—九州 (B) 九州—四國—本州—北海道 (C) 北海道—本州—九州—四國 (D) 四國—九州—本州—北海道
11. 在日本四大島賞楓的順序 (A) 北海道—本州—四國—九州 (B) 九州—四國—本州—北海道 (C) 北海道—本州—九州—四國 (D) 四國—九州—本州—北海道
12. 日本漁業興盛的原因 (A) 四面環海、海岸線曲折 (B) 捕漁技術佳、飲食習慣 (C) 寒、暖流交會 (D) 以上皆是
13. 日本為何積極填海造陸 (A) 火山地震多 (B) 颱風多 (C) 國土狹小多山 (D) 寒、暖流交會
14. 日本為何積極佔領週邊島嶼 (A) 開發經濟海域 (B) 探勘海底資源 (C) 擴大捕漁區域 (D) 以上皆是
15. 日本成為世界工業與貿易大國的原因 (A) 創新研發能力、技術優良勞工 (B) 積極拓展海外市場 (C) 生產高附加價值產品 (D) 以上皆是
16. 以下何者非日本品牌 (A) 索尼 (B) 東元 (C) 三菱 (D) 國際
17. 日本三大平原由東向西排列為 (A) 關東—濃尾—近畿 (B) 近畿—關東—濃尾 (C) 濃尾—近畿—關東 (D) 關東—近畿—濃尾
18. 朝鮮半島的精華區位於 (A) 日本海沿岸 (B) 黃海沿岸 (C) 東海沿岸 (D) 南海沿岸平原
19. 以下何者非韓國品牌 (A) 三星 (B) 飛利浦 (C) LG (D) 現代
20. 有關南、北韓比較何者正確？

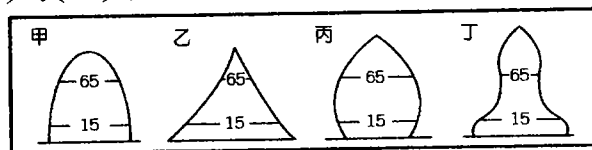
| | (A)位置 | (B)地形 | (C)氣候 | (D)產業 |
|----|-------|-------|-------|-------|
| 南韓 | 緯度較高 | 較為高聳 | 寒冷少雨 | 民生工業 |
| 北韓 | 緯度較低 | 較為平坦 | 溫暖溼潤 | 軍事工業 |

21. 朝鮮半島的脊梁山脈為 (A) 大雪山 (B) 大白山 (C) 中央山脈 (D) 海岸山脈
22. 以下敘述何者正確 (A) 北韓首都為新義州 (B) 南韓第一大港為釜山 (C) 南韓首都為平壤 (D) 日本首都為京都
23. 請問東北亞冬季季風風向為何 (A) 西北風 (B) 東北風 (C) 西南風 (D) 東南風
24. 請問東北亞夏季季風風向為何 (A) 西北風 (B) 東北風 (C) 西南風 (D) 東南風
25. 以下對南韓敘述何者正確？(A) 1988 南韓舉辦奧運 (B) 2002 南韓舉辦世足賽 (C) 2007 南韓潘基文當選聯合國秘書長 (D) 以上皆是
26. 印度電影「我和我的冠軍女兒」製作地點在 (A) 新德里 (B) 孟買 (C) 寶來塢 (D) 加爾各答
27. 世界最大古蹟廟宇群為 (A) 敦煌石窟 (B) 吳哥窟 (C) 龍門石窟 (D) 雲岡石窟
28. 世界最大的群島國為 (A) 馬來西亞 (B) 菲律賓 (C) 印尼 (D) 越南
29. 世界穆斯林人口最多的國家為 (A) 馬來西亞 (B) 菲律賓 (C) 印尼 (D) 越南
30. 哥倫布要前往南洋群島探險，尋找一片新天地。請問他在地圖上所看到南洋群島的相對位置，應為下列何者？ (A) 澳洲大陸以南 (B) 中南半島以北 (C) 東臨大西洋 (D) 西濱印度洋。
31. 東南亞近年來已成為國人喜愛的旅遊勝地。請問東南亞所屬的地形區中未包括下列何者？ (A) 中南半島 (B) 印度半島 (C) 菲律賓群島 (D) 東印度群島。

32. 中南半島地區的東西間傳統交通不便，請問最主要的影響為下列何者？ (A)氣候溼熱(B)季風轉向(C)面積廣大(D)地形阻隔。
33. 中南半島地區的精華區多集中於三角洲地區，請問這種分布特色多和下列何種交通方式關係較大？ (A)河運便利(B)出海方便(C)鐵路發達(D)公路分布。
34. 南洋群島地區多火山分布及地震活動的發生。請問這和該地區的哪一向地理條件所造成的影響最大？ (A)板塊活動(B)地處低緯(C)信風強勁(D)太陽直射。
35. 南洋群島因為受到自然環境的影響，主要的糧食作物為下列何者？(A)小麥(B)玉米(C)稻米(D)小米。
36. 東南亞地區位於亞洲地區的東南端，其地理位置正位於下列哪兩個海洋中間的交通必經之地？ (A)太平洋、大西洋(B)太平洋、印度洋(C)大西洋、地中海(D)印度洋、大西洋。
37. 中南半島地區的氣候類型應該為何(A)熱帶季風(B)熱帶莽原(C)熱帶雨林(D)熱帶沙漠。
38. 南洋群島地區的氣候類型應該為何(A)熱帶季風(B)熱帶莽原(C)熱帶雨林(D)熱帶沙漠。
39. 請選出南洋群島主要氣候類型圖



40. 阿里巴巴是清朝時期的貿易商，每年都搭帆船往來東南亞地區及中國大陸之間，請問他通常在什麼季節出發至東南亞地區補貨最為適合？ (A)春季(B)夏季(C)秋季(D)冬季。
41. 熱帶栽培業的發展過程中，其起源最主要是受到下列何者的影響為主？ (A)當地原住民(B)中國華人(C)西方殖民者(D)南亞印度。
42. 下列有關東南亞地區的熱帶栽培業發展的有利條件中，何者不正確？ (A)氣候溼熱(B)勞工眾多(C)海運便利(D)地廣人稀。
43. 熱帶栽培業為東南亞地區的重要產業活動。請問該產業活動特色主要為下列何者？ (A)生產糧食作物(B)作物自給為主(C)大量生產運銷(D)高度機械化。
44. 東南亞的大都市，如雅加達、曼谷、胡志明市、新加坡等，大都是由於何樣因素而發展起來的？ (A)交通方便(B)礦藏豐富(C)宗教聖地(D)氣候涼爽。
45. 若從印度半島的北部出發，一路南下直到半島的南端，沿途中所經過的地形種類分布依序為下列何者？ (A)高山、高原、平原(B)高山、平原、高原 (C)平原、高山、高原(D)高原、平原、高山。
46. 印度電影「三個傻瓜」片中的學生們畢業後多至何處從事電腦工程師、高科技工程人員的工作 (A)邦加羅爾 (B)新德里 (C)加爾各答 (D)孟買
47. 位於南亞的印度大平原地區，其降雨分布受到季風行經路徑的影響，各地降雨分布的型態主要為下列何者？ (A)東向西漸少(B)西向東漸少(C)南向北漸少(D)北向南漸少。
48. 印度地區的人口數約九億多人，為目前世界上第二大的人口國，印度地區的人口金字塔結構最可能呈現下列何者的型態？ (A)甲(B)乙(C)丙(D)丁。



49. 南亞的宗教色彩相當明顯，而各國家之間的國際關係也受到宗教的影響。下列為南亞各主要國家的宗教信仰人口比例(%)，表中甲國應該是哪一個國家(A)巴基斯坦(B)印度(C)斯里蘭卡(D)孟加拉。

| 國家 | 印度教 | 伊斯蘭 | 佛教 | 基督教 | 其他 |
|----|-----|-----|----|-----|----|
| 甲 | 80 | 11 | 1 | 2 | 6 |
| 乙 | 2 | 95 | — | 2 | 1 |
| 丙 | 12 | 87 | — | — | 1 |
| 丁 | — | 8 | 70 | 8 | 14 |

50. 印度的氣候分布依其特色而分為三季，其分布時間以下列何者最為正確？(A)11月至2月涼季(B)3月至5月熱季(C)6月至10月雨季(D)以上皆是