

國一地理月考答案

1D	2B	3B	4A	5B
6A	7A	8B	9D	10C
11B	12A	13B	14D	15A
16B	17B	18C	19D	20A
21D	22D	23A	24C	25B
26A	27A	28C	29C	30B
31C	32A	33D	34C	35D
36A	37D	38B	39D	40C



國二地理月考答案

1B	2D	3D	4C	5A
6A	7C	8D	9B	10A
11B	12B	13A	14B	15C
16A	17A	18D	19D	20C
21D	22B	23B	24A	25D
26B	27B	28C	29D	30C
31C	32C	33D	34D	35D
36C	37A	38A	39D	40C



國三地理月考答案

1D	2C	3A	4D	5B
6B	7A	8A	9A	10B
11A	12D	13B	14D	15D
16C	17D	18D	19D	20D
21A	22D	23B	24D	25C
26B	27A	28A	29A	30D
31B	32A	33D	34C	35A
36D	37A	38C	39B	40C
41A	42C	43B	44A	45C
46D	47A	48B	49B	50D



壹、選擇-：（每題 4 分。共 100 分）：

- 1. 《答案》C
- 2. 《答案》C
- 3. 《答案》A
- 4. 《答案》D
- 5. 《答案》B
- 6. 《答案》C
- 7. 《答案》A
- 8. 《答案》A
- 9. 《答案》A
- 10. 《答案》A
- 11. 《答案》C
- 12. 《答案》D
- 13. 《答案》D
- 14. 《答案》C
- 15. 《答案》B
- 16. 《答案》D
- 17. 《答案》D
- 18. 《答案》D
- 19. 《答案》A
- 20. 《答案》B
- 21. 《答案》C
- 22. 《答案》D
- 23. 《答案》C
- 24. 《答案》D
- 25. 《答案》C





鼓山中學 112 學年度第二學期第一次段考(國三)自然科解答卷

一、基本題(每題 2 分，共 40 分)

1. C      11. A
2. B      12. A
3. A      13. D
4. D      14. A
5. D      15. D
6. B      16. C
7. D      17. C
8. D      18. C
9. B      19. B
10. A     20. A

二、進階題(每題 3 分，共 48 分)

21. A      31. B
22. A      32. D
23. B      33. C
24. B      34. B
25. C      35. B
26. C      36. C
27. B
28. C
29. A
30. B

三、題組(每題 3 分，共 12 分)

37. B
38. C
39. A
40. D



高雄市立鼓山高中 112 學年度第二學期第一次段考《國一》自然科解答卷

考試範圍：1、2 章

電腦讀卡代碼：12

年 班 號 姓名

一、選擇題：(每題 2 分，共 100 分)

- 1-10. DBBDA DDCBC  
11-20. AADDD ABCBB  
21-30. BCADD AACAC  
31-40. DDBBC CCADB  
41-50. DDBAC CCCCC

高雄市立鼓山高中 112 學年度第二學期第一次段考《國二》自然科解答卷

考試範圍：1、2 章

電腦讀卡代碼：12

年 班 號 姓名

一、選擇題 (每題 2 分，共 78 分)

- 1-10. ACDDDB CAACA  
11-20. DDDAC DCBBB  
21-30. ACDDC ACCCA  
31-39. BBDDD BAAA

21 =

二、題組 (每題 2 分，共 22 分)

- 40-41. BC  
42-44. ABC  
45-47. DBD  
48-50. CBC



答案欄

選擇題：每題 2.5 分，共 100 分

1	2	3	4	5	6	7	8	9	10
B	C	C	A	D	A	A	C	B	B
11	12	13	14	15	16	17	18	19	20
C	C	B	D	D	A	C	B	A	A
21	22	23	24	25	26	27	28	29	30
A	D	B	A	B	D	B	C	B	D
31	32	33	34	35	36	37	38	39	40
D	C	D	B	A	D	C	D	A	C

112 學年度第二學期第一次段考

《國一》歷史科答案

(1-25 題 每題 4 分)

1-5 ABDAC

6-10 BACBA

11-15 BDCBD

16-20 DACDD

21-25 CBCAA

高雄市立鼓山高中(國中組)112 學年度

歷史科答案卷

一、選擇：(每題 4 分，共 100 分)：

- 1.D 2.D 3.D 4.B 5.B  
6.B 7.A 8.B 9.B 10.B  
11.C 12.B 13.A 14.D 15.B  
16.B 17.D 18.A 19.C 20.B  
21.C 22.C 23.A 24.B 25.A

(國三歷史)



## 國一下第一次段考英聽答案

### 一、辨識句意 (每題 4 分, 共 32 分)

1. (C) W: Ian has big eyes; he is from Taiwan.
2. (B) A dog is running with a Frisbee in its mouth.
3. (B) W: Let's check out some books from the library tomorrow morning.
4. (C) Elizabeth makes a cake in her free time.
5. (B) W: Do your sons walk to school? M: Sometimes, but they never walk to school on Mondays.
6. (A) W: David is very good at three-pointers.
7. (C) M: Yuki can play baseball, but she can't play the guitar.
8. (A) W: How often do you go to the library? M: I go there once a week.

### 二、基本問答 (每題 4 分, 共 40 分)

9. (B) Can you swim?
  10. (B) What time do you have dinner every day?
  11. (B) Does your brother play the piano?
  12. (C) I seldom feel tired after taking a hot shower.
  13. (A) How tall are you, Jason?
  14. (B) How often do you exercise?
  15. (A) What does James do on Sunday nights?
  16. (C) What does your brother do on Sunday afternoons?
  17. (B) Can I join you this weekend?
  18. (A) Look at that girl. Do you know her?
- 三、言談理解 (每題 4 分, 共 28 分)
19. (C) W: Does your son play sports? M: Yes, he does. He is a baseball player. Q: Which is true?
  20. (B) M: How often do you clean your room. Helen? W: I clean my room once a month.

M: No wonder your room is dirty most of the time. There is trash everywhere. W: Hmm... I am so busy working. I don't have much time to clean. Q: Which is true?

21. (C) Oscar is a great student and son. He does a lot of things every day. He plays baseball at 7:30 with his classmates. Then he studies with his sister from 10:00 to 12:00. In the afternoon, he swims with his father, and he cleans the doghouse for his mother in the evening. Q: What does Oscar do in the morning?

22. (A) M: My wife and I are very busy every day. We get up at 6:30 a.m. Then we brush our teeth and eat breakfast. At 9 a.m., we study English. At 11 a.m., we listen to music and use the computer. At 3 p.m., we play basketball at the park. At 7 p.m., we have dinner and watch TV together.

Q: What don't they do in the morning?

23. (A) M: Tina is my sister. She plays baseball with her friends on Tuesdays, and she plays the piano with me on weekends. Tina doesn't play basketball. She doesn't like it. Q: What sports does Tina play?

24. (A) W: Where are you going? M: To the library. W: Library? How often do you go there? M: I check out books from the library two times a week. W: What a bookworm. I seldom go there. I go there once or twice a year. Q: How often does the man go to the library?

25. (C) G: Good afternoon, Henry. B: Hi, Meg. Do you come here often? G: Sure. I love books so much. I come here and check out books every weekend. Q: Where are Meg and Henry?





高雄市立鼓山高中 112 學年度第 2 學期第一次段考《國二》英語科聽力解答卷

【聽力共 100 分。配分: 1~10 → 每題 4 分; 11~20 → 每題 3 分; 21~30 → 每題 3 分】

1	2	3	4	5	6	7	8	9	10
B	B	A	B	C	C	C	C	C	A
11	12	13	14	15	16	17	18	19	20
C	C	C	A	A	C	C	B	B	B
21	22	23	24	25	26	27	28	29	30
C	C	B	A	C	B	C	C	A	B



本測驗 共 25 題，每題 4 分，共 100 分，請於答案卡畫卡作答  
英文聽力測驗代碼: 22 班級 座號:

範圍: 康軒版第六冊英文 L1-L2

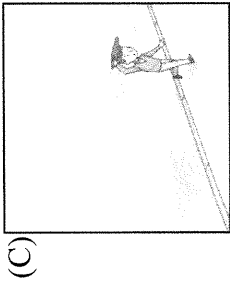

姓名

一、辨識句意：每題均有三張圖片，請依據所聽到的句子，選出符合描述的圖片。

1. 《腳本區》

CD: As soon as Ben crossed the bridge, it started to rain.

《題目區》



《答案區》

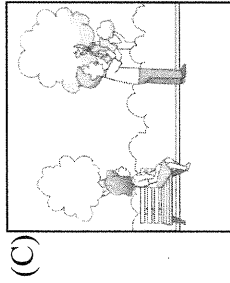
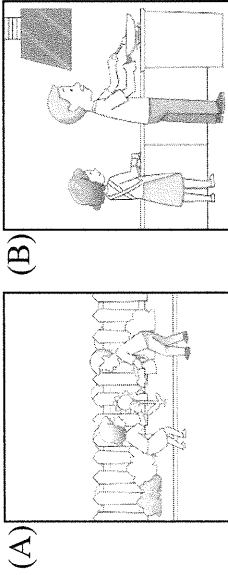
答案：B

題號：A0FL1002

2. 《腳本區》

CD: My dad was helping my mom while she was working in the garden.

《題目區》



《答案區》



答案：A

題號：A0FL1005

3. 《腳本區》

CD: (B:) The website I was looking for was no longer there.

《題目區》



《答案區》

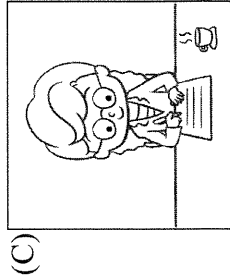

答案：C

題號：A0FL1006

4. 《腳本區》

CD: The woman wanted to write something with a piece of chalk.

《題目區》



《答案區》

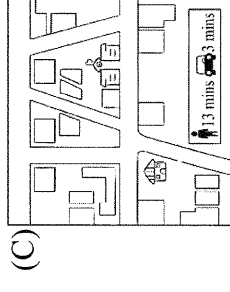
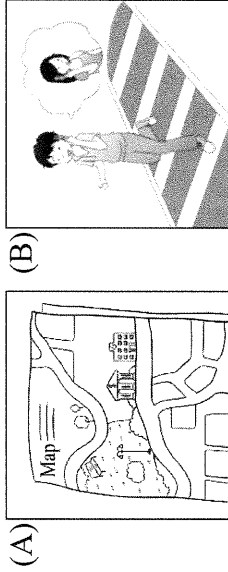
答案：B

題號：A06L1168

5. 《腳本區》

CD: Eddie found the information about how to get to the museum on a website.

《題目區》



《答案區》


答案：C

題號：A06L1170

6. 《腳本區》

CD: James was attacked by a dog on the street.

《題目區》



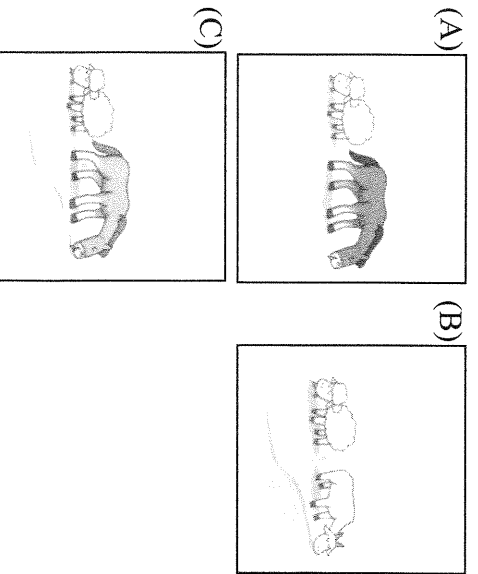
《答案區》

答案：C

題號：A06L1174

7. 《腳本區》

CD: Neither the sheep nor the horse is drinking from the river.  
《題目區》



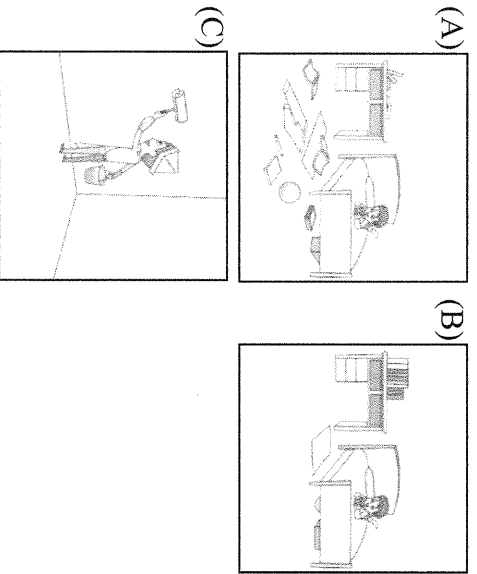
《答案區》

答案：A

題號：A0FL2002

8. 《腳本區》

CD: Jason was too lazy to tidy up his room.  
《題目區》




《答案區》

答案：A

題號：A0FL2004

9. 《腳本區》

CD: It is polite of Kenny to raise his hand before asking questions.  
《題目區》




《答案區》

答案：C

題號：A06L2174

10. 《腳本區》

CD: The boy wants to tell a joke to his classmates, but he is too shy to speak out in class.  
《題目區》



《答案區》

答案：A

題號：A06L2175

二、基本問答：每題均有三個選項，請依據所聽到的內容，選出一個最適合的回應。

11. 《腳本區》

CD: You shouldn't believe everything you read on the Internet. Some of it is fake.  
《題目區》

- (A) Why don't you like going on the Net?  
(B) When did you start following my Facebook?  
(C) How do you know what's real and what isn't?

《答案區》

答案：C

題號：A0FL1007

12. 《腳本區》

CD: What were you doing while the teacher was talking about foreigners in Taiwan?  
《題目區》

- (A) I saw them looking at me.  
(B) I was glad she visited our school.

(C) I was thinking about what she was saying.

《答案區》

答案：C

題號：A0FL1011

13. 《腳本區》

**CD: I heard that Daisy went to the music festival. Did you go with her?**

《題目區》

(A) No, but I heard it was a lot of fun.

(B) Sure, but I didn't know she did that.

(C) Yes, I heard that kind of music before.

《答案區》

答案：A

題號：A0FL2007

14. 《腳本區》

**CD: Please don't say that. My wife doesn't enjoy that kind of humor, and neither do I.**

《題目區》

(A) How did she get it out of her body?

(B) Then why were you laughing at my joke?

(C) When did that start growing on her head?

《答案區》

答案：B

題號：A0FL2008

15. 《腳本區》

**CD: I didn't get much sleep last night. The neighbors that live above us made a lot of noise.**

《題目區》

(A) I often feel lonely at night, too.

(B) The ones above us are never home, either.

(C) You should go up and ask them to be quiet.

《答案區》

答案：C

題號：A0FL2011

16. 《腳本區》

**CD: How can we get to the train station across the river?**

《題目區》

(A) The bridge was broken because of the typhoon.

(B) We can drive over the bridge there.

(C) It's not far from here. Just two blocks away.

《答案區》

答案：B

題號：A06L1066

17. 《腳本區》

**CD: Is it possible that we walk home from the museum?**

《題目區》

(A) I don't think so. It's just two blocks away.

(B) I don't think so. We may fall from the bench.

(C) I don't think so. It's far from here.

《答案區》

答案：C

題號：A06L1075

18. 《腳本區》

**CD: How did Gary feel when he made the error?**

《題目區》

(A) He couldn't spot any mistakes on the website.

(B) He felt bad about making such a stupid mistake.

(C) He wasn't allowed to make any mistakes.

《答案區》

答案：B

題號：A06L1202

19. 《腳本區》

**CD: I hope Joe can find joy in his new job.**

《題目區》

(A) So do I.

(B) Neither do I.

(C) I am, too.

《答案區》

答案：A

題號：A06L2062

20. 《腳本區》

**CD: The man who has a great sense of humor is Mr.**

**Wang.**

《題目區》

(A) What's your humor style?

(B) He's mean to people around him.

(C) No wonder everyone enjoys talking to him.

《答案區》

答案：C

題號：A06L2065

三、言談理解：每題均有三個選項，請依據所聽到的對話與問題，選出一個最適當的答案。

21. 《腳本區》

**CD: M: When I was young, I was really lazy. I didn't feel like doing anything when I was at home. In other words, I was happy as long as I was sitting in front of the TV. Although that was how I grew up, I'm not the same person anymore.**

**Q: What did the man like to do when he was young?**

《題目區》

(A) Exercise.

(B) Watch TV.

(C) Stay outside.

《答案區》

答案：B

題號：A0FL1012

22. 《腳本區》

CD: W: I'm back. Hey, what were you doing while I was playing with the kids on the swings?

M: I was just watching these ants carry little pieces of food off our blanket.

W: What? Did they get into the basket? The cake I made is still in there.

M: Don't worry. I made sure to keep them away from there.

Q: Which is true about the man and the woman?

《題目區》

(A) They're having a picnic.

(B) They're playing on the swings.

(C) They're watching the ants moving.

《答案區》

答案：A

題號：A0FL1014

23. 《腳本區》

CD: W: Why are you standing here all by yourself?

M: I'm too shy to talk to people I don't know.

W: That's not a very good reason. All you have to do is open your mouth and start talking about simple things like the weather or things that you're interested in.

M: You make it sound so easy that I'm going to try it right now.

Q: Which is true about the man?

《題目區》

(A) He can speak to all kinds of people.

(B) He isn't comfortable around strangers.

(C) He tried to do as the woman said, but he failed.

《答案區》

答案：B

題號：A0FL2013

24. 《腳本區》

CD: M: What are your hobbies?

W: I like to go to the gym in my free time. I found myself healthier by doing exercise every day. What about you?

M: I'm not really into anything, so I always feel bored and don't know what to do.

W: Then you can come with me the next time I go to the gym. Maybe you'll like it.

M: Sounds nice. Count me in.

Q: What are the man and the woman mainly talking about?

《題目區》

(A) An activity that people do for joy.

(B) An event that people join for money.

(C) An exercise that the man does to lose weight.

《答案區》

答案：A

題號：A0FL2016

25. 《腳本區》

CD: M: Where's Saul? Hasn't he arrived yet?

W: No, he hasn't. He called to tell us that he wouldn't be able to show up before eleven a.m. He was in a meeting then.

M: Again? Well, I'm seriously thinking about getting another lawyer to do his job.

W: So am I. Saul's a great lawyer, but he's also a person who seldom keeps his word. He's putting our case on the line.

Question: What do the man and the woman agree with?

《題目區》

(A) Keeping in touch with Saul.

(B) Making Saul keep his word.

(C) Changing a lawyer for the case.

《答案區》

答案：C

題號：A06L2208

一年\_\_班\_\_號 姓名\_\_\_\_\_

一、字彙測驗（20%，每題 2 分）

1. guitar	2. enough	3. different	4. late	5. join
6. hours	7. shower	8. homework	9. cake	10. tired

二、動詞變化測驗（14%，每題 2 分）

1. comes	2. help	3. make	4. are	5. has
6. goes	7. play			

三、填空（6%，每題 2 分）

1. twice	2. three times	3. four times
----------	----------------	---------------

四、依提示作答（15%，每題 3 分）

1. She can play the piano.	
2. Yes, he does.	
3. She sees a movie once a week.	
4. He flies a kite.	
5. 寫自己的身高	

五、配合題（5%，每題 1 分）

1. B	2. E	3. C	4. A	5. D
------	------	------	------	------

六、文法測驗（20%，每題 2 分）

1. A	2. C	3. B	4. C	5. A
6. A	7. B	8. C	9. C	10. B

七、克漏字測驗（6%，每題 2 分）

1. C	2. B	3. A
------	------	------

八、閱讀測驗（14%，每題 2 分）

1. C	2. B	3. C	4. B	5. A
6. B	7. A			





(A) 基礎題（60%）

一、請寫出下列形容詞的比較級或最高級：21 %（每題 3 分）

1	2	3	4
worst	hotter	poorer	cutest
5	6	7	
better	easier	most dangerous	

二、填入正確的代名詞：10 %（每格 2 分）

①	②	③	④	⑤
Eric's	her	mine	his	ours

三、依句意選出最正確的答案：20 %（每題 2 分）

1	2	3	4	5	6	7	8	9	10
B	C	D	D	D	A	C	B	C	D

四、依提示作答：9 %（每題 3 分）

1. Rita is / the oldest / of the three.
2. Is Dora / quieter than / her sister?
3. What / does it / look like?

(B) 挑戰題（40%）

五、克漏字選擇和閱讀測驗：40%（每題 2 分）

1	2	3	4	5	6	7	8	9	10
B	B	C	A	D	D	C	B	C	D
11	12	13	14	15	16	17	18	19	20
A	B	D	C	C	D	A	B	C	B



高雄市立鼓山高級中學 112 學年第 2 學期國中部三年級第一次段考英文紙筆測驗解答

請於答案卡上作答。 班級 座號: 姓名: 得分:

範圍康軒英文第 6 冊 L1-L2 課本+習作

1 C	2 C	3 D	4 A	5 A
6 B	7 C	7 A	9 A	10 B
11 C	12 A	13 D	14 B	15 B
16 D	17 A	18 D	19 D	20 C
21 B	22 B	23 A	24 A	25 C
26 B	27 C	28 D	29 B	30 C
31 A	32 A	33 D	31 C	



高雄市立鼓山高中 112 學年度第二學期第一次段考《國一》國文科解答

一、選擇題（每題 2 分，共 48 分）

1~5	DDCCC	6~10	BDBAA	11~15	BDCBB
16~20	AABAC	21~24	CBDC		

二、題組（每題 2 分，共 12 分）

25~30	BDCAAB
-------	--------

三、解摘釋（1~10 題，一題 2 分；11~14 題，一題 1 分。共 24 分）

1. 絢麗：燦爛、美麗。	2. 豪情：豪邁奔放的情感。
3. 話「桑麻」：借指農作物。	4. 躊躇：猶豫不決的樣子。
5. 蹣跚：行動遲緩不穩的樣子。	6. 妥貼：：穩妥適當。
7. 顧影自憐：自我欣賞。	8. 伺機：等待可趁的時機。
9. 倉卒：急促匆忙的樣子。	10. 不脛而走：比喻事物不用推廣，也能迅速傳播
11. 織「就」：完成。	12. 綠樹村邊「合」：圍繞。
13. 舊「醅」：沒過濾的酒。	14. 交「卸」：解除。

四、注音國字（一題 1 分，共 10 分。請將答案寫在（ ）中）

1. 「嫵」媚	（ ㄨˇ ）	2. 「ㄊㄣˇ」私舞弊：	（ 徇 ）
3. 重複疊「沓」：	（ ㄉㄨˋ ）	4. 膾「炙」人口：	（ 炙 ）
5. 開「筵」面場圍	（ ㄧㄢˊ ）	6. 烘「焙」	（ ㄅㄟˋ ）
7. 「ㄊㄧㄝˋ」貨：	（ 卸 ）	8. 「ㄟㄣ」扶	（ 攙 ）
9. 照「看」	（ ㄎㄢˋ ）	10. 「聽」天由命	（ ㄊㄨㄣˊ ）

五、漢字的造字法則：（一題 1 分，共 6 分。錯的畫 X，對的畫 O，答案寫在（ ）中）

1. （X）	「旦」是會意字	2. （X）	「龜」是象形字
3. （O）	「聞」是形聲字	4. （O）	「武」是會意字
5. （X）	「炙」是形聲字	6. （O）	「刃」是指事字



一、國字注音（每題 1 分，共 10 分）

①匯	②くㄣㄣ	③妄	④く一ㄣˊ	⑤慎
⑥ㄉ一ˊ	⑦勳	⑧晰	⑨ㄟㄩˊ	⑩く一ˊ

二、摘釋（每題 1 分，共 5 分）

①買	②外城	③跑	④邊	⑤理會
----	-----	----	----	-----

三、解釋（每題 2 分，共 20 分）

①撲朔迷離：事情錯綜複雜，難以明瞭真相。
②鼠竄：像老鼠一樣亂竄，形容驚嚇奔逃的樣子。
③朔氣：北方的寒氣。
④笑容可掬：笑容滿面的樣子。
⑤塵緣：世俗的緣分。
⑥深邃：幽暗深遠。
⑦分撥：分派、調度。
⑧凋零：凋謝落下。
⑨駭然：驚恐的樣子。
⑩失色：因驚恐而變了臉色。

四、默寫（每題 1 分，共 5 分）

①昨夜見軍帖	②西市買鞍韉	③願借明駝千里足
④當窗理雲鬢	⑤雄兔腳撲朔	

五、選擇（每題 2 分，共 40 分）+ 六、閱讀測驗（每題 2 分，共 20 分）

01.B	06.D	11.B	16.C	21.D	26.C
02.B	07.C	12.B	17.A	22.D	27.B
03.A	08.C	13.C	18.A	23.B	28.D
04.D	09.A	14.C	19.A	24.A	29.B
05.D	10.A	15.C	20.B	25.D	30.A





一、下個星期就是清明節了，以下阿倫家的祭祖祝禱 疏文，但有幾個字不太會寫也不會讀，請幫忙寫出正確的國字與注音（每題 1 分，共 10 分）

祭祖祝禱 疏文	
伏以	
適逢清明佳節 姓 <u>喬</u> 率家中陽世子孫全體人等 「①尸乂八、」聚於「②穹」廬之下 不敢狂「③乂尤、」	
「④虔」誠敬備 牲饔酒禮 清香時果之儀 「⑤尸々、」重供獻於姓堂上歷代先祖之前	
讚曰	
列祖列宗 風流「⑥倜」儻 後裔霑德 舍爵策「⑦丁山々」	
伏維	
適值清明時節 思親緬懷過往 清「⑧丁一」在目 言猶在耳	
思竭誠以告謝 祈福蔭以無窮 「⑨剎」那同心成為永恆 言「⑩訖」憫然	
尚饗	氏後代子孫 敬叩

二、這次的連假也包含了兒童節，摘釋要背熟才能有個愉快的假期（每題 1 分，共 5 分）

①願為「市」鞍馬	②出「郭」相扶將	③傍地「走」	④切回岸「緣」	⑤不理不「睬」
----------	----------	--------	---------	---------

三、清明節的前一天稱為寒食節，請寫出相關的解釋（每題 2 分，共 20 分）

寒食節的由來是為了紀念 <u>介之推</u> ，相傳 <u>春秋</u> 時期 <u>晉</u> 公子 <u>重耳</u> 因為「①撲朔迷離」的政治因素而離開 <u>晉</u> 國，流亡「②鼠竄」十九年。一次 <u>重耳</u> 在「③朔氣」吹拂下餓昏， <u>介子推</u> 割股（割下自己大腿肉）烤熟後，「④笑容可掬」的端給他吃，得以保住性命。 後來， <u>重耳</u> 回到 <u>晉</u> 國，回憶起舊事「⑤塵緣」，想封賞 <u>介之推</u> ，而 <u>介之推</u> 已經和母親到「⑥深邃」的 <u>綿山</u> 隱居。 <u>晉</u> 文公派人上山搜索，遍尋不到，其臣擅自「⑦分撥」軍士放火燒山，想以此逼出 <u>介之推</u> ，但最後發現 <u>介之推</u> 母子抱著「⑧凋零」的槐樹被燒死，群臣見此無不「⑨駭然」。 <u>重耳</u> 聞此驚愕「⑩失色」，難過至極，便規定每年此時不得生火，一律吃冷食，稱為寒食節，以紀念 <u>介之推</u> 。
--------------------------------------------------------------------------------------------------------------------------------------------------------------------------------------------------------------------------------------------------------------------------------------------------------------------------------------------------------------------------------------------------------------------------------------------------------------

四、月考完可以看場電影放鬆一下，在 Disney+ 上有《花木蘭》真人版，但先來默寫〈花木蘭〉複習一下（每題 1 分，共 5 分）

（ ① ），可汗大點兵，軍書十二卷，卷卷有爺名。  
阿爺無大兒，木蘭無長兄，願為市鞍馬，從此替爺征。  
東市買駿馬，（ ② ），南市買轡頭，北市買長鞭。  
可汗問所欲，「木蘭不用尚書郎，（ ③ ），送兒還故鄉。」  
脫我戰時袍，著我舊時裳。（ ④ ），對鏡貼花黃。  
（ ⑤ ），雌兔眼迷離。兩兔傍地走，安能辨我是雄雌？

五、選擇（每題 2 分，共 40 分）

（ ）01. 「我已在佛前 求了五百年」，句中的「五百年」其實是虛數，並非準確的時間概念，為的是帶出許願者面對感情的真誠態度。下列「 」中的時間詞語，何者並無此手法？

- （A）若再不除去這「千年」老妖，三界必然會動盪不安
- （B）限你「三個月」內將寶物交出，否則你性命將不保
- （C）你有一身橫練筋骨，是歷史上「百年」難得的奇才
- （D）你若再繼續作惡多端下去，名聲便會遺臭「萬年」

《答案》B

詳解：（A）（C）（D）虛數，指多年 （B）實指

( ) 02. 「如何讓你遇見我／在我最美麗的時刻」詩中為何要強調「最美麗」，其用意何在？

- (A) 為了吸引心儀對象，不讓他移情別戀 (B) 女為悅己者容，凸顯女子深濃的情感  
(C) 表現女性愛美爭豔，不想輸人的心態 (D) 強調你只重視美麗，是一個虛榮的人

《答案》B

詳解：(A) 並無移情別戀之意 (B) 女子會為了喜歡或欣賞自己的人而妝扮自己，可見女子十分喜愛「你」 (C) 非愛美爭豔 (D) 此處強調女子的心思，非著重在「你」的描述

( ) 03. 「而當你終於無視地走過／在你身後落了一地的／朋友啊 那不是花瓣／是我凋零的心」下列何者可用來描述詩中女子的心情？

- (A) 山有木兮木有枝，心悅君兮君不知 (佚名 越人歌)  
(B) 還君明珠雙淚垂，恨不相逢未嫁時 (張籍 節婦吟)  
(C) 可憐無定河邊骨，猶是春閨夢裡人 (陳陶 隴西行)  
(D) 身無彩鳳雙飛翼，心有靈犀一點通 (李商隱 無題)

《答案》A

詳解：(A) 山上有樹木相伴，樹木有枝條相依，可是我心裡喜歡你，你卻不知道 (B) 歸還你送給我的雙明珠，使我兩眼淚漣漣，遺憾不能在我未嫁前遇見你 (C) 真可憐啊！那戰死在無定河邊成堆的白骨，還是閨中婦女們夢中的愛人 (D) 身上沒有彩鳳的雙翼，不能比翼齊飛，內心卻像靈犀一樣，息息相通

( ) 04. 「人與人之間的相遇，是你好和再見，我好好的對你說再見，然後你又邂逅了另一個人，這是人生這場遊戲必須遵守的規則。」(木血泉 漣漪的夜晚) 這句話的含義與下列何者最相近？

- (A) 人生中有許多緣分，不變的遊戲規則就是看破紅塵  
(B) 人生不乏許多朋友，維持友好的方法是彼此問好  
(C) 即便感到人生無可奈何，也認定會有貴人出手相助  
(D) 即便是緣分盡了，也相信有新的事物在未來等著

《答案》D

詳解：「我好好的對你說再見，然後你又邂逅了另一個人」表示人生有不斷的緣起緣盡，但好好道別與好好珍惜新的開始是人生不變的循環與定律，故選 (D)

( ) 05. 木蘭詩 中「將軍百戰死，壯士十年歸。」描寫了戰爭的殘酷與慘烈，下列何者並無此含義？

- (A) 九月匈奴殺邊將，漢軍全沒遼水上 (B) 君不見，青海頭，古來白骨無人收  
(C) 醉臥沙場君莫笑，古來征戰幾人回 (D) 但使龍城飛將在，不教胡馬度陰山

《答案》D

詳解：【語譯】(A) 在秋風蕭瑟的九月，匈奴兵再次侵擾邊境，屠殺邊地將領。漢軍傷亡慘重，全部喪生在遼水邊境。(B) 您沒有看見，青海的邊上，自古以來戰死士兵的白骨沒人掩埋。(C) 要是我醉倒在戰場上，請君莫笑話我，從古至今外出征戰又有幾人能回。(D) 如果有衛青、李廣這樣的將軍，一定不會讓敵人的鐵蹄踏過陰山。

( ) 06. 木蘭詩：「朝辭爺孃去，暮宿黃河邊，不聞爺孃喚女聲，但聞黃河流水鳴濺濺。」其中的「濺濺」是描摹聲音的詞彙，狀聲詞的運用，可使文章更加生動。下列狀聲詞的使用，何者使用錯誤？

- (A) 鳥叫「關關」 (B) 馬鳴「蕭蕭」 (C) 飢腸「轆轤」 (D) 狂風「霍霍」

《答案》D

詳解：(D) 形容磨刀聲。宜改為「颯颯」

( ) 07. 瑞典國防大學教授羅伯特·艾格奈爾 (Robert Egnell) 指出：「過去人們常常認為從軍有助於男孩成為男人，這


是基於從軍等於培養男性氣概的刻板印象。未來將從改變國防部的內部文化開始，努力去除這種大眾印象。」增加女性從軍比例僅能達成表面上的平等，真正的平等也許需透過內在文化的質變才能達成。( 黃齡儀 打破陽剛味！瑞典徵兵不分男女) 關於上述這段文字，下列說明何者正確？

- (A) 性別平等從體制面做起，故男女皆當兵就能破除性別不平等  
(B) 從軍能使男孩變成男人，更具陽剛氣，故女性也應比照辦理  
(C) 內在思維若對性別沒有任何偏見，才能確切地落實性別平等  
(D) 軍隊內部文化陋習眾多，需要極力去除才能使國防煥然一新

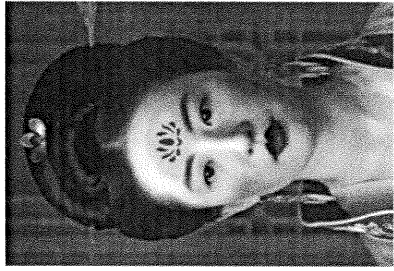
《答案》C

詳解：由「真正的平等也許需透過內在文化的質變才能達成」可知，故選 (C)

( ) 08. 木蘭詩 中的花黃是古代流行的一種女性額飾，又稱額黃、鵝黃、鴨黃、約黃等，是把黃金色的紙剪成各式裝飾圖樣，與花黃相近的額飾還有花鈿：「花鈿裝是中國古代女子施於額頭、眉心、兩鬢的一種妝飾。為求新奇美麗，花鈿也有許多不同的圖案，其中有種花鈿稱為魚鱗狀花鈿，它分成四瓣與六瓣，每片鱗片大小不同，但均是鱗尖朝上，圓弧朝下，有的整體呈菱形排列，有的呈倒三角狀排列。」(艾冰 優雅中國系列7：美人裝扮) 請就上述資訊，判斷下列何者最符合魚鱗狀花鈿的描述？




(A)



(B)



(C)



(D)

### 《答案》C

詳解：(A) 此為「壽桃形」，並無呈菱形排列 (B) 此為「三葉草形」，並非四瓣或六瓣 (C) 魚鱗形 (D) 此為「雄鳥形」，其中下面的一片剛好與上面顛倒，不符合「均是鱗尖朝上，圓弧朝下」的原則

( ) 09. 「在這樣的關係裡，船隻特別顯得多餘。兩個月計畫中，也唯有面對這群迷途羔羊時，我會強烈感覺到，船隻是一個介入者。」根據這段文字，下列何者最接近作者所要表達的含義？

- (A) 對大自然來說，人類的介入顯得多餘 (B) 鯨豚瀕臨絕種，需要大眾積極的關注
- (C) 人與自然之間，其實並沒有存在界線 (D) 面對環境議題，人類卻始終視若無睹

### 《答案》A

詳解：(A) 作者認為「花紋海豚」和「弗氏海豚」，就像是「牧者」之於「羔羊」的關係，而「船隻」在此也泛指一切人為之物，在自然環境中，顯得格外多餘，甚至是種負擔

( ) 10. 「弗氏海豚的嘴喙短小，背鰭呈現三角形。成年體長雄性可達二點七公尺，雌性二點六公尺，體重兩百一十公斤，其粗壯的身形使得背鰭、胸鰭與尾鰭的比例顯得相對較小。弗氏海豚的體色因性別及年齡而異，大體而言可將其體色分成較黑的背側、灰色的眼帶與乳白色或粉紅色的腹側，但成年的雄性海豚的顏色較灰暗，從眼睛到肛門的黑色帶狀顏色明顯，雌性及幼體則體色較亮且無黑帶，是明顯可以區分性別的特徵。」根據上述弗氏海豚的相關資料，下列敘述何者正確？

- (A) 弗氏海豚的身形粗壯，使得背鰭、胸鰭與尾鰭的比例顯得相對較小
- (B) 一般而言，成年的弗氏海豚的身形差異很大，雌性較雄性長非常多
- (C) 弗氏海豚的體色從幼年至成年都不會有太大變化，一直都是灰黑色
- (D) 雄性弗氏海豚的體色較亮而無黑帶，雌性弗氏海豚的體色較為灰暗

### 《答案》A

詳解：(B) 雄性可達二點七公尺，雌性二點六公尺 (C) 弗氏海豚的體色因性別及年齡而異 (D) 雄性弗氏海豚的體色較灰暗，雌性體色較亮而無黑帶

( ) 11. 「橫掃各大影展，並且拿下2010年奧斯卡最佳紀錄片的血色海灣，全片以類似驚悚片的手法表現，描述一群保育人士，以祕密團隊潛入日本和歌山的太地市漁村，揭發屠殺海豚的惡行，當地日本漁民每年九月開始，進行為期半年的海豚屠殺事實。融合了電影、保育、以及潛水專業人士發起的祕密行動，拍攝目的是希望揭發這個隱藏在海灣的殘酷真相。拍攝團隊利用最先進的科技，隱藏在假岩石裡的攝影機及收音麥克風，完成一部融合新聞現場、環境探險實境故事的紀錄片。」根據這段文字，下列敘述何者正確？

- (A) 本片是以模擬的方式，將日本和歌山太地市漁村屠殺海豚的惡行表現出來
- (B) 在日本和歌山太地市漁村，漁民每年九月開始，進行為期半年的海豚屠殺
- (C) 本片的拍攝目的是想要重挫日本漁業的形象，讓日本為自己的屠殺行為道歉
- (D) 本片是工作人員用最傳統的方式拍攝，也和當地漁民搏鬥過，過程十分辛苦

### 《答案》B

詳解：(A) 是實地以影像記錄，並非只是模擬實況 (C) 拍攝目的是希望揭發這個隱藏在海灣的殘酷真相 (D) 拍攝團隊利用最先進的科技，如隱藏在假岩石裡的攝影機及收音麥克風等工具暗中偷拍。

( ) 12. 阿倫在怡靜老師的辦公桌上貼了一張便條：

怡靜：

貴班要跟校長PK到來回雅座，明天早上七點集合，校長邀請妳當裁判兼見證人。

阿倫

三月二十七日

粗心的阿倫忘了寫明下列哪一項，以致可能害校長跟同學等不到怡靜老師？

- (A) 對方稱謂 (B) 集合地點 (C) 完整姓名 (D) 日期時間

### 《答案》B

( ) 13. 順蓮老師參加章爺爺的壽宴，在會場聽到以下對話，哪一組用詞最為得體？

- (A) 章爺爺之子：「林先生、林太太，歡迎賢伉儷大駕光臨。」林先生：「敝伉儷恭賀令堂生日快樂。」
- (B) 張先生：「章爺爺，祝您生日快樂。」章爺爺：「小張，歡迎你光臨貴府。」
- (C) 李太太：「章大哥，看你們賢喬梓父慈子孝，令人好生羨慕！」章爺爺之子：「託您的福。」

(D) 章奶奶：「很榮幸內人我可以替您服務。」陳太太：「不敢，麻煩章奶奶了。」

《答案》C

詳解：(A)「敝伉儷」宜作「愚夫婦」／「令堂」為尊稱別人的母親。宜作「令尊」 (B)「貴府」為稱他人住宅的敬詞。宜作「寒舍」 (D)「內人」為對他人稱自己的妻子。宜作「老身」

( ) 14. 下列文句「 」中的字，何組意思前後相同？

- (A) 司馬懿「乃」魏之名將／孔明「乃」披鶴氅  
(B) 孔明登城遠「望」之／「望」西城蜂擁而來  
(C) 吾兵「止」有二千五百／「止」有一班文官  
(D) 諸葛亮「故」作此態／父親何「故」便退兵

《答案》C

詳解：(A)是／然後、於是 (B)向遠處或高處看／向、朝 (C)僅、只 (D)有意、存心／原因、根由  
( ) 15. 關於下列文句語氣的說明，何者正確？

- (A) 吾若為司馬懿，必不便退也：推測語氣  
(B) 我軍若進，中其計也。汝輩焉知：自豪語氣  
(C) 丞相玄機，神鬼莫測：讚美語氣  
(D) 莫非諸葛亮無軍，故作此態：斥責語氣

《答案》C

詳解：(A)自豪 (B)斥責 (D)推測

( ) 16. 三國演義是一部歷史小說，也是一部文學價值很高的作品，關於它的說明，下列何者錯誤？

- (A) 三國演義原名三國志通俗演義，作者是羅貫中  
(B) 取材自陳壽的三國志與宋、元以來說書人和通俗文學家所編寫的三國故事  
(C) 空城計在三國志中確有記載，可視為真實事件  
(D) 是數百年來流傳最廣的民間讀物，影響深遠

《答案》C

( ) 17. 空城計中，司馬懿中計退兵，但有人提出另一種看法：「諸葛亮與司馬懿的關係既是天敵，也是知音。而對命在旦夕的司馬懿來說，諸葛亮和他更是唇亡齒寒的關係。只有諸葛亮繼續北伐，司馬懿才有利用價值，不會被曹氏澈底弄死，而有掌握軍權的機會。一旦諸葛亮死了，司馬懿的死期也就不遠了。西城下的司馬懿雖然識破了諸葛亮的空城計，但他看到『一生從不弄險』的諸葛亮竟然要採取空城計這種九死一生的策略，也明白當時的他真的到了山窮水盡的時候，只需一波攻擊，諸葛亮必死。但諸葛亮死了之後又會怎麼樣呢？魏國的西方威脅澈底解除，曹氏再不需要司馬懿迎戰諸葛亮了，至此，司馬懿就算不被『莫須有』的罪名賜死，也只能在軟禁中度過慘澹的餘生了。」對於這種觀點，下列詮釋何者正確？

- (A) 司馬懿害怕諸葛亮死後，自己會遭到曹氏政權的捨棄，因此故意假裝中諸葛亮的空城計  
(B) 司馬懿自始至終都未曾識破諸葛亮的空城計，然而退兵也是司馬懿的一種戰略設計  
(C) 諸葛亮和司馬懿曾為生死同盟，因此有唇亡齒寒的關係  
(D) 司馬懿在西城故意放過諸葛亮，是因為兩人有私交

《答案》A

詳解：(B)文中提及司馬懿已識破諸葛亮的空城計 (C)未曾為生死同盟 (D)未提及有私交

( ) 18. 「卻說司馬懿分兵而進，此時蜀兵盡回漢中去了。懿引一軍復到西城，因問遺下居民及山僻隱者，皆言孔明只有二千五百軍在城中，又無武將，只有幾個文官，別無埋伏。武功山小民告曰：『關興、張苞，只各有三千軍，轉山吶喊，鼓譟驚追，又無別軍，並不敢廝殺。』懿悔之不及，仰天嘆曰：『吾不如孔明也！』遂安撫了官民，引兵逕還長安，朝見魏主。懿曰：『今日復得隴西諸郡，皆卿之功也。』懿奏曰：『今蜀兵皆在漢中，未盡剿滅。臣乞大兵併力收川，以報陛下。』懿大喜，令懿即便興兵。」此為司馬懿中空城計之後續發展，下列敘述何者正確？

- (A) 司馬懿覺得自己竟然不如孔明而懊悔  
(B) 關興、張苞率領龐大軍夾擊魏軍成功  
(C) 司馬懿始終不知自己中了孔明的計謀  
(D) 司馬懿戰後感到挫敗，希望告老還鄉

《答案》A

詳解：(B)關興、張苞只各有三千軍，在山中故布疑陣驚嚇魏軍，不敢真正與之廝殺 (C)司馬懿後來派兵去探問，發現自己中空城計 (D)司馬懿自請繼續攻打蜀軍

( ) 19. 楊慎 三國演義卷頭語臨江仙：「滾滾長江東逝水，浪花淘盡英雄。是非成敗轉頭空，青山依舊在，幾度夕陽紅。」這段文字表達出作者的何種意念？

- (A) 對自然美景的讚嘆 (B) 對功名錯失的悔恨 (C) 對機會流失的感嘆 (D) 對人生渺小的體悟

《答案》D

詳解：【語譯】滾滾長江水不停向東流，多少英雄豪傑都像翻滾的浪花一樣，消逝在歷史長河中。無論對或錯、成功或失敗，轉眼間就不存在，只有青山依然屹立著，經歷無數個黃昏。江邊的白髮漁翁和沙洲上的樵夫，早已習慣四季變化。不如對飲一壺濁酒，欣喜於彼此的相逢，古往今來的紛紛擾擾，都只是瀟灑談笑的材料罷了。



( ) 20.

這段文字是一則手機遊戲的廣告，愛好三國人物的淑婷看了心動不已，馬上下載來玩，若淑婷登入遊戲並進行十連抽，可能出現下列何種結果？

- (A) 必定會獲得十張 SSR 武將卡，其中一定會包含「魔·關羽」以及「魔·呂布」  
(B) 至少會獲得一張以上 SSR 武將卡，但不一定會有「魔·關羽」或「魔·呂布」  
(C) 至少會獲得一張以上 SSR 武將卡，其中一定會有「魔·關羽」或「魔·呂布」  
(D) 不一定會獲得 SSR 武將卡，也不一定會有「魔·關羽」或「魔·呂布」。

《答案》B

詳解：由「第十抽必中 S S R 武將卡」可知十連抽中至少會有一張 S S R 武將卡。由「有機會讓你帶回家」可知有機會獲得「魔·關羽」或「魔·呂布」，但不一定會有，故選 (B)

## 六、閱讀測驗（每題 2 分，共 20 分）

很多人好奇鯨與豚到底如何分別？學術資料將牠們攏稱為鯨類，之下區分鬚鯨亞目及齒鯨亞目，齒鯨亞目下又分為許多科，許多超科。有些體型不大的被稱作鯨，有些體型不小的硬是被叫做海豚。牠們攏是齒鯨，也攏屬於海豚科。很難啊，說也說不明白，這些「科」、「目」的分屬在學術界仍有許多無法釐清的爭論。

漁民的說法比較直接——體型大過漁船的（一船漁船長約十公尺）叫「海翁」，其他一律叫「海豬仔」。龐大又長牙齒的只叫做「海翁」，長「牙刷嘴」（鬚板）的叫「正海翁」。

媽祖生，海面上真的很熱鬧，一群還沒看完接著又來一群，純然是巧合嗎？漁民經驗也許沒有學理根據，但二、三十年的海上歲月累積，可能他們已歸納出什麼道理來。

中午時分，終於有點空檔，我坐在船頭上想，研究調查牠們到底為了什麼？為了滿足好奇？為了贏得學術聲譽？為了保育理想？那又為什麼海豚肉在臺灣到處都問得到、吃得到？難道研究單位不知道每年臺灣流刺網誤殺海豚每年至少五〇〇〇～一〇〇〇〇頭；難道不知道岸上未經處理的放流水是鯨豚保育的嚴重問題，我覺得若是要打著「鯨豚保育」的旗幟，這些問題應該坦白勇敢的告訴大家。（節選自廖鴻基 媽祖生）

( ) 21. 根據本文，作者對鯨豚分類的觀點應為下列何者？

- (A) 現行的分類應該重新界定 (B) 鯨豚特色相近，不用區分  
(C) 提出自己的說法加入爭論 (D) 定義不明確，很難去解說

( ) 22. 根據本文，若有一隻有鯨鬚的鯨豚，長達十二米，牠在漁民口中應被稱為下列何者？

- (A) 海豚 (B) 海翁 (C) 海豬仔 (D) 正海翁

( ) 23. 關於本文的寫作手法，下列分析何者正確？

- (A) 首段透過自問自答來強調保育的重要 (B) 末段以連續的問句提出對鯨豚保育的質疑  
(C) 全文記錄作者與他人的真實問答對話 (D) 全文多次引用學者的言論以增加保育號召

《答案》21. D 22. D 23. B

詳解：21. (D) 由「很難啊，說也說不明白」可知 22. (D) 有鯨鬚，且尺寸比船隻大，所以是正海翁 23. (A) 首段討論鯨豚的分類方式 (C) 全都是自己的想法，非真實問答 (D) 文中僅提出學者對鯨豚分類的看法



點一爐火，多像點燃一生的愛情！

每天凝視我的爐火，都得到許多啟示。在明明滅滅的火焰之間，在斷枝朽木之間，在熱焰竄動與餘爐猶溫之間，在火起與火滅之間，我好像看到自己，彷彿對著一面鏡子，見到自己一生的愛。

「取柴」如「取材」，是要有計畫的，如果貪心只拾大的木塊，卻沒小枯枝來引燃，就不可能長久。我先把報紙撕成對開，揉成一團團，扔在壁爐架子的最下層，再將小枯枝一根根排在上面。報紙雖然易燃，卻不能揉得太緊，否則火起不來；小枝子也不能排得太密，否則不通風，火也點不著。

看一爐火被熊熊點燃，小樹枝在火中變成琥珀色，大木塊表面開始紅，開始裂，又劈劈啪啪地爆裂，是多令人興奮的事。看冒煙與爆炸的爐火就像看一對熱戀的情人。在火焰騰起之前總要先冒煙、先有摩擦，直到水氣烤光了，熱度到達了，才可能冒出火焰。

每當火爐裡的小枝子把中枝子引燃，冒出炙人的烈焰，我都會想到那些須臾不能分開的戀人。於是把爐子下的小門關上，減少爐中的氧氣。火焰立刻不再猖狂。我知道樹枝裡的木質有限，用大火燒，沒多久就完了，到時候如果大樹幹還不能被點燃，就像愛情來得太急也快的戀人，只可能面對一爐遺憾。

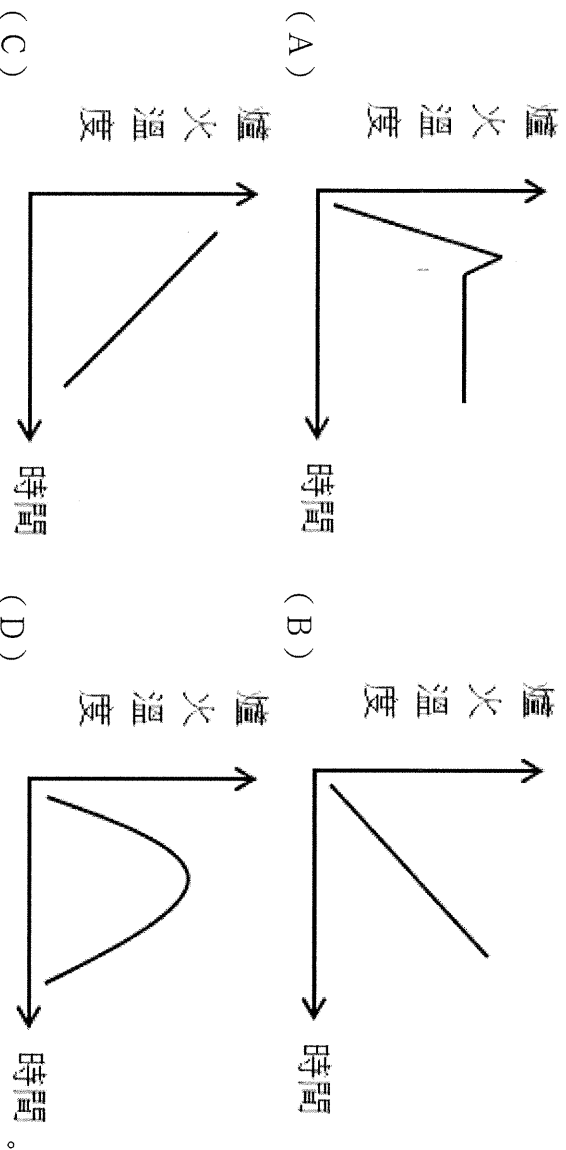
當大樹幹終於開始崩解變紅，露出裡面樹木的年輪，如同戀人坦開彼此的心。此刻下面的小樹枝、中樹枝全化作白色的灰爐，由柴架的縫隙沉落下去，隨著「媒人」的隱退，上面的大木塊則不斷調整位置，漸漸貼在鐵架上。多麼舒適的姿態啊！彷彿戀人安安靜靜地躺在床上，不再有崩裂的激情與爭辯，而是相需與相守。

成功的一爐火，多像一場成功的戀情！有激情、有爭辯、有摩擦、有嫌隙，但是都會快快地過去。發現火大了，就調小一點；發現疏遠了，就聚攏一些。

每天面對一爐火，我都想那愛的一生，想這世上多少戀人只因為老了、遠了，不再相依偎，就各自熄滅。又有多少熱戀的人，只見愛的火焰一時騰空而起，卻不能真正燒到心靈的深處，於是「情到濃時情轉薄」，留下大大粗粗的樹幹和一爐冷冷的唏噓。

點一爐火，多像點燃一生的愛情！（劉墉 點燃一生的愛情）

( ) 24. 下列是愛情爐火的曲線圖，何者走向較符合作者對於長久愛情的看法？



( ) 25. 關於本文，下列敘述何者正確？

- (A) 取柴要有野心，一開始就要選取材質優良的大木塊
- (B) 小枝子在鋪排時要緊密，才容易讓火點燃
- (C) 戀愛初期，人們常因自身情緒控制不佳而粗暴地對待情人
- (D) 大木塊燃燒後要調整彼此距離，如此才能燃燒得更長久

《答案》24. A 25. D

詳解：24. 溫度由火勢而來，先是小樹枝和中樹枝的燃燒，溫度飆升。接著由「冒出炙人的烈焰……」。於是把爐子下的小門關上，減少爐中的氧氣。火焰立刻不再猖狂」可知，溫度稍微下降而被控制住。故選 (B) 25. (A) 取材要有順序 (B) 要有空隙才能幫助燃燒 (C) 並無提到粗暴對待 (D) 由「大木塊則不斷調整位置，漸漸貼在鐵架上」可知



早餐後，前往西安 咸陽國際機場搭機，經由香港轉機返回小港國際機場，結束此次的旅遊。

【出團費用說明】

一、費用包含：

- (1) 全程搭乘經濟客艙來回機票、兩地機場稅、團險。
- (2) 行程中所列之景點、交通、門票、餐食。
- (3) 全程優質酒店雙人房住宿。

二、費用不包含：

- (1) 臺胞證費用。
- (2) 領隊、導遊、司機小費，每人每天臺幣200元。
- (3) 行程表上未表明之各項開支，自選建議行程交通及應付費用。
- (4) 純係私人之消費：如行李超重費、飲料酒類、洗衣、電話、電報及私人交通費。(改寫自「品冠旅遊」網站)

( ) 28. 本文是以三國為主題的中國旅行團行程說明，林媽媽在網路上看到此段資訊，便列印下來，想給仰慕諸葛亮的女兒近頻看，但一不小心被飲料滴到，導致其中有一部分汙損不清了。根據前後文，文中●處應填入下列何者？

- (A) 一飯何曾思報答／雙眸早已識英雄 (B) 青山有幸埋忠骨／白鐵無辜鑄佞臣
- (C) 青春南國喬出嫁／赤壁東風亮助長 (D) 一詩二表三分鼎／萬古千秋五丈原

( ) 29. 近頻看到旅行資訊後，馬上報名，想進行一趟三國史蹟之旅。當她繳了出團費用後，開始預估自己的其他旅行花費，下列哪項費用她不須額外準備？

- (A) 買太多伴手禮的行李超重費 (B) 參觀諸葛亮博物館的門票費
- (C) 出發前申辦臺胞證的手續費 (D) 給予領隊、導遊等人的小費

( ) 30. 根據行程表上的歷史景點解說，下列何者正確？

- (A) 成都 武侯祠較為有名，但漢中 武侯祠才是皇帝下詔興建的
- (B) 人們稱諸葛亮墓為「武侯墓」，是因為他生前被封為武鄉侯
- (C) 諸葛亮除了是政治家、軍事家之外，更是三國時期蜀漢大將
- (D) 漢中 武侯祠的琴樓，是當年「空城計」發生地的歷史遺蹟

《答案》28. D 29. B 30. A

詳解：28. (A) 韓信 (B) 岳飛 (C) 周瑜 29. (B) 包含於出團費用中 30. (B) 是因為死後謚「忠武侯」

(C) 應為三國時期蜀漢丞相 (D) 是唐朝建的微縮景觀



高雄市立鼓山高中 112 學年度第二學期第一次段考《國三》國文科答案卷

考試範圍：第 6 冊 4、5、6 課及自學 1、2、3      電腦讀卡代碼：01      年    班    號    姓名

一、選擇題：(每題 2.5 分，共 100 分)

1	B	2	D	3	C	4	A	5	D	6	A	7	B	8	B	9	B	10	D
11	D	12	A	13	A	14	C	15	D	16	C	17	A	18	D	19	D	20	C
21	B	22	A	23	A	24	D	25	A	26	B	27	D	28	D	29	C	30	B
31	C	32	B	33	A	34	C	35	B	36	C	37	C	38	A	39	B	40	C



鼓山高中中國中部112學年度第二學期國一公民科第一次月考解答

1.	B	2.	D	3.	B	4.	A	5.	A	6.	B	7.	D	8.	B	9.	B	10.	B
11.	C	12.	A	13.	B	14.	A	15.	D	16.	C	17.	A	18.	C	19.	D	20.	C
21.	B	22.	A	23.	A	24.	B	25.	C	26.	B	27.	A	28.	A	29.	D	30.	C
31.	C	32.	B	33.	D														

鼓山高中中國中部112學年度第二學期二公民科第二次月考解答

34.	B	35.	B	36.	A	37.	B	38.	B	39.	B	40.	A	41.	B	42.	B	43.	A
44.	D	45.	C	46.	D	47.	A	48.	D	49.	D	50.	D	51.	C	52.	C	53.	C
54.	C	55.	D	56.	D	57.	D	58.	A	59.	A	60.	A	61.	B	62.	B	63.	A
64.	A	65.	A	66.	B	67.	B	68.	A	69.	A								

鼓山高中中國中部112學年度第二學期三年級公民科第一次月考解答

70.	D	71.	B	72.	C	73.	D	74.	C	75.	A	76.	D	77.	D	78.	A	79.	A
80.	D	81.	D	82.	B	83.	C	84.	B	85.	A	86.	C	87.	D	88.	C	89.	D
90.	A	91.	A	92.	A	93.	B	94.	B	95.	C	96.	B	97.	B	98.	B	99.	C
100.	A	101.	B	102.	C														



高雄市立鼓山高中 112 學年度第二學期第一次段考《國一》數學科答案卷

考試範圍：第二冊 CH1+CH6      答案請寫在答案卷上      班      號      姓名

一、選擇題：每題 5 分，共 40 分

1	2	3	4	5	6	7	8
B	C	A	D	B	C	A	C

二、填充題：每格 4 分，共 48 分

1.	2.	3.	4(1).
$24x - 17y - 4$	$\frac{11x + 26y - 42}{20}$	1	420
$4(2).$	$5(1).$	$5(2).$	6.
95	1	4	32
7.	8.	9.	10.
30	3	42	5

三、計算題：共 12 分(需寫出計算過程)

1. 解  $\begin{cases} -x + 3y = -2x - y + 5 \\ 5x + y - 1 = 4x - y + 3 \end{cases}$  (6分)

答：  $x = 3, y = \frac{1}{2}$

2. 一年五班戶外教學到后豐鐵馬道騎腳踏車，42人共租了18輛協力車，同學協議男生每兩人共騎一輛，女生每3人共騎一輛，請問男、女生各有多少人？(6分)

答： 男生24人，女生18人



高雄市立鼓山高中 112 學年度第二學期第一次段考《國二》數學科答案卷

考試範圍：第四冊 1-1~CH2

答案請寫在答案卷上

班號姓名

一、選擇題：每題 5 分，共 40 分

1	2	3	4	5	6	7	8
B	D	A	C	C	B	C	D

二、填充題：每格 4 分，共 48 分

1.	2.	3.	4.
-24	3	230	1717
5.	6.	7.	8.
48	224	-8	33
9.	10.	11.	12.
15	11	$\frac{1}{2}$	140

三、計算題：共12分(需寫出計算過程)

1. 已知一個等差級數的首項為5，末項為138，和為1430，求此等差級數的項數與公差。(6分)

答：項數=20，公差=7

2. 小熊點心屋為反應原物料成本上漲，決定以線型函數 $y = ax + b$ 調高各產品的售價，若原來一盒250元的草莓塔調高為300元，原來一盒200元的檸檬派調高為260元，設原售價為 $x$ 元，調整後的售價為 $y$ 元，則 $y$ 與 $x$ 的關係式為何？(6分)

答： $y = \frac{4}{5}x + 100$



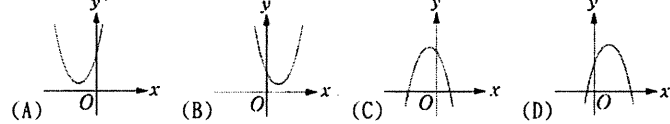


考試範圍：南一版第六冊 1-1-2-1

年 班 號 姓名

一、單選題：(1-10 題每題 3 分；11-25 題每題 4 分)

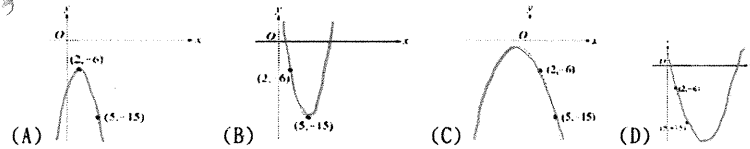
1. 已知二次函數  $y = a(x-h)^2 + k$ ，其中  $a > 0$ ， $h < 0$ ， $k > 0$ ，則下列哪一個可能是此二次函數的圖形？



2. 下列哪一個二次函數的圖形經過平移後，能與  $y = 3(x+2)^2 + 5$  的圖形完全疊合在一起？

(A)  $y = 3x^2$  (B)  $y = 2(x+3)^2 + 5$  (C)  $y = 2(x+5)^2 + 3$  (D)  $y = 5(x+2)^2 + 3$

3. 二次函數  $y = a(x-2)^2 + k$  的圖形通過  $(2, -6)$  及  $(5, -15)$  兩點。試問此函數圖形應為下列何者？



4. 判斷下列各二次函數，哪一個圖形的開口向上？

(A)  $y = -x^2 + 4x + 7$  (B)  $y = 25 - x^2$  (C)  $y = 2 + 3x - \frac{3}{4}x^2$  (D)  $y = 2x^2 + 7x$

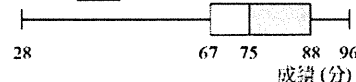
5. 若二次函數  $y = a(x-h)^2 + k$  的圖形恰與  $x$  軸交於一點，且  $a > 0$ ，則下列敘述哪一個錯誤？

(A) 此二次函數圖形與  $x$  軸的交點為頂點 (B) 此二次函數圖形與  $y$  軸有一個交點  
(C)  $k > 0$  (D) 此函數有最小值

6. 已知二次函數  $y = -2(x-3)^2 + 5$ ， $P(2, 3)$  為此函數圖形上的一點。今將此函數圖形向右且向上平移後， $P$  點的新位置在  $(3, 5)$ ，則平移後的頂點坐標為何？

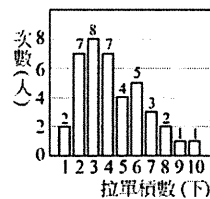
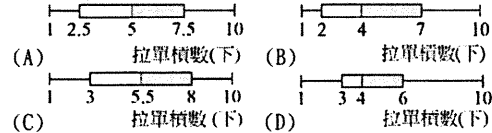
(A)  $(4, 7)$  (B)  $(5, 6)$  (C)  $(2, 3)$  (D)  $(1, 4)$

7. 附圖為小傑班上第一次段考數學成績的盒狀圖，則下列敘述何者正確？



(A) 28~67 分的人數比 67~88 分人數還要多 (B) 成績的中位數為 67 分  
(C) 班上一定有人成績是 28 分 (D) 班上一定有人成績是 88 分

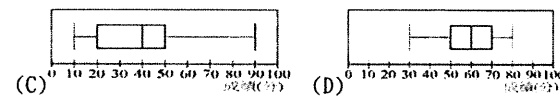
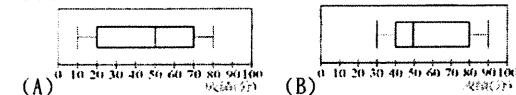
8. 附圖是某班 40 人拉單槓成績次數長條圖，則下列何者是附圖資料的盒狀圖？



9. 小佳班上有九位同學，他們的體重（單位：公斤）資料如下：58, 48, 45, 49, 47。請問下列何者正確？

(A) 第 1 四分位數為 45 (B) 第 2 四分位數為 49  
(C) 全距為 7 (D) 四分位距為 7

10. 下列各選項中的盒狀圖分別呈現出某班四次數學小考成績的分布情形，哪一個盒狀圖呈現的資料其四分位距最大？



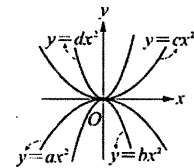
11. 將二次函數  $y = \frac{1}{5}x^2$  的圖形沿著  $x$  軸對摺後，會與下列哪一個函數圖形完全疊合？

(A)  $y = -\frac{1}{5}x^2$  (B)  $y = 5x^2$  (C)  $y = -5x^2$  (D)  $y = 0.5x^2$

12. 二次函數  $y = 2x^2$  的圖形向右平移 3 個單位，再向下平移 5 個單位後，會與下列哪一個圖形完全疊合？

(A)  $y = 2(x+3)^2 + 5$  (B)  $y = 2(x+3)^2 - 5$  (C)  $y = 2(x-3)^2 + 5$  (D)  $y = 2(x-3)^2 - 5$

13. 右圖為  $y = ax^2$ 、 $y = bx^2$ 、 $y = cx^2$ 、 $y = dx^2$  的圖形，則  $a$ 、 $b$ 、 $c$ 、 $d$  四數中，最大的數為何？(A)  $a$  (B)  $b$  (C)  $c$  (D)  $d$



14. 下列哪一個選項中的  $y$  是  $x$  的二次函數？

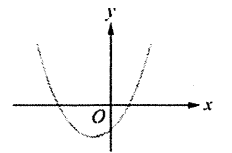
(A)  $y = 3^2x - 5$  (B)  $y = 2x + 1$  (C)  $y = -1 + 2x^3$  (D)  $y = -2x + 5x^2 + 3$

15. 下列二次函數的圖形，哪一個的開口最大？

(A)  $y = \frac{1}{2}x^2$  (B)  $y = 2x^2$  (C)  $y = -2x^2$  (D)  $y = -4x^2$

16. 若附圖為二次函數  $y = a(x-h)^2 + k$  的圖形，則下列敘述何者正確？

(A)  $a > 0$ ，函數有最大值  $k$  (B)  $a > 0$ ，函數有最小值  $k$   
(C)  $a < 0$ ，函數有最大值  $k$  (D)  $a < 0$ ，函數有最小值  $k$

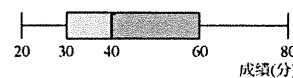


17. 附表為三年 A 班學生體重（公斤）的最小值、 $Q_1$ 、 $Q_2$ 、 $Q_3$  與最大值，則下列哪一部分的資料分布可能較分散？

最值	$Q_1$	$Q_2$	$Q_3$	最大值
38	49	51	57	82

(A) 38~49 (B) 49~51 (C) 51~57 (D) 57~82

18. 附圖是三年甲班第一次段考數學成績的盒狀圖，下列哪一個敘述是錯誤的？



(A) 該班沒有人的成績是 95 分 (B) 該班約有 75% 的人成績不及格  
(C) 該班「40~60 分人數」是「30~40 分人數」的 2 倍  
(D) 該班約有  $\frac{1}{2}$  的人成績未滿 40 分

19. 某班學生的體重次數分配表如附表，試求該班學生體重的第 3 四分位數（即  $Q_3$ ）在哪一組？(A) 45~50kg (B) 50~55kg (C) 55~60kg (D) 60~65kg

體重 (kg)	35~40	40~45	45~50	50~55	55~60	60~65	65~70
次數 (人)	4	7	15	12	5	5	2

20. 已知二次函數  $y = a(x-h)^2 + k$  有最大值 -4，且對稱軸為直線  $x = -3$ ，又  $|a| = 2$ ，則  $a-hk = ?$  (A) -14 (B) -10 (C) 14 (D) 10

21. 已知坐標平面上有二次函數  $y = -(x+6)^2 + 5$  的圖形，函數圖形與  $x$  軸相交於  $(a, 0)$ 、 $(b, 0)$  兩點，其中  $a < b$ 。今將此函數圖形往上平移，平移後函數圖形與  $x$  軸相交於  $(c, 0)$ 、 $(d, 0)$  兩點，其中  $c < d$ ，判斷下列敘述何者正確？

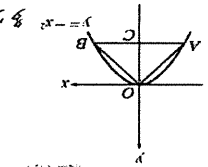
(A)  $(a+b) = (c+d)$ ， $(b-a) < (d-c)$   
(B)  $(a+b) = (c+d)$ ， $(b-a) > (d-c)$   
(C)  $(a+b) < (c+d)$ ， $(b-a) < (d-c)$   
(D)  $(a+b) < (c+d)$ ， $(b-a) > (d-c)$

22. 小丸子班上的 18 位學生進行投籃測驗，附表為投進球數的次數分配表：

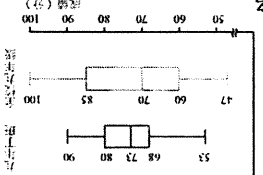
進球數(球)	0	1	2	3	4	5	6	7	8
次數(人)	3	4	1	1	2	2	1	3	1

則下列敘述何者錯誤？(A)  $\bar{Q}$  為 1 球 (B)  $\bar{Q}$  為 3 球 (C)  $\bar{Q}$  為 6 球 (D) 全距為 8 球

23. 鼓山國中全校九年級共 400 人，其中九年丁班有 40 人，附圖是九年丁班與全校九年級學生第一次期中考數學成績的盒狀圖，若九年丁班澄澄的成績恰好是全校九年級成績的中位數，那麼澄澄的成績在九年丁班的名次在下列哪個範圍？
- (A) 第 1~10 名 (B) 第 11~20 名 (C) 第 21~30 名 (D) 第 31~40 名
24. 如圖，坐標平面上， $\overline{AB} \parallel x$  軸，且交二次函數  $y = -x^2$  的圖形於 A、B 兩點，若  $\overline{OC} = \overline{AC}$ ，則 B 點的坐標為何下列何者？
- (A)  $(-1, 1)$  (B)  $(1, -1)$  (C)  $(1, 1)$  (D)  $(-1, -1)$
25. 有一組資料恰好呈等差數列，共有 9 項，公差為 10，則四分位距為 (B) 20 (C) 30 (D) 40



多少？(A) 50 (B) 40

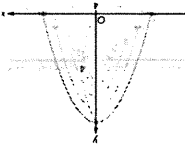
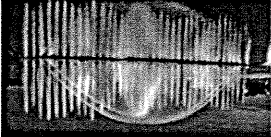


### 高雄市立鼓山高中 112 學年度第二學期第一次段考《圖三》數學科作答卷

考試範圍：第一屆第六冊 1-2-1 年 班 號 姓名

二、非選題：10 分

音樂是一種利用水流所設計的造景，還可配合燈光使其更有觀賞性，由於受到重力影響，噴泉水柱所行經的軌跡，通常會形成一個拋物線的形狀。嘉義市的瑞澤音樂噴泉目前是國內最大的戶外音樂噴泉，其最高水柱可達 50 公尺，表演的過程中，會出現近似拋物線的水柱，如圖(一)。



圖(一)

圖(二)

今嘉嘉想要用噴泉設計一個拋物線(二次函數圖形)的水拱門，並將設計圖畫在坐標平面上，如圖(二)。若希望水拱門的最高點離地面 4 公尺，且從噴泉的噴出處到落地處，兩者的距離也是 4 公尺，則：

在坐標平面上，水拱門所行經的軌跡，其二次函數為何？

$$y = x^2 + 4$$

2. 現有一位身高 1.8 公尺的人，若根據上面的坐標平面圖，當他站在下列哪些位置時，其頭頂不會碰到水柱？

- (A)  $(-1.2, 0)$  (B)  $(-0.4, 0)$  (C)  $(0, 0)$  (D)  $(0.8, 0)$  (E)  $(1.6, 0)$

ABCD