

109 國三 第二次月考 國文科答案

1	A	2	D	3	B	4	D	5	D	6	B	7	C	8	C	9	D	10	D
11	A	12	A	13	C	14	A	15	D	16	D	17	B	18	B	19	D	20	A
21	C	22	D	23	C	24	B	25	A	26	A	27	C	28	A	29	A	30	D
31	D	32	B	33	A	34	C	35	B	36	A	37	C	38	D	39	A	40	B
41	C	42	D	43	B	44	A	45	A	46	B	47	C	48	B	49	C	50	B

國一國文第二次段考解答

一、

1-5 DCACB

6-10 DACBC

11-15 DADDB

16-20 CDBBC

二、

21-25 BCDDB

26-30 CADBC

(每題 2 分，共 50 分)

	3	4	5	6	7	8	9	10
C	B	A	D	B	C	D	C	B
	13	14	15	16	17	18	19	20
B	C	A	A	D	A	D	A	C
	23	24	25					
A	D	C	B					

：(每題 1 分，共 10 分)

	28	29	30	31	32	33	34	35
B	B	D	A	A	D	C	B	C

：(每字 1 分，共 15 分)

尸メ、		2. 從「諫」如流：ㄣ一ㄣ、	3. 「偌」大：ㄇㄨ、
「事：一、		5. 「屬」之廷尉：ㄘメ、	6. 「伺」候：ム、
：一么、		8. 「嵌」進肉中：、一、	9. 「、一、」歌：憩
「」省：微		11. 「《亡、」言：格	12. 犯「、一、」：蹕
ㄣ、力一ㄣ、」：怜		14. 「亡亡」差：參	15. 「ㄘメ亡、」見真知：灼

-8，每題 2 分，9-12 每題 1 分，共 20 分)

：隱沒在天際，被上天聽到	2.掛單：原指僧人投寺寄住，這裡是借宿的意思
怪異：	4. 民安所錯其手足：人民將手足無措，不知如何是好
女子輕巧美好的樣子	6. 偌大：這樣大、如此大
不慌不忙的樣子	8. 窈窕：幽靜美好的樣子
柔和：幸虧	10. 「穆」上：撒落
「察之：這裡表示「希望」的語氣	12. 「固」不敗傷我乎：豈、難道

：格 1 分，共 5 分)

下走出，乘輿馬驚。(於是使騎捕)，屬之廷尉。(釋之治問天子所與天下公共也)。今法如此而更重之，是法不信於民也。廷尉，(天下之平也)，一傾而天下用法(皆為輕重)，民安所錯其手足？

每題 2 分，共 70 分）

- CCADA
- DAACA
- BBAA

題 2 分，共 30 分）

DDCCD

支山高中 109 學年度第一學期第二次段考《國三》自然科解答卷

1-4、6 章 電腦讀卡代碼：12 年 班 號 姓名

2 分，共 100 分）

- 3.(B) 4.(B) 5.(B)
- 8.(A) 9.(C) 10.(B)
- 3.(C) 14.(D) 15.(C)
- 3.(B) 19.(A) 20.(B)
- 3.(A) 24.(D) 25.(A)
- 8.(A) 29.(A) 30.(C)
- 3.(C) 34.(B) 35.(D)
- 8.(D) 39.(B) 40.(C)
- 3.(A) 44.(B) 45.(D)
- 8.(A) 49.(B) 50.(D)

本題(每題 2 分，共 40 分)

- 1. D      11. A
- 2. B      12. B
- 3. B      13. A
- 4. A      14. C
- 5. B      15. A
- 6. D      16. B
- 7. D      17. C
- 8. A      18. A
- 9. B      19. A
- 10. D     20. A

階題(每題 3 分，共 48 分)

- 1. D      31. D
- 2. D      32. B
- 3. C      33. A
- 4. B      34. C
- 5. C      35. A
- 6. B      36. D
- 7. D
- 8. C
- 9. A
- 10. B

組(每題 2 分，共 12 分)

- 1. B
- 2. B
- 3. C
- 4. A
- 5. D
- 6. C

市立鼓山高中 109 學年度第一學期第二次段考

《國一》健教科答案卷

1	3	4	5	6	7	8	9	10
1	C	B	D	C	B	B	A	D
2	13	14	15	16	17	18	19	20
1	B	B	C	C	B	C	A	B
2	23	24	25	26	27	28	29	30
1	A	D	B	A	C	A	C	D
2	33	34	35	36	37	38	39	40
1	D	D	D	D	A	A	D	A
2	43	44	45	46	47	48	49	50
1	B	A	A	C	B	C	A	D

市立鼓山高中 109 學年度第一學期第二次段考

《國二》健教科答案卷

2	3	4	5	6	7	8	9	10
A	C	D	D	D	D	B	D	D
2	13	14	15	16	17	18	19	20
3	D	A	D	C	D	B	B	B
2	23	24	25	26	27	28	29	30
3	B	D	D	B	B	D	D	D
2	33	34	35	36	37	38	39	40
3	C	B	D	A	B	B	A	C
2	43	44	45	46	47	48	49	50
3	B	A	D	A	C	D	B	C

教育科答案卷

~LZ

電腦讀卡代碼:14

\_\_\_\_年\_\_\_\_班\_\_\_\_號 姓

題 2 分，共 100 分)：

- 4.B 5.A  
9.A 10.B  
3.D 14.B 15.B  
3.A 19.A 20.A  
3.D 24.C 25.A  
3.B 29.B 30.C  
3.B 34.D 35.B  
3.D 39.A 40.D  
3.D 44.C 45.C  
3.D 49.D 50.D

取山向十國中第109字年度第一學期七年級社會科(公民)第二次月考解答			
作答: ■劃記答案卡 科目代號: 08	範圍: 第三課~第四課	試卷頁數: 共3頁	姓名: _____ 年 _____ 班 座號: _____

26. B	27. C	28. A	29. D	30. A	31. B	32. A	33. C	34. B	35. D
36. A	37. A	38. A	39. B	40. B	41. D	42. C	43. D	44. C	45. D
46. B	47. D	48. A	49. C	50. A					



作答：■劃記答案卡 科目代號：08	範圍： 第三課～第四課	試卷頁數： 共2頁	姓名：_____年_____班 座號：_____
----------------------	----------------	--------------	--------------------------

26. D	27. C	28. A	29. D	30. A	31. D	32. A	33. B	34. D	35. A
36. B	37. C	38. A	39. C	40. D	41. A	42. A	43. D	44. A	45. B
46. D	47. C	48. B	49. D	50. C					

作答：圖劃記合系下		科目代號:08		範圍：		第三課、第六課		試卷員數：		共2頁		姓名：		年		班 座號：	
-----------	--	---------	--	-----	--	---------	--	-------	--	-----	--	-----	--	---	--	-------	--

26. C	27. B	28. D	29. B	30. A	31. C	32. A	33. B	34. D	35. A
36. D	37. B	38. B	39. C	40. A	41. C	42. A	43. A	44. D	45. B
46. B	47. A	48. C	49. B	50. C					

答案欄

選擇題：每題 4 分，共 100 分

51	C	52	C	53	A	54	B	55	D	56	C	57	B	58	A	59	C	60	C
61	B	62	A	63	C	64	D	65	D	66	B	67	A	68	B	69	D	70	D
71	A	72	A	73	B	74	D	75	C										

高雄市立鼓山高中109學年度第一學期第二次段考《國三》社會領域歷史答案

三年 班 號 姓名

電腦卡代碼：08

一、選擇：(每題4分，共100分)

- 51.A 52.D 53.C 54.B 55.A  
56.C 57.B 58.D 59.D 60.A  
61.B 62.C 63.B 64.C 65.D  
66.B 67.D 68.C 69.D 70.C  
71.A

二、題組：

- 72.C 73.C 74.D 75.D

- 51-55 BAAAD  
56-60 DDCBC  
61-65 DBBCD  
66-70 DCBDC  
71-75 BBACB

《國一》歷史科答案

109 學年度第一學期第二次段考

第一學期第二次段考  
英語科聽力解析卷

n. Let's go now.

y is your welcome party?  
riday.

Are you a singer?  
n not. I'm a basketball coach.

ing a letter.

lking to her aunt on the phone.

an't play ball in the kitchen. Go and play

museum. Please be quiet.

your teacher?

et's go!

is writing a card in the living room.

is the movie?

boy dancing with?

ir favorite day of the week?

anything at the concert now?

iting a letter. Paul is making a card.  
eading comic books.

up! We have a baseball game in the park.

in't eat here. Look at the sign.  
s, sorry.  
ule can the boy see on the sign?

Kevin. Let's play basketball after class.

a. We can use my new basketball.

Kevin, please don't talk in class.

y, Mrs. Hill.  
is Mrs. Hill?

19.答案：(A)

B: Where's Karen?

G: She's at the park taking a walk with Dad.

Q: What is Karen doing?

20.答案：(C)

M: Good morning, Poland! This is Billy with FM100  
Wednesday Morning. Janice Johnson is here with  
us now. Her concert is this Saturday. Let's  
welcome Janice.

W: Hello, everyone. I'm Janice. I'm happy to be  
here.

Q: What day is today?

21.答案：(A)

G: It's seven thirty. Time to go to school.

B: OK. I see.

Q: What is true?

22.答案：(C)

M: What days is the museum open?

W: It is open from Monday to Friday. It is closed on  
the weekend.

M: Let's go there on Friday. I can't wait to see the  
mummies.

W: Okay.

Q: What day is the zoo NOT open?

23.答案：(A)

B: What are you doing, Jessica?

G: I am cooking dinner, making a cake, and singing.

B: You're so busy.

Q: What is the girl doing?

24.答案：(A)

M: Aren't you reading now? It's eight p.m.

W: No, I'm watching TV. Jay's concert is on TV  
from 7:00 to 9:00. Let's watch it together.

M: No, it's time for reading.

Q: What time is the TV concert?

25.答案：(A)

W: Mike, let's go to the museum.

M: Okay. I want to see beautiful pictures.

W: I have some cookies in my bag.

M: No, don't eat or drink in the museum.

Q: What is true?

7 = 11101

B.B.C.B.A

B.B.B.C

1. A.C.B.B.C

2. A.A.C.C.C

3. B.A.C.A.C

座號 \_\_\_\_\_ 姓名： \_\_\_\_\_

英語第二次段考

圖片單字)-根據聽到的單字，選出正確的圖片代碼：

e

句意)-根據聽到的內容，選出正確的圖片代碼：

e was climbing the tree.

s celebrating her birthday with friends.

vas typing a message on her computer.

Mary arrived at the zoo.

id when he got a zero on the test.

enjoys camping.

ds to drink some water.

ices swimming every day.

ted cooking lunch at eleven.

nt one month studying for the big test.

司答)-根據聽到的內容，選出合適的回應：

ll me when you arrive at home.

you get this message?

you do before you had dinner?

they do after they won the game?

re you doing around eight this morning?

d of job are you doing now?

ou want to do after work?

s Lily like to do?

ed these days.

at? John won the computer game again!

則解)-根據聽到的對話內容與問題，選出正確的答案：

lid you have breakfast before you went to school?

Why have breakfast?  
at school.  
Why have breakfast?

What were you doing at nine yesterday morning?  
I went to the mountains with my brother. What about you? Did you go outside?  
I was playing games on my cellphone.  
You should go outside on weekends.  
The boy was doing at nine last morning?

Who is Lucy? She was here beside me before you walked in.  
I was with her, I guess.  
Where?  
When I opened the door. She ran away when she saw me.  
Why do you think she saw the man?

Help me!  
What happened?  
What was I doing when I was in the kitchen one minute ago! I was so scared!  
I was in the kitchen now?  
I can't find it.  
I was talking to the woman?

What did you hear that? A man is crying for help.  
What's coming from that deep hole over there!

What's the problem?  
It's not possible. Let's call 119.  
What's wrong now about the boy and the girl?

I want to cook lunch today.  
What can we have for lunch?  
I want to buy some noodles.  
I want to have some cake, too?  
I don't have much for lunch.  
What plan do you have?

Do you want to go out with me this afternoon?  
I want to go out to go out this afternoon.  
I don't have any plans?  
I want to watch some great movies on TV in the afternoon. I want to watch them.  
What do you plan to do in the afternoon?

Can I use your computer?  
No, I need to do my homework on it.  
I want to play computer games.  
I want to do my homework. Maybe you can use Mom's computer. She is not using it now.  
What do you plan to do?

What do you like to do on weekends?  
I like to go hiking kinds of water sports. I also like to go hiking in the mountains.  
I want to go to the beach very often then.  
I am planning to go surfing this weekend. Do you want to come with me?

When do you usually go on weekends?

Why didn't you buy that computer game?  
I want to save money.  
What happened?  
My brother is sick. I plan to visit him today, so I want to buy something for him.  
What's the problem. Can I go with you?

(20%，每題 2 分)

1	2	fight	3	Wake	4	follow	5	men
6	7	popular	8	ready	9	weekend	10	hands

(10%，每題 2 分)

1	2	us	3	them	4	He	5	it
---	---	----	---	------	---	----	---	----

(10%，每題 2 分)

thirty.	2	It's five fifteen.
day.	4	It's Wednesday.
ay.		

(12%，每題 3 分)

write your name here.
read the picture book.
is May sleeping?
Is Ken doing at the park?

(每格 2 分)

1	2	at	3	in	4	on
---	---	----	---	----	---	----

(12%，每題 2 分)

2	B	3	A	4	C	5	B
---	---	---	---	---	---	---	---

(12%，每題 2 分)

2	A	3	B	4	C	5	A
---	---	---	---	---	---	---	---

(10%，每題 2 分)

2	D	3	D	4	A	5	A
7	B	8	D				



，選出相符的單字。10%（每題 2 分）

2.	B	3.	D	4.	B	5.	B
----	---	----	---	----	---	----	---

。10%（每題 2 分）

2.	begins	3.	prepare	4.	fresh	5.	birthday
----	--------	----	---------	----	-------	----	----------

，填入適當的字詞或做適當的變化。10 %（每題 2 分）

2.	typing	3.	die	4.	laughed	5.	cute
----	--------	----	-----	----	---------	----	------

：10 %（每題 2 分）

2.	D	3.	B	4.	C	5.	B
----	---	----	---	----	---	----	---

答：10%（每題 2 分）

lents were taking selfies on the way to the zoo.
aned her room after she arrived home.
vent on a working holiday in the UK.
bout a month looking for work.
y visited Alan, he was watching TV.

翻譯：20%

）每題 2 分

]

D

聽 20%(每一題 2%)				
2	3	4	5	
knock	grams	behind	ring	
7	8	9	10	
bench	convenient	apartment	screen	

單 20%(每一題 2%)				
2	3	4	5	
B	B	C	D	
7	8	9	10	
C	D	B	A	

單 10%(每一題 2%)				
2	3	4	5	
A	B	D	C	

測驗 10%(每一題 2%)				
2	3	4	5	
C	A	A	C	

檢 10%(每一題 2%)				
2	3	4	5	
B	C	B	D	

答 15%(每一題 3 分)				
ren't been fed by Kelly (yet).				
) idea who to ask for help.				
oo good to be true.				
is so expensive that Ms. Barns can't buy it.				
ked Teresa if / whether she felt sick to her stomach (or not).				

翻譯 15%(每一格 3 分)  
尔。我昨天在那間寺廟裡看到 Jolin。  
it or not. I saw Jolin at that temple yesterday.  
型手機，我們可以用不同形式的社群媒體來聯絡朋友們。  
tphones, we can use different forms of social media to reach friends.  
。你可以告訴我公車站在哪裡嗎？

ne. Can you tell me where the bus stop is?  
讀書，你將更有可能得高分。  
y hard, you will have a better chance of getting high grades.  
到好運而時常帶隻兔腳在身上。  
arries a rabbit's foot with him (in order) to get good luck.

鼓山高中 109 學年度第一學期第二次段考《國一》數學科作答卷

一冊 2-1~2-4                      班                      號                      姓名

每題 4 分，共 40 分

D	3	C	4	B	5	A	6	C	7	D	8	B	9	A	10	B
---	---	---	---	---	---	---	---	---	---	---	---	---	---	---	----	---

每格 3 分，共 45 分

18	2.	5	3.(1)	$2^2 \times 11$ (都不可)	3.(2)	$2^2 \times 3^2 \times 5^3 = 4500$ (都不可)
$-\frac{17}{12}$	4.(2)	4	4.(3)	-20	4.(4)	-500
4	6.	B、D	7.	$\frac{8}{3}$	8.	87432
36	9.(2)	8	10.	46		

共 15 分(需寫出計算過程)

i, 乙 = 24 × 15, 求

準分解式。(3 分)                      (2) (甲, 乙) = ? (3 分)                      (3) [甲, 乙] 的所有相異質因數的和 = ? (3 分)

25 = 3 × 5² × 7

1, 乙) = 15

水池，各邊長分別為 180 公尺、225 公尺和 270 公尺，今在三頂點各置一路燈，且在三路燈之間每  
豎立一根樁，再用鐵鍊圍成護欄。請問：  
每之間最長的距離為 \_\_\_\_\_ 公尺。(3 分)                      (2) 最少需要 \_\_\_\_\_ 根木樁。(3 分)

- 3.(B)    4.(C)    5.(C)
- 8.(B)    9.(A)    10.(A)

填充

$(y+4)$  ;  $(2)(x+4)(x-1)$  ;  $(3)(2x+1)(-2x+1)$  ;  $(4)(2x-3)(x-4)$   
 $2x-3y$

2)

計算

2

$$\times \frac{\sqrt{3}-2}{\sqrt{3}-2} - \frac{1}{\sqrt{3}-2} \times \frac{\sqrt{3}+2}{\sqrt{3}+2}$$
$$= \frac{\sqrt{3}+2}{3-4}$$
$$= 2 + \sqrt{3} + 2$$

$= 17 \quad \therefore \overline{BF} = \sqrt{17^2 - 15^2} = 8$   
 $\overline{F} = x$  , 則  $\overline{DE} = x$  ,  $\overline{CE} = 15 - x$   
 $\overline{F} = 17 - 8 = 9$   
 $CEF$  中 ,  
 $(15-x)^2 + 9^2 = 225 - 30x + x^2 + 81$   
 $= 306$  ,  $x = \frac{102}{10} = 10.2$   
 $) 10.2$

(15 題, 每題 4 分); 共 60 分

	2	3	4	5
	B	A	B	D
	7	8	9	10
	B	B	D	B
	12	13	14	15
	C	A	B	C

(10 格, 每格 3 分); 共 30 分

	②	③	④	⑤
	$25\sqrt{3}$	$169\pi$	$4\frac{4}{3}$	$3\sqrt{5}$
	⑦	⑧	⑨	⑩
	35	17	30	54

(請列出計算式, 否則斟酌扣分); 共 10 分

第 1 小題 2 分; 第 2 小題 3 分	第 2 小題 2 分; 第 2 小題 3 分
<p>半徑 <math>R</math> ;</p> <p>徑 <math>r = \overline{BC} = \overline{OE}</math></p> <p><math>\widehat{AB} = (12+6) \div 2 = 9</math></p> <p><math>\overline{OF}^2 (9-r)^2 = r^2 + 3^2</math></p> <p><math>\odot C</math> 面積 <math>= 16\pi</math></p> <p>答: (1) <u>3</u> ; (2) <u><math>16\pi</math> 平方公分</u></p>	<p>解:</p> <p>(1) <math>\overline{AD} = ?</math></p> <p><math>\because D、E、F</math> 為切點</p> <p>得 <math>\overline{BD} = \overline{BF}</math>、<math>\overline{CF} = \overline{CE}</math>、</p> <p><math>\overline{AD} = \overline{AE}</math>、<math>\overline{AD} + \overline{AE}</math></p> <p><math>= \overline{AB} + \overline{BD} + \overline{AC} + \overline{CE}</math></p> <p><math>= \overline{AB} + \overline{AC} + \overline{BC} = 3 + 4 + 5 = 12</math></p> <p>故 <math>\overline{AD} = \overline{AE} = \frac{1}{2} \times 12 = 6</math></p> <p>(2) 在 <math>\triangle ABC</math> 中 <math>\because \overline{BC}^2 = \overline{AB}^2 + \overline{AC}^2</math></p> <p><math>\therefore \triangle ABC</math> 為直角三角形 且 <math>\angle A = 90^\circ</math></p> <p><math>\overline{BE} = \sqrt{\overline{AB}^2 + \overline{AE}^2}</math></p> <p><math>= \sqrt{3^2 + 6^2}</math></p> <p><math>= \sqrt{45} = 3\sqrt{5}</math></p> <p>答: (1) <u>6</u> ; (2) <u><math>3\sqrt{5}</math></u></p>

山高級中學國中部 109 學年度第 1 學期第 2 次段考二年級地理科答案

2D	3D	4C	5D
7A	8A	9B	10B
12B	13D	14C	15C
17B	18C	19C	20A
22C	23C	24B	25D

山高級中學國中部 109 學年度第 1 學期第 2 次段考三年級地理科答案

2C	3A	4A	5C
7C	8A	9D	10D
12B	13C	14D	15C
17D	18C	19D	20C
22A	23A	24C	25D

# 高雄市立鼓山高中 109 學年度第一學期第二次段考《國一》地理科試題

考試範圍：第 3~4 課

電腦讀卡代碼：08

一年 班 號 姓名

一、單一選擇題：每題 4 分，共 68 分

1. (B) 下列為近年來臺灣的自然環境相關報導，請問：若根據其成因判斷，哪一組形塑地形的力量是相同的？ (A) 甲丙 (B) 乙丁 (C) 乙丙 (D) 丙丁。

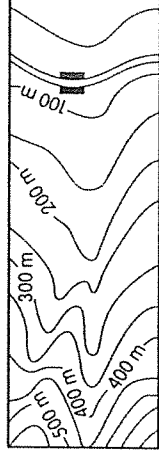
甲. 南投山區出現土石流      乙. 立霧溪河谷深切開闢      丙. 地牛翻身嘉義地震多      丁. 鵝鑾鼻強風吹走砂石

2. (D) 高屏溪為我國流域面積最廣的河川，在其上游河川出口地區出現如右圖中的地形景觀，請問：造成這種地形的主要原因為何？ (A) 坡度變陡 (B) 侵蝕力強 (C) 泥沙減少 (D) 流速變慢。



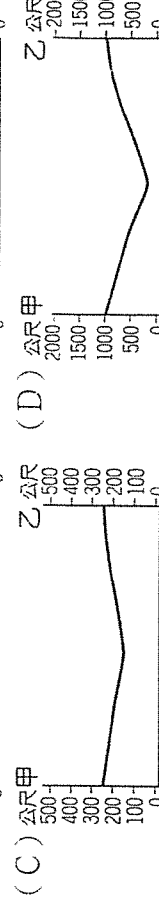
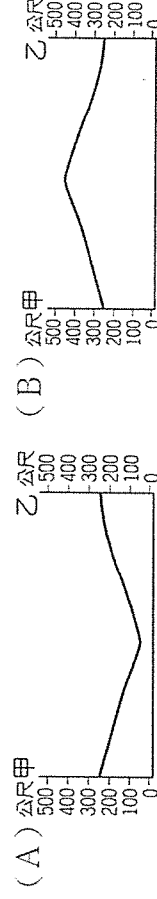
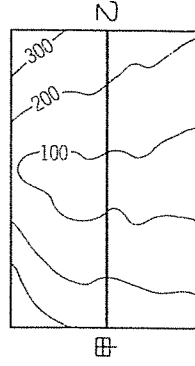
3. (A) 陽明山上的小油坑景觀區，終年硫磺霧氣飄渺，彷彿置身雲端。請問：這種景觀與下列哪一種地形作用力關係最密切？ (A) 火山作用 (B) 斷層作用 (C) 海水作用 (D) 河川作用。

4. (B) 李大伯的旅遊日記寫著：「到了這裡下遊覽車後，映入眼中的是一望無際的平坦開闊天地。然而稀薄的空氣及寒冷氣候，卻讓身體感到略為不適。」請問：此時李大伯所到的地點可能是下列哪一種地形區？ (A) 高山 (B) 高原 (C) 平原 (D) 台地。

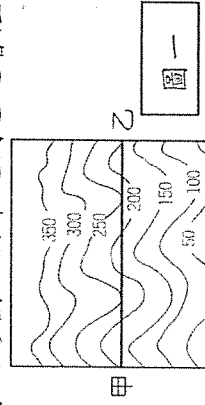


5. (A) 等高線為地形表示的主要方法，右圖為某地區的河川等高線分布圖，圖中河川的出海口即為清晨日出所在。請問：圖中河川的流向應該為何？ (A) 西向東流 (B) 東向西流 (C) 北向南流 (D) 南向北流。

6. (A) 下圖為某地形的等高線圖，根據此等高線圖中甲、乙兩點繪製地形剖面圖，下列何者正確？

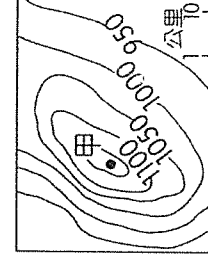
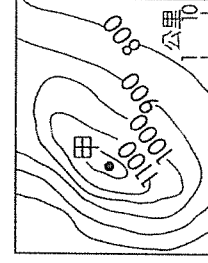
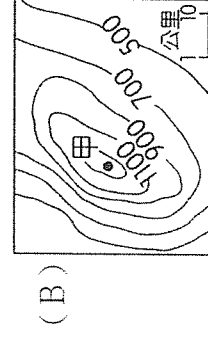
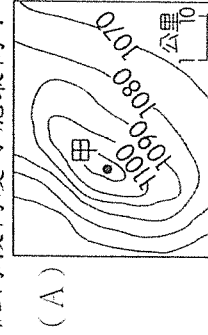


7. (C) 下圖一為某地區等高線地形圖，由甲地到乙地會經過幾個河谷？ (A) 一個 (B) 二個 (C) 三個 (D) 四個。



8. (D) 小廷到臺灣某地區從事地理考察，並將當地的地形起伏繪製成等高線圖，如右圖二所示。請問：其地形為何？ (A) 平原 (B) 高原 (C) 盆地 (D) 丘陵。

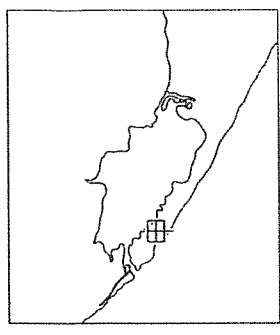
9. (B) 等高線地形圖為地表景觀的表示方法之一，藉由相同海拔高度的點加以連結，表現出高低起伏。下列為四個不同等高線高度間距的地形圖，何者的甲點海拔高度可能最高？



10. (A) 位於臺灣東北部的宜蘭平原，介於哪兩座山脈之間？ (A) 中央山脈、雪山山脈 (B) 海岸山脈、中央山脈 (C) 玉山山脈、阿里山山脈 (D) 雪山山脈、玉山山脈。

11. (B) 根據地質學家調查，受到板塊運動影響，臺灣的地質年代相當年輕，如果以地質常用的時間單位「百萬年」而論，地球年齡已經 4,600 歲了，但臺灣只有 6 歲。請問：臺灣的哪一地型特徵和上述現象關係最密切？ (A) 西部海岸線平直 (B) 山脈多地勢高聳 (C) 平原大土壤肥沃 (D) 西部多丘陵台地。

12. (D) 有地質學家提出警告，大屯山底部恐蘊藏豐富的岩漿，如果爆發將會造成周圍地區的災情慘重。對此，下列哪一個縣市政府應做好相關措施，以避免屆時應變不及？ (A) 澎湖縣 (B) 花蓮縣 (C) 臺中市 (D) 臺北市。



13. (C) 小明參加學校畢業旅行，行程中經過下列地形區：(甲)臺中盆地(乙)屏東平原(丙)臺北盆地(丁)嘉南平原。若由北而南排列，則正確的順序是下列何者？ (A) 甲乙丙丁 (B) 甲丁丙乙 (C) 丙甲丁乙 (D) 丙丁甲乙。
14. (C) 右圖為某海岸地形的示意圖，其中被「甲」地形包圍所形成的海域為當地居民主要的產業活動場所。請問：圖中「甲」地形的形成原因為下列何者？(A) 板塊運動 (B) 海浪侵蝕 (C) 河沙堆積 (D) 河川侵蝕。

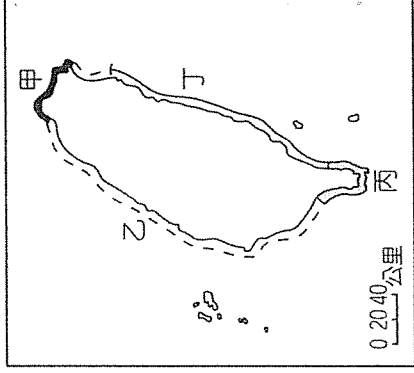
15. (D) 下列有關「沙岸」的敘述：(甲)沿岸平原較廣(乙)海岸線陡峭而少曲折(丙)岸外海水較淺(丁)多海灣。請問：哪一組是完全正確的？ (A) 甲乙 (B) 丙丁 (C) 乙丙 (D) 甲丙。

16. (C) 地理老師講解海岸地形時，說到臺灣北部有許多的地名常會出現「角」，如「富貴角」、「三貂角」等，所指的「角」其實就是下列何種地形？ (A) 沙丘 (B) 沙洲 (C) 岬角 (D) 珊瑚礁。

17. (C) 近年來政府希望藉由改善交通運輸，以促進臺灣東部的發展，右圖為蘇花公路改善路段示意圖，由圖中地理位置判斷，該路段經過的海岸具有哪一特色？(A) 多沙洲與潟湖 (B) 海岸線曲折 (C) 常見懸崖峭壁 (D) 珊瑚礁石滿布。

## 二、題組：每題 4 分，共 32 分

- (一) 邱老師一家在暑假期間沿著臺灣海岸環島旅行一周，體驗臺灣各處在地之美。請依下圖回答下列問題：



- (A) (18) 當一行人來到甲段時，他們在車上的談話內容何者較為合理？ (A) 真是曲折的海岸線，還有許多漂亮的奇岩怪石 (B) 這裡真多沙灘，好想下去玩水哦 (C) 喂！有蚵架，來去吃蚵仔煎吧 (D) 看！這裡是潟湖，我們去坐膠筏吧。

- (D) (19) 這趟行程來到丁段時，邱老師發現山與海左右相伴，且山地陡峭多懸崖。請問：此處的山是下列何者？ (A)

阿里山山脈 (B) 雪山山脈 (C) 玉山山脈 (D) 中央山脈。

- (B) (20) 邱老師說這段海岸「有面積廣大的海埔新生地，常見的土地利用有稻田、鹽田以及魚塭，近年來更開拓為工業用地。」以上所形容的是圖中哪一段海岸？ (A) 甲 (B) 乙 (C) 丙 (D) 丁。

- (D) (21) 對邱老師而言，整個行程中最特別的是丙段海岸，因為可以欣賞到奇幻無比的海底世界，而且是深具觀光、遊憩、生態保育及環境教育價值的海岸。請問：丙段的海岸屬於下列何種類型？ (A) 沙岸 (B) 斷層海岸 (C) 岬灣海岸 (D) 珊瑚礁海岸。

- (二) 臺灣四面環海，周邊離島共有 80 多個，涵蓋各種不同類型的島嶼，因此觀光資源相當豐富。下圖為臺灣周邊主要島嶼分布狀況。請問：

- (A) (22) 圖中的「癸」島嶼為臺灣和日本發生主權爭議的島嶼，該島依形成類型分類，應屬下列何者？ (A) 火山島 (B) 沙洲島 (C) 大陸島 (D) 珊瑚礁島。

- (B) (23) 觀光局在設計廣受歡迎的「跳島行程」時，希望規畫出一條包含不同成因類型島嶼的路線。請問：下列何者最為適合？ (A) 甲丙戊 (B) 丙戊庚 (C) 己辛癸 (D) 甲戊辛。

- (C) (24) 蘭嶼舊名紅頭嶼，因為島上盛產蘭花而得名，島上居住達悟族人，迄今仍保持著傳統文化與習俗。請問蘭嶼位在圖中哪一個代號？ (A) 丁 (B) 己 (C) 辛 (D) 壬。

- (C) (25) 哪一離島可見柱狀排列的玄武岩？ (A) 甲 (B) 丙 (C) 戊 (D) 庚。

