

一、選擇題：(每題 2 分，共 84 分)

1-10. ACAAA BDDAD

11-20. ADDAD BCBAD

21-30. BDCCB CDBBB

31-40. AABDC CBACD

41-42. CC

二、配合題：(每題 1 分，共 16 分)

43-45. ABC

46-50. DBCAD

51. BC

52. CD

53. AC

54. AB

55. BD

56. AC

57. AD

58. CD

鼓山中學 109 學年度第二學期第二次段考(國二)自然科解答卷

一、基本題(每題 2 分，共 36 分)

- | | |
|-------|-------|
| 1. C | 11. C |
| 2. D | 12. C |
| 3. D | 13. D |
| 4. A | 14. A |
| 5. B | 15. B |
| 6. C | 16. D |
| 7. C | 17. C |
| 8. D | 18. A |
| 9. D | |
| 10. D | |

二、進階題(每題 2 分，共 40 分)

- | | |
|-------|-------|
| 19. A | 29. D |
| 20. A | 30. C |
| 21. A | 31. C |
| 22. C | 32. C |
| 23. C | 33. D |
| 24. D | 34. A |
| 25. C | 35. A |
| 26. D | 36. C |
| 27. B | 37. C |
| 28. A | 38. D |

三、題組(每題 3 分，共 24 分)

- | |
|-------|
| 39. B |
| 40. A |
| 41. A |
| 42. D |
| 43. C |
| 44. C |
| 45. D |
| 46. C |

高雄市立鼓山高中 109 學年度第二學期第二次段考《國三》自然科解答卷

考試範圍：5、6 冊會考範圍

電腦讀卡代碼：12

年 班 號 姓名

- 一、選擇題(每題 2 分，共 100 分)
- | | | | | |
|--------|--------|--------|--------|--------|
| 1.(C) | 2.(B) | 3.(C) | 4.(B) | 5.(B) |
| 6.(B) | 7.(B) | 8.(B) | 9.(B) | 10.(D) |
| 11.(B) | 12.(C) | 13.(D) | 14.(D) | 15.(C) |
| 16.(A) | 17.(B) | 18.(C) | 19.(B) | 20.(B) |
| 21.(A) | 22.(C) | 23.(A) | 24.(C) | 25.(D) |
| 26.(B) | 27.(A) | 28.(C) | 29.(D) | 30.(C) |
| 31.(B) | 32.(C) | 33.(D) | 34.(B) | 35.(C) |
| 36.(D) | 37.(D) | 38.(D) | 39.(A) | 40.(C) |
| 41.(B) | 42.(D) | 43.(A) | 44.(C) | 45.(D) |
| 46.(A) | 47.(D) | 48.(B) | 49.(D) | 50.(C) |

1B	2A	3D	4B	5A
6D	7B	8A	9C	10D
11C	12A	13B	14D	15B
16A	17D	18D	19C	20B
21C	22B	23C	24D	25B

高雄市立鼓山高級中學國中部 109 學年度第 2 學期第 2 次段考三年級地理科試題答案

1A	2A	3B	4A	5B
6B	7D	8D	9A	10C
11A	12B	13D	14A	15C
16A	17B	18B	19B	20D
21A	22A	23D	24A	25C

高雄市立鼓山高中 109 學年度第二學期第二次段考《國一》地理科試題

考試範圍：第 3~4 課

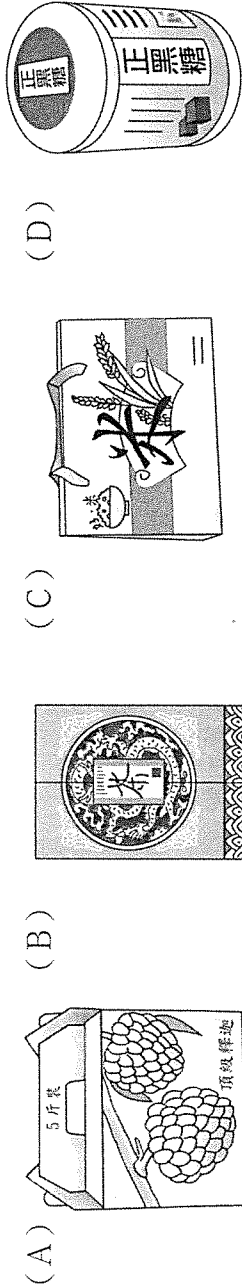
電腦讀卡代碼：08

一年 班 號 姓名

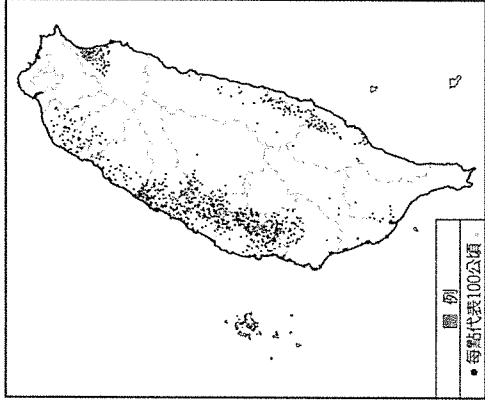
一、單一選擇題：每題 4 分，共 100 分

1. (B)產業活動的發展經常反映出該國的經濟程度。右表分別為四個國家的三級產業就業人口比例，其中哪一個國家的經濟發展程度可能相對較好？(A)蘭花國 (B)玫瑰國 (C)水仙國 (D)銀杏國。
2. (A)如果孫小美的父親職業是屬於第二級產業，則他可能從事下列何種職業？ (A)工廠作業員 (B)計程車司機 (C)經營果園 (D)養殖漁業。
3. (C)近年來，臺灣和鄰國經常在經濟海域產生紛爭，甚至威脅生命及財產安全。請問：在經濟海域範圍內，可從事哪些捕撈漁業？ (A)沿岸漁業、遠洋漁業 (B)近海漁業、遠洋漁業 (C)沿岸漁業、近海漁業 (D)沿岸漁業、近海漁業、遠洋漁業。
4. (C)臺灣的現代化畜牧多屬欄牧，將牲畜圈養並餵以飼料。這種畜牧方式和下列何種環境因素的限制最為相關？ (A)降水量太多 (B)工資昂貴 (C)地狹人稠 (D)技術限制。
5. (C)臺南市新營、柳營等地，許多居民飼養乳牛，生產鮮乳，以供應市場需求。此種經濟活動屬於下列何種產業？ (A)粗放農業 (B)放牧業 (C)酪農業 (D)觀光農業。
6. (B)來自中國大陸北京的王先生一家人來到臺灣旅遊，特別到海拔高度 1,800 公尺以上的福壽山農場遊玩，感受高山秀麗之美，並購買當地著名的伴手禮。請問：他所購買的東西最可能為下列何者？

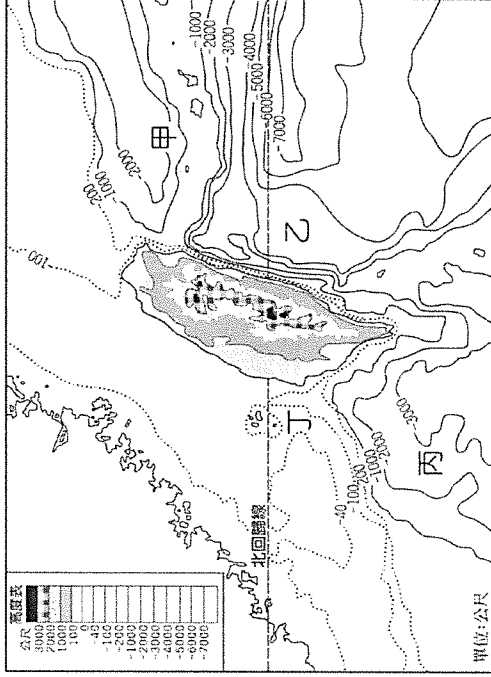
國家 \ 產業	第一級產業	第二級產業	第三級產業
蘭花國	31%	38%	31%
玫瑰國	17%	35%	48%
水仙國	42%	30%	28%
銀杏國	29%	22%	49%



7. (A)臺灣的某種農作物分布區如下圖所示。請問：該農作物最可能為下列何者？(A)水稻 (B)檳榔 (C)茶葉 (D)甘蔗。



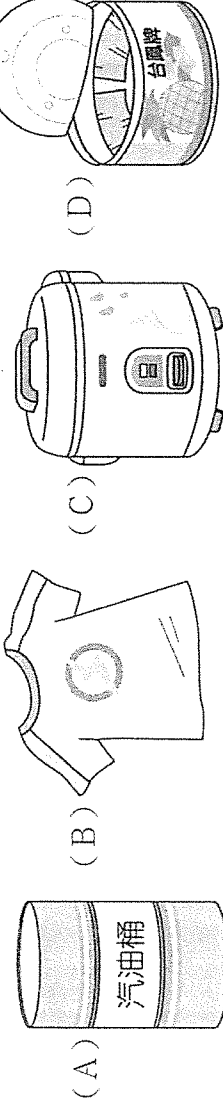
8. (D)看似廣闊的大海中，其實有魚可捕的地區並不多，目前全球漁獲量 80% 以上是來自於大陸棚，而大陸棚僅占海洋面積的 8%。請問：臺灣的大陸棚位於下圖中何處？(A)甲 (B)乙 (C)丙 (D)丁。



9. (D)臺灣早期傳統農家栽種作物種類繁多，農民多自給自足，只求溫飽；但現代農家多專業地種植少樣作物，產品則轉為以供應市場需求為導向，以賺取利潤。此種轉變屬於下列何種現象？ (A)精緻化 (B)多元化 (C)單一化 (D)商品化。
10. (A)近年來，臺灣對外出口的農產品在海外市場上遇到了來自中國的農產品競爭，我們盛產的水果雖然品質較佳，卻因為價格較高，所以不敵中國生產的水果。請問：臺灣農業生產成本較高的原因和下列哪一項的關係最為密切？ (A)耕地面積狹小 (B)氣候過於溼熱 (C)土壤較為貧瘠 (D)對外交通不便。
11. (C)臺灣素有「水果王國」之稱，各種水果不僅品質佳，還可加工為各種食品，成為當地特有的伴手禮。請問：臺灣水果種類豐富多元的主要因素為何？ (A)季風氣候，乾溼分明 (B)交通革新，運輸便利 (C)位處低緯，地形高低落差大 (D)夏雨冬乾，日照充足。
12. (D)位於彰化西螺果菜市場是目前全國最大的產地蔬果交易中心，中部的農家紛紛將生產的作物運送到此地買賣。各地的果菜商在此地交易後，再運送至各大都市。請問：目前各作物產區多朝向專業化發展，和下列何者關係最大？ (A)氣候變遷 (B)灌溉系統 (C)農田轉作 (D)交通便捷。
13. (D)近來的臺灣股市中，屬於傳統產業的石化及鋼鐵工業，表現都相當亮眼，成為投資人眼中的績優股。請問：上述這些產業的生產重鎮大多位於下列何處？ (A)臺北 (B)新竹 (C)臺南 (D)高雄。
14. (B)臺灣的輕工業比重逐年下降，主要原因是工業發展的哪一項優勢已逐漸消失？ (A)充足的動力 (B)廉價的勞工 (C)豐富的原料 (D)廣大的市場。
15. (D)臺灣早期工業以輕工業為主，揭開了臺灣經濟發展的序幕，而這些早期工業活動多具有哪一種特色？ (A)技術密集 (B)資本密集 (C)能源密集 (D)勞力密集。
16. (C)為了降低生產成本，以提高產品競爭力，麵包工廠的設置區位條件應先考慮下列哪一個因素？ (A)原料產地 (B)技術設備 (C)接近市場 (D)政府政策。
17. (A)為了創新技術研發，以提高產品競爭力，電腦工廠設置的區位條件應先考慮下列哪一個因素？ (A)勞工素質 (B)原料產地 (C)接近市場 (D)土地供應。
18. (B)成立於民國 76 年的台積電為全國知名電子工廠，總部位於新竹科學園區，是世界最大的晶圓代工廠。請問：當初台積電選擇在新竹科學園區設廠的主要原因為何？ (A)航空運輸便利 (B)政策利於投資 (C)生產原料豐富 (D)勞工工資低廉。
19. (B)製糖業因為生產所需的原料（甘蔗）相當重，所以一般都設在蔗田附近。根據上述判斷，臺灣的製糖廠大多分布在什麼地區？ (A)中部臺地區 (B)南部平原區 (C)東部沿海區 (D)北部丘陵區。
20. (A)下列哪一種工業最容易因為工人薪資大幅提高而喪失競爭力？ (A)紡織 (B)石化 (C)鋼鐵 (D)水泥。
21. (C)(甲)成衣業(乙)造船業(丙)鋼鐵業(丁)奈米科技(戊)石化業(己)紡織業。以上哪些產業是臺灣在民國 60 年代推動的主要工業？ (A)甲乙丙 (B)乙丙丁 (C)乙丙戊 (D)丁戊己。
22. (B)目前臺灣的國際貿易當中，以下列哪一地區所占的貿易出口值最多，成為主要的外匯來源？ (A)美國 (B)中國 (C)日本 (D)南韓。
23. (B)下表是某年度漢堡國與甲、乙、丙、丁四國進出口貿易值資料。請問：該年漢堡國對哪一國家的「出超」最大？ (A)甲 (B)乙 (C)丙 (D)丁。

國家 貿易值	甲	乙	丙	丁
進口總值（億美元）	285	103	34	82
出口總值（億美元）	141	278	58	66

24. (A)臺灣產業活動變遷過程中，發展條件不斷轉換。根據今日的現況判斷，未來積極發展的方向應為下列何者？ (A)自創品牌 (B)增加勞工 (C)發展重工業 (D)代工組裝。
25. (D)經濟部的國貿局舉辦臺灣貿易特展，將各時期主要的出口產品展出，反映我國的經濟成長之路。請問：下列的展出商品中，何者的發展時間最早？



鼓山高中國中部109學年度第一學期七年級社會科(公民)第二次月考解答				
作答:■劃記答案卡 科目代號:08	範圍: 第三課~第四課	試卷頁數: 共2頁	(一)	____年____班 座號:____ 姓名:____

26. D	27. A	28. C	29. C	30. B	31. A	32. B	33. B	34. D	35. A
36. D	37. C	38. D	39. D	40. B	41. B	42. C	43. B	44. B	45. D
46. D	47. B	48. C	49. A	50. A					

鼓山高中國中部109學年度第一學期八年級社會科(公民)第二次月考解答				
作答:■劃記答案卡 科目代號:08	範圍: 第三課全 第五課5-1、5-2	試卷頁數: 共2頁	(二)	____年____班 座號:____ 姓名:____

26. A	27. B	28. C	29. D	30. C	31. B	32. C	33. D	34. C	35. C
36. D	37. C	38. B	39. D	40. D	41. D	42. B	43. C	44. C	45. C
46. B	47. A	48. A	49. D	50. B					

鼓山高中國中部109學年度第一學期九年級社會科(公民)第二次月考解答				
作答:■劃記答案卡 科目代號:08	範圍: 會考範圍 第一冊第一課~的六冊第三課	試卷頁數: 共2頁	(三)	____年____班 座號:____ 姓名:____

26. D	27. B	28. D	29. A	30. B	31. A	32. B	33. D	34. C	35. C
36. A	37. B	38. C	39. D	40. C	41. A	42. A	43. D	44. C	45. B
46. A	47. D	48. B	49. C	50. A					

高雄市立鼓山高中 109 學年度第二學期第二次段考《國》歷史科試題卷

考試範圍：第 4 冊第 3.4 課 p. 94-112

電腦讀卡代碼：08

二年 班 號 姓名

答案欄

選擇題：每題 4 分，共 100 分

51	B	52	C	53	B	54	D	55	D	56	A	57	C	58	B	59	C	60	D
61	C	62	A	63	D	64	B	65	A	66	C	67	D	68	B	69	A	70	B
71	D	72	A	73	A	74	D	75	C										

高雄市立鼓山高中 109 學年度第二學期第二次段考《國三》社會

領域歷史答案

一、選擇：(每題 4 分，共 100 分)：

51.A 52.B 53.D 54.A 55.C
56.A 57.D 58.A 59.D 60.B
61.B 62.C 63.B 64.C 65.A
66.D 67.A 68.B 69.D 70.C
71.C 72.C 73.C 74.C 75.B

51-55 DCCDA
56-60 ABAAD
61-65 BBBBA
66-70 CDBCB
71-75 AADCD

《國一》歷史科答案

109 學年度第二學期第二次段考

高雄市立鼓山高中 109 學年度第二學期第二次段考《國一》數學科作答卷

1 年 班 號 姓名

考試範圍：3-1 至 4-2

一、 單選題：每題 3 分

1	2	3	4	5	6	7	8
D	B	A	B	D	B	D	D

二、 填充題：每格 4 分					(E)
(A)	(B)	(C)	(D)		
2	4	-1	4	8	
(F)	(G)	(H)	(I)	(J)	
4	9	-7	$y = -12x$	$yz = 12$	
(K)	(L)	(M)	(N)	(O)	
12:19	69:56	$5x-2=(-2)(2y+9)$	$32/5$	4:9	
(P)	(Q)	(R)	(S)		
16	22.5	15	5		

鼓山高中 109 學年度第二學期第二次段考《國三》數學科解答

題號:1~5 6~10 11~15 16~20 21~26
 答案: CDCDA BBBBA BADBB CBDAA CDBCBC

高雄市立鼓山高中 109 學年度第二學期第二次段考《國二》數學科作答卷

年 班 號 姓名

考試範圍：第四冊 3-1~3-3

一、單選題：(每題 4 分，共 40 分)

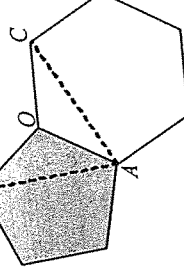
1	2	3	4	5	6	7	8	9	10
B	A	D	A	C	B	D	C	A	B

二、填充題：(每格 4 分，共 40 分)

(1)	(2)	(3)	(4)	(5)
125°	65°	65	20	14
(6)	(7)	(8)	(9)	(10)
		SSS	35	120
120°	10			

三、計算題：(共 20 分，需有說明或計算過程)

1. 嘌呤是構成人體基因的重要物質，它的化學結構式主要是由一個正五邊形與一個正六邊形構成



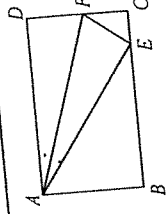
(2) $\angle BAC$ 的度數 (2 分)

$$(1) \angle BAO = 76^\circ$$

$$(2) \angle BAC = 66^\circ$$

2. 有一個 n 邊形，若它的 n 個內角的度數由小而大排列成等差數列，其中最小內角為 125° ，最大內角為 175° ，則 $n = ?$ (4 分)

$$n = 12$$



3. 如圖，長方形 $ABCD$ 中， E 點在 \overline{BC} 上， $\angle DAE$ 的角平分線交 \overline{CD} 於 F 點，已知 $\overline{AB} = 8$ 公分，

$\overline{AD} = 17$ 公分， $\angle AEF = 90^\circ$ ，

(1) 說明 $\triangle ADF$ 與 $\triangle AEF$ 全等。(每格 1 分，共 4 分)

(2) 求 \overline{AE} 的長。(2 分)

(2) 求 \overline{AE} 的長。

(1) 【說明】

在 $\triangle ADF$ 與 $\triangle AEF$ 中

$$\therefore \angle DAF = \angle EAF \quad (\overline{AF} \text{ 為 } \angle DAE \text{ 的角平分線})$$

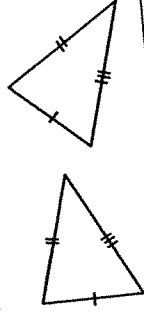
$$\angle ADF = \angle AEF = 90^\circ \quad (\text{已知})$$

$$\frac{\overline{AD}}{\overline{AF}} = \frac{\overline{AE}}{\overline{AF}} \quad (\text{理由：共用邊})$$

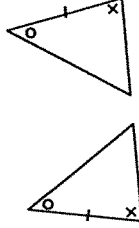
$$\therefore \triangle ADF \cong \triangle AEF \quad (\text{ASA 全等性質})$$

4. 下列各組圖形中，有一些線段或角有標示符號，相同的符號表示長度或角度相等。對照每一組全等的圖形，填入適合的全等性質。(每格 2 分，共 6 分)

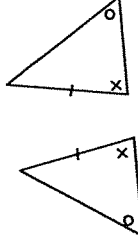
(1) SSS 全等性質



(2) ASA 全等性質



(3) AAS 全等性質



一、根據圖片內容，寫出食物及其數量：8%（每題 2 分）

1. two cups of tea	2. a/one bottle of water
3. three cans of coffee	4. two bags of cookies

二、文意字彙：12%（每題 2 分）

1. dark	2. borrow	3. street	4. hamburger	5. relatives	6. fire
---------	-----------	-----------	--------------	--------------	---------

三、No.1~5 填入 a 或 some；No.6~No.9 填入 one 或 ones：14%（每格 1 分）

1.a	2.some	3.(1) a	(2) some	4.(1) some	(2) some	5. some
6.(1) one	(2) one	7.ones	8.ones	9.(1) one	(2) one	(3) one

四、看圖寫出問句或答句：10%（每題 2 分）

1. They are three hundred fifty dollars.
2. How much are the sandwiches?
3. We need two boxes of chocolate.
4. How much sugar do we need?
5. We need four eggs.

五、依提示字順序造問句：6%（每題 2 分）

1. Which do you want for lunch, sandwiches or hamburgers?
2. Which sport does he play, baseball or basketball?
3. Which color does she like, green or purple?

六、選出正確的答案：10%（每題 2 分）

1	2	3	4	5
D	B	A	C	B

七、文法選擇：10 %（每題 2 分）

1	2	3	4	5
D	D	D	C	C

八、克漏字選擇：10%（每題 2 分）

1	2	3	4	5
A	D	C	A	B

九、閱讀測驗：20%（每題 2 分）

1	2	3	4	5	6	7	8	9	10
C	D	A	A	B	B	C	D	A	B

一、 下列各題，依文意選出正確的答案 (1-29 每題 2 分)

ADBBC

AABCD

BDACC

DABCC

ACBDB

ABDA

二、下列題組，依據所附選文，選出一個正確之答案(30-43 每題 3 分)

CBACB

BCA

CAD

CBC

範圍：英語 B4 L3~Review 4（課本＋習作） 二年 班 號 姓名

一、單字、字彙、語法 30 %（每題 2 分）

1	2	3	4	5
mask	classmates	lucky	supermarket	sugar
6	7	8	9	10
C	D	D	C	A
11	12	13	14	15
A	C	B	C	B

得 分

二、依提示填入適當的答案。10%（每格 1 分）

1	2	3	4	5
easy	easily	careful	carefully	well
6	7	8	9	10
good	fast	fast	the most beautifully	well

三、依提示作答：6 %（每題 3 分）

1. What does Mom make Tim do every day?
2. What did Sam buy Bell?

四、翻譯：20 %

1. I am Tina
2.
3.
4.
5.
6.
7.

五、選擇：34% (克漏字、閱讀測驗)

1	2	3	4	5	6	7	8	9	10
A	B	C	C	D	A	C	D	A	D
11	12	13	14	15	16	17			
D	C	D	A	D	C	B			

1	D	2	D	3	D	4	C	5	C	6	A	7	B	8	D	9	A	10	C
11	D	12	B	13	D	14	D	15	A	16	D	17	B	18	C	19	C	20	B
21	A	22	D	23	B	24	D	25	A	26	A	27	D	28	A	29	A	30	A
31	C	32	B	33	B	34	B	35	B	36	C	37	A	38	B	39	C	40	A
41	C	42	A	43	C	44	A	45	C	46	C	47	B	48	A	49	C	50	B

高雄市立鼓山高中109學年度第二學期第二次段考《國二》國文答案卷

一、選擇題：(每題2分，共50分)

1	2	3	4	5	6	7	8	9	10
C	A	D	B	D	D	B	C	C	A
11	12	13	14	15	16	17	18	19	20
D	B	B	D	A	C	B	A	C	D
21	22	23	24	25					
A	C	B	A	C					

二、閱讀題組：(每題1分，共10分)

26	27	28	29	30	31	32	33	34	35
D	B	A	B	D	A	C	D	C	A

三、國字注音：(每字1分，共15分)

1. 「可」汗：ㄎㄜˊˋ	2. 流水「濺」濺：ㄌㄧˊㄠ	3. 舊時「裳」：ㄕㄨˊˊ
4. 震「懾」：ㄕㄜˊˊ	5. 擲「掄」：ㄌㄩㄣˊ	6. 「綸」巾：ㄨㄥˊ
7. 「滂」沱：ㄆㄨˊ	8. 向地面「ㄌㄧˊㄙㄜˊ」來：攪	9. 「ㄌㄨˋ」虐：肆
10. 高潮「ㄉㄨˊㄙㄜˊ」起：迭	11. 閃電「ㄕㄨˊˊ」身：纏	12. 一「ㄕㄨˊˊ」戲劇：齣
13. 「ㄌㄧˊㄌㄨˊ」旗：旌	14. 笑容可「ㄌㄧˊㄌㄨˊ」：掬	15. 司馬「ㄕㄨˊˊ」：懿

四、解釋：(1-8，每題2分，9-12 每題1分，共20分)

1. 咫尺：形容距離很近	2. 蟄伏：動物藏伏在土中不食不動。這裡指隱藏在心中
3. 行潦川流：形容路面的積水像河水一般地流動	4. 駭然：驚恐的樣子
5. 氣脫委頓：失神無力、疲乏困頓的樣子	6. 撫掌：拍手
7. 偃旗息鼓：軍隊收起旌旗，停敲戰鼓。後比喻事情中止，不再進行	8. 氣勢萬鈞：形容氣勢雄偉壯盛
9. 「傍」地走：靠近	10. 扶「將」：扶持
11. 願為「市」鞍馬：購買	12. 言「訖」：完結、終了

五、默寫：(每格1分，共5分)

1. 東市買駿馬，(西市買鞍韉)，南市買轡頭，北市買長鞭。
2. 旦辭黃河去，暮至黑山頭，不聞爺娘喚女聲，(但聞燕山胡騎聲啾啾)。
3. 萬里赴戎機，關山度若飛。(朔氣傳金柝)，寒光照鐵衣。
4. 脫我戰時袍，著我舊時裳。(當窗理雲鬢)，對鏡貼花黃。
5. (雄兔腳撲朔)，雌兔眼迷離。兩兔傍地走，安能辨我是雄雌？

年 班 座號 姓名：

英語第二次段考
國二 吳 呀

一、辨識句意-根據聽到的內容，選出正確的圖片代碼：

1. 答案：A

解析：The baby is crying loudly in the bedroom.

2. 答案：B

解析：Simon is catching fish with a giant net.

3. 答案：A

解析：The man crossed the street slowly and carefully.

4. 答案：B

解析：The girl lost a button from her sweater yesterday. She really needs it now.

5. 答案：A

解析：Some rocks are blocking the road, so the car can't go through it.

6. 答案：A

解析：The man wrote a letter to the woman.

7. 答案：A

解析：The waiter gave the woman the menu.

8. 答案：C

解析：Josephine put a slice of lemon in her tea.

9. 答案：A

解析：Steven helped his grandma cut the papaya.

10. 答案：C

解析：Mom asked Ben to buy two glasses for her.

二、基本問答-根據聽到的內容，選出合適的回應：

11. 答案：A

解析：How is Cindy doing on her new team?

12. 答案：B

解析：Are you guys classmates?

13. 答案：A

解析：Wait, Linda. You're walking too fast.

14. 答案：A

解析：A man passed by and saved the kid from the river.

15. 答案：C

解析：You can just leave your money on the table. I'll take it later.

16. 答案：A

解析：Do you speak English?

17. 答案：C

解析：I bought some flowers for you.

18. 答案：B

解析：What did you send to Tina yesterday?

19. 答案：C

解析：How would you like your drink?

20. 答案：C

解析：Elliot is a popular singer in America.

三、言談理解-根據聽到的對話內容與問題，選出正確的答案：

21. 答案：A

解析：G: Nick, who were you just talking to?

B: My neighbor, Mr. Wang.

G: Why were you talking to him so loudly?

B: He is old, so he can't hear very well.

G: I see.

Q: How did Nick talk to Mr. Wang?

22. 答案：C

解析：W: Hey, Johnny. Eat more slowly.

M: Sorry. I'm just too hungry.

W: Are you OK? Didn't you have your lunch today?

M: No. It's my first meal of the day.

Q: How is the man eating?

1	B	11	B	21	C
2	A	12	C	22	B
3	C	13	B	23	A
4	C	14	A	24	C
5	B	15	A	25	B
6	C	16	C		
7	B	17	B		
8	C	18	B		
9	B	19	C		
10	C	20	C		

高雄市立鼓山高中 109 學年度第二學期第二次段考《國一》英語科聽力解答卷

23. 答案：B

解析：W: Hank. Do you have any plans for the weekend?

M: Yes, I want to stay home this weekend.

W: Come on! We can go out and have some fun.

M: I'm sorry. After working so hard for five days, I just want to sit comfortably on my couch and enjoy some movies during the weekend.

Q: What is the man's plan for the weekend?

24. 答案：C

解析：W: Hello. How can I help you?

M: Hi. I need a ticket to Taipei tomorrow. When is the first train?

W: The earliest train is at 6:45 a.m. and it will arrive in Taipei at 8:00 a.m.

M: 6:45 a.m. is a little too early. What about the next train?

W: Hmm ... the next train to Taipei is at 7:15 a.m. That's thirty minutes later than the first one.

M: That's good. I'll get the ticket for that train.

Q: What time is the man's train to Taipei?

25. 答案：C

解析：B: Hi, Jessica. Are you OK?

G: Hi, Jacob.... No. I am not so good.

B: What's wrong?

G: I didn't do well on my English test yesterday. I did even worse than the last time.

B: Don't worry. Teacher Nathan wants to help us with our English problems. We can ask him any questions in his classroom from 4 p.m. to 6 p.m. every day. Maybe you should join us. It's free!

G: Really? That's great! Thank you.

Q: What do we know about the girl?

26. 答案：B

解析：G: Is that a new bike, Michael?

B: You bet. It's a birthday gift from my uncle.

G: Did you ask him to buy a new bike for you?

B: No, I didn't. I just showed my old bike to him, and he gave me this one on my birthday.

Q: What did Michael show to his uncle?

27. 答案：C

解析：G: I feel so tired now. I can't even move a finger.

B: What did you do today, Helen?

G: In the morning, my mom made me water the flowers and walk the dog. In the afternoon, my dad had me help him wash the car. In the evening, my grandparents asked me to jog with them.

B: You were really busy today!

Q: What happened to Helen?

28. 答案：B

解析：M: Hi, Tina. Are you still in the US? Can you help me buy a pair of shoes?

W: Sorry, Mike. I am not in the US now. I am in Japan. Maybe you can ask Nancy to help you. She is still there.

M: Really? That's great! I will ask her for help. Thank you.

W: No problem.

Q: Which is true?

29. 答案：A

解析：B: Welcome back, Mom!

W: Thanks. Here's something for you.

B: What's this?

W: It's a box of fresh mangoes. I went to the supermarket on my trip to Tainan. They were cheaper than they were last month. So, I bought them.

B: Wow! Mango is my favorite fruit! They look so delicious. Thanks, Mom.

Q: What do we know about the boy?

30. 答案：C

解析：M: Are you going home, Rena?

W: Yes. I'm happy to go home on time. My son asked me to make beef noodles for him. What about you, Zack? Are you leaving?

M: No. Mr. Frances asked me to finish all my work today. I probably have to work late.

W: Maybe you can ask John to buy you some food. He also has to work late.

M: That's a good idea! I'll ask him to buy me a sandwich and a guava.

Q: What may John help Zack do?

高雄市立鼓山高中 109 學年度第一學期第二次段考

《國二》健教科答案卷

1	C	11	A	21	D	31	B	41	D
2	A	12	D	22	C	32	C	42	D
3	C	13	C	23	B	33	D	43	C
4	A	14	B	24	D	34	D	44	B
5	B	15	C	25	A	35	D	45	B
6	D	16	A	26	A	36	D	46	C
7	B	17	D	27	A	37	C	47	B
8	C	18	B	28	B	38	A	48	A
9	A	19	D	29	D	39	C	49	A
10	D	20	D	30	D	40	D	50	C

高雄市立鼓山高中 109 學年度第二學期第二次段考

《國一》健教科答案卷

1	A	11	A	21	C	31	D	41	A
2	B	12	B	22	D	32	A	42	D
3	B	13	A	23	D	33	C	43	D
4	B	14	B	24	C	34	A	44	D
5	A	15	A	25	C	35	A	45	C
6	C	16	B	26	C	36	A	46	A
7	B	17	A	27	B	37	C	47	B
8	B	18	D	28	D	38	A	48	C
9	C	19	C	29	A	39	A	49	B
10	B	20	B	30	A	40	B	50	B