

高雄市立鼓山高中 110 學年度第一學期第二次段考《高一》公民科試題卷

考試範圍：第一冊 L3-L4 電腦讀卡代碼：18 適用班級 401-407

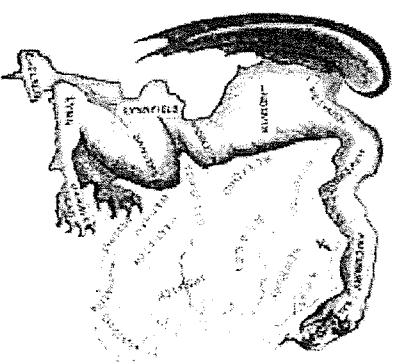
年 班 號 姓名

劃卡說明：請書寫班級姓名座號，並務必劃記座號。答案卡劃記不當，導致無法順利閱卷者，一律扣除本次測驗總分 5 分

一、單選題 (1-50 題，每題 2 分，共 100 分)

- () 1. 不同類型的媒體若要進行合併，經常引發社會各界正、反面意見的辯論。從媒體識讀的角度來看，下列主張何者正確？
(A) 如果併購導致只有一、二家媒體獨大之結果，最終將有助民主政治的效率
(B) 如果併購會造成媒體市場的集中，可能會帶來言論自由空間被限制的疑慮
(C) 媒體經營者若能同時經營電子與平面媒體，更可保障閱聽人的媒體近用權
(D) 單一媒體的市占率一定要能達到獲利規模，才可能確保弱勢群體發聲管道
- () 2. 一則外電報導：「日前一名伊斯蘭教男子忿忿不平，持槍掃射造成嚴重傷亡。」若以媒體識讀的角度分析，則下列何者最能適當解讀這項報導？ (A) 伊斯蘭崇尚武力與報復 (B) 穆斯林心理狀態多不穩定 (C) 槍枝取得容易，造成暴力頻傳 (D) 媒體再現造成對特定群體的污名化
- () 3. 「媒體識讀」是指閱聽人不僅能理解媒體傳播的訊息與其形成過程，還擁有主動辨識、解讀、分析與批判資訊內容的能力，是現代公民參與公共事務不可缺少的素養。下列何人的看法較能彰顯出媒體識讀精神？
(A) 阿澤：狗仔隊跟拍名人或影星是因為大眾有知的權利，因此屬於媒體的必要作為
(B) 零九：政論節目常邀請用詞辛辣情緒激昂發言的名嘴，可能為了刺激收視率
(C) 偉晉：在野黨立委質詢政府部門亂花錢蓋蚊子館，是善盡社會守門人的工作
(D) 小賴：要解決媒體亂象，全部交給國家通訊傳播委員 (NCC) 進行處理就行
- () 4. 甲報社報導：「策劃重大恐怖事件的中東恐怖組織領袖遭美國情報人員擊斃，對美國威望的提升以及未來全球戰略均有重大意義……」；乙報社報導：「恐怖攻擊事件發生時，美國曾譴責中東國家是暴力分子，現在自己卻以暗殺的恐怖手段結束這位英雄的生命，令人遺憾……」。針對上述報導，下列何者是兩家報社對此事件做出迥異報導的最主要原因？
(A) 各家報社本就有其不同的立場 (B) 為擴大自家報社的市場占有率
(C) 為追求輿論的平衡而刻意不同 (D) 所有報導向來都無法呈現真相
- () 5. 臺灣外籍移工數持續成長，以來自印尼人數最多。假日常有眾多印尼移工在臺北車站大廳聚會以慰鄉思，對此，許多主流媒體製作「社會亂象專題報導」，引用民眾抱怨移工坐在地上不雅，且聚會影響交通動線，主張政府應明令禁止。不過，也有一些鎖定特定閱聽眾的小眾媒體，在報導中介紹席地而坐屬印尼文化，討論臺鐵可如何透過規劃，兼顧民眾聚會與車站動線暢通，更建議公共建築應在適當場所設置宗教設施以滿足移工信仰需求。對比媒體的不同角度，學者指出，我國移工人數持續成長，成為勞動力重要來源，但許多民眾對移工陌生，且對保障移工權益常採保留態度，此輿論趨向應與媒體報導有關。依據題文，下列何者最可能切合該學者對於移工相關媒體報導的評論？
(A) 多數媒體對移工有偏見，報導時僅強化自身立場未納人民眾意見
(B) 現今媒體大多抱持我族中心主義，故鮮少針對移工議題進行報導
(C) 僅少數媒體能夠透過報導引領國民理解移工文化與所需生活資源
(D) 僅有小眾媒體發揮監督作用，因此無法緩和移工帶來的社會衝擊
- () 6. 大法官釋字 364 號文中提到，『以廣播及電視方式表達意見，屬於《憲法》第十一條所保障言論自由之範圍。為保障此項自由，國家應對電波頻率之使用為公平合理之分配，對於人民平等「接近使用傳播媒體」之權利，亦應在兼顧傳播媒體編輯自由原則下，予以尊重，並均應以法律定之。』關於「媒體近用權」的概念，以下敘述何者正確？
(A) 上述解釋文，強調主管機關應以公平合理的原則來分配廣播電視的資源
(B) 為避免傳播管道遭特定人或團體掌控，於是產生「置人性行銷」相關概念
(C) 「接近使用傳播媒體」之權利，是希望媒體能發布最新、最快、最正確的消息給人民
(D) 「媒體近用權」中的「使用權」是指民眾以被動、間接、有限度的方式改變媒體內容
- () 7. 日前一名資深記者辭職後，在部落格發表辭職的緣由，是為了抗議「業配新聞」過高；他在部落格寫下「……於是，記者變成廣告業務員，公關公司與廣告主變成新聞撰稿人，政府與大企業的手，直接伸進編輯台指定內容，這是一場狂歡敗德的假面舞會；花錢買報紙的讀者，卻不知道自己買了一份超商 DM 與政府文宣。」請問該名記者對新聞媒體環境的感歎，下列何項敘述正確？ (A) 假新聞真廣告，新聞專業淪淪喪 (B) 媒體近用權分配不公，獨厚企業與政府 (C) 媒體維護特定政黨立場，犧牲國家利益 (D) 媒體報導只求獨家，忽略事件真相。

- () 8. 學生與公民團體在 2014 年，為了反對黑箱服貿協議，串聯發起佔領立法院行動，引爆震驚海內外的 318「太陽花學運」，學運領導者林飛帆、陳為廷、黃國昌等廿二人，事後被台北地檢署依煽惑他人犯罪、妨害公務、違反集會遊行法等罪嫌起訴，2017 年台北地院審理認定眾人進入立法院並非「無故」，而是有「行使公民不服從」的正當理由，昨判決廿二人全部無罪。關於行使「公民不服從」以下敘述何者正確？ (甲)它是以拒絕合作的方式面對壓迫者 (乙)它是屬於和平、非暴力的抗議行動 (丙)它是以公開合法的方式挑戰不合理的規制 (丁)它是以道德良知的力量對抗執政者的強權 (A)甲乙丙 (B)乙丙丁 (C)甲乙丁 (D)甲丙丁
- () 9. 「學習強國」APP 是由中共中央宣傳部推出，集新聞資訊、即時通訊和社群網路等功能於一體，並將習近平的講話內容和「習思想」作為主要內容的學習平臺，於 2019 年 1 月 1 日上線。8 月中共更公布新規定，將透過「學習強國」APP，對全國新聞編採人員展開在線崗位培訓考試，記者必須通過包括「習思想」等內容的考試，才能申領新版記者證。依據上述，請判斷下列何者正確？ (A)能通過習思想考試的記者，就可以享有新聞自由的保障 (B)「學習強國」APP 裡面的內容，是習思想的置人性行銷 (C)記者的報導不能違背習思想，使媒體喪失第四權的功能 (D)記者通過考試才能申領新版記者證，這是媒體自律的表現。
- () 10. 所謂「置人性行銷」是媒體製作者將對自身或付費的委託者有利的特定訊息，包裝成新聞或節目流程的一部分。關於「置人性行銷」，以下敘述何者正確？
 (A)置人性行銷其實對觀眾有好處，因為觀眾可以很輕鬆地得到重要的生活資訊
 (B)「公民新聞」雖然經常報導主流媒體不感興趣的議題，但也屬於置人性行銷
 (C)執政者進行施政績效的置人性行銷，將降低民眾對政府績效的獨立判斷能力
 (D)因為閱聽大眾仍然可以自由選擇是否接受，故對置人性行銷的作為不必限制
- () 11. 2018 年臺灣地方選舉選戰白熱化，某市市長候選人小柯被對手陣營指控涉嫌透過醫療器材協助活摘器官一事被媒體大肆報導，政治名嘴更是加碼指控，請問對於媒體的報導，下列說明何者正確？ (A)小柯可行使媒體近用權中的使用權，要求媒體澄清不時報導 (B)候選人是公眾人物，媒體本來就可以自由報導各種議題 (C)依據媒體近用權中的接近權，當事人有權提出「答辯」或「更正」 (D)媒體不經查證濫用新聞自由，應由行政院內政部開罰。
- () 12. 「民主治理」是由「民主」與「治理」所結合的新觀念，主張透過「公私協力」的方式，讓公共事務的處理更有效率、更能回應人民需求。關於民主治理的敘述，下列何者正確？ (A)為因應工業革命的快速變遷而興起 (B)提倡以民主統治取代現有民主治理 (C)決策過程應由上而下回應人民需求 (D)主張政府及民間共同解決社會問題。
- () 13. 社會運動是指一群具有共同意識與理念者，透過一些方式，有計畫地改造或維持社會體系的有組織的團體行動。下列何者情形可歸類於社會運動？ (A)某宗教團體所發起的新年祈福活動 (B)咖啡連鎖店響應減塑政策，採用環保吸管 (C)某民眾不滿路平遲遲未有改善，在市政府前舉牌靜坐 (D)原住民族的遷我土地運動。
- () 14. 按照我國目前立法委員選舉制度，可區分為：區域立委席次的 X 制、原住民立委的 Y 制，和不分區立委的 Z 制。請問下列關於 X、Y、Z 制的敘述，何者正確？
 (A) X 制為複數選區相對多數決制，無代表性不足的問題 (B)我國總統選舉採用 X 制，又稱為贏者全拿制度
 (C) Y 制為單一選區相對多數決制，縣議員選舉採用此制 (D) Z 制為政黨比例代表制，比較有利於大黨候選人
- () 15. 美國麻薩諸塞州州長傑利 (Gerry) 在 1812 年，該州國會議員選舉中重新劃分選區，將對方陣營的鐵票選區劃得四分五裂，使其所屬的共和黨獲得較多當選席次，各選區在形狀上於是變得離奇突兀(像隻蠓蠓(salamander))，如右圖所示。於是有人將州長名字與蠓蠓合組成一個新字—「Gerrymander」。其後人們對此類為求政黨利益而導致選區劃分不公的現象，皆稱之為「Gerrymander」。請問，「傑利蠓蠓」的現象，最有可能出現在下列哪一種選舉制度？
 (A)混合投票制之並立制 (B)單一選區相對多數制
 (C)複數選區相對多數決 (D)政黨名單比例代表制
- () 16. 「公民不服從」最早可追溯到亨利·梭羅，當時因反對美國奴隸政策以及政府發動軍事行動而反對交稅給政府。請問公民不服從真正目的為何？ (A)為使政府改變政策，不擇手段甚至犧牲生命 (B)表達對執政者的不滿，達成政權輪替的目標 (C)基於個人私利，修正妨害自身權益的法律 (D)公民基於良知，促使政府改變不正義的政策。
- () 17. 希望國國會選舉制度採用混合制的並立制，共有 300 名國會議員，其中 150 名為單一選區相對多數決產生，剩下由不分區政黨名單產生。請問希望國國會選舉總共要印製幾種樣式的選票？ (A) 2 種 (B) 150 種 (C) 151 種 (D) 300 種



- () 18. 某國舉行國會議員選舉，議員名額一共 200 席，其中半數由區域選出。假設 A 黨在區域代表中當選 55 席，在比例代表中政黨得票比例為 25% (如右表所示)。請問：A 黨此次選舉中所得總席次依「並立制」及「聯立制」計算結果各為多少席？
- (A) 皆為 80 席 (B) 皆為 50 席 (C) 80 席、50 席 (D) 80 席、55 席。

A 黨	區域席次	政黨得票率
	55 席	25 %

表 1

政黨別	近三屆席次		
	2012	2016	2020
中國國民黨	64	35	38
民主進步黨	40	68	61
親民黨	3	3	0
臺灣團結聯盟	3	0	0
無黨團結聯盟	2	1	0
時代力量		5	3
臺灣民眾黨			5
臺灣基進	0	0	1

- () 19. 瑄瑄想探究我國立法委員選舉制度對小黨參與立法院運作的影響，整理出表 1 的政黨席次統計。瑄瑄也蒐集立法院組織運作相關法規，發現立委當選席次達三席且席次較多之五個政黨，才能成立黨團，參與黨團協商。根據立委選舉制度及蒐集到的資料，瑄瑄作出哪項推論最合理？
- (A) 區域立委選舉採相對多數決制，使小黨能成立黨團並制衡大黨
 (B) 不分區立委分配門檻過低，使小黨取得席次而不利於黨團協商
 (C) 政黨比例名單和區域名單並立，使小黨無法組成黨團參與協商
 (D) 區域立委選舉採單一選區制，使小黨不易勝選且較難組成黨團
- () 20. 民主治理有一項重要的核心概念為課責 (accountability)。概念包含政府應扮演具強制力的負責機構，以及政府需對本身行為或政策，

主動向人民提出解釋、說明與回覆。根據上述課責的敘述，下列何者正確？ (A) 總統上任後為實現競選諾言，要求教育部開始逐步推動教育改革 (B) 教育部研擬新課綱，交由地方教育局與各級學校協助宣傳、執行 (C) 各縣市教育局推廣政策時，聆聽各方家長意見，並作解釋與說明 (D) 各級公立學校確實執行教育局的政策，開始與他校進行校際合作。

- () 21. 柏宇跟媽媽看到電視節目正討論社會運動的歷史，因此有以下對話：

柏宇：社會運動是什麼？

媽媽：一群人組織在一起行動啊。

柏宇：所以我們全校早上一起升旗是社會運動嗎？

媽媽：不是，社會運動還要追求某種理想或改革。

柏宇：那政府現在招募志工隊清理海灘垃圾，實現乾淨海洋的理想就是囉？

媽媽：_____。

如果媽媽正確瞭解社會運動的意義，空格中的對話內容應為下列何者？ (A) 是的，環保志工隊是台灣近年來重要社會運動的代表 (B) 不是，組織鬆散的志工隊不同於組織緊密的社會運動 (C) 是的，志工隊強調志願行動正是社會運動的重要特色 (D) 不是，政府招募的志工隊不屬於由下而上的社會運動

- () 22. 小明為了做公民課報告，找到《國發會 108 年個人家戶數位機會調查報告》中的表格如下。根據下表，小明最可能進行何種推論？

指標	12-14 歲	15-19 歲	20-29 歲	30-39 歲	40-49 歲	50-59 歲	60-64 歲	65 歲以上	整體
上網率 (%)	100.0	99.2	99.7	99.0	97.7	89.3	74.6	43.5	86.2
手機使用率 (%)	97.7	97.9	99.2	99.3	97.9	94.7	89.9	63.2	91.3
無線或行動上網率 (%)	93.4	98.2	99.2	98.6	96.9	86.9	70.7	39.7	84.4
個人上網設備擁有情形 (項)	2.88	3.11	3.55	3.74	3.71	3.28	3.08	2.84	3.43

*註 1：粗字部分表示低於整體平均值

(A) 年輕人與中年人擁有較多上網設備，顯示其經濟條件較老年人好 (B) 60 歲以上的長者在各項指標都低於平均，其媒體近用權未受保障 (C) 從表中可得知我國依照年齡而呈現數位落差之不平等的現象 (D) 12~29 歲的年輕人在上網率高，可見各區域的上網率逐年上升。

- () 23. 依據我國《公民投票法》規定，人民可針對「法律」、「立法原則」或「重大政策」進行公投，且全國性公投的進行方式有人民提案、立法院提案、行政院提案、總統交付。請問，關於我國公民投票案以下敘述何者正確？
- (A) 針對預算、薪資、租稅、人事等事項是不能提起公投 (B) 總統可以針對一般民生教育等重大政策提出公提案
 (C) 年滿 16 歲以上國民且居住滿 6 個月具有公投基本資格 (D) 公投通過門檻為有效同意票達投票權總數 1/2 以上

- () 24. 舒亞為了完成「公民與社會」課程關於「媒體識讀與現代公民素養」的報告，在圖書館查到了下面四篇文章。根據篇名判斷，哪篇文章最切合該報告之主題？ (A) 電視媒體所形塑之新移民女性形象探討 (B) 善用媒體以提升教學成效之研究 (C) 2018 年收視率排行榜調查之結果分析 (D) 高中生媒體閱聽喜好之調查研究
- () 25. 資本主義社會的媒體常由財團以營利的方式經營，但社會大眾對於媒體應以專業角色報導公共利益則有高度期待。下列報導內容與公共利益的關聯性，何者敘述正確？(甲)揭露名人婚外情，藉以表彰婚姻價值，落實效益主義的理念 (乙)邀請意見領袖探討十二年國教制度的優缺點，凝聚社會共識 (丙)揭露上市公司苛扣勞工薪資內幕，使股市重挫，但彰顯了社會正義 (丁)收費刊登特定政治人物任內的政績，提供民眾參與公共事務的資訊 (戊)揭露知名食品企業使用不實原料，引發社會不安，卻促使政府修法。
- (A) 甲丙丁 (B) 乙丙戊 (C) 乙丁戊 (D) 甲乙戊
- () 26. 以下分別為立法院、總統及民眾曾善良向中央選舉委員會提出的 3 個全國性公投的提案，提案人及其議題如下所示。已知最近一次總統、副總統選舉選舉人總數為 2,000 萬人，本次投票權人數亦為 2,000 萬人。其中「丙案」共有 35 萬人連署、投票率 49%、有效同意票及不同意票分別為 1,000 萬票及 10 萬票。根據我國現行《公民投票法》之規定，下列敘述何者正確？

案件	提案人	議題
甲	立法院	你是否同意撤換現任行政院○○部部長？
乙	總統	你是否同意全國高中職學生每週上學 2 天、休息 5 天？
丙	年滿 18 歲、未受監護宣告，且已在臺設籍 18 年的民眾曾善良	你是否同意未滿 18 歲的中、小學學生在校禁用手機等 3C 產品？

- (A) 三案提案後皆應達法定連署門檻始得成案 (B) 就提案的規定而言，僅乙、丙兩案得提案
- (C) 丙案成案並達通過門檻，政府應形成政策 (D) 曾善良雖能提案，但未滿 20 歲無法投票
- () 27. 因應《地方制度法》及《公職人員選舉罷免法》修正，將直轄市長、直轄市議員、縣市長等合併成九合一選舉，九項選舉包括直轄市長、縣市長、直轄市議員、縣市議員、鄉鎮市長、鄉鎮市民代表、村里長、直轄市原住民區長及區民代表。依中選會推估，將可節省約 5 億 4 千萬的選務經費支出。我國下列何種公職人員採行的選舉制度與「高雄市市議員」相同？ (A) 臺中市市長 (B) 總統、副總統 (C) 山地原住民立委 (D) 全國不分區立委。
- () 28. 在我國，無論中央或地方層級、行政首長或民意代表，於相關選舉罷免法中皆有罷免權行使的規範。請問關於正、副總統罷免與一般公職人員罷免的相關規定，以下何者敘述正確？
- (A) 總統就職未滿一年不可提出罷免案，一般公職人員可以在就職未滿一年內提出
- (B) 總統罷免案須經過立委提議與通過門檻，再交由公民投票；一般公職人員交由原選舉區提案、連署，成案後投票
- (C) 總統罷免與一般公職人員罷免皆須經過選舉人總額過半投票，以及有效票過半同意才算罷免成功
- (D) 我國目前在中央層級與地方層級皆有罷免成功的實例，使得行政首長與民意代表提前去職並進行改選
- () 29. 「複數選區相對多數制」意指一個選舉區可選出 2 位以上的當選者，選民投一票給屬意的候選人，最終依應選的席次數目，由得票最高的前幾名候選人依序當選。上述選制可能會對選舉活動產生什麼影響？ (A) 民眾因選制複雜不願參與投票 (B) 同黨候選人採取共同競選策略 (C) 小黨推派候選人參選的意願低 (D) 小黨難獲過半數支持被邊緣化。
- () 30. 我國某國立法委員選舉的選票設計如下圖，關於選票之相關敘述，下列何者正確？

一、政黨選票

1		民主進步黨
2		國民黨
3		自由台灣黨
4		和平聯盟黨
5		軍公教聯盟黨
6		民國黨
7		信心希望聯盟
8		中視統一促進黨
9		中國國民黨
10		台灣團結聯盟
11		時代力量
12		大愛黨改聯盟
13		結黨社黨民主聯盟
14		台灣獨立黨
15		新黨團結聯盟
16		新黨
17		健保免費連線
18		柑黨

二、區域立委選票

	▲ 立法委員區域選舉	姓名：○○○○○○○○	性別：○○	學歷：○○○○	職業：○○○○
1		○	○	○	○
2		○	○	○	○
3		○	○	○	○
4		○	○	○	○

- (A) 山地原住民身分與平地原住民身分選民，所領取的政黨選票不一樣
- (B) 可以從選票設計看出我國是以並立制或聯立制計算席次的選舉制度
- (C) 在政黨選票，選民可以圈選兩個政黨，就是所謂的單一選區兩票制
- (D) 為爭取區域立委的席次，各政黨在各區會提出一名最強候選人應戰

- () 31. 每到選舉時總會聽到傳言，有一些選民雖然不喜歡某政黨提名的候選人，但又不甘將選票投給其他政黨候選人，以免自己支持的政黨落敗。最後這些選民還是含淚投票給某政黨提名的候選人。對於這樣的選民而言，下列哪一項敘述是影響其投票行為最重要的因素？ (A)候選人取向 (B)政見取向 (C)政黨取向 (D)血緣種族取向
- () 32. 關於國家通訊傳播委員會 (NCC) 的設置，有其必要功能，請問下列何者是 NCC 工作內容？ (A)電視轉播訊息不佳應到府維修 (B)提供平臺供大眾討論議題 (C)制定通訊傳播監理的相關法律 (D)通訊傳播業務之監督、調查及裁決。
- () 33. 丁丁是連任一次的民選公職人員，在法令的規定任期到後他不得再連任，必須轉換其他政治跑道。請問下列哪一個公職人員很有可能是丁丁目前職務？ (A)臺中市市長 (B)三地門鄉鄉民代表 (C)不分區立法委員 (D)彰化縣縣議員。
- () 34. 桃花鎮舉行地方民意代表選舉，總共有 5 名候選人參選，結果如表所示。下列敘述何者正確？

候選人	小新	阿呆	正男	風間	妮妮
總得票數	2,800 票	1,000 票	700 票	1,200 票	300 票

- (A)這是比例代表制的選舉制度類型 (B)選舉結果有小新及風間兩位當選人，可得知桃花鎮是採取複數選區相對多數決制 (C)該鎮如果採絕對多數決制，則只有小新一位當選人 (D)單一選區制讓小黨的候選人比較有機會當選。
- () 35. 假定有許多勞工團體對於《勞動基準法》的部分修正條文不滿，認為其損害勞工權益，進而發起公投要求廢除新修訂的相關條文；有某勞工團體主張，新法涉及 60 多萬的外籍移工福祉，他們也應有參與公投的權利，不應被排除在外。該團體認為，任何勞基法的規定都是不分國籍直接衝擊所有的勞動者，雖然目前法律還不允許外籍人士參加公投，但可藉此項呼籲行動讓政府、社會大眾看見移工的意見，而且歐盟各國已有先例，允許非國籍人士擁有部分參政權。下列哪項說法最能詮釋上述勞工團體的主張？ (A)各國應該不分國籍族群，讓人們享有相同的參政權以發展全球公民意識 (B)我國政府對重要國際人權公約內容已經進行國內法制化，應當積極落實 (C)公民投票具有直接民主和主權在民的實踐意義，全體住民皆有參與權利 (D)權益受到新政策制訂影響的人們，均應能夠享有參與制訂該政策的權利

36-37 為題組題

公共政策網路參與平臺是我國近年來開發的一種政府與公民溝通的單一討論平臺。公民的參與能讓政府施政更為周延，未來行政機關的政策計畫將朝向公開透明、公民參與及強化溝通之目標邁進，讓政府與民間的社會氛圍趨向信任之夥伴關係。

- () 36. 請問：根據上述內容，公共政策網路參與平臺跟下列何種公民參與治理模式相同？ (A)環保署召開的環境評估審查會 (B)願景工作坊 (C)中華民國金融管理委員會 (D)十二年國民基本教育課程研究發展會
- () 37. 目前在世界上仍有其他類似的跨國性連署平臺，如 Avaaz 與 change.org 等，連署的議題包含「拯救蜜蜂!」、「只剩下 24 小時防堵基因改造作物進入歐洲」、「阻止索馬利亞士兵強暴婦女」、「迫使以色列停止屠殺行為」等。請問：關於這些平臺的興起，我們可以如何解讀？ (A)國際議題才具有國際觀，國內的議題並不值得我們用心關注 (B)這些議題往往是該國的政治議題，會有侵犯他國主權的疑慮 (C)當我們參與連署之後，就是一種使命的完成，會有專職人員協助行動 (D)參與連署是開端，關心議題並付出實際行動才是公民參與的最終精神。

38-39 為題組題

我國某市市長在選前曾經承諾 8 年要完成 5 萬戶的社會住宅，以落實居住正義。市議員在市政總質詢指出，社會住宅的政策已經改成「目標 5 萬戶，但每年維持 1 萬戶動工」，然而根據市府給內政部的數字，以目前市府每年動工 1 萬戶、完工 2,400 戶的速度推算，組估要 22 年才能達成。市長答詢時坦言 8 年內蓋不完，不管是誰當市長，每年 1 萬戶的施工狀態，已是市府目前能量上限，要超過也沒有辦法。市議員說，過去沒把需要幾年完工說清楚，她認為應把該市的公宅狀況告訴大家，而且市府應該要考慮縮短 22 年的時間。市長表示會再努力縮短時程，怎麼設計要想一下，都發局局長也說仍持續規劃中，不會需要這麼長的時間達成目標。

- () 38. 本文所彰顯的意涵最可能是何者？ (A)專家參與治理可以讓政策更符合公平正義 (B)民主統治模式並沒有辦法回應人民的需求 (C)公民參與的代表性問題可能造成政策偏失 (D)課責機制的運作能夠進一步落實民主治理
- () 39. 假設你是市長，下列縮短目標時程的方式，何者最為可行？
- (A)編列更多工程預算 (B)引進公私協力模式 (C)對外解釋公宅政策 (D)要求都發局局長負責

40-41 為題組題

據台灣數位媒體應用暨行銷協會 (DMA) 統計，2017 年總體數位廣告量高達 330.97 億元，整體成長率為 27.9%，光已知的口碑行銷 (word-of-mouth marketing) 占比就接近 15%，金額高達 47 億元。其中，政府／公部門在數位廣告的占比約為 2.3%。公共政策的推動，十分注重輿論和忠實粉絲的養成，而口碑行銷能透過眾多的意見領袖形塑正面意見，進而影響大多數人的想法。口碑行銷比起一般的政策宣傳，更像是「你喜歡、我也喜歡」的行銷活動，如近年網路上許多透過溫馨故事宣傳的手法，透過網路傳播，其效果、產生的影響力更大，當一般人懶於求證，口碑行銷的效果就像「曾參殺人」，一個人說沒用，一千個人說你可能相信，但這一千個人是否都是存在於現實生活的人呢？

【2020 年 3 月 16 日，改寫自孔德廉，誰帶風向：被金錢操弄的公共輿論戰爭，報導者。

<https://www.twreporter.org/a/disinformation-manufacturing-consent-the-political-economy>】

- () 40. 文中的「口碑行銷」主要在凸顯何種現象？ (A) 媒體基於營利而播送聳動標題與內容 (B) 閱聽人因媒體再現而難獲知資訊全貌 (C) 帶風向使得真實或其他意見遭到掩蓋 (D) 同溫層效應窄化個人資訊獲取的範圍。
- () 41. 若要對上述現象採取行動，則最根本可行的解決之道應該是？ (A) 維持輿論正反聲量的平衡性 (B) 加強閱聽人的媒體識讀能力 (C) 立法杜絕媒體的置人性行銷 (D) 把商業媒體轉型為公共媒體。

42-44 為題組題

光復新村與審計新村是近年來臺中地區非常有名的打卡勝地，每逢假日都吸引不少年輕人與各地觀光客前來玩樂。這些觀光勝地最大特色在於，皆是臺中市政府所提供的創業補助計畫的成果，不只為節省政府營運成本，並藉由民間參與，擴大政府的公共服務。

- () 42. 請問，上述內容屬於現代民主政治運作中的何種概念？ (A) 全球治理 (B) 專家治理 (C) 民主治理 (D) 政府治理
- () 43. 根據題幹內容，我們可以發現，創業補助計畫並非單純政府的補助計畫，而是屬於公部門與私部門合作的公私協力概念。有關公私協力的敘述，何者正確？ (A) 處理的主要事務以私人事務為主 (B) 其主要目的在於創造企業更多營收 (C) 政府扮演著導航而非操盤的角色 (D) 指公共事務的決策由上而下發展。
- () 44. 公私協力合作處理公共事務，是一種政府與人民互相信賴、提升治理效能的政策執行模式。其中，BOT 是常見的運作模式，請問以下關於 BOT 的敘述，何者正確？ (A) B, Build 意指政府提供土地並興建 (B) O, Operate 意指民間企業提供資金並營運 (C) T, Transfer 意指營運一段時間後，所有權移轉給企業 (D) 國營企業民營化是 BOT 的運作模式之一。

45-46 為題組題

在許多信徒心中，他們所認定的家將團，不僅是陣頭或表演藝術，將爺的到來，象徵著神明親臨現場，透過儀式來安定人心。多數職業團體為優良藝陣團隊，但少數職業將團不像傳統將團有嚴謹的戒律與禁忌，甚至經常出現結合犯罪集團，利用廟會組織吸收年輕人犯罪牟利。有時不法集團所控制的陣頭，與八家將一點關係也沒有，但八家將還是會刻意被寫入報導中，長期累積下來，使大眾容易有八家將等於犯罪集團的錯覺，甚至視為社會亂源。

以下這則關於陣頭的負面報導，就是媒體記者誤解民俗下的實例：2015 年 8 月 18 日《中○時報》報導：「……『聯○社』少年轎班會陣頭，入侵校園吸收 10 餘名國、高中中輟生為小弟，遇糾紛即持鯊魚劍、釘棍等八家將法器暴力相向，橫行鄉里……。」上述報導中的「鯊魚劍」、「釘棍」等，皆非八家將所使用的法器。

事實上，轎班會與八家將陣是性質完全不同的兩種團體，轎班會組織比較容易，成員也更為多元，甚至不需常態訓練。所以報導中的犯罪集團，以轎班會名義吸取中輟生加入，其整體組織與家將完全不同，但記者報導將兩者并為一談，且皆往負面的方式報導，導致八家將變成大家「貼標籤」的對象，8+9 則逐漸成為揶揄八家將或陣頭界的網路用語。

- () 45. 社會大眾對八家將的觀感不良，甚至視為社會亂源的主因應該是？
- (A) 媒體再現的不平等現象 (B) 置人性行銷帶來的影響 (C) 媒體過度濫用監督力量 (D) 接近使用媒體的不平等
- () 46. 面對上述媒體現象造成的影響，最根本的解決之道應該是？
- (A) 公共媒體的成立 (B) 媒體素養的提升 (C) 廢除守門人機制 (D) 媒體近用的保障

47-48 為題組題

環保署罕見特別為環評委員遴選舉行記者會。會中指出，第12屆環委任期於2019年7月底屆滿，將公開接受各界推薦專家學者擔任第13屆環委。環委為無給職，每任為2年，可以續任1次，但依規定每屆環委需半數更新，也就是下一屆至少會有7位新任委員。不少人認為這個工作吃力不討好，面對各大小環境評估案件，逃不了各界的輿論和壓力，甚至有環委私下透露，有時在會議上表達的意見，會後都會收到恐嚇訊息。不過環保署表示，想擔任委員必須先同意「被直播」，被推薦者須先簽署線上直播同意書，往後所有環評會議無分大小輕重，全都會在網路直播，影片還會上傳到 YouTube，提供民眾重複觀看或下載。

結果第13屆環評委員名單公布後，各家報章雜誌紛紛追蹤報導，指出14位民間委員有6位是環工技術領域，社會環境專家少，顯得「專業領域失衡」，除此之外，已經連續2屆僅有1位女性委員，性別比例明顯失衡，也引起32個臺灣婦女團體以及民間組織共同譴責環保署「性別麻木」，性別平等專案小組3位外聘委員更是請辭以示抗議。

() 47. 從文中劃線部分，從遴選環委的條件來看，環保署列為首要的課責機制應該是？

(A) 政府資訊的透明性 (B) 參與成員的代表性 (C) 對於人民的回應性 (D) 公私協力的可能性

() 48. 關於第13屆環委名單公布後的課責機制運作，其屬性來源與何者最為相似？

- (A) 行政院院長成立臉書粉絲團，即時以貼文澄清假消息或解答民眾疑惑
- (B) 學校召集行政人員、教師、學生、家長代表共同商討學生的服儀規定
- (C) 監察院建置政治獻金公開平臺，供民眾上網查詢參選人收支細項
- (D) 議員對縣府預算從未被刪減過提出質疑，要求官員說明預算的合理性

49-50 為題組題

太陽國總會席次共有200席，在某次大選後各政黨（甲、乙、丙、丁）席位分配如下表。

政黨	甲	乙	丙	丁
區域席次	62	24	10	54
政黨名單席次	15	10	5	20
政黨得票率	30%	20%	10%	40%
總席次	77	34	15	74

() 49. 請問太陽國的選舉制度為何？

(A) 單一選區相對多數決制 (B) 比例代表制 (C) 混合制並立制 (D) 混合制聯立制

() 50. 關於太陽國的選舉制度以及對應我國選舉制度，請問下列敘述何者正確？（甲）此選舉制度較有利大黨（乙）此選舉制度較有利小黨（丙）我國縣市長選舉採行此制度（丁）我國立委選舉採行此制度

(A) 甲丙 (B) 乙丁 (C) 乙丙 (D) 甲丁

高雄市立鼓山高中 110 學年度第一學期第二次段考《高二》公民與社會科試題卷

考試範圍：(三)第 1~2 課 未依規定劃卡者，總分扣 5 分 電腦讀卡代碼：18

單選題 (每題 2.5 分，共 40 題)

◎2003 年公布施行公民投票法時，在人民提案與連署門檻、通過門檻等規範上較為嚴格，因而招致「鳥籠公投」的批評，立法院於 2017 年 12 月三讀通過公投法修正，大幅降低相關門檻，下調公投權年齡至 18 歲，將憲法中創制與複決權落實為具體明文的法律規範。依現行法之規定，人民可提案針對「法律」、「立法原則」或「重大政策」等進行公投。

2021 年 12 月 18 日，將針對四大議題進行公投：

(一)重啟核四公投

正文：「您是否同意核四啟封商轉發電？」

(二)反萊豬進口公投

正文：「你是否同意政府應全面禁止進口含有瘦肉精(萊克多巴胺)等乙型受體素)豬隻之肉品、內臟及其相關產製品？」

(三)公投綁大選公投

正文：「你是否同意公民投票案公告成立後一個月起至六個月內，若該期間內有全國性選舉時，公民投票應與該選舉同日舉行？」

(四)珍愛藻礁公投

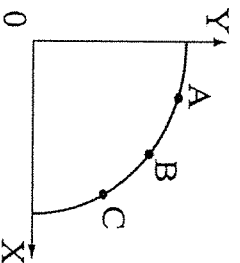
正文：「您是否同意中油第三天天然氣接收站遷離桃園大潭藻礁海岸及海域？」

上述內容請從「經濟學」的角度來分析，回答下列 5 個問題：

1. 立法院修正所謂的「鳥籠公投」，大幅降低了公投的門檻，並下調公投權年齡至 18 歲……，下列敘述何者正確？
(A)立法院修法不會產生「機會成本」 (B)「公民投票」就是一種「選擇」 (C)「公民投票」是一項具多種用途的資源 (D)當天放棄投票權是不智的行為。
2. 關於「重啟核四」的成本問題，下列敘述何者錯誤？ (A)供電更加充足 (B)核廢料的處置 (C)核四地質的安全 (D)更新 20 年前的舊設備。
3. 關於「反萊豬進口」，不同意方主張：萊豬將比照萊牛的規定清楚標示，台灣不可能自外於國際的標準，也不可能自己的商品要賣出去，卻拒絕人家的商品進來……；同意方主張：雖有國際標準但未必適用於國人，國民的健康不能成為利益交易籌碼……，下列何者較不屬於可能的「機會成本」？ (A)無法順利加入國際貿易組織 (B)國民的健康 (C)萊豬進口量大減 (D)國產豬肉價格飆漲。
4. 關於「公投綁大選」的效益問題，下列敘述何者正確？ (A)投票速度加快 (B)民眾不易混淆議題 (C)選務工作量增加 (D)提高投票率。
5. 關於「珍愛藻礁」，下列何者較不屬於可能的「機會成本」？ (A)其他縣市拒絕接收 (B)供電量不足的問題 (C)用電量暴增 (D)生態環境受影響。
6. 前太平洋電線電纜公司前董事長孫道存 2021 年 11 月 17 日病逝，一提到孫道存，不少人都會想起他即便聲請破產，還能過著富豪般生活，也讓人好奇，到底孫道存還有多少財產。雖然孫道存已過世，但太電掏空案欠下的龐大民事賠償官司卻還沒了，鉅額債務依法都將落在繼承人身上，有律師認為，一勞永逸的方法就是辦理拋棄繼承。下列對「拋棄繼承」的敘述何者正確？ (A)拋棄繼承要向法院陳報遺產清冊 (B)若拋棄繼承後反悔，則改用限定繼承 (C)只要第一順位的辦理拋棄，後面順位的視為一同拋棄 (D)要在 3 個月內向法院辦理。
7. 2019 年英國《Tesco》雜誌，徵詢親職專家及專業人士，計算一般的母親從孩子出生直到 18 歲，所做的一切工作，如果由專門人士來做，依時薪計算，總共值 1,424,504 英鎊(約新臺幣 6 千多萬元)。報告所呈現的意涵，下列敘述何者正確？ (A)依據比較利益法則，家中工作應交由專職傭人來做 (B)隨著社會現代化，養兒育女成本愈來愈高 (C)看似無薪的家庭主婦，背後仍有機會成本的存在 (D)子女成年之前，對於家庭的經濟負擔較成年後高。
8. 續上題，於是我國《民法》認定從事家事、育兒等家庭內勞動之活動，應屬有價，應獲得適當之報酬，夫妻於家庭生活費用外，得協議一定數額的金錢供夫或妻自由處分，保障家庭主婦(夫)的人格尊嚴及經濟獨立……增訂了下列何者？ (A)法定給付金 (B)自由處分金 (C)分別處置金 (D)共同家用金。
9. 因應嚴重特殊傳染性肺炎(COVID-19)疫情，為協助政府防疫，在經濟部指導下，工研院攜手精機中心、金工中心等法人機構以及工具機公會等單位，共同協助廠商布建生產口罩的設備。口罩設備的增建可能為生產可能線帶來什麼變化？ (A)整條生產可能線會往右移動 (B)整條生產可能線會往左移動 (C)生產組合點會沿著綠往上移動 (D)生產組合點會沿著綠往下移動。

10. 偶像劇的女主角最後總是和又高又富又帥的男主角交往，但真實的世界中，同時具高、富、帥條件的男生並不多，白富美小姐無法一人多用，因此考慮要和阿高、阿富或是阿帥三位追求者中的其中一人交往。下列敘述何者正確？
- (A)若白富美小姐是個理性又自利的人，必定會選擇與阿富交往 (B)白富美小姐必須進行選擇，是因為資源有限 (C)若白富美小姐最後選擇與阿富交往，則表示選擇阿富的機會成本最高 (D)若白富美小姐最後選擇與阿富交往，其機會成本為「與阿帥交往的機會」，則表示白富美小姐最不希望交往對象為阿帥。

- ◎為了學測，知日與竹本兩人決定一起準備數學，2個月後，知日1個小時可以解出10題代數問題，竹本1個小時可以解出5題；知日1個小時可以解出8題三角函數問題，竹本1個小時能解出2題。請依據上述內容回答下列4個問題：
11. 他們應該如何分配才能達到合作的目的？ (A)知日解三角函數問題；竹本解代數問題 (B)知日解代數問題；竹本解三角函數問題 (C)兩人一起解代數問題 (D)兩人一起解代數問題和三角函數問題。
12. 下圖顯示知日1個小時內解代數問題(X)和三角函數問題(Y)的「生產可能線」，下列敘述何者正確？ (A)解題效率： $A > B > C$ ，多解一題三角函數(Y)的機會成本為： $A < B < C$ (B)解題效率： $A = B = C$ ，多解一題三角函數(Y)的機會成本為： $A < B < C$ (C)解題效率： $A = B = C$ ，多解一題代數(X)的機會成本為： $A < B < C$ (D)解題效率： $A < B < C$ ，多解一題代數(X)的機會成本為： $A > B > C$ 。



13. 有關知日解代數問題(X)和三角函數問題(Y)「生產可能線」的敘述，下列何者錯誤？ (A)顯示機會成本遞增的狀況 (B)生產可能線代表的意義是「取捨」與「選擇」問題 (C)線上的任一點效率都是最大 (D)生產可能線內的任一點代表沒有效率，是不可能生產出來的組合。

14. 以 X 軸與 Y 軸所繪出知日的生產可能線，與 X 軸的交點代表？ (A)是沒有效率的 (B)沒有解出任何一題三角函數 (C)知日目前無法達到的程度 (D)解出三角函數的題數最多。

◎聯合國永續發展方案網路從 2012 年開始，採用國內生產毛額(GDP)、社會支持度、預期健康壽命、人生選擇的自由、慷慨，以及免於貪腐等六大評分項目，每年發表全球各國人民幸福感的調查報告(World Happiness Report)，並分析其變化趨勢、可能的因素。2021 年 3 月 19 日出版的報告，台灣獲得 6584 分，全球排名第 24，持續保有東亞最快樂國家的地位。2020 年遭逢疫情造成全球經濟與生活大亂，2021 年版報告作者群表示，嘗試理解疫情對民眾身心健康的影响，深具挑戰。報告也指出，相較於歐美國家，東亞國家的防疫表現較為良好，主要歸因於政府強而有力、即時的因應，及較好的公民配合度。

報告共同作者赫利威爾說：「整體來看，多數民眾對自己生活的幸福感並未降低，可能是因為，大家認為這場疫情是影響每一個人的共同、外部威脅，而這激發了更大的團結感和同理感。」值得一提的是，2012 年 4 月初，當時聯合國秘書長潘基文和不丹總理吉莫，主持聯合國首次以「幸福與快樂：界定一個新的經濟典範」為主題的高峰會議，不丹正式採用「國民幸福總值」作為其主要發展指標，之後不丹成為全世界第一個且是唯一一個不以國內生產毛額(GDP)作為主要發展指標的國家。請依據上述內容回答下列 2 個問題：

15. 下列對報告內容的敘述何者正確？ (A)相較於東亞國家，歐美國家的防疫表現較好 (B)疫情的衝擊降低了民眾的幸福感 (C)人生能擁有選擇的自由是幸福的 (D)疫情加大了人們的分裂與距離感。
16. 不丹採用「國民幸福總值」作為其主要發展的指標，下列敘述何者正確？ (A)所得與快樂的感受程度成正比 (B)稀少性主要起因於人們的欲望無窮 (C)稀少性純粹是因為外在物質匱乏所產生 (D)快樂是一種客觀感受，財富多就不會感覺稀少。
17. 嚴重特殊傳染性肺炎(COVID-19)疫情造成口罩搶購潮，政府實施「口罩實名制」政策，民眾一週內最多只能買兩片口罩，然而就在口罩短缺之際，卻有網友發起「我 OK，你先領」的活動，希望讓第一線的醫護人員有足夠的口罩來使用。下列描述何者正確？ (甲)口罩會造成搶購風潮，是因為民眾普遍不夠有錢，因貧窮而造成資源稀少 (乙)疫情之際，口罩變成具有「稀少性」的資源 (丙)政府的政策是一種資源分配的方式，如果資源充足，就不需要討論資源分配 (丁)「口罩實名制」政策會破壞市場機制，讓市場決定口罩價格是最公平的分配方式 (戊)「我 OK，你先領」參與該行動的人，自認作出最佳的選擇 (A)甲丁 (B)乙丙戊 (C)甲乙丙戊 (D)甲乙丙丁戊。
18. 正賀希望自己的孩子不要輸在起跑點，對小孩嚴格管教，照顧無微不至，是典型的直升機老爸。正賀規定孩子週一上繪畫課程、週二上兒童鋼琴、週三補英文會話、週四上數學家教，週五上社會家教，週末兩天可不用補習。孩子週四上數學家教時，其機會成本為何？ (A)不存在機會成本 (B)自由玩樂 (C)家教費用 (D)繪畫 & 鋼琴 & 英文。

19. 金師傅是知名醫院的主治醫師，有著專業的醫學知識，他身旁有位實習醫師，常擔任金師傅手術的第一助手。雖然實習醫師的技術沒有金師傅高，不時還會被金師傅罵手術縫合速度不夠快，金師傅還需要事後檢查。但金師傅仍需要有實習醫師擔任第一助手，而不自己開刀與掌握手術進度。下列敘述何者較為正確？ (A)金師傅親自處理縫合的生產效率較低 (B)金師傅認為需要減少手術時間，所以需要助手協助 (C)因為實習醫師對手術不夠熟悉，所以只能做縫合的程序 (D)金師傅親自處理縫合的機會成本較高。

20. 小鎮村的居民希望市政府可以整建河濱步道，政府知道後進行效益評估，仔細評估有多少預算後，再根據成本效益分析，才能決定是否興建。下列對於政府進行分析時，其考慮的敘述何者較為正確？ (甲)政府編列預算容易但拓展財源困難，建設經費須考量是否會產生排擠效應 (乙)公共設施多為政府免費提供，因此無須政府機關討論收支是否平衡的必要 (丙)整建河濱步道也須注意是否會影響到生態環境、環境屋展等潛伏外在影響 (丁)民眾需求若經成本效益評估後可行，為民謀福利的政府應滿足民眾的需求 (戊)河濱步道所產生的效益因難以估算，因此政府只需著重評估開發經費即可 (A)甲乙 (B)甲乙丁 (C)甲丙丁 (D)甲乙丙戊。

◎台塑集團創辦人「經營之神」王永慶於2008年過世後，二房、三房子女為了遺產問題爭執不休，雙方歷經13年爭產官司，2021年7月30日終告一段落，最後一筆1.1億餘元遺產，由二房長子王文洋與其他9名手足簽下和解協議，並遞狀向法院撤回訴訟。王永慶在台遺產總額共約528億元，扣除遺產稅120億元，剩餘408億元已全數分配完成。不過王文洋主張的海外6,000億元遺產，目前仍未解決。此官司是由王文洋主導，委請王永慶大房王月蘭的遺產管理人提告，要求分配父親存在渣打銀行的1.1億餘元遺產，目的是為藉此訴訟否定王永慶三房李寶珠合法配偶的地位，讓李不能以妻子的身分參與遺產分配，這13年來雙方可說是為了「配偶權」之爭。

長榮集團創辦人張榮發2016年過世後，留下遺囑將所有遺產財產約240億元留給二房兒子張國煒，並指定長榮集團由張國煒接班。但大房的3個兒子認為，父親於2014年間製作的密封遺囑無效，提起民事訴訟。張國煒雖然接任長榮的總裁，卻被大房3個兄弟從總裁的位置趕下台，並拔除他在長榮海運等多家公司董事資格。他離開長榮後另起爐灶，創辦了星宇航空，也是台灣第一個擁有波音777駕駛、維修證照的航空公司董事長。將張國煒除掉後，原本站在同一陣線的大房3兄弟卻在2018年關係生變，分「大哥派」及「弟弟派」，開始爭奪實質掌控長榮經營權的張榮發基金會主導權，還扯出集團高層遭恐嚇事件，宛若黑幫電影情節，備受外界關注。請依據上述內容回答下列5個問題：

21. 王家為了「配偶權」之爭，官司纏訟了13年，《民法》規範了配偶的相關權利，下列敘述何者正確？ (A)配偶是第一順位繼承人 (B)「剩餘財產差額分配請求權」是配偶獨有的繼承權利 (C)配偶對「特有財產」可保有所有權 (D)王永慶的3個配偶都有繼承權。

22. 關於我國夫妻財產制的規定，下列敘述何者正確？ (A)法定財產制是婚前夫妻各自財產各自所有，婚後共同所有 (B)共同財產制關係存續中的共同財產，離婚後雙方各得一半 (C)不論是約定或是法定夫妻財產制，都必須以書面向法院登記 (D)不論採用哪種財產制，都能主張剩餘財產差額分配請求權。

23. 下列敘述何者正確？ (A)王文洋與其他9名手足是王永慶遺產的當然繼承人 (B)張榮發的二房兒子張國煒在民法上不具繼承權 (C)《民法》上「私生子女」和婚生子女的權利完全相同 (D)有繼承權未必能繼承集團的主導權。

24. 張榮發雖然留下遺囑欲將所有遺產留給二房兒子張國煒，但大房的3個兒子認為，父親的遺囑無效，於是提起民事訴訟。主要是因該遺囑已經侵犯了大房3個兒子在繼承權上的？ (A)應繼分 (B)應遺分 (C)特別分 (D)特留分。

25. 為了避免被繼承人身故後子孫因財產分配問題對簿公堂、揮霍敗家或財產遭人侵佔，近年來有越來越多人在生前就「超前佈置」，將財產交給銀行信託，下列敘述何者正確？ (A)將財產權轉移給銀行 (B)依銀行的意願來管理財產 (C)有錢人專屬的權利 (D)不得違反應繼分之規定。

◎2018年3月初某大賣場藉由發布不實訊息來進行衛生紙的促銷行為，誤導消費者造成衛生紙的搶購風潮，導致衛生紙市場產生突發性的供需失衡現象，公平交易委員會認為此舉已嚴重影響市場的交易秩序。政府以違反《公平交易法》第25條規定，對該賣場處以350萬罰鍰。依據報導可知，消費者常處於劣勢，為了維護消費者的權益，政府透過法律保障消費者安全不受任意誤導，除藉由《公平交易法》對廠商進行開罰外，政府也特別制定《消費者保護法》來規範企業經營者的義務和消費者的權益，藉此保護消費者權益。請依據上述內容回答下列2個問題：

26. 《公平交易法》與《消費者保護法》主要是針對買賣行為中何項私法原則來進行限制？ (A)直接支配 (B)排除侵害 (C)契約自由 (D)優先原則。

27. 為維護消費者的消費行為，以確保平等且自願交易，政府特別制定《消費者保護法》，藉此以保障交易的安全性。下列相關交易安全敘述何者正確？ (A)基於保障契約自由原則，任何交易契約都屬合法交易範圍 (B)網購的生鮮蔬果，仍受到7日的退換貨保障 (C)簽訂定型化契約，如內容顯失公平以針對廠商做有利的解釋，以保障雙方權益 (D)交易的平等概念是建立在消費者平等自願的前提下所進行的交易行為。

◎法國拿破崙的軍隊在19世紀橫掃歐洲，一群葡萄牙人逃到當時仍為葡萄牙殖民地的巴西避難，他們到達世界上最大的河中島—巴納爾島，島上的美景讓他們著迷，周圍的河流也成為天然屏障，他們決定住下來開墾拓荒，過著自給自足的生活。請依據上述內容回答下列2個問題：

28. 葡萄牙人打算在島上種植農作物為生，假設對於未來他們只有兩個選擇，但是每個選擇都必須花費 200 元購買種子：(甲)在往後的 1 年裡只種植玉米，1 年後可收成 60 公斤的玉米；(乙)在往後的 1 年裡只種植大豆，1 年後可收成 30 公斤的大豆。葡萄牙人選擇甲方案的機會成本為何？ (A)30 公斤的大豆 (B)30 公斤的大豆加 200 元的種子費用 (C)60 公斤的玉米 (D)60 公斤的玉米加 200 元的種子費用。
29. 若居民過度的施肥以及使用農藥，造成農田的土壤貧瘠，生產力衰退，則該事件對生產可能線的影響，與下列何者相同？ (以下選項皆為獨立事件) (A)受到野生的香蕉數量愈來愈少的影響，使居民食用大豆和玉米的需求增加 (B)葡萄牙人合力建造灌溉水圳，使所有農作物單位面積的收成皆增加 (C)由原先全部只種植玉米單一作物，變更為部分種植玉米，其餘部分種植大豆 (D)連年乾旱，降雨不足，河道灌溉水量不足，大豆和玉米的生產皆受到影響。
30. 近期因受疫情、國際原物料價格上漲等因素，各大品牌都喊出漲價微調的消息，麥當勞也在 2021 年 11 月 18 日宣布，考量整體營運策略，自 11 月 24 日凌晨零時起，將調漲 15 項主餐、14 項點心與飲料的價格。消費者荷包又要大失血，對廠商而言，若不調漲商品售價且生產技術又無法提升的情況下，生產可能線最可能會產生何種何變化？ (A)生產可能線向左移 (B)生產可能線向右移 (C)生產組合選擇將變多 (D)生產可能線不變。
- ◎南一不動產研究報告指出：「國內不動產移轉棟數創新高，其中臺北市的房價因為其高門檻，許多人買不起而希望透過繼承擁有，若長輩身後留下不動產，繼承人會更積極去辦理繼承登記，因此臺北市是六都之中繼承比例最高的區域，但繼承人年紀以 50 歲以上居多。而如果在繼承後，想要轉手變現也有一定的困難度，因一間房子可能有許多繼承人，若被繼承人生前沒有先分配，事後繼承人欲變現，也必須先許得共識。」請依據上述內容回答下列 3 個問題：
31. 桑島爺爺在臺北市有棟洋房，獨力扶養二個年幼孩子長大，但因為大兒子獯岳不學好，甚至還加入幫派，於是桑島在臨終前，決定將其名下的洋房以贈與方式移轉給小兒子善逸，試圖讓大兒子無法分得遺產。我國《民法》有何種規範，可以保障獯岳的權利不受到侵害？ (A)在繼承開始前 2 年如有贈與財產之情形，仍應該將此財產視為遺產 (B)可以在繼承開始後 3 個月內備好遺產清冊，向法院提出贈與情事 (C)可主張此贈與的財產仍屬於法定繼承人的特留分，即可獲得救濟 (D)法定繼承人須於被繼承人死亡後 2 年內申報遺產清冊，才得救濟。
32. 有關透過繼承而取得不動產所有權之敘述，下列何者正確？ (A)臺北市因為房價較高，所以想透過繼承方式在臺北市有房產的人增加許多 (B)因臺北市的房屋數量是全臺最多，所以是六都之中繼承比例最高的區域 (C)年輕人若想要透過繼承取得不動產所有權，比起長者可能較不容易 (D)長輩如身後有留下不動產，臺北市的繼承人大致上都選擇拋棄繼承。
33. 關於不動產繼承的問題，下列何者正確？ (A)依據我國《民法》規定，不動產所有權以買賣契約為判斷依據 (B)一棟房屋如有多位繼承人，則房屋變現的成本會增加許多 (C)被繼承人生前未立遺囑，則留下之不動產就須由律師分配 (D)繼承不動產後如需轉為現金自用，其變現的速度較為快速。
34. 比較利益法則的「比較」是「相對」之意，並不是「絕對」的觀念。不論從個人生涯規劃、企業主僱用員工、國際分工，以至眾所周知的世界貿易組織 (WTO) 人會問題等，都和這個觀念有關。根據比較利益法則，下列敘述何者正確？ (A)一國應出口其具比較利益的商品 (B)每單位產出的機會成本較高者較優 (C)先進國家對所有物品均具比較利益 (D)落後國家對所有物品均不具比較利益。
35. 羅斯福曾擔任三屆的美國總統，某位記者詢問他對於第二次連任有何感想時，羅斯福一言不發拿出一個超大三明治請記者吃，記者吃完後羅斯福再拿出第二個三明治，記者只好勉強再吃下去，沒想到羅斯福緊接著又拿出第三個，記者趕忙婉拒，此時羅斯福笑著說：「現在你應該很了解擔任三屆總統的感受了吧！」關於羅斯福的回答，下列解釋何者較正確？ (A)羅斯福認為自己欲望無窮，相較之下資源卻顯得有限 (B)羅斯福認為自己擔任三屆的總統都具有絕對利益 (C)羅斯福認為自己擔任總統的效益正在遞增 (D)羅斯福認為自己擔任總統的機會成本正在遞增。
36. 電信市場推出所謂的「0 元手機」，當消費者興高采烈地以超低價甚至 0 元購得時尚手機時，卻往往忽略了綁門號的規定以及提早解約的違約金。因為得到 0 元手機而高興的消費者忽略了下列何者？ (A)專業分工 (B)機會成本 (C)絕對利益 (D)比較利益。
37. 現實生活中，我們可以把經濟學上的機會成本及專業分工概念來分析國與國之間的經濟行為。在國際貿易中，如果一個國家每項生產都不如其他國家，選擇下列何種方法對其較有利？ (A)可依據比較利益法則生產產品讓自己得利 (B)可以透過生產絕對利益的產品讓自己得利 (C)可以選擇國內價格較高的產品進行出口 (D)可以選擇機會成本較高的產品進行生產。
38. 生產可能線是基本的經濟學圖形，內容包含三個假設：資源有限、只能用其資源生產 2 種產品、生產技術固定不變。下列何者符合生產可能線的特性？ (A)凹向原點的生產可能線，表示機會成本皆固定 (B)2 種產品皆有生產時，無法讓資源充分利用 (C)直線的生產可能線，表示由上到下機會成本會慢慢遞增 (D)線上每一點皆是資源最有效利用的產量組合。

39. 阿宅看上一間位於重劃區的房屋，於是與屋主簽立房屋買賣契約，過了5日，阿宅向屋主請求房屋過戶，不料屋主已將房屋賣給小富並完成所有權移轉登記。關於上述情況，下列何者正確？ (A)因雙方與屋主皆有簽署買賣契約，故應該讓阿宅與小富都取得所有權 (B)阿宅可依據和屋主先行簽署的買賣契約，向小富請求轉讓房屋的所有權 (C)因為所有權比起債權具有優先性，所以房屋的所有權應是屬於小富 (D)阿宅比小富先和屋主簽房屋買賣契約，所以房屋所有權應屬於阿宅。
40. 小丁是位勤於寫筆記的學生，某天老師針對所有權保障的敘述，舉了幾個例子，但小丁因為昨晚失眠，導致寫筆記時不太清醒，上完課後發現筆記內容好像跟課本有出入。關於下列小丁的筆記內容，何者較為正確？ (A)因所有權具有絕對性，故一樓店家可以在騎樓擺放自己的財物 (B)甲如占用乙的房屋，因保護之絕對性，乙可請求返還此間房屋 (C)甲和乙共同持有房屋的所有權，代表房屋同時存在兩個所有權 (D)房屋可共同持有，故甲和乙共同持有房屋時，雙方可單獨處分。

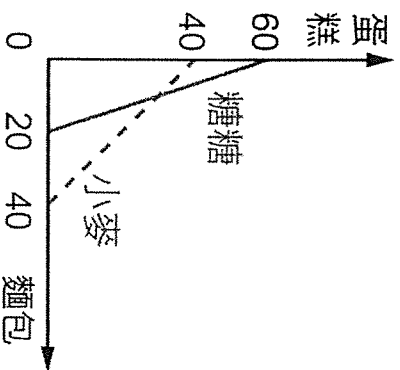
高雄市立鼓山高中 110 學年度第一學期高三公民與社會第二次月考試題

一、單選題：(2分, 80%)

- () 1. 我國現行法律規定，公家機關與民間企業皆應僱用一定比例的身心障礙員工，否則須繳納差額補助費，納入身心障礙福利經費。上述規定所彰顯的意義，下列何者最為正確？ (A)此為降低失業率的優惠措施 (B)此為去除歧視待遇的平權措施 (C)此為改善弱勢者地位的特權規定 (D)此為落實正當法律程序的手續規定【99 指考】
- () 2. 2013 年時，英國女王依據英國法律授權，宣布特赦現代電腦科學先驅者艾倫·圖林 (Alan Turing)。圖林在二次大戰時因為成功破解納粹的密碼，對當時的盟方有極大貢獻。但是他後來卻因為被警察發現有同性戀行為，而依英國刑法法律定罪。在該法條被廢止前，估計有 4 萬 9 千名男同性戀被判有罪。圖林後來接受化學去勢，以避免坐牢，他的工作也被剝奪。小風和小雲二人對此事有以下的討論：
- 小風：我不太能認同的是為何要以刑法處置同性戀？為何兩名男子間的愛情行為，與他人無涉，會受到國家的處罰？他們有傷害到其他人嗎？
- 小雲：我不太能認同的地方在於，為何面對過去的不正義，但是結果卻只有圖林一人獲得特赦？
- 小雲對於赦免應如何進行的主張，最適合以下列何者說明？ (A)政府作為基於法律正當程序原則，因此赦免應有立法程序 (B)赦免不應基於個人成就，而是政府應修正制度的不當歧視 (C)基於公平正義的理念，特赦之外還應由國家元首公開道歉 (D)同性戀為弱勢群體文化，故有必要立法赦免予以特別保護【109 學測】
- () 3. 為了確保女性參與政治的權利，有些國家會在法律上設計「婦女保障制度」，以我國為例，下列敘述何者是此一理念的具體實踐？ (A)政府的教育單位，將性別關係與平等尊重放入課綱，以保障女性的平等權益 (B)《地方制度法》規定各選區選出民代名額達四人者，應有婦女當選名額一人 (C)行政院院長宣布新內閣閣員名單，其成員按照性別比例以顯示性別平等 (D)婦女團體呼籲儘速修法，女性民代名額應達成 40% 性別比例目標為原則【108 指考】
- () 4. 高中職學生，因為出刊校內雜誌或服裝儀容等議題，與校方管理人員發生摩擦，從校園人權的角度來看，下列有關敘述何者正確？ (A)除非事先曾獲得家長代表會的同意，否則學校不能自行訂定限制學生表達自由的規定 (B)當學生尚未達到法定投票權年齡時，校方為了管理的目的可對學生表達自由加以限制 (C)學生應以讀書為義務，如果能主動善盡學生的角色，就不必擔心會發生學生人權問題 (D)學校如果對學生進行記過或申誡等處分時，須提供適當的權利救濟管道允許學生申訴【103 指考】
- () 5. 《原住民族基本法》修正後，賦予部落具有公法人地位，是我國法律對於原住民族集體權肯定。下列何者也體現對原住民族集體權利能力的認同？ (A)將原住民族語訂定為國家語言，可使用族語洽公 (B)立法賦予申請回復原住民族傳統姓名登記之權利 (C)部落可以申請原住民族傳統智慧創作保護登記 (D)提供山地與平地區立委選舉的原住民族立委名額
- () 6. 吉普賽人在世界四處流浪已超過千年之久。若吉普賽人想要建立一個屬於自己的國家，至少必須取得以下哪項條件？ (A)發展出具有民族特色的文字 (B)獲得聯合國及國際組織的援助 (C)舉辦定期選舉以民主方式產生的國家領導人 (D)找到一塊可供居住且不屬於任何國家管轄的區域【104 學測】
- () 7. 依照目前臺海兩岸的現況，對我國而言，出現領土及統治權之落差。按我國現行《憲法》，以下敘述何者正確？ (A)我國目前前統治權所及地區，《憲法》上稱為「中華臺北」 (B)我國目前前統治權所及地區，《憲法》上稱為「中華民國臺灣省」 (C)我國領土除臺、澎、金、馬以外之地區，《憲法》上稱為「內地」 (D)我國領土除臺、澎、金、馬以外之地區，《憲法》上稱為「大陸地區」
- () 8. 某國有「童婚」傳統，許多未滿 15 歲少女成為父母財產，被迫結婚而失去受教育機會。近年來國際人權團體批評此傳統剝奪女孩受教育權，違反國際人權公約，因此屢向該國施壓，要求立法禁止，卻遭到該國政府反彈，呼籲外界應尊重其傳統文化。從人權保障觀點檢視前述國際人權團體的作為，下列何項看法最適當？ (A)應該，人權公約尊重各國傳統，但童婚現象違反基本人權，超越文化尊重原則 (B)不應該，人權團體雖然追求基本人權保障，但仍應尊重各國主權不可干涉內政 (C)應該，舊式文化與進步的人權精神有違，不符世界的價值潮流，必須加以破除 (D)不應該，人權團體雖秉持普世價值，仍須尊重各國國情，接受社會的文化差異
- () 9. 我國於疫情期間透過華航運輸外援口罩，而華航的英文名「China Airlines」引發爭議，被認為可能與中華人民共和國混淆。是否將華航的「Chinese」(中華)改為「Taiwan」(臺灣)，引發網友熱議，不只牽扯品牌價值與航線權，更有政治因素考量。請問：主要為哪些因素導致人民意見的分歧？(甲)《憲法》規範的國家主權與現實的落差；(乙)種族與文化傳統的巨大歧異；(丙)中華民國的國號無法獲得國際社會普遍承認；(丁)兩岸在國際貿易戰中激烈衝突。(A)甲乙 (B)甲丙 (C)甲丁 (D)乙丙
- () 10. 過去有《戡亂時期預防匪謀再犯管教法》，其中規定人民因匪謀罪判處徒刑或受感化教育執行期滿後，如其思想行狀未改善，認有再犯之虞者，得令入勞動教育場所，強制工作嚴加管訓。此規定後遭司法院大法官宣告違憲。你認為下列哪一選項的說法正確？ (A)過去這個辦法只屬行政命令而已，如果是以法律規定，就沒有違憲疑慮 (B)再犯之虞定義太過模糊，違反明確性要求，如語意明確，此規定就沒違憲疑慮 (C)此規定等於讓國家對人民進行思想考核，在任何情況都違反人性尊嚴保障 (D)課以強制工作及嚴加管訓的處罰效果太強烈，如果較輕微，此規定就不違憲
- () 11. 為了實踐實質平等，確保社會正義，以我國為例，下列敘述何者主要是為了保障人民在法律上的實質平等而制定的規定？ (A)立法禁止青少年無正當理由深夜遊蕩 (B)發現購買的物品有瑕疵時可要求減價 (C)國家考試為身心障礙者延長考試時間 (D)對 6 至 15 歲學齡之國民提供義務教育
- () 12. 某甲到日本出差帶回鉅額日圓，在機場通關主動申報時，雖曾口頭說帶回日圓 3,000 多萬，但填單漏寫一個「0」寫成 300 萬，海關當下未提醒甲男，也未給口頭更正機會，即沒入漏未申報的日圓。甲不服提起訴訟，法官認為他非故意漏報，行政機關程序違法而改判免沒入。請問：行政機關違法的行政法原則最可能與下列何者相同？ (A)

- 行政機關要求民眾限期拆除違建，但期限未到即開罰 (B)交通罰單未載明違規事由，行政機關遂收回罰單補正 (C)闖紅燈民眾主張不罰別人就不能罰我，仍被開單處罰 (D)教師自認行為公正，故把子女安排在任教班就近照顧
- ()13. 設若立法院有感某疫情日益嚴重，使景氣低迷，故立法通過紓困方案，讓人民向行政院各部門申請紓困，並據此頒布高中以下師生出國禁令。但函送行政院時，行政院各部門認為上述修法將產生大量的申報案件，其人力難以負荷，且有過度限制人民居住遷徙自由之虞。下述相應處理方式，何者正確？ (A)因法案尚未公布，由總統召集黨團協商來修法 (B)由大法官會議主動宣告該法律違憲，要求修法 (C)總統可拒絕公布法律，將會重新進行立法程序 (D)經總統核可後，行政院可以向立法院提出覆議
- ()14. 阿成擺地攤販賣雜貨，但生意不好。某日，將色情片重製燒錄後，未加文字圖片，僅以素面包裝，陳列在攤位上販賣。不久後即被警察查獲移送法辦，法院依據《刑法》第235條第1項「散布猥褻物品罪」將阿成判決有罪，並將光碟片沒收。其後判決確定，阿成忿忿不平，認為不構成散布猥褻物品，處罰太沒道理。被告阿成在尋求司法救濟時，下列何者為其最可能的爭執重點？ (A)違反法律保留原則 (B)違反法律明確性原則 (C)違反法律優位原則 (D)違反禁止類推適用原則【100 學測】
- ()15. 公務員甲涉嫌收受賄款，由檢察官乙進行偵查。下列何者，屬於檢察官乙後續依法可行使之權限？ (A)立即帶領警察進入甲之辦公室及住宅，進行搜索 (B)如認定甲之行為並不構成犯罪，作成緩起訴處分 (C)偵查後認為甲之犯罪嫌疑重大，向法院聲請羈押 (D)代表國家向法院提起自訴，並且負擔起舉證責任【105 學測】
- ()16. 報載新北市有位17歲少年佯裝剛成年至車行買中古機車，想先試騎，店家不疑有他，將車交付給少年，沒想到他一去不返，車行驚覺受騙報警。隔日警方在路檢時攔查到該少年，少年第一時間供稱只是騎好玩沒要偷車。《刑法》第339條詐欺罪：「意圖為自己或第三人不法之所有，以詐術使人將本人或第三人之物交付者，處五年以下有期徒刑、拘役或科或併科一千元以下罰金。」針對此案加以分析，下列敘述何者正確？ (A)該少年需有不法所有之意圖，才會構成詐欺罪之要件 (B)就算延遲還車，只要最後有將車返還，不會構成犯罪 (C)該少年若主張自己其實僅17歲，即不須擔負刑事責任 (D)該少年即便未成年，仍會被檢察官依法直接提起公訴
- ()17. 《刑事妥速審判法》規定：「案件自第一審繫屬日起已逾六年且經最高法院第三次以上發回後，第二審法院更審維持第一審所為無罪判決，或其所為無罪之更審判決，如於更審前曾經同審級法院為二次以上無罪判決者，不得上訴於最高法院。」以被告權利保護角度分析此一法律的立法目的，下列敘述何者正確？ (A)目的在解決更審多年的陳年舊案，減輕法院負擔 (B)貫徹罪刑法定原則，法律無明文則不予處罰行為 (C)踐行比例原則，發現真實未比被告的自由權重要 (D)被告受無罪推定保護，檢察官應負責實證舉證責任
- ()18. 招弟因懷孕遭公司以影響工作表現為由資遣，後來她接觸到性別平等相關資訊，才意識到自己的生命歷程中迭遭不平等的對待。例如：父親告誡她不能列名族譜，母親說她已出嫁不能回去祭祖，而作為第一個小孩，父親取名為「招弟」。請問以我國現行法令來看，若她向法院或行政主管機關提出救濟，下列主張何者最可能成立？ (A)招弟這個名字侵害她的姓名權 (B)不得列名族譜侵害了平等繼承 (C)不得回家祭祖限制了宗教自由 (D)公司將她辭退侵害了工作權利【110 學測】
- ()19. 某一時期，英國國王下令關閉修道院，沒收教會財產，將其土地出售給富人，不僅獲得巨大利益，也調整政教關係。請問：如果依據現代法律保障財產權的理念，評論該時期英國國王沒收財產的事件，下列評論何者最適當？ (A)財產權的保障對象為自然人，教會非屬自然人，不是財產權的保障對象 (B)英王沒收教會財產，此沒收行為讓英王與教會構成債權債務之法律關係 (C)基於物權法定主義原則，若國家制定法律，英王可以合法沒收教會財產 (D)依所有權社會化原則，英王須為公益目的且必要時，才可取得教會財產【108 學測】
- ()20. 某公民團體舉辦「流浪生活體驗營」，邀請年輕人參加4天3夜的街友生活體驗。主辦單位認為很多街頭流浪者都非自己選擇「看似遊手好閒」的生活，而是因為很多不得已的原因才成為「街友」。該活動包括讓體驗者做按日或按件計酬的粗工、資源回收等體力勞動，藉此微薄收入支付每天生活所需。主辦單位認為用「遊民」的稱謂不妥，應要用「街友」來描述流浪者，其理由和下面何項主張最為相似？ (A)反對同性伴侶登記為配偶的權利 (B)反對原住民自願恢復其傳統姓名 (C)反對用新住民一詞稱呼外籍配偶 (D)反對將身體障礙者稱為殘障人士【107 學測】
- ()21. 2011年北韓領導人金正日過世，北韓新聞主播穿著韓國喪服播報這項消息；某國有位新聞主播當天也故意穿著韓服，並戲謔地夾雜韓語播報。從媒體識讀的角度，某國這則報導是否符合媒體的表現？ (A)符合，憲法保障媒體言論自由 (B)符合，媒體追求創意勇於突破 (C)不符合，媒體罔顧新聞倫理及專業 (D)不符合，媒體不應以創意沖淡哀傷【103 學測】
- ()22. 隨著網路科技發展，社群軟體與網站逐漸取代媒體，成為影響力強大的傳播工具。但也引發利用網路進行匿名人身攻擊，或是不當揭露個人資訊的問題。下列敘述何者正確？ (A)網路傳播的科技發展下的產物，目前無法規可以規範網路行為 (B)網路言論受到憲法言論自由保障，當然也可合法限制網路言論 (C)網路留言並非當面說出，只要不點閱就不會造成個人權益侵害 (D)人民有知的權利，公開個人資訊有助於進行監督，不受到處罰
- ()23. 根據我國《憲法增修條文》第四條的規定，每縣市至少應產生一位立法委員。就民主與選舉而言，下列何者是其項規定最能發揮的功能？ (A)保障人口數少的小縣能有國會代表 (B)提高偏鄉離島的投票率並減少廢票 (C)提升區域立委當選人的民意正當性 (D)解決區域選舉「票票不等值」問題【108 指考】
- ()24. 小麗長期關注水源區環境保護，她最近在一項公職人員選舉中獲勝。她的政見主要有兩項：一是當選後要修法禁止所有水源區設立工廠，以保護流入水源區的水流；二是水源區之外，也要立法實施廢水排放總量管制；政府可拍賣廢水排放執照，並容許廠商間交易廢水排放權。請問：依題文判斷，小麗當選的公職最可能擁有下列何項職權？ (A)提出當地縣市的總預算案 (B)提出總統、副總統罷免案 (C)解決縣市之間的事權爭議 (D)審理總統、副總統彈劾案【110 學測】

- () 25. 自 1990 年代民主化之後，我國立法院的政黨生態逐漸由一黨獨大制走向多黨制，近年來則轉變為兩黨制。我國立法院政黨生態由多黨制轉變為兩黨制的最主要原因為何？ (A) 社會分歧的兩極化 (B) 社會大眾厭惡小黨 (C) 選舉制度的改變 (D) 政府體制的調整【110 學測】
- () 26. 所謂「生態服務」，係指生態系統在運作過程中，能形成及維持人類賴以生存的自然空間及物化條件。如臺灣蚵仔養殖主要分布於西南沿海地區，不僅形塑獨特的養蚵文化，生產過程中還可以淨化海水，穩定海岸，蚵棚也成為魚蝦蟹的棲息地，其副產品蚵殼的碳酸鈣成為過去製作石灰的原料，深具有「生態服務」的價值。近年來有某縣市首長計畫在近海地區進行填土造陸工程以興建大型商城。地方人士認為該開發案勢必會衝擊養蚵文化和生態服務的功能，因此推動公民投票反對此一開發案。在爭取提案的過程中，公開發起人士逐一拜訪當地居民，成立公民論壇，邀請民眾討論開發案之利弊。參與民眾日趨增加，雖立場各有不同，卻共同自發組成社區發展協會。該公提案最後未能成立，土地開發案亦隨之執行。請問：上述開發案引發的公提案發展，下列詮釋何者最適當？ (A) 該公提案未能成立，係因屬重大預算案，依法由議會審議並不適用公投法 (B) 該公提案未能成立，反映出人民主權的精神在地方層級議題較不容易實踐 (C) 公提案雖未能成立，但已證明透過直接民主制度解決土地政策爭議的必要 (D) 公提案雖未能成立，但已顯現民主審議的歷程、精神以及可能面對的困境【108 學測】
- () 27. 身障立委由於自身限制，不容易在選舉中脫穎而出，但若國會中缺乏身障立委，對障礙者的權益保障與政府身心障礙政策監督將更難實現。在我國下列哪一選舉制度，最有可能讓身心障礙者與家屬們可集合眾人之力，推選出一位身障立委？ (A) 絕對多數決制 (B) 比例代表制 (C) 單一選區相對多數決制 (D) 複數選區相對多數決制
- () 28. 某國有「童婚」傳統，許多未滿 15 歲少女成為父母財產，被迫結婚而失去受教育機會。近年來國際人權團體批評此傳統剝奪女孩受教權，違反國際人權公約，因此屢向該國施壓，要求立法禁止，卻遭到該國政府反彈，呼籲外界應尊重其傳統文化。從人權保障觀點檢視前述國際人權團體的作為，下列何項看法最適當？ (A) 應該，人權公約尊重各國傳統，但童婚現象違反基本人權，超越文化尊重原則 (B) 不應該，人權團體雖然追求基本人權保障，但仍應尊重各國主權不可干涉內政 (C) 應該，舊式文化與進步的人權精神有違，不符世界的價值潮流，必須加以破除 (D) 不應該，人權團體雖秉持普世價值，仍須尊重各國國情，接受社會的文化差異【106 學測】
- () 29. 2020 年，主計總處公布「2019 年家庭收支調查結果」，去年最高 20% 家庭每戶所得為 213.8 萬元，與最低 20% 家庭每戶 35.0 萬元，差距 6.10 倍，較 2018 年的 6.09 倍微增 0.01 倍，不但連續三年增加，也是七年來差距最大，顯示貧富差距持續擴大中。下列措施何者有助緩解上述問題，達成更公平正義的社會？ (A) 全面提高健康保險的自付額度 (B) 提供托育津貼來鼓勵婦女就業 (C) 提升高所得者的綜合所得稅率 (D) 提高彩券中獎獎金的課稅門檻
- () 30. 當勞資有爭議時，勞工擁有所謂的「勞動三權」來與雇主協商，保障自己的權益。下列敘述何者並非團體爭議權難以落實的原因？ (A) 勞工法的強制規範，已足夠保障個別勞工權益無需行使爭議權 (B) 勞工的勞權意識薄弱，擔心被雇主針對與解僱，而不支持罷工 (C) 罷工影響民眾，使社會對罷工事件存有負面看法而不支持勞權 (D) 部分媒體帶有特定立場，使罷工行動無法獲得公平報導的機會
- () 31. 美國於 1954 年 9 月聯合英國、澳洲、法國、紐西蘭、巴基斯坦、泰國和菲律賓組成「東南亞公約組織」，其組織的目標與內容都與北大西洋公約組織類似，總部設於曼谷，美國原本希望我國也加入，但因各種原因而未果。美國補救的方式是： (A) 另與我簽訂共同防禦條約 (B) 支持我成為聯合國會員國 (C) 要求各國遵守聯合國憲章 (D) 支持我國加入東南亞國協【108 學測】
- () 32. 某地方政府首長舉辦行政會議，針對是否因治安惡化，犯罪事件頻傳，在各區加強照明與加裝監視器進行討論。因議題牽涉重大，決定先進行民調再研議。對於民調的進行方式，有網路民調與電話民調兩種選擇。下列敘述何者正確？ (A) 加裝監視器可能會有侵害人民的人身自由權之疑慮 (B) 回答民意調查，也是一種人民直接參與政治的方式 (C) 若進行網路民調，須注意不同人民的資訊落差問題 (D) 電話民調比較省時省力，顧及行政效率應優先採用
- () 33. 吐瓦魯 (Tuvalu) 是一個隨時會被海水淹沒的迷你島國，在這裡協助觀光行銷的臺灣志工林小姐說：「想趁著年輕，到處走走看看。」所以選擇出國擔任志工，並體驗到什麼叫做「窮得只剩下快樂」。若以經濟學中個人選擇的觀點來看，下列敘述何者正確？ (A) 年輕稍縱即逝，青春是有限的資源 (B) 賺錢的機會多則是，錢財並不具有稀少性 (C) 當志工僅能收取少數或甚至不收取報酬，對社會貢獻有限 (D) 「想趁著年輕，到處走走看看。」說明遊覽各國是當志工的機會成本【101 學測】
- () 34. 某新款智慧型手機上市引起排隊購買潮。若此手機售價為 10,000 元，甲心中最高願意支付 3,000 元託人排隊代買，經與有意代買之乙、丙商討，最後由乙收取甲代買費用 1,000 元，為甲購得此手機。請問：以下有關機會成本本的設計，何者正確？ (A) 甲購買此智慧型手機的機會成本為 13,000 元 (B) 乙為人排隊代買手機之機會成本為 2,000 元 (C) 丙為人排隊代買手機之機會成本大於 4,000 元 (D) 甲自己排隊買手機之機會成本至少高於 3,000 元【106 學測】
- () 35. 假設附圖為糖糖和小麥運用相同的資源和技術之下，一個工作天可生產麵包和蛋糕兩種產品的生產可能曲線。請問：下列相關敘述何者正確？



- (A)小麥生產1個麵包的機會成本是3個蛋糕 (B)糖糖生產1個蛋糕的機會成本是3個麵包 (C)糖糖專業生產麵包，而小麥專業生產蛋糕 (D)兩人進行專業化分工合作會使總產量變大
- ()36. 由於瓶裝水具有極大的便利性，全球瓶裝水的消費迅速增加，購買進口瓶裝水也成了時髦的象徵。但瓶裝水的消費及運送引發了環境問題，近年來社運人士陸續發起「反瓶裝水運動」。依上述有關瓶裝水所引發的問題，下列敘述何者最為正確？ (A)瓶裝水是造成水資源汙染的主要原因 (B)瓶裝水需求增加，極可能造成水資源的耗竭 (C)瓶裝水的包裝及運送大量排碳，助長溫室效應 (D)國際間水資源短缺，各國的水資源戰爭一觸即發【101學測】
- ()37. 原油耗盡的能源危機是現代社會的重大問題，但有經濟學家認為，依據經濟學的法則，原油不會用完，無需過於擔心。請問：下列何種理由最適合解釋此一論點？ (A)開採技術進步，未來原油供給遠大於需求，供給數量有增無減 (B)價格愈來愈高，供過於求使原油有所剩餘，而剩餘將持續增加 (C)替代能源愈來愈多，導致原油價格下跌，需求數量進一步減少 (D)原油若因數量稀少而變得愈來愈貴，市場需求數量自然會減少【105學測】
- ()38. 當X財貨銷量增加時，Y財貨的銷量也增加，而Z財貨銷量減少。則X、Y為消費上的「互補品」，X、Z為消費上的「替代品」。請問：下列哪一選項中的X、Y、Z財貨，符合上述特性？ (A)X：炒飯 Y：米糕 Z：海帶湯 (B)X：礦泉水 Y：手搖飲 Z：吸管 (C)X：低脂奶 Y：奶油 Z：豆漿 (D)X：汽車 Y：汽油 Z：電動車
- ()39. 屏東種植紅豆的農民，過去為避免鳥害造成農損，會利用毒餌造成小型鳥類死亡，進而導致檢食的老鷹跟著中毒。近來因維護生態環境，農夫改變耕作方式，在播種期不毒鳥、採收時不用落葉劑，以新創農業的方式建立「老鷹紅豆」品牌以及產銷履歷。雖然生產紅豆的成本上升，但有效提升消費者對產品的評價，使市場銷售價格與數量都大幅提升。老鷹紅豆的製作地區主要在屏東東港和萬丹一帶。請問：根據題文，以下何者最可以表現屏東紅豆由傳統產銷方式到新創品牌後，其市場供給與需求的變動情形？ (A)供給線上升，需求線上升，且前者移動幅度大於後者 (B)供給線上升，需求線下降，且後者移動幅度大於前者 (D)供給線下降，需求線上升，且前者移動幅度大於後者【109學測】
- ()40. 黃色小鴨旋風席捲全臺，造成民眾對小鴨玩具的需求大增，加上廠商無法立刻提高產能，即使以原有價格的兩倍購買，也無法解決小鴨玩具供不應求的問題。請問：以下有關小鴨玩具價格措施以及對經濟效率或福祉影響的敘述何者正確？ (A)提高玩具價格可降低需求數量、提升整體經濟效率 (B)提高玩具價格可提高供給數量，但會損害生產者剩餘 (C)管制玩具價格在原價兩倍之下可保障民眾權益，避免降低經濟效率 (D)限制玩具維持原有價格，可讓經濟效率的損失達到最低【103學測】

二、題組：(2分, 20%)

1. 人力為重要的生產要素之一，人力資源的質與量將影響一國的經濟發展。隨著我國婦女生育率長期持續下降，連帶影響著未來總人口數及工作年齡人口數；另一方面，因醫療技術、公共衛生的改善與提升，我國老年人口平均壽命快速增長，人口結構高齡化程度日益嚴峻。
- (41)下列哪一項做法，可以提高我國的勞動參與率，減少工作人口之扶養負擔？ (A)鼓勵退休人員擔任志工，以增加志工群體 (B)提供補助、鼓勵就讀大學，提升勞工素質 (C)提供家庭照護假，鼓勵留職停薪照顧家人 (D)改善勞動環境，讓無工作意願者加入職場
- (42)因應高齡化社會來臨，有關我國所實施的社會保險與福利制度，下列敘述何者正確？ (A)為符合公平原則，需繳納税金才提供老人福利給付 (B)考量個人財力不同，健康保險採取自願參加為原則 (C)為照顧老人生活，年金保險採取最優渥給付為原則 (D)中央政府與民間機構公私協力，有效率的提供服務
2. 2018年，瑞典的環保女孩桑柏格(Greta Thunberg)發動罷課，定期到瑞典國會外駐點抗議國家不重視永續發展，要求官員採取行動，而引發全球105個國家、數十萬的學生響應其罷課行動，希望重視全球暖化問題。2019年，她獲選時代雜誌風雲人物，也曾於聯合國氣候峰會怒控各國領袖忽視全球暖化。
- 過去為了對抗全球暖化，聯合國在1997年制定《京都議定書》，目標是「將大氣中的溫室氣體含量穩定在一個適當的水準，以保證生態系統的平滑適應、食物的安全生產和經濟的可持續發展」。但《京都議定書》中具法律強制性(legal-binding)的責任，令各國難以拱擇。最終在中美兩大排碳國拒絕簽署下，決定其效力不彰。
- 而後，取代《京都議定書》的《巴黎協定》，不再使用「溫室氣體減量」作為各國對抗氣候變遷的標準，而是以「升溫上限」作為全球共同努力的目標。且不再強制國家遵守，而是希望所有國家自主提出《國家自願減碳貢獻》。希望透過「由下而上」的方式，去達成各國「共同但有區別的減碳責任」。
- 但各國依舊沒有積極作為，最終暖化問題日益嚴重，而出現了學生的全球罷課活動，抗議各國領袖忽視全球暖化，讓他們的未來失去希望。
- (43)各國領袖忽視全球暖化，不願簽署相關議定書或協定，最有可能的原因為何？ (A)受到暖化影響的只有低海拔區域，不值得重視 (B)減碳措施會增加企業成本，不利各國經濟發展 (C)全球化的結果，使碳排放的責任歸屬難以確定 (D)各國民眾對於全球暖化與罷課的忍受程度提高

(44) 全球化與永續發展衝突，形成國家治理的挑戰，以我國為例，下列何種主張與題文的全球化議題引發的衝突屬於同一面向？ (A) 反對開放外國農產品進口 (B) 反對擴大引進國際移工 (C) 反對徵收農地當科技園區 (D) 反對漁業捕撈數量的限制

(45) 反全球暖化罷課活動反映了永續性的重要，下列何種人士最有可能支持題文中永續發展的看法？ (A) 因氣候變遷而被迫離開家園的人民 (B) 嬰幼兒照顧服務產業的雇主與員工 (C) 晶圓、筆電等類的資訊產業與員工 (D) 專門經營進口食材超市的企業老闆

3. 資料一：據環保署空氣品質監測網顯示，中南部民眾在2017年全年只有近兩個月的健康空氣。分析國內空汙來源，根據環保署統計，三分之一來自境外汙染，三分之二來自國內，境內來源共有三面向，首先為二行程機車、大、小客車等移動汙染源占30~37%；其次，電力、鋼鐵、水泥、煉油等工業汙染源占27~31%；第三則是道路揚塵、露天燃燒、餐飲業等其他汙染源占32~43%，所占比依各縣市產業型態分布有所不同。

資料二：政府為了達到環境保護、減少空氣汙染的目的，透過許多政策鼓勵民眾使用電動車，包含限制愈來愈嚴格的排放標準配合罰鍰、激勵電動車購買欲的補助政策、增設充電站位置。加上電動車本身效能的提升，使2019年電動車銷售表現亮眼，成功對燃油機車構成威脅。但2020年，電動車因為政府補助減少、疫情影響油價大跌等大環境因素，銷售大幅下滑。

(46) 關於政府電動車政策的誘因使用，下列敘述何者正確？ (A) 鼓勵政策是以非金錢誘因為主來影響人民 (B) 大部分的民眾買車都受到價格因素的影響 (C) 政府提高排放氣檢驗標準會提高燃油車買氣 (D) 金錢誘因的效果佳可產生長久的行為改變

(47) 根據上文，政府以各種政策干預市場，最主要的目的為何？ (A) 以看不見的手，來讓市場更有效率 (B) 以看得見的手，來了改善外部成本 (C) 擴大電動車市場需求，來促進經濟 (D) 改善電動車市場資訊的透明性不足

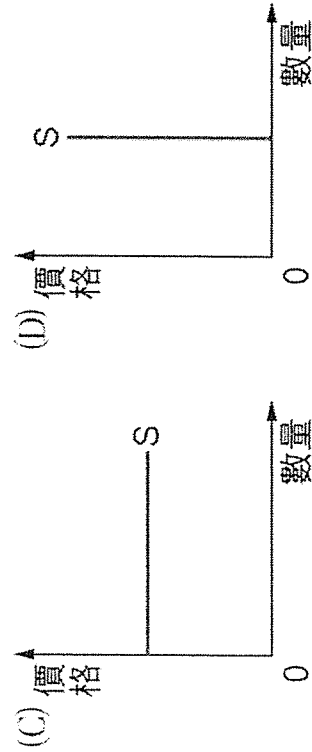
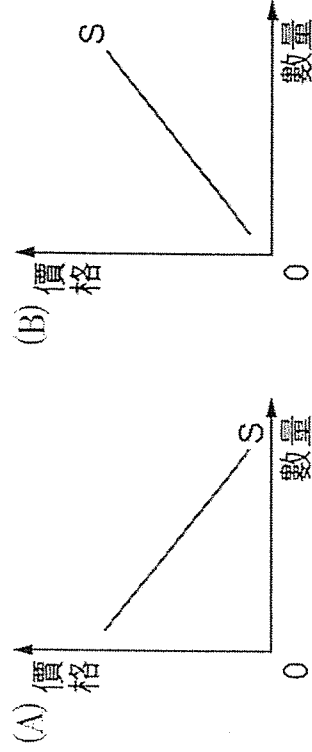
4. 2020年11月，行政院通過文化部的「文化藝術獎助及促進條例修正草案」，藝術品拍賣所得改採分離課稅就源扣繳，不必併入綜合所得稅計算，希望可以達到友善拍賣市場之目的。

行政院秘書長表示，臺灣目前的藝術品拍賣市場，1年的拍賣金額僅23億元，香港則有411億元。但香港藝術品拍賣市場交易，有6成是臺灣人貢獻，因此政府希望透過稅制簡化的改變，活絡藝術品拍賣人才。

藝術品拍賣不只是買賣，有時也會引來國家的角力。例如：圓明園十二生肖獸首銅像原來是清朝皇家園林圓明園噴泉的一部分，在晚清一場戰爭中遭到外人掠奪，幾件獸首銅像陸續在藝術品拍賣會中公開，供收藏家競標，引來中國政府抗議。最終現身的獸首都以高價拍出，2009年2月在法國巴黎大皇宮舉行的聖羅蘭 (YSL) 珍藏品拍賣會，圓明園鼠首和兔首銅以1,400萬歐元 (約新臺幣6億2,000萬元) 成交。

(48) 藝術品拍賣簡化個人所得稅，對拍賣市場帶來的影響，與下列何者相同？ (A) 由於氣候異常影響穀物歉收，造成穀物供給減少 (B) 由於汽油價格上漲，使得電動車的 demand 不斷攀升 (C) 由於檸檬價格下降，使得蜂蜜檸檬飲的供給增加 (D) 由於香蕉的價格下降，蕉農轉而生產其他農作物

(49) 從經濟學的角度來看，獸首的價格與供給量的關係圖形會是下列何圖？



(50) 開雲集團是一家以經營服裝及配飾等奢侈品為主的國際上市公司，總部位在法國巴黎，為世界第二大奢侈品公司，旗下擁有數十個大量知名品牌，像是古馳 (Gucci)、聖羅蘭 (YSL)、巴黎世家 (Balenciaga)、芝柏錶 (Girard-Perregaux) 等。請問：開雲集團不斷併購奢侈品品牌的經營模式，最符合現代工業的何種特徵？ (A) 產業群聚 (B) 垂直分工 (C) 水平整合 (D) 區位移轉 【跨科題：地理】

