

110 學年度第一學期第一次段考《國三》國文科答案

一、單選題（每題 2 分，共 60 分）

01. (C) 02. (B) 03. (A) 04. (A) 05. (C)
06. (D) 07. (D) 08. (B) 09. (A) 10. (C)
11. (A) 12. (B) 13. (C) 14. (D) 15. (C)
16. (D) 17. (B) 18. (C) 19. (D) 20. (B)
21. (B) 22. (D) 23. (C) 24. (A) 25. (D)
26. (D) 27. (C) 28. (A) 29. (A) 30. (C)

二、閱讀理解（每題 2 分，共 16 分）：

31. (A) 32. (C) 33. (D) 34. (A) 35. (B)
36. (C) 37. (A) 38. (C)

三、閱讀題組（每題 2 分，共 24 分）：

- 39 (B)；40 (C)
41 (C)；42 (B)；43 (A)；44 (C)；45 (D)
46 (A)；47 (D)；48 (D)；49 (A)；50 (B)

【聽力共 100 分。配分: 1~10 → 每題 4 分; 11~30 → 每題 3 分】

1	2	3	4	5	6	7	8	9	10	11	12	13	14	15
A	B	B	C	C	A	C	A	C	B	C	C	A	A	B
16	17	18	19	20	21	22	23	24	25	26	27	28	29	30
A	B	C	B	C	C	B	A	C	A	C	C	B	B	C

一、辨識句意

1. This baseball game is exciting.
2. Brian hasn't had enough, so he is still eating.
3. The singer is blowing kisses to his fans.
4. The kite was flown by the boy.
5. The woman is having an interesting chat with the shopkeeper.
6. A bug was found in the noodles.
7. The wallet was left on the table.
8. Peter has got many presents.
9. A truck stopped by the sidewalk.
10. Jessica's arm was bitten by an insect yesterday.

三、言談理解

21. W: We haven't visited Grandma for a long time. I miss her so much.

M: Me, too. But we've been too busy. We haven't had a break from work for six months.

W: Maybe we should take a few days off and visit her.

M: That's a good idea.

Q: Why haven't the man and the woman visited their grandma?

22. B: Are these flowers dead?

G: No, they're still alive. They just haven't been watered for two days.

B: How often should they be watered?

G: Twice a day around 10 a.m. and 4 p.m.

Q: What do we know about the flowers?

23. B: What's that over there?

G: Is it a cellphone?

B: No, it looks like a wallet.

G: You are right! There's a lot of money in it. Let's take it to the police station.

Q: What has been found by the speakers?

24. W: You know what? Nicholas has been cheated out of a lot of money by his best friend, Zach.

M: Zach? No way! They've been best friends since high school. Nicholas treated him like his own brother.

W: I didn't believe it at first. But Nicholas came in the office and had a fight with Zach.

M: How could Zach do such a mean thing to his best friend? Nicholas must be mad and sad at the same time.

Q: What happened to Nicholas?

25. B: Jena, don't eat so fast. You still have time.

G: I can't help it. I'm so hungry.

B: Why?

G: I haven't eaten anything since noon!

Q: Why is Jena eating so fast?

二、基本問答

11. Where's Mom? I didn't see her in the kitchen.

12. Are you still looking for your wallet?

13. Can I have someone help me do my homework?

14. How many times have you been to the USA?

15. Has Dad called yet?

16. When will the party be held?

17. When was this photo taken?

18. What was that man caught doing by the police?

19. How long has your brother been on vacation?

20. I went to a baseball training camp for five days last week.

My arms are so sore.

26. B: Wasn't the story funny, Jenny?

G: Yes, it was funny.

B: Why didn't you laugh then? Didn't you like it?

G: Come on! You have told this story a hundred times.

Q: Why didn't Jenny laugh?

27. M: Hey, Lisa. I bought a present for you!

W: What is it? A ball? A kite? A costume?

M: Just open it!

W: It's a camera! I've wanted one since last year. Thank you so much, Dave!

Q: What present has Dave given to Lisa?

28. W: My boss asked me to work on the holidays this week.

M: Why? You didn't finish your work on time?

W: My boss' secretary has been sick for a week. John and I have to help finish his work before next Monday.

M: I hope your boss' secretary get well soon. Or you will get sick.

Q: What does the man mean?

29. : M: This is my first time in the Netherlands. I'm so excited. I have planned this trip for three months.

W: Do you know the Alkmaar Cheese Market?

M: The Alkmaar Cheese Market? I've never heard of it. Have you been there before?

W: You bet. I've been there twice. They put all kinds of cheese on display there. You should go if you have time.

Q: What are the man and the woman doing?

30. M: How long have you learned to play the piano, Julia?

W: The piano? I have never learned to play the piano in my life.

M: I remember seeing a piano in your house. Isn't that yours?

W: No, it belongs to my little brother, Jason. In my family, only Jason plays the piano. But the piano hasn't been played since he went to Canada two years ago.

Q: How long hasn't the piano been played?

閱讀解答卷

1~14 → 每題 2 分；16~39 → 每題 3 分】

	4	5	6	7	8	9	10
	A	A	C	C	B	B	D
	14	15	16	17	18	19	20
	A	C	B	D	A	C	D
	24	25	26	27	28	29	30
	C	D	A	D	B	A	C
	34	35	36	37	38	39	40
	C	D	A	C	D		

單一選擇題（每題 4 分，共 88 分）

1. 答案：(A)
2. 答案：(D)
3. 答案：(B)
4. 答案：(A)
5. 答案：(B)
6. 答案：(D)
7. 答案：(B)
8. 答案：(B)
9. 答案：(C)
10. 答案：(C)
11. 答案：(A)
12. 答案：(D)
13. 答案：(B)
14. 答案：(A)
15. 答案：(C)
16. 答案：(D)
17. 答案：(C)
18. 答案：(C)
19. 答案：(D)
20. 答案：(C)
21. 答案：(C)
22. 答案：(D)

二、非選擇題計算（每題 6 分，共 12 分）

1. 答案： $\frac{9}{4}$

2. 答案：(1) $a : b = \frac{1}{3} : \frac{1}{2} = 2 : 3$ ， $b : c = 4 : 5$

$\Rightarrow a : b : c = 8 : 12 : 15$

$a : b : c$

$2 : 3$

$4 : 5$

$8 : 12 : 15$

設 $a = 8r$ ， $b = 12r$ ， $c = 15r$ ，且 $r \neq 0$

$(a + 8) : (b + 12) : (c + 15)$

$= 8(r + 1) : 12(r + 1) : 15(r + 1)$
 $= 8 : 12 : 15$

(2) $3 \times 8r + 12r - 2 \times 15r = 27$ ， $6r = 27$ ， $r = \frac{9}{2}$

$\therefore a + b + c = (8 + 12 + 15) \times \frac{9}{2} = \frac{315}{2}$

答：(1) $8 : 12 : 15$ ；(2) $\frac{315}{2}$

鼓山中學 110 學年度第一學期第一次段考(國三)自然科解答卷

一、基礎題(每題 2 分，共 50 分)

1. A
2. C
3. A
4. D
5. C
6. D
7. B
8. A
9. B
10. C
11. C
12. A
13. C
14. A
15. D
16. B
17. D
18. D
19. D
20. C
21. D
22. D
23. B
24. A
25. A

二、進階題(每題 2 分，共 50 分)

26. A
27. D
28. B
29. B
30. D
31. C
32. C
33. D
34. A
35. B
36. B
37. D
38. C
39. A
40. A
41. B
42. C
43. D
44. B
45. D
46. C
47. C
48. D
49. B
50. C

高雄市立鼓山高級中學國中部 110 學年度第 1 學期第 1 次段考三年級地理科試題

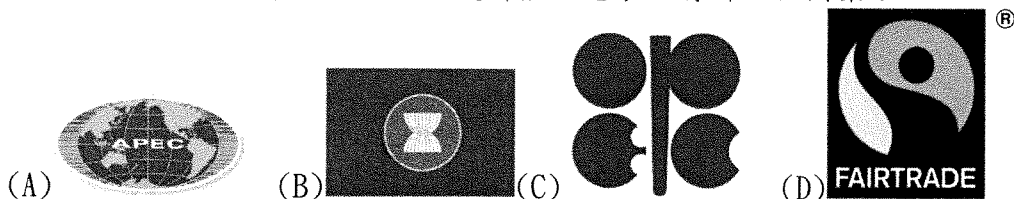
考試範圍：第一、二章

科目代碼：08

班級： 座號： 姓名：

壹、單一選擇題：(每題 4 分，共 100 分)

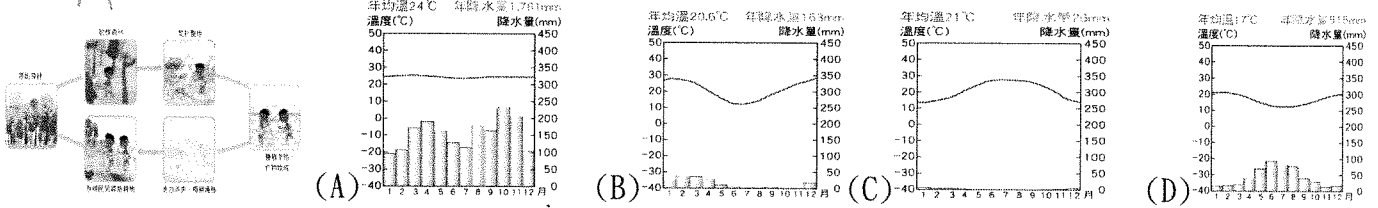
26. (C) 企業除了賺取利潤以外，也會善盡社會責任，幫助弱勢。如瑞士企業家發明了「生命吸管」更幫助許多非洲人改善飲水品質。由此可知，這些企業是以什麼樣的方式幫助非洲人民？(A)給予金錢支援 (B)提高最低工資 (C)提供民生設備 (D)引進醫療資源。
27. (C) 吉利馬札羅山位居赤道附近，山頂卻長年白雪皚皚。下列哪一段敘述最能解釋上述現象？(A)山頂氣壓過高，因此異常寒冷(B)熱帶雨林氣候，因此水氣充足 (C)山頂地勢過高，因此氣溫偏低 (D)山頂緯度極高，因此長年積雪。
28. (B) 非洲有一處「裂谷地形」被稱為「地球上最大的傷疤」。請問：關於該地的敘述，何者正確？(甲)位於非洲東部 (乙)位於非洲西部 (丙)由河川侵蝕而成 (丁)由斷層作用形成 (A)甲丙 (B)甲丁 (C)乙丙 (D)乙丁。
29. (B) 世界上許多熱帶國家都有被殖民的經歷，而過程中衍生的經濟發展模式稱為「殖民地式經濟」。在這種經濟模式之下，被殖民者主要從事何種經濟活動？(A)為世界提供糧食作物 (B)提供經濟作物和礦產 (C)生產提供民生必需品 (D)發展科技與世界接軌。
30. (A) 非洲陸塊在地質上十分古老，約有三分之一屬於前寒武紀的岩層。請問：下列何者與此地理特徵有密切關聯？(A)礦藏豐富 (B)平原狹小 (C)沙漠廣布 (D)下游河流湍急。
31. (C) 南非的那米比沙漠因擁有高達 300 公尺的沙丘，而成為地質學家經常拜訪、研究之地。請問：當地的沙漠景觀主要是下列哪一個因素影響而成？(A)高山地形(B)鄰近撒哈拉沙漠(C)本吉拉涼流流經 (D)距海遙遠，水氣不易到達。
32. (B) 世界咖啡出口大國之一的衣索比亞，每年生產大約 35 萬噸的咖啡，其中三成出口到世界各國，咖啡經濟占了該國 GDP 的一半以上。當地大規模的種植咖啡可能對國家造成下列何種影響？(A)農業型態粗放且機械化(B)經濟易受國際市場價格影響(C)糧食作物產量增加(D)農民擺脫貧窮。
33. (B) 近年來，漠南非洲的自然環境破壞層出不窮，如雨林不當砍伐、草原土地沙漠化……等，其原因與下列哪些相關？(甲)人口快速增加 (乙)農民為了提高生活收入擴大耕地 (丙)不公平的貿易制度 (丁)礦產開發規模持續上升 (A)甲乙丙(B)甲乙丁(C)甲丙丁(D)乙丙甲。
34. (A) 非洲是一個充滿多元族群與文化的大陸，其中最早進入漠南非洲的宗教是下列何者(A)阿拉伯人帶來的伊斯蘭教(B)印度人帶來的印度教(C)歐洲殖民者帶來的基督教(D)中國傳來的佛教。
35. (C) 在漠南非洲各國，不難發現基督宗教的蹤跡。有關漠南非洲的基督宗教，最有可能在何時傳播至此？(A)羅馬帝國時期(B)伊斯蘭帝國時期(C)西方殖民時期 (D)現代民族國家時期。
36. (D) 漠南非洲因長期農產品收購價格過低，影響當地農民生計。華安若要用實際行動支持以合理價格購買非洲當地農產，他可以選擇產品包裝上有哪一個圖案？



37. (C) 非洲大陸北有撒哈拉沙漠，南有喀拉哈里沙漠，下列何者是形成此種地理景觀的主要原因？(A)距海遙遠 (B)沿岸有暖流經過 (C)位於副熱帶高壓下方 (D)高山環繞，焚風出現頻繁。
38. (D) 聯合國為解決非洲的饑荒問題，提供各種方案，希望讓非洲的人民得以脫離困境。請問：下

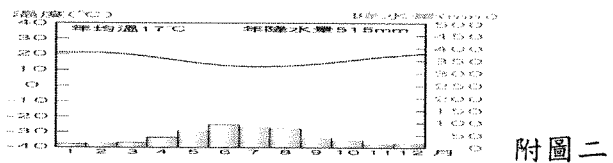
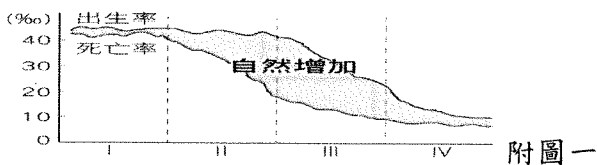
列所提出的方案中，何者最可能有效解決相關問題？ (A)興建排水措施，解決洪澇問題 (B)鼓勵生育，提供充足勞動力 (C)提供武器防衛，避免鄰國侵略 (D)興建水利設施，適當灌溉耕地。

39. (A) 附圖為漠南非洲某地區居民的生活方式。請問：這樣生活方式最容易出現在哪一種氣候區？



40. (B) 非洲的經濟發展與其他各洲相較，顯得緩慢，且因外來文化不易傳入，居民長期維持傳統的生活型態。請問：下列何項敘述，與造成上述情況的原因較無關？ (A)海岸陡直，少良港 (B)遠離其他各大洲，位置獨立 (C)撒哈拉沙漠橫互，交通不便 (D)河川多急流瀑布，不利航行。

41. (B) 附圖一是人口轉型四階段示意圖。漠南非洲各國在醫療改善下，死亡率已顯著降低；但農礦業的發展需要大量人口，因此出生率居高不下。由此可知漠南非洲各國目前的人口轉型位於圖中的第幾階段？ (A)第 I 階段 (B)第 II 階段 (C)第 III 階段 (D)第 IV 階段。



42. (A) 附圖二為非洲某地的氣候圖。由圖中的氣溫、降水量資料判斷，該地最可能是下列何地？ (A)南非共和國—開普敦 (B)埃及—開羅 (C)奈及利亞—卡諾 (D)剛果民主共和國—吉山干尼。

43. (C) 非洲因某地形占 60%以上，故被稱為「○○大陸」。請問：其地形主體類似下列何種地圖？



44. (D) 漠南非洲的熱帶氣候分別有乾燥、莽原與雨林氣候。若從赤道開始，隨著緯度增加，三種氣候特徵的變化敘述，下列何者正確 (A)年降水量愈來愈多 (B)降水愈集中在冬季 (C)乾季愈來愈不明顯 (D)年溫差愈來愈大。

45. (B) 非洲各國家的國界呈現依經緯線的切割與分布。請問：上述情況的成因為下列何者？ (A)依此劃分國土較為公平 (B)昔日列強未考慮族群與部落的界線 (C)地形區的分布恰好可成為天然國界 (D)現今國界的分布就是古文明的分布

46. (D) 奈及利亞最大的都市拉哥斯，為非洲第二大都市，僅次於埃及開羅。請問：拉哥斯成為非洲第二大都市，可能與奈及利亞富有何項天然資源有關？ (A)香蕉 (B)鑽石 (C)咖啡 (D)石油。

47. (D) 漠南非洲原住民的生活方式深受氣候限制，下列氣候帶與維生方式的配對中，何者不正確？ (A)熱帶莽原—游耕 (B)熱帶雨林—狩獵 (C)熱帶乾燥氣候區—游牧 (D)熱帶莽原氣候區—採集。

48. (B) 南非東南沿海地區因受信風自印度洋帶來水氣的影響，屬於夏雨型暖溫帶氣候。請問：上述的「信風」風向應該為何？ (A)東北風 (B)東南風 (C)西北風 (D)西南風。

49. (B) 老師說：「非洲地形雖然是以高原為主體，但卻陷落了四個低地，請同學舉出這些地形在非洲相對位置的配對。」請問：下列同學的答案中，何者錯誤？ (A)東部有東非大裂谷 (B)中部有塔里木盆地 (C)南部有喀拉哈里盆地 (D)北部為撒哈拉盆地。

50. (C) 非洲的氣候類型：(甲)熱帶莽原 (乙)熱帶乾燥 (丙)熱帶雨林 (丁)溫帶地中海型。上述四種氣候如由低緯到高緯排列，正確的順序為何？ (A)甲→乙→丙→丁 (B)甲→乙→丁→丙 (C)丙→甲→乙→丁 (D)丁→丙→乙→甲。

高雄市立鼓山高中 110 學年度第一學期第一次段考《國三》歷史科試題卷

考試範圍：第 5 冊 第 1.2 課 p.80-91

電腦讀卡代碼：08

年 班 號 姓名

答案欄

一、選擇題：每題 4 分，共 100 分

1	D	2	D	3	A	4	C	5	B	6	C	7	A	8	B	9	D	10	B
11	A	12	C	13	A	14	C	15	B	16	C	17	A	18	D	19	B	20	A
21	A	22	D	23	C	24	B	25	D										

鼓山高中國中部 109 學年度第一學期九年級社會科(公民)第一次月考答案

51. B	52. C	53. B	54. B	55. A	56. A	57. B D	58. C	59. D	60. C
61. A	62. A	63. A	64. C	65. B	66. B	67. A	68. B	69. A	70. A
71. B	72. C	73. D	74. B	75. A					