

# 高雄市立鼓山高中 114 學年度第一學期第三次段考《國三》國文科試題卷

考試範圍：寄弟墨書、一棵開花的樹、曲選、人間情分、湖心亭看雪

電腦讀卡代碼：01

## 一、選擇題 1~40 每題 2.5 分，共 100 分。

三——7171——張

〈 〉 1、下列「」字的注音，何者正確？

- 〈A〉 蒼莖跟鬧鐘每天早上七點準時對「峙」，但輸的永遠是她：ㄗ
  - 〈B〉 勛勛一看到免費點心，立刻「攫」取三塊，連監視器也拍攝不到：ㄐㄩㄣˊ
  - 〈C〉 寓憲知道自己作業忘記交，就知道今天一定要「捱」罵：ㄞˊ
  - 〈D〉 誠誠子以為十分「個」儻地揮手跟同學說再見，沒注意到褲子拉鍊未拉：ㄍㄨㄟˊ
- 〈 〉 2、下列「」字的注音，何者錯誤？
- 〈A〉 平安夜沒有作業也沒有朋友，房間只剩下凱凱自己與寂「寥」對坐：ㄌㄨㄠˊ
  - 〈B〉 早自修的教室十分寧「謐」，只剩下承承肚子抗議的聲音：ㄇㄧˊ
  - 〈C〉 教室冷氣太強，姿勢只能靠外套假裝自己穿著「氈」衣：ㄘㄨㄢˊ
  - 〈D〉 蒼莖把毛「氈」裹在身上，只差一頂帳篷就變成遊牧民族：ㄔㄨㄛˊ

〈 〉 3、下列文句中，何者沒有錯別字？

- 〈A〉 我斟酌著要先吃飯還是先打手遊，結果兩邊都沒完成
- 〈B〉 我每天騰出時間滑手機，專心研究「怎麼不寫作業也能過關」
- 〈C〉 看到同學居然帶著整箱零食上課，我岔異到嘴巴都張開
- 〈D〉 爺爺雖年逾八十，仍精神矍鑠，每天早晨散步不曾間斷

〈 〉 4、下列文句中，何者有錯別字？

- 〈A〉 看到營養午餐全被吃光，我對同學瞠目結舌，完全無言以對
- 〈B〉 德德做事心思縝密，每一個細節都考慮周到，因此計畫順利完成
- 〈C〉 畢業離別學校時，樂樂心中惆悵，眼眶微微泛紅
- 〈D〉 在討論會上，丞丞對不同意見進行了理性辯駁，展示出思考能力。

〈 〉 5、下列文句「」中的字義，何者正確？

- 〈A〉 我獨何人，貪求無「厭」：滿足
- 〈B〉 而今而後，堪為農夫以「沒世」矣：死亡
- 〈C〉 其不能「發達」者，鄉里作惡：獲得財富
- 〈D〉 不得志，修身「見」於世：被看見

〈 〉 6、下列文句「」中的字義，何者不正確？

- 〈A〉 我已在佛前，求了五百年，求祂讓我們結一段「塵緣」：世俗的緣分
- 〈B〉 夕陽西下，「斷腸」人在天涯：形容極為悲傷
- 〈C〉 傲「殺」人間萬戶侯：輕視
- 〈D〉 忍不住要為這樣妥貼的心意而「動容」了：臉上呈現感動的表情

〈 〉 7、〈一棵開花的樹〉詩中，作者將純然真摯的抽象情思，透過具體可感的事物形象表現出來。關於詩中事物形象的說明，下列敘述何者正確？

- 〈A〉 一棵開花的樹：女子內心的孤獨無助
- 〈B〉 朵朵盛開的花：女子內心的無限哀愁
- 〈C〉 落了一地的花瓣：女子滿心的思念
- 〈D〉 顫抖的葉：女子因等待的熱情而緊張不安

〈 〉 8、〈一棵開花的樹〉，詩中主角的心境，可以用哪一句話說明？

- 〈A〉 人生自是有情痴，此恨不關風與月
- 〈B〉 悄悄的我走了，正如我悄悄的來，我揮一揮衣袖，不帶走一片雲彩
- 〈C〉 世界上最遙遠的距離，是我站在你面前，你卻不知道我愛你
- 〈D〉 我達達的馬蹄是美麗的錯誤，我不是歸人，是個過客

- 〈 〉 9、「其實時間是會掩蓋事實，但是愈大的創傷，愈不容易結痂的，所以如果只是把創傷掩蔽起來，難保不會在你最脆弱的時候，再來一記回馬槍。」這段話要表達的意思為何？
- 〈A〉 面對傷痛，不是當它不存在，而是勇於面對
- 〈B〉 時間是最好的良藥，久了自然就沖淡內心的傷痛
- 〈C〉 不再回憶過往，將悲傷掩藏起來，總有一天會復原
- 〈D〉 不論盡多大的力量，心靈的創傷永遠無法被治癒
- 〈 〉 10、下面關於詩、詞、曲三者的比較，何者完全正確？

選項	唐詩	宋詞	元曲
〈A〉 體裁	律詩、絕句	小令、中調、長調	散曲、雜劇
〈B〉 押韻	可以換韻	依照詞牌	依照曲牌
〈C〉 科白	無	有	有
〈D〉 風格	典雅	俚俗	莊重

- 〈 〉 11、根據下列句子的格律和風格判斷，何者為元曲？
- 〈A〉 萋萋芳草憶王孫，柳外樓高空斷魂，杜宇聲聲不忍聞。欲黃昏，雨打梨花深閉門。
- 〈B〉 山暝聽猿愁，滄江急夜流。風鳴兩岸葉，月照一孤舟。建德非吾土，維揚憶舊遊。還將兩行淚，遙寄海西頭。
- 〈C〉 迢迢牽牛星，皎皎河漢女。織織擢素手，札札弄機杼。終日不成章，泣涕零如雨。
- 〈D〉 舊酒沒，新醅潑，老瓦盆邊笑呵呵。共山僧野叟閒吟和。他出一對雞，我出一個鶻，閒快活
- 〈 〉 12、〈沈醉東風 漁父〉一曲中，哪一句是漁父對隱逸生活的自我肯定？
- 〈A〉 黃蘆岸白蘋渡口，綠楊堤紅蓼灘頭
- 〈B〉 傲殺人間萬戶侯，不識字煙波釣叟
- 〈C〉 雖無刎頸交，卻有忘機友
- 〈D〉 點秋江白鷺沙鷗
- 〈 〉 13、〈沈醉東風 漁父〉一曲中，哪一句最具有動態的美感？
- 〈A〉 黃蘆岸白蘋渡口，綠楊堤紅蓼灘頭
- 〈B〉 傲殺人間萬戶侯，不識字煙波釣叟
- 〈C〉 雖無刎頸交，卻有忘機友
- 〈D〉 點秋江白鷺沙鷗
- 〈 〉 14、〈天淨沙 秋思〉開頭三句疊用九個名詞，而為後人所稱道。下列文句何者並未全部使用名詞來敘述？
- 〈A〉 日月籠中鳥，乾坤水上萍
- 〈B〉 雞聲茅店月，人跡板橋霜
- 〈C〉 西塞山前白鷺飛，桃花流水鱖魚肥
- 〈D〉 樓船夜雪瓜洲渡，鐵馬秋風大散關
- 〈 〉 15、〈天淨沙 秋思〉一曲中，作者藉由描寫秋天蕭條的景物，襯托出遊子漂泊異鄉的心境。下列詩句，何者也是描寫思鄉或遊子的心情？
- 〈A〉 濁酒一杯家萬里，燕然未勒歸無計，羌管悠悠霜滿地
- 〈B〉 夕殿下珠簾，流螢飛復息。長夜縫羅衣，思君此何極？
- 〈C〉 岸邊煙柳蒼蒼，江上寒波漾漾。舊曲低低唱，只恐行人斷腸
- 〈D〉 問余何事棲碧山，笑而不答心自閑。桃花流水窅然去，別有天地非人間
- 〈 〉 16、下列「」中的詞語，何者使用完全正確？
- 〈A〉 小婷「自詡」為歌后，同學都表示贊同／小德熱心助人，以服務人生「自許」
- 〈B〉 這位「不肖」父母的人，遭到鄰里鄙視／這位「不孝」商人，販賣造假的韓國演唱會門票
- 〈C〉 面對他人的指責，他總「寞然」以對／老齡化的社會，越來越多人「默然」獨居
- 〈D〉 無論對手如何挑釁，「切忌」不可以自亂陣腳／不認識野外食用植物，「切記」隨意採食
- 〈 〉 17、「君子如抱美玉而深藏不市，小人則以石為玉而又炫之。」根據這句話，君子不同於小人的特質是？
- 〈A〉 真實坦率 〈B〉 見多識廣 〈C〉 臨財不苟 〈D〉 沉潛含蓄
- 〈 〉 18、「如果開一些花、結一些果／那是獻上怎樣的感激／如果冷冷漠漠的病蟲害／或是狂暴的風雨／蝕盡所有辛辛苦苦寫上去的足印／不悲、不怨，繼續走下去」關於這段詩句的解讀，下列何者最恰當？
- 〈A〉 強調每一米粒的背後，都是農民辛苦所得
- 〈B〉 展現農民知足感恩，守本分不妄求的精神
- 〈C〉 人們因大地無私的包容，而得以生存於此
- 〈D〉 點出福禍無常，農人無力抵抗天災的無奈

〈 〉 19、鄭燮認為「士」為四民之末，下列何者不是他的理由？

- 〈A〉 某些士人，一身酸腐氣息，無成就的甚至作惡鄉里
- 〈B〉 農工商皆有便民之處，獨士人不事生產，於民大不便
- 〈C〉 讀書人深諳以退為進的道理，故謙居末位
- 〈D〉 許多讀書人只想升官發財，無益於國計民生

〈 〉 20、鄭燮於〈寄弟墨書〉中言及：「天下無田無業者多矣，我獨何人，貪求無厭，窮民將何所措手足乎？」展現悲天憫人、民胞物與的胸襟，下列文句何者與此意涵最不相同？

- 〈A〉 人飢己飢，人溺己溺
- 〈B〉 江海所以能為百谷王者，以其善下之
- 〈C〉 親親而仁民，仁民而愛物
- 〈D〉 安得廣廈千萬間，大庇天下寒士俱歡顏

〈 〉 21、〈寄弟墨書〉一文中描述當代讀書人「一捧書本，便想中舉人，中進士，作官如何攫取金錢，造大房屋，置多田產」至於「其不能發達者，鄉里作惡，小頭銳面，更不可當」，批判讀書人利欲薰心，追求功名的醜態。這樣的諷刺故事，最可能在下列哪個小說的回別中出現？

- 〈A〉 亂蟠桃大聖偷丹 反天宮諸神捉怪
- 〈B〉 王孝廉村學識同科 周蒙師暮年登上第
- 〈C〉 王熙鳳正言彈妒意 林黛玉俏語謔嬌音
- 〈D〉 美髯公千里走單騎 漢壽侯五關斬六將。

〈 〉 22、〈寄弟墨書〉為鄭燮寫給堂弟鄭墨的家書，若要使其符合傳統書信格式，下列「」中的用語，何者寫法正確？

- 〈A〉 文首加入稱謂、提稱語：「鄭墨吾弟鈞鑒」
- 〈B〉 文中若提及自家兄弟倆，可自稱：「賢昆仲」
- 〈C〉 文末加入自稱、署名及未啟詞：「<sup>ㄟ</sup>板橋敬啟」
- 〈D〉 信封的中路應書寫：「鄭墨堂弟大啟」

〈 〉 23、下列各組對話中使用的詞語，何者完全正確？

- 〈A〉 甲：請問您貴姓？府上哪兒？ 乙：敝姓王，府上在鼓山。
- 〈B〉 甲：請問令郎在哪高就？ 乙：外子今年剛從大學畢業，目前待業中。
- 〈C〉 甲：請問令堂高壽幾何？ 乙：家母今年貴庚八十。
- 〈D〉 甲：明日的聚餐，賢喬梓能否賞光？ 乙：沒問題！愚父子必當準時赴約

〈 〉 24、下列鼓山心橋報導文句，何者主觀判斷的意味最濃厚？

- 〈A〉 大對接力途中發生一連串摔倒事件，許多選手傷重送醫急救
- 〈B〉 學生會某候選人在活動中心舉行造勢晚會，引來許多人參與
- 〈C〉 段考發生集體舞弊事件，學校採取補考措施
- 〈D〉 教務主任表示：補考期間若是再度作弊，破壞學校學習風氣，將依法加重罰則，

〈 〉 25、「當一隻與達悟人共同守望海域的珠光鳳蝶被賦與『十塊』的經濟價值後，牠的飛行便不再自由。標本商以十塊驅使達悟人捕蝶，然後以百倍的價格，賣給都市人或外國人作為牆上的裝飾，他們用肥油的手指著，多麼美麗的蝴蝶啊！……文明是一條誘惑的蛇，它帶給達悟人的禮物，是宛如圈索的環島公路，緊緊勒住珠光鳳蝶的咽喉。作者不僅在說蝴蝶的故事，還想透過珠光鳳蝶傳達的是？

- 〈A〉 達悟人應善用鳳蝶所帶來的經濟效益
- 〈B〉 鳳蝶與飛魚同列蘭嶼自然資產的代表
- 〈C〉 鳳蝶光采因禁止買賣而黯淡非常可惜
- 〈D〉 原島生態的反思與所面對的文明衝突

〈 〉 26、「起初我覺得西施柚太湯湯水水，不像文旦整顆吃完了還乾爽俐落。西施柚的甜度甚高，甜中隱而不顯的是酸；那酸味非常含蓄，似乎刻意矮化自己的存在，僅專注於修飾甜度，令甜不致於太武斷，太蠻橫。」

上文摘錄自焦桐〈西施柚〉，下列選項何者詮釋錯誤？

- 〈A〉 作者喜愛西施柚的原因是西施柚香氣甜度皆勝過文旦
- 〈B〉 西施柚的甜味甚強，甜中透露輕微的酸
- 〈C〉 本文運用轉化修辭，描摹食用西施柚的味覺感受
- 〈D〉 西施柚較於文旦柚肉多汁。

〈 〉 27、關於〈湖心亭看雪〉一文的分析，下列敘述何者錯誤？

- 〈A〉 「擁毳衣、爐火」凸顯當時氣候之寒凍
- 〈B〉 「上一白」指分不清楚長堤和湖面的界線
- 〈C〉 前半著重寫景之奇，後半轉而寫遇人之奇
- 〈D〉 「一痕」、「一點」、「一芥」和「兩三粒」等量詞都在描寫一片雪白中，依稀可見湖上微小的影子

〈 〉 28、〈湖心亭看雪〉一文中：「拉余同飲，余強飲三大白而別。」此兩句中「拉」與「強」所呈現出的心情，下列何者的闡釋最貼切？

- 〈A〉「拉」表現金陵人已有醉意，故而興致高昂
- 〈B〉「強」表現作者無意間打擾金陵人的遊興，故勉強喝酒賠罪
- 〈C〉「拉」表現他鄉遇故知，理應飲酒作樂
- 〈D〉「強」表現作者巧遇同好，盛情難卻之下，與之同飲

〈 〉 29、下列選項「」中的字詞，何者的用法和張岱〈湖心亭看雪〉一文中的「是金陵人客此」的「客」字用法相同，均是由「名詞」轉為「動詞」使用？

- 〈A〉小旭正在客廳心花「怒」放地談論運動會獲獎經過
- 〈B〉原本荒涼的鼓山郊外，如今已是高樓「林」立
- 〈C〉小翰騎機車在馬路上「蛇」行是很危險的行為
- 〈D〉據說寒假過後，小勳不酒，也不「菸」了

〈 〉 30、在〈湖心亭看雪〉一文中，張岱獨往湖心亭看雪的時辰為「更定已」，與下列何者的時辰最為接近？

- 〈A〉今宵酒醒何處？楊柳岸，曉風殘月
  - 〈B〉斜陽草樹，尋常巷陌
  - 〈C〉月轉水晶盤，樓上初聞一鼓殘
  - 〈D〉夜闌更秉燭，相對如夢寐
- 〈 〉 31、下列何者所描寫的對象是「雪」？
- 〈A〉有時候長空萬里，只浮現一朵一塵不染的白蓮
  - 〈B〉無數似花似蝶的六角精靈，無聲無息的溼潤萬物
  - 〈C〉天空立即拉下了千根絲、萬條線，從屋簷上落下
  - 〈D〉它像橘紅淋漓的一團烙鐵漿，蹦跳而出，雲彩炫耀

齊奄家畜一貓，自奇之，號於人曰「虎貓」。

客說之曰：「虎誠猛，不如龍之神也，請更名曰『龍貓』。」

又客說之曰：「龍固神於虎也，龍升天，須浮雲，龍豈尚於雲乎？不如名曰『雲』。」

又客說之曰：「雲霧蔽天，風條散之，雲故不敵風也，請更名曰『風』。」

又客說之曰：「大風颯起，維屏以牆，斯足蔽矣。風其如牆何？名之『牆貓』可。」

又客說之曰：「維牆雖固，維鼠穴之，牆斯圯矣。牆又鼠何？即名曰『鼠貓』可也。」

東里丈人嗤之曰：「噫嘻！捕鼠者固貓也，貓即貓耳，故為自失本真哉？」

〈 〉 32、據本文的結語，齊奄所養的這隻貓，最適當的稱呼為下列何者？

- 〈A〉雲
- 〈B〉貓
- 〈C〉龍貓
- 〈D〉牆貓

〈 〉 33、本文主旨適合諷刺以下何者行為？

- 〈A〉說話不算話的阿誠
- 〈B〉追求最新手機的阿絃
- 〈C〉愛耍小聰明的阿展
- 〈D〉盲目追求流行的阿惠

< 折桂令 張可久 >

對青山強整烏紗。歸雁橫秋，倦客思家。翠袖殷勤，金盃錯落，玉手琵琶。人老去、西風白髮。蝶愁來、明日黃花。回首天涯。一抹斜陽，數點寒鴉。

〈 〉 34、依據上文，下列何者分析正確？

- 〈A〉「對青山強整烏紗」寫出作者熱衷官場功名的心態
- 〈B〉「歸雁橫秋，倦客思家」可窺見作者心境的疲累與沉重
- 〈C〉「翠袖殷勤，金盃錯落，玉手琵琶」寫作者貪杯的心情
- 〈D〉「一抹斜陽，數點寒鴉」寫出倦鳥歸巢的溫馨感

〈 〉 35、「對青山強整烏紗。歸雁橫秋，倦客思家」一句表達了何種情感？

- 〈A〉官場生涯，苦中作樂
- 〈B〉異鄉為客，連日趕路
- 〈C〉遊子思親，膝下承歡
- 〈D〉厭倦仕宦，思家情切

<人間情分 張曼娟 >

不平凡的一雙手

下著梅雨的季節，令人心浮動，生活煩躁起來。尤其是上下課時，捧抱著大疊教材講義，站立在潮溼的街頭，看著呼嘯如流水奔湧的大小車輛，卻攔不住一輛計程車，那份狼狽，無由地令人沮喪。

也是在這樣綿綿密密、雨勢不絕的午後，匆忙地趕赴學校。搭車之前，先尋覓一家書店，影印若干講義給學生，因為時間的緊迫，我幾乎是跑進去的，迅速將原稿遞交從未謀面的年輕女店員。

那女孩有一雙細白的手掌，鋪好原稿，開動機器，她先影印了兩張尺寸較小的，而後將兩張影印稿並排成一大張。抬起頭，她微笑地說：

「這樣不必印八十張，只要四十張就夠了。好不好？」

我詫異地看著她繼續工作，影印機一陣又一陣的光亮閃動裡，也詫異地看著她的美麗。

原本，她的五官平凡無奇，然而，此刻當我的心靈完全沉浸在這樣寧謐的氣氛中，她不再是個平凡女孩。

我看著她仔細地把每一張整齊裁開、疊好；裝進袋子，連同原稿還給我。付出雙倍勞力，卻只換來一半的酬勞，她主動做了，還顯得格外光采。

離開的時候，我的腳步緩慢了些。焦躁的感覺，全消散在一位陌生人善意的溫柔中。並且發現，即使行走在雨裡，也可以是一種自在心情。

小島上的公用電話

第二次去澎湖，不再有亢奮的熱烈情緒，反而能在陽光海洋以外，見到更多更好的東西。

望安島上任意放牧的牛群，剛從海中撈起的白色珊瑚，用指甲輕劃，會發出「箏」的聲響。夏日渡海，從望安到了將軍嶼，一個距離現代文明更遠的地方。有些廢棄的房舍，仍保留著傳統建築，只是屋瓦和窗櫺都綠草盈眼了。島上看不見什麼人，可以清晰聽見鞋底與水泥地的摩擦，這是一個隔絕的世界呢！

轉過一叢叢怒放的天人菊，在某個不起眼的牆角，我被一樣事物驚住了——一具藍色的公用電話。

不過是一具公用電話，市區裡多得幾乎感覺不到。然而，當我想到當初設置的計畫，渡海前來裝置、架接海底電纜……那麼複雜龐大的工程，只為了讓一個人傳遞他的平安或者思念，忍不住要為這樣妥貼的心意而動容了。

月臺上的白色背影

一個月的大陸探親之旅，到了後期已如殘兵敗將，恨不能丟盔棄甲。大城市的火車站規模不小，從下車的月臺到出口，往往得上上下下攀爬許多階梯，那些大小箱子早超過我們的負荷能力了。

那一次，在南方的城市，車站階梯上，我們一步也掙不動，只好停下來喘息。一個年輕男子從我們身邊走過，像其他旅客一樣，而不同的是他注視著我們，並且也停下來。

「我來吧！」

他溫和地說著，用捲起衣袖的手臂抬起大箱子，一直送到頂端。我們感激地向他道謝，他只笑一笑，很快地隱遁在人群中。

著白色襯衫的背影，笑容像學生般純淨，是在那次旅行中，最美的印象了。

有時候，承受陌生人的好意，也會忍不住自問，我曾經替不相干的旁人做過什麼事？

人與世界的諸多聯繫，其實常常是與陌生人的交接，而對於這些人，無欲無求，反而能夠表現出真正的善意。

每一次照面，如荳荷映水，都是最珍貴而美麗的人間情分。

< > 36、文中提到的「人間情分」是指下列哪一選項？

- (A) 萍水相逢的陌生情緣
- (B) 生活中不平凡的人們
- (C) 日常生活中的美好機運
- (D) 人與人接觸單純美好的情分

< > 37、下面哪一句話最能呼應張曼娟人間情分一文所欲表達的情分？

- (A) 人們總是對陌生人很寬容，對熟悉和親近的人很挑剔
- (B) 允許一個陌生人的發跡，確不能容忍一個身邊人的晉升
- (C) 對於世界，我永遠是個陌生人，我不懂他的語言，他不懂我的沉默
- (D) 陌生人被我們服務會由衷感激而快樂，替陌生人服務當然不會帶給我們任何物質上的好處，可是只要如此快樂的表情，自己焉有不快樂之理

〈珍珠奶茶 焦桐〉

臺灣人在一九八〇年代發明了珍珠奶茶：冰紅茶摻入牛奶、糖，再加上粉圓。四十年來，形式變化甚微，倒是添增了不少口味，作為基底的茶品也多了綠茶、各式花茶和熱飲。

珍珠就是大顆的粉圓，乃黑糖漿、地瓜粉或木薯粉再製，傳統製法是地瓜粉和水拌勻，再搓揉成粒狀，然後以篩網篩出即成。

奶和茶的結合可能起源於唐代。當年文成公主下嫁松贊干布，帶去茶葉，傳授當地人烹茶技術，並用牛奶、羊奶熬煮茶葉，據說他們愛死了這種清香美味的奶茶，已經到了「寧可三日無糧，不可一日無茶」的地步。

不僅美味，其中還存在著養生的道理。中醫觀點認為奶茶能解醒去膾、清內熱。北方的游牧民族長期吃肉，體內維生素和無機鹽不足，導致營養失調、消化不良，喝奶茶剛好可以緩解這些現象。

清代的皇室祭祀，都要奉上一碗奶茶來表示敬意。宮廷筵席還把賜奶茶作為隆重的禮儀制度。為了敬重奶茶，乾隆皇帝有一只白玉鑲寶石的茶碗，專門在重要的筵席上自己喝奶茶或賜奶茶用的，這只碗使用完美無瑕的和闐玉製作，在碗外壁近底部和圈足表面，錯飾金片的花草，並用 180 顆紅寶石嵌成花瓣。

既是粉圓、奶茶連袂演出，美味的關鍵主要在兩者的品質，奶茶須新鮮香醇，避免用奶精、糖精；粉圓的口感講究彈勁，不可黏稠，更不可摻加人工合成塑化劑。

優質的珍珠奶茶，上面是一層綿密的奶泡，同時表現茶香和奶香，兩者又能快樂地平衡。它取悅味蕾如同一場優美的舞蹈。粉圓徜徉在茶湯中，吸吮入嘴，輕柔撫觸舌尖，滑動，像舌頭之外另一個舌頭。每一顆粉圓溜進嘴裡都像一次甜蜜的吻。

〈 〉 38、根據本文敘述，珍珠奶茶美味的關鍵在於？

- 〈A〉 沖泡時間的長短
- 〈B〉 盛裝容器的材質
- 〈C〉 具備解醒去膾的功效
- 〈D〉 原料的來源是否天然

〈 〉 39、請由上述內容判斷，本文未提及下列何項訊息？

- 〈A〉 奶茶的歷史淵源
- 〈B〉 奶茶的養生功能
- 〈C〉 珍珠奶茶行銷國際的成果
- 〈D〉 珍珠粉圓的製程

〈 〉 40、關於本文，下列何者敘述正確？

- 〈A〉 北方民族飲用奶茶，可緩解維生素與鹽分缺乏導致的營養失調
- 〈B〉 自珍珠奶茶發明四十年來，牛奶、茶加上粉圓的搭配，從形式上衍生出很大變化
- 〈C〉 奶茶最早可追溯自文成公主的和親，茶葉因此傳入中國
- 〈D〉 因乾隆皇帝對奶茶情有獨鍾，故特聘工匠打造白玉鑲寶石的茶碗

★考生將答案劃在答案卡上★ 英語代碼：02

英語閱讀試題佔段考英語總成績 80%


一、字彙測驗-根據題意，選出最適合的英文單字 (30%，每題 3 分)

1. Loki: Where is the \_\_\_\_\_? Thor: Go straight, and it's on the right.  
 (A) kitchen (B) bathroom (C) restroom (D) balcony
2. Zac: Is this rose pin yours? Bella: No. It belongs \_\_\_\_\_ my aunt.  
 (A) to (B) for (C) from (D) in
3. Henry and Samuel were thinking about buying a \_\_\_\_\_ of pearls as their mother's birthday gift.  
 (A) bow (B) line (C) string (D) dot
4. When I don't know a word, I look it up in the \_\_\_\_\_.  
 (A) library (B) dictionary (C) workbook (D) newspaper
5. Peter is \_\_\_\_\_. He always says thank you after someone helps him.  
 (A) glad (B) polite (C) interesting (D) worthless
6. My uncle bought a box of chocolate as my Christmas \_\_\_\_\_. He knows that I have a sweet tooth.  
 (A) apartment (B) present (C) business (D) wish
7. The ghost in the movie looked scary, so I \_\_\_\_\_ my eyes with my hands.  
 (A) invited (B) appeared (C) covered (D) taped
8. We can't eat here. Let's go \_\_\_\_\_ else to have our lunch.  
 (A) somewhere (B) anywhere (C) nowhere (D) everywhere
9. The beef soup is a little cold. Let me \_\_\_\_\_ it up for you.  
 (A) blow (B) fill (C) give (D) heat
10. People in Keelung are no \_\_\_\_\_ to rainy days. In fact, it rains for more than 200 days a year.  
 (A) character (B) attention (C) stranger (D) anime

二、文法測驗 (42.5%，每題 2.5 分)

11. The girl \_\_\_\_\_ short hair is Alice. She runs the fastest in this school.  
 (A) on (B) in (C) with (D) at
12. The friends \_\_\_\_\_ Peter went to the movies with last Sunday live near his place.  
 (A) where (B) which (C) what (D) who
13. The boy \_\_\_\_\_ the door is Forrest's son. He's like his father.  
 (A) at (B) next (C) except (D) besides
14. The history teacher told us a true story \_\_\_\_\_ happened in the town in 1978.  
 (A) it (B) which (C) who (D) when
15. I know the man and the dog \_\_\_\_\_ are standing at the bus stop. He is my neighbor.  
 (A) that (B) who (C) which (D) ×
16. One of my hands is dirty, but \_\_\_\_\_ is clean.  
 (A) the next (B) another (C) that (D) the other
17. The cosplayer on the stage looks like the foreigner \_\_\_\_\_ at the party yesterday.  
 (A) who met (B) met me (C) I met him (D) I met
18. This is the movie about \_\_\_\_\_ they talked this morning. Do you want to see it with me?  
 (A) who (B) which (C) that (D) ×

【背面尚有題目】




19. The man who shook hands with me \_\_\_\_\_ my favorite star.  
 (A) is (B) are (C) with (D) have
20. Oh my! The guy who \_\_\_\_\_ signing for the fans is G-DRAGON.  
 (A) has (B) have (C) is (D) are
21. Because of that, everything in the movie looks so real. \_\_\_\_\_ who sees the movie will not believe that it's anime.  
 (A) They (B) People (C) All (D) Anyone
22. The sign \_\_\_\_\_ you used is not OK in France. It means "worthless."  
 (A) who (B) × (C) whom (D) whose
23. Rose's sisters treated her badly and made her \_\_\_\_\_ all the work. But Rose never complained.  
 (A) to do (B) done (C) do (D) doing
24. You look thirsty. Have some of the water \_\_\_\_\_ from the river.  
 (A) that I drew (B) which drew (C) I drew it (D) is drew
25. Pinocchio is not an honest boy. I don't believe \_\_\_\_\_ he told me.  
 (A) that (B) what (C) which (D) who
26. Candice: \_\_\_\_\_ Is she the one who is wearing a cat costume?  
 Dylan: Yes. Let's go say hello to her.  
 (A) What is Lisa's hobby?  
 (B) Which one is Lisa?  
 (C) What time will Lisa arrive?  
 (D) What business is Lisa doing?
27. Look! Here is the apartment \_\_\_\_\_.  
 (A) which is a little dangerous to live  
 (B) my daughter was born and grew up  
 (C) I will buy at a low price  
 (D) that I feel like selling it at a high price

### 三、題組 (27.5% , 每題 2.5 分)

【28~30】

A long time ago, there were a prince and a princess. They used to 28 \_\_\_\_\_ through the garden, watching the beauty of the blooming flowers in spring. However, something terrible happened. At the age of twenty-eight, the princess went 29 \_\_\_\_\_, and from then on, she no longer wished to step outside her room. She felt lonely and often cried. The prince tried everything, but he could not bring a smile back to her face.

One day, a visitor came to the castle. He told the prince that perhaps he knew how to help the princess find happiness again. The visitor 30 \_\_\_\_\_, and gently asked her to stand and wait. The princess waited quietly, and suddenly, she heard the birds singing and felt the wind blowing gently on her face. The garden was still full of life. To the princess's surprise, even though she could not see, she understood she could still experience the beauty of nature through her sense of smell and touch. Her smile returned, and the prince was deeply thankful for the visitor's wisdom.



【下頁尚有題目】


28. (A) walk (B) walking (C) walked (D) walks  
 29. (A) blank (B) crazy (C) polite (D) blind  
 30. (A) brought the princess a lot of flowers and jewels  
 (B) told a joke to the princess  
 (C) broke the spell for the princess  
 (D) led the princess to the garden where she had a good time before

【31~33】

Food is a big part of French culture. It is said that French people live to eat, and the rest of the world eats to live. That's why the most famous food guide in the world, the Michelin Guide, is from France.

Michelin is a tire company which the Michelin brothers started in 1889. At that time, not many people owned a car in France. To sell more tires, the Michelin brothers thought of an idea. Because French people loved food so much, the brothers decided to write a book that showed all the good restaurants in different cities. And that's how the Michelin Guide was born. This way, people would drive more to try the food, and Michelin could sell more tires.

To decide if a restaurant is good or not, the Michelin Guide has a team of inspectors. They're always anonymous, so when they go to restaurants to taste the food, they won't be treated differently. For each dining experience, the inspectors will write a report on their experiences and decide whether the restaurants should get a Michelin star. If a restaurant is excellent, the guide may give it one to three stars, and it'll be put in the guide. However, getting even one star is not easy. That's why it's a great honor to be on the list.




In 2019, twenty-four restaurants got the Michelin honor in Taiwan. Would you like to try them?

31. What is the job of the Michelin's inspectors?  
 (A) Deciding if a restaurant should be put in the guide. (B) Selling cars and tires to people.  
 (C) Making delicious food for the company. (D) Writing a book about all the good restaurants in France.
32. What is the second paragraph mainly about?  
 (A) Why many French people don't own a car. (B) Why the Michelin Guide is popular.  
 (C) Why French people love food so much. (D) Why the Michelin Guide was created.
33. Which is **NOT** true about the Michelin Guide?  
 (A) Only the greatest restaurants can be in it.  
 (B) There were 24 restaurants from Taiwan in it in 2019.  
 (C) It's a famous guide to French dishes.  
 (D) The guide gives a restaurant three stars at most.

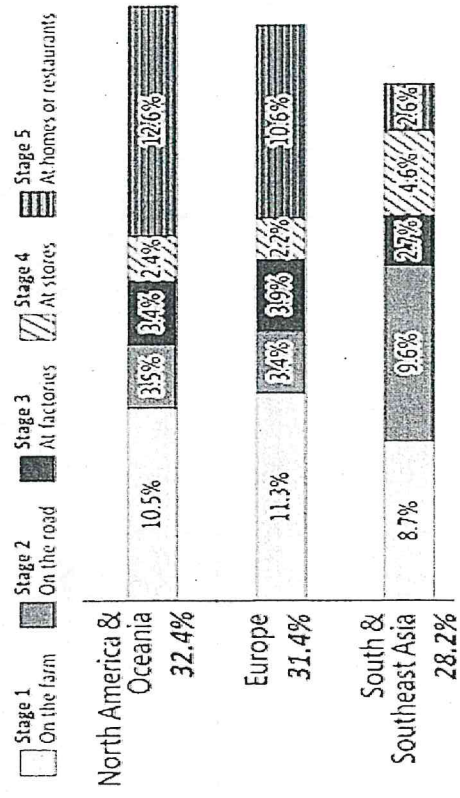
【34~35】

FROM THE FARM TO THE TABLE: FIVE STAGES OF FOOD WASTE



- Throw away food of wrong shape or sizes
- Grow more food than the market needs
- Do not have refrigerators to keep food fresh
- Lose food that falls off the truck
- Do not have enough machines to make, keep and pack food
- Throw away food of wrong shape or sizes
- Throw away food that does not look fresh
- Order more food than they can sell
- Buy too much food
- Throw away food when it is still safe to eat

WHAT PERCENTAGE OF FOOD IN EACH AREA IS WASTED AT EACH STAGE IN 2014?



stage 階段 waste 浪費 percentage 百分比

【背面尚有題目】

34. According to the reading, which is one of the reasons for food waste?

- (A) Factories do not have enough trucks to carry food to stores.
- (B) There is no refrigerator on the truck to keep food fresh.
- (C) Stores do not know how to pack food well.
- (D) Farmers do not have enough machines to collect food.

35. Which is true about food waste at each stage in the three parts of the world?

- (A) Europe has a lower percentage of food waste at Stage 3 than the other two areas.
- (B) For each area, the highest percentage of food waste happens at Stage 5.
- (C) North America & Oceania has a higher percentage of food waste at Stage 1 than Europe.
- (D) South & Southeast Asia has a higher percentage of food waste at Stage 4 than the other two areas.

【36~38】

Below is a page from Katie's diary.

Dear Diary,

June 7, 2012

I was very sad to hear what happened to Woollie yesterday. Woollie was my favorite sheep. I have a storybook about Woollie. It says when Woollie was four, he ran away from Mr. Armstrong's farm, and it took Mr. Armstrong six years to find Woollie. But Woollie had grown so much fleece that he didn't even look like a sheep. Mr. Armstrong decided to cut his fleece on TV so everyone could see. Daddy said this happened on the day I was born. Woollie's fleece weighed 27 kg, and could make clothes for 20 large men. I asked Daddy if his favorite vest was made from Woollie's fleece. Daddy said no, because Woollie's fleece was sold to collect money for sick kids. In the storybook, Woollie was taken to see Ms. Stella Clark, the leader of our city then. They even had tea together. Daddy said Woollie did meet Ms. Clark, but he wasn't sure if they had tea. Daddy said Woollie was put down because he was too sick and there was no way to help him. I cried. I hope Woollie will be happy up there in the sky.

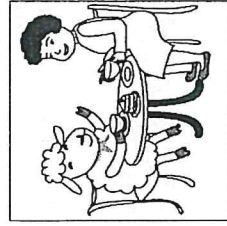


 fleece 羊毛 weigh 重達


36. What do we know about Woollie from Katie's diary?

- (A) Woollie was sick when he ran away.
- (B) Woollie was taken to visit sick kids.
- (C) Woollie was older than Katie.
- (D) Woollie looked strange without his fleece.

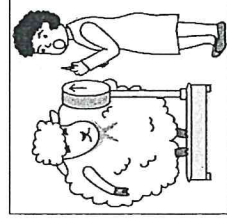
37. Which picture of Woollie and Ms. Clark did Katie talk about in the storybook?



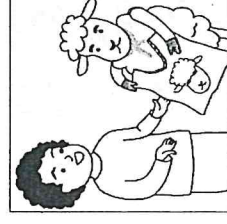
(A)



(B)



(C)



(D)

38. What happened when Woollie was put down?

- (A) He was sold.
- (B) He died.
- (C) He couldn't be found.
- (D) He became famous.

【英語閱讀試題到此頁全部結束】

# 高雄市立鼓山高中 114 學年度第一學期第三次段考《國三》英語科聽力試題卷

範圍：翰林版英語第五冊 U5~U6 課本&習作

三年\_\_班\_\_號 姓名

★考生將答案劃在答案卡上★ 英聽代碼：22

英語聽力成績佔段考英語總成績 20%

一、辨識句意：根據聽到的內容，選出符合描述的圖片或符合圖片的描述。(每題 4 分)

1. (A)



(B)




(C)



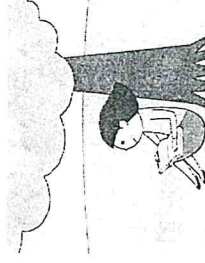
2. (A)




(B)




(C)




3. (A)



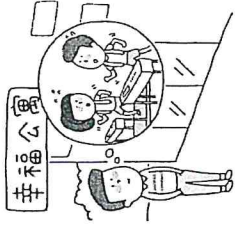
(B)



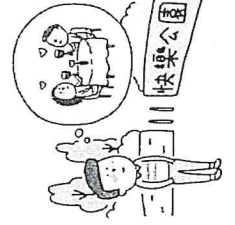
(C)



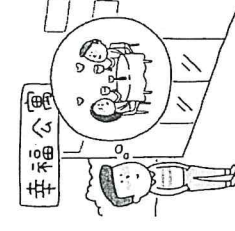
4. (A)




(B)




(C)




5. (A)



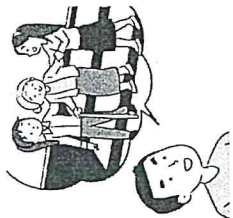
(B)




(C)



6. (A)




(B)




(C)




7. (A)



(B)



(C)



【背面尚有題目】

二、基本問答：根據聽到的內容，選出一個最適合的回應或最適合的問句。(每題 4 分)

8. (A) It belongs to my brother.  
(B) It's a common tool to learn new words.  
(C) The pictures in it were drawn by my sister.
9. (A) I arrived by car.  
(B) You can take a bath there.  
(C) It's on the second floor.
10. (A) I forgot my phone, so I went home to get it.  
(B) I got to school ten minutes before the first class.  
(C) I am never late for school because I'm an early bird.
11. (A) The words in the letter were polite.  
(B) Perhaps it was from his best friend.  
(C) His sister put it somewhere in the room.
12. (A) The TV has a nice big screen.  
(B) I don't have plans for tonight yet.  
(C) There's an old movie you might like.
13. (A) She's busy, perhaps.  
(B) There's no Miranda here.  
(C) I was looking for her, too.
14. (A) Yes, I like the jacket very much.  
(B) Yes, he is also my best friend, Jason.  
(C) No, he doesn't like the topic.
15. (A) He didn't answer the phone.  
(B) He slowly rose from the chair.  
(C) He was too old to answer the question.
16. (A) Wow... Isn't she a famous actress?  
(B) Yes, they used to be lovers.  
(C) No, they have been together for a long time.

三、言談理解：根據聽到的內容，選出一個最適合的答案。(每題 4 分)

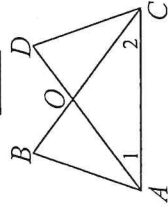
17. (A) A dress.  
(B) A sweater.  
(C) A uniform.
18. (A) Sam lives by himself.  
(B) The woman likes cats.  
(C) Sam lives below the man and the woman.
19. (A) They are dry.  
(B) They are new.  
(C) They are dirty.
20. (A) Rats are cute to Adam.  
(B) The woman played a joke on Adam.  
(C) Adam is too lazy to clean his drawer.
21. (A) The game will begin soon.  
(B) The snacks at the food stands are free.  
(C) People have to wait until the rain stops.
22. (A) It was free.  
(B) It was delicious.  
(C) It was sent to their house.
23. (A) To keep themselves safe.  
(B) To help move their desks.  
(C) To do exercises with their teachers.
24. (A) Summer.  
(B) Autumn.  
(C) Winter.
25. (A) A bag.  
(B) A cellphone.  
(C) A watch.

【英語聽力試題到此頁全部結束】

年 班 座號： 姓名：

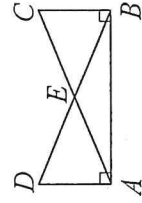
一、選擇-：(每題 4 分。共 88 分)：

1. ( ) 如圖，已知  $\overline{AD} = \overline{BC}$ ， $\angle 1 = \angle 2$ ，則下列推論何者錯誤？



- (A)  $\overline{AB} = \overline{CD}$   
 (B)  $\overline{AO} = \overline{OC}$   
 (C)  $\angle B = \angle D = 45^\circ$   
 (D)  $\triangle BAC \cong \triangle DCA$

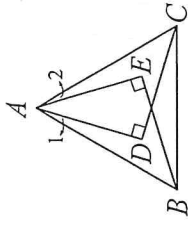
2. ( ) 如圖，已知  $\overline{BC} \perp \overline{AB}$ ， $\overline{AD} \perp \overline{AB}$ ， $\overline{AC} = \overline{BD}$ ，則下列推論何者錯誤？



- (A)  $\overline{DE} = \overline{CE}$   
 (B)  $\overline{AD} = \overline{BC}$   
 (C)  $\angle ABD = \angle BAC$   
 (D)  $\triangle ABC \cong \triangle BAD$  是根據 ASA 全等性質

3. ( ) 如圖，在  $\triangle ABC$  中，已知  $\overline{AB} = \overline{AC}$ ， $\overline{AD} \perp \overline{CD}$ ， $\overline{AE} \perp \overline{BE}$ ，若  $\angle 1 = \angle 2$ ，則欲證明  $\triangle ABE \cong \triangle ACD$  時，可使用下列哪幾項條件來證明？

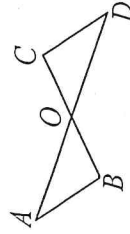
- (1)  $\overline{AB} = \overline{AC}$  (2)  $\overline{AD} = \overline{AE}$   
 (3)  $\angle ABE = \angle ACD$  (4)  $\angle BAE = \angle CAD$   
 (5)  $\angle ABC = \angle ACB$  (6)  $\angle 1 = \angle 2$   
 (7)  $\angle AEB = 90^\circ = \angle ADC$



- (A)(1)(2)(4)，是根據 SAS 性質  
 (B)(1)(4)(7)，是根據 AAS 性質  
 (C)(1)(5)(6)，是根據 ASA 性質  
 (D)(1)(5)(7)，是根據 RHS 性質

4. ( ) 如圖， $\overline{AD}$  與  $\overline{BC}$  相交於 O 點，且  $\overline{OA} = \overline{OD}$ ， $\overline{OB} = \overline{OC}$ ，則下列哪些敘述是正確的？

- 甲： $\triangle AOB \cong \triangle DOC$  乙： $\angle B = \angle C$  丙： $\angle A = \angle C$  丁： $\overline{AB} \parallel \overline{CD}$  戊： $\overline{AB} = \overline{CD}$

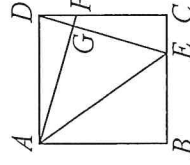


- (A) 甲、乙  
 (B) 甲、乙、丙、戊  
 (C) 甲、乙、丙、戊  
 (D) 甲、乙、丁、戊

5. ( ) 在  $\triangle ABC$  和  $\triangle DEF$  中，已知  $\overline{AB} = \overline{DE}$ ， $\overline{BC} = \overline{EF}$ ，若欲證明  $\triangle ABC \cong \triangle DEF$ ，試判斷下列敘述何者錯誤？

- (A) 欲使用 SSS 全等，應加條件  $\overline{AC} = \overline{DF}$ ，方能使兩個三角形全等  
 (B) 欲使用 SAS 全等，應加條件  $\angle C = \angle F$ ，方能使兩個三角形全等  
 (C) 欲使用 RHS 全等，應加條件  $\angle C = \angle F = 90^\circ$ ，方能使兩個三角形全等  
 (D) 欲使用 RHS 全等，應加條件  $\angle A = \angle D = 90^\circ$ ，方能使兩個三角形全等

6. ( ) 如圖，四邊形 ABCD 為正方形，且  $\overline{DF} = \overline{EC}$ ，則下列敘述何者正確？



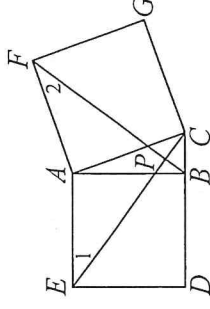
- (A)  $\triangle ADF \cong \triangle DCE$  (B)  $\triangle ADF \cong \triangle ABE$   
 (C)  $\overline{AE} = \overline{DE}$  (D)  $\overline{AE} = \overline{AF}$

7. ( ) 已知  $\angle A = 80^\circ$ ，若  $\angle B$  的兩邊分別垂直  $\angle A$  的兩邊，則  $\angle B = ?$

- (A)  $80^\circ$  (B)  $100^\circ$  (C)  $80^\circ$  或  $100^\circ$  (D)  $10^\circ$  或  $80^\circ$

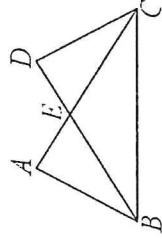
8. ( ) 如圖， $\triangle ABC$  中，分別以  $\overline{AB}$ 、 $\overline{AC}$  為邊長向外作正方形 ABDE 和正方形 ACGF，且  $\overline{EC}$ 、 $\overline{BF}$  交於 P 點，則下列三個敘述中，哪些敘述是正確的？

- 甲： $\triangle AEC \cong \triangle ABF$  是根據 SAS 全等性質。  
 乙： $\angle 1 = \angle 2$   
 丙： $\overline{EC} = \overline{BF}$

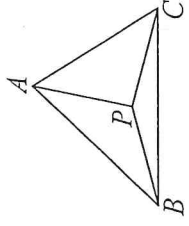


- (A) 甲、乙正確  
 (B) 甲、丙正確  
 (C) 乙、丙正確  
 (D) 甲、乙、丙都正確

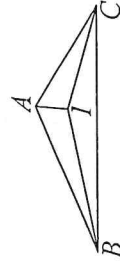
9. ( ) 如圖，若  $\overline{AB} = \overline{CD}$ ， $\angle ABC = \angle BCD$ ，則依何種三角形全等性質可證明  $\triangle ABC \cong \triangle DCB$ ？  
 (A) SSS (B) ASA (C) SAS (D) RHS



10. ( ) 已知  $\triangle ABC$  三邊的垂直平分線交於  $Q$  點，則關於  $Q$  點的敘述，下列何者正確？  
 (A)  $Q$  點是  $\triangle ABC$  的內心  
 (B)  $Q$  點是  $\triangle ABC$  的外心  
 (C)  $Q$  點是  $\triangle ABC$  的重心  
 (D)  $Q$  點不是  $\triangle ABC$  的內心，也不是外心或重心
11. ( ) 已知  $\triangle ABC$  的三邊中垂線交於  $R$  點，則關於  $R$  點的敘述，下列何者正確？  
 (A)  $R$  點到  $\triangle ABC$  的三邊等距離  
 (B)  $R$  點到  $\triangle ABC$  的三頂點等距離  
 (C)  $R$  點到  $\triangle ABC$  的三邊中點等距離  
 (D)  $R$  點到  $\triangle ABC$  的三高等距離
12. ( ) 如圖， $\triangle ABC$  是由三個等腰三角形所拼成的，其三個頂點的會合處為  $P$  點，則  $P$  點必為  $\triangle ABC$  的哪一種心？



- (A) 內心 (B) 重心 (C) 重心 (D) 外心
13. ( ) 已知  $O$  點為  $\triangle ABC$  的外心，若  $\overline{AB} = 8$ ， $\overline{BC} = 10$ ， $\overline{AC} = 12$ ，則  $\overline{OA} : \overline{OB} : \overline{OC} = ?$   
 (A) 3 : 4 : 5 (B) 5 : 6 : 4 (C) 12 : 10 : 15  
 (D) 1 : 1 : 1
14. ( ) 有一個三角形，它的外心恰位於其中一邊上，則此三角形的形狀必為下列哪一種？  
 (A) 銳角三角形 (B) 等腰三角形  
 (C) 直角三角形 (D) 鈍角三角形
15. ( ) 已知  $\triangle ABC$  中， $\angle B = 48^\circ$ ，則當  $\angle C$  等於下列哪一個度數時，會使得  $\triangle ABC$  的外心落在三角形的外部？  
 (A)  $32^\circ$  (B)  $42^\circ$  (C)  $52^\circ$  (D)  $62^\circ$
16. ( ) 有一股長為  $4\sqrt{2}$  的等腰直角三角形，其外心到三頂點的距離和為多少？  
 (A) 12 (B) 14 (C) 16 (D) 18
17. ( ) 如圖， $I$  點為  $\triangle ABC$  的內心，若  $\overline{AB} = 8$  公分， $\overline{AC} = 6$  公分，且  $\triangle ABI$  的面積為 6 平方公分，則  $\triangle ACI$  的面積為多少平方公分？

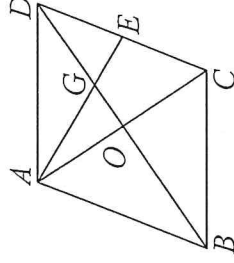


- (A)  $\frac{9}{2}$  (B)  $\frac{11}{3}$  (C) 6 (D) 8

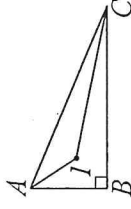
18. ( ) 已知  $I$  點為  $\triangle ABC$  的內心，若  $\angle A = 100^\circ$ ，則  $\angle IBC + \angle ICB = ?$   
 (A)  $20^\circ$  (B)  $40^\circ$  (C)  $60^\circ$  (D)  $80^\circ$
19. ( ) 下列何者與三角形之內心有關？  
 (A) 三內角的角平分線交點 (B) 內心到三頂點等距  
 (C) 可畫出外接圓 (D) 三角形的重量中心點
20. ( )  $\triangle ABC$  中，若  $I$  為  $\triangle ABC$  之內心，且  $\angle A = 64^\circ$ ，則  $\angle BIC = ?$   
 (A)  $122^\circ$  (B)  $124^\circ$  (C)  $126^\circ$  (D)  $128^\circ$
21. ( ) 已知  $S$  點為  $\triangle ABC$  的重心，則關於  $S$  點的敘述，下列何者正確？  
 (A)  $S$  點位於  $\triangle ABC$  三內角平分線的交點  
 (B)  $S$  點位於  $\triangle ABC$  三中線的交點  
 (C)  $S$  點位於  $\triangle ABC$  三邊中垂線的交點  
 (D)  $S$  點位於  $\triangle ABC$  三高的交點
22. ( ) 關於三角形的外心，下列哪一個敘述一定正確？  
 (A) 直角三角形的外心在三角形的外部  
 (B) 等腰三角形的外心在三角形的外部  
 (C) 鈍角三角形的外心在三角形的外部  
 (D) 銳角三角形的外心在三角形的外部

## 二、計算-:(每題 6 分。共 12 分):

1. 如圖，四邊形  $ABCD$  為平行四邊形，兩對角線  $\overline{AC}$  與  $\overline{BD}$  相交於  $O$  點， $E$  為  $\overline{CD}$  的中點， $\overline{AE}$  與  $\overline{BD}$  相交於  $G$  點。若  $\triangle GDE$  的面積為 8 平方公分，則平行四邊形  $ABCD$  的面積為何？



2. 如圖， $\triangle ABC$  中， $\angle ABC = 90^\circ$ ， $\overline{AB} = 10$  公分， $\overline{BC} = 24$  公分，且  $I$  點為  $\triangle ABC$  的內心，則  $\triangle AIC$  的面積為多少平方公分？



班級：\_\_\_\_\_ 座號：\_\_\_\_\_ 姓名：\_\_\_\_\_

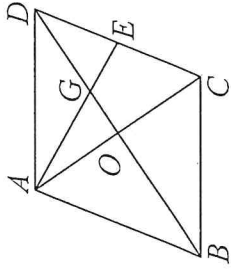
得分

一、選擇題：每題 4 分，共 88 分

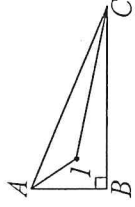
1	2	3	4	5	6	7	8	9	10
11	12	13	14	15	16	17	18	19	20
21	22								

二、非選擇題-計算：每題 6 分，共 12 分(要有計算過程，否則不予計分)

1.如圖，四邊形  $ABCD$  為平行四邊形，兩對角線  $\overline{AC}$  與  $\overline{BD}$  相交於  $O$  點， $E$  為  $\overline{CD}$  的中點， $\overline{AE}$  與  $\overline{BD}$  相交於  $G$  點。若  $\triangle GDE$  的面積為 8 平方公分，則平行四邊形  $ABCD$  的面積為何？



2.如圖， $\triangle ABC$  中， $\angle ABC=90^\circ$ ， $\overline{AB}=10$  公分， $\overline{BC}=24$  公分，且  $I$  點為  $\triangle ABC$  的內心，則  $\triangle AIC$  的面積為多少平方公分？



# 高雄市立鼓山高中(國中)114學年度第一學期第三次段考《國三》歷史科試題卷

考試範圍:L5~L6

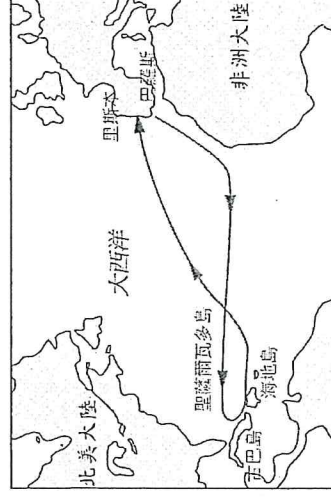
電腦讀卡代碼:04

三年\_\_班\_\_號 姓名\_\_

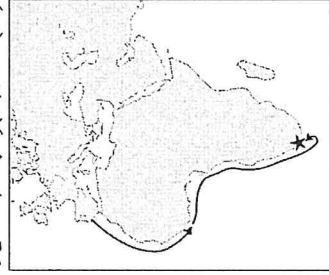
【注意：若為畫卡作答之考科，經閱卷讀卡發現畫記錯誤，該科扣5分，未畫卡者該科以0分計。】

一、選擇：(每題4分，共44分)

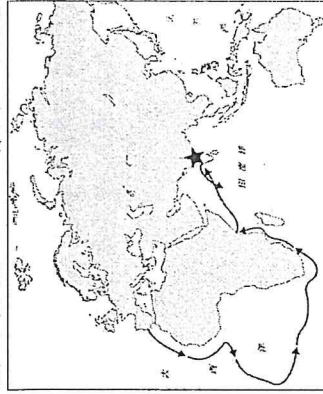
1. ( ) 品妍選擇了「麥哲倫」為歷史人物報告的主題，她應該會在報告中提到下列哪一個相關內容？ (A)抵達美洲的第一人 (B)船隊環繞世界一周 (C)開啟歐亞之間的新航路 (D)首先發現非洲南端的好望角。
2. ( ) 附圖是大航海時代，某位海外探險家的航行路線圖，而他也是最早航行這條路線的探險家。從圖中內容判斷，這位探險家最可能是下列何者？ (A)狄亞士 (B)麥哲倫 (C)達伽馬 (D)哥倫布。



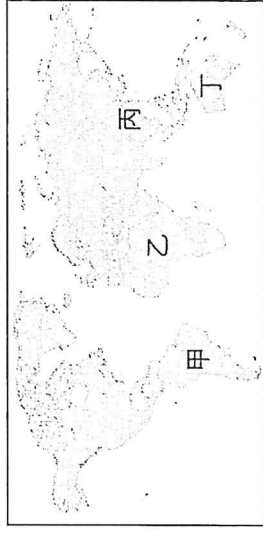
3. ( ) 老師在課堂上講解大航海時代某個航海家的事蹟，並於黑板上放了附圖的航海路線圖，說明在西元1488年時，某位航海家率領船隊發現圖中的「★」，寫下航海史的一頁。關於這段歷史，下列敘述何者正確？ (A)這位航海家受西班牙資助 (B)這位航海家名字是達伽馬 (C)地圖中的「★」是好望角 (D)最後船隊環繞了地球一圈。



4. ( ) 他是歷史上第一位從歐洲航海到附圖中「★」的人，為日後葡萄牙對外殖民擴張鋪設道路，是葡萄牙成為殖民帝國的功臣之一。請問：他是何人？ (A)哥倫布 (B)達伽馬 (C)麥哲倫 (D)狄亞士。



5. ( ) 十五、十六世紀的歐洲進入大航海時代，此時中國也曾啟航向海外探險，但是之後的君主並不重視海權的伸張，以致於中國並未發展出如歐洲的海外拓殖活動。請問：上述中國的航海探險活動為何？ (A)海上遠征日本 (B)鄭和下西洋 (C)清帝國時期臺灣的建設 (D)與西域各國的絲路貿易往來。
6. ( ) 在全球化的社會中，通曉多國語言往往更具優勢。除了華人的母語——漢語，以及國際組織使用的官方語言英語外，還有一個語言是目前地球上使用人數第三多，並且被中南美洲大部分國家列為官方語言。請問：這個語言應該是何者？ (A)西班牙文 (B)荷蘭文 (C)法文 (D)葡萄牙文。
7. ( ) 十七、十八世紀的英國律法非常嚴苛，僅是犯下偷襪子、偷吃奶油的罪，就要被流放至殖民地。請問：當時的英國會將罪犯流放至下列何處？ (A)東南亞 (B)印度 (C)澳洲 (D)美洲。
8. ( ) 隨著十五世紀以來新航路的發現，世界各地的交流日益密切，相互帶來許多影響。有關附圖標示的位置，下列敘述何者正確？ (A)為開發殖民地，歐洲人從「甲」捕捉黑人，運往乙從事奴工 (B)殖民者在「乙」開採銀礦，獲得大量財富 (C)「丙」原生的農作物，如玉米、馬鈴薯，成為世界各地重要的食物來源 (D)「丁」為英國的殖民地，眾多原住民死於殖民者帶來的傳染病。



9. ( ) 番薯、玉米、辣椒、馬鈴薯等作物，現今在全世界廣泛種植，並培育出多樣化的品種，成為世界各地重要的食物。請問：番薯、玉米、辣椒、馬鈴薯最早是產於什麼地方的作物？ (A)美洲 (B)歐洲 (C)非洲 (D)亞洲。

10. ( ) 不管是體育或音樂界，黑人總是占有一席之地，他們與生俱來的運動與音樂天賦，令人嘆為觀止。然而，在世界歷史中，他們的祖先曾有悲慘的遭遇。請問：這一段不幸的歷史是指下列何事？ (A)阿拉伯人掠奪非洲，造成當地黑人大量死亡 (B)阿茲提克與印加帝國古文明的隕歿 (C)進入大航海時期後，西、葡阻止非洲黑人移民 (D)十五世紀，西班牙人為開發美洲殖民地，將非洲人販賣至美洲為黑奴。

11. ( ) 下列有關荷蘭與英國東印度公司的比較何者正確？

	英國	荷蘭
(A)	與明朝武力衝突	與明朝友好往來
(B)	遭到鄭氏驅逐	在臺灣設立商館
(C)	占領印度地區	占領印尼地區
(D)	以巴達維亞為基地	以印度果亞為基地

二、配合題：(每個答案4分，共40分)

(一)古希臘、羅馬時代的科學知識，在中古後期經由拜占庭帝國與阿拉伯學者引入西歐，成為十六世紀以後科學發展的基礎。在這個時代，神學理論不再是唯一真理，許多新的理論與研究被提出，奠定日後科學發展的基礎。請將下列科學革命時代的人物填入其相對應的表格。

- A. 哥白尼  
B. 伽利略  
C. 牛頓  
D. 培根  
AB. 笛卡兒

12. ( ) 利用望遠鏡使天文觀測更加精確，為「太陽中心說」提供更多的證據。  
13. ( ) 由觀察到的事實，綜合出普遍的結論或定律，其研究方法稱為「歸納法」  
14. ( ) 發現萬有引力定律，並發明微積分，將數學導入科學，使物理學更加精確。  
15. ( ) 講求分析，透過嚴密精確的推理，統合知識，其研究方法稱為「演繹法」。  
16. ( ) 挑戰中古時期的「地球中心說」理論，提出「太陽中心說」，動搖基督教教會所信仰的宇宙觀。

(二)現代世界政治制度的基礎多半在啟蒙運動時代即已奠定。請將下列啟蒙運動時期的人物填入與其著作或事蹟相對應的表格中。

- A. 盧梭  
B. 洛克  
C. 孟德斯鳩  
D. 伏爾泰  
AB. 狄德羅

17. ( ) 著作《論法的精神》，闡述行政、立法、司法三權分立的主張，以限制王權與保障人民自由。  
18. ( ) 邀請學者共同編撰《百科全書》，以理性為基礎，將知識做系統性的整理。  
19. ( ) 抨擊迷信與狂熱，主張宗教寬容，並強調言論自由。  
20. ( ) 其著作《政府論》提倡「天賦人權」，認為人類生來便擁有生命、財產與自由的權利。  
21. ( ) 其著作《社會契約論》提倡「主權在民」的觀念，認為政府的權力來自人民與政府之間的契約。

三、題組：(每個答案4分，共16分)

(一)附表是工業革命期間一些重要的發明。請根據表中內容，回答下列問題：

22. ( ) 從工業革命的發源地推論，表中的甲應為下列何者？ (A)美國 (B)法國 (C)英國 (D)德國。  
23. ( ) 從表中「發明物」的發明時間來看，工業革命應從哪一種產業的技術革新開始？ (A)運輸業 (B)採礦業 (C)紡織業 (D)印刷業。  
24. ( ) 從表中「發明物」的演進來看，可以用下列哪一句話來說明？ (A)「學者致力於古典希臘、羅馬精神之再生」 (B)「航海技術進步，歐洲人得以發展海權」 (C)「科學發明日新月異，『十七世紀是天才的世紀』」 (D)「機器取代人力，技術變革的影響擴及其他層面」。  
25. ( ) 生產技術的改進使工廠制度應運而生，也造成了許多問題，例如鍋爐的操作者可能就是薪資微薄的童工，這是工業革命產生的哪一種負面結果？ (A)資本主義學說因而逐漸興起 (B)人口大量流往鄉村 (C)勞工被當作生產工具來剝削 (D)社會主義的弊端漸為人重視。

發明者	國籍	年代 (西元)	發明物
約翰·凱	(甲)	1733年	飛梭
詹姆斯·瓦特		1781年	蒸汽機
漢·戴維		1815年	礦工燈
喬治·史蒂芬生		1829年	蒸汽火車頭

# 高雄市立鼓山高中 114 學年度第一學期第三次段考《國三》地理科試題卷

考試範圍：

電腦讀卡代碼：05

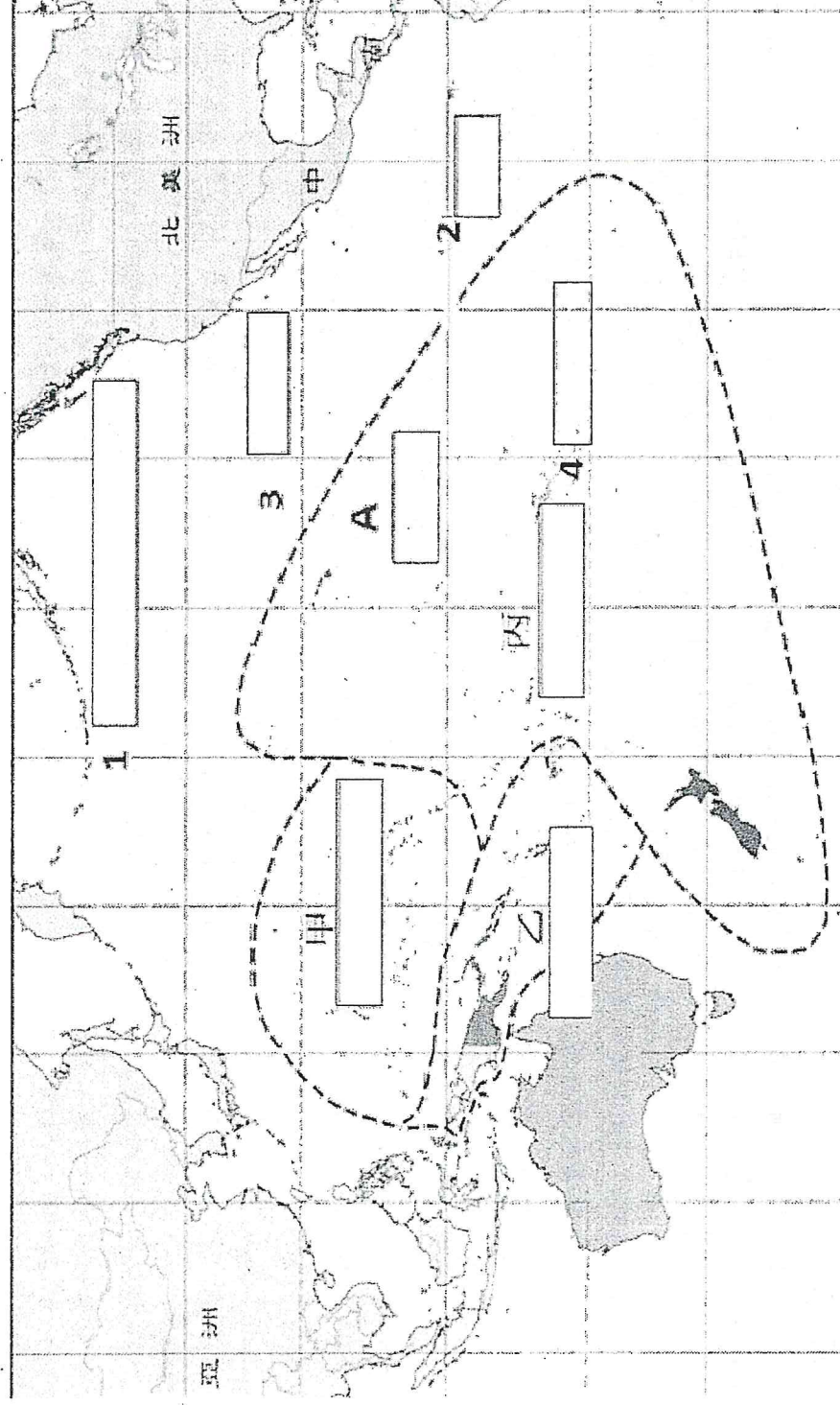
\_\_\_\_年\_\_\_\_班\_\_\_\_號 姓名\_\_\_\_\_

【注意：若為畫卡作答之考科，經閱卷讀卡發現畫記錯誤，該科扣 5 分，未畫卡者該科以 0 分計。】

1-33 題每題 3 分，第 34 題 1 分

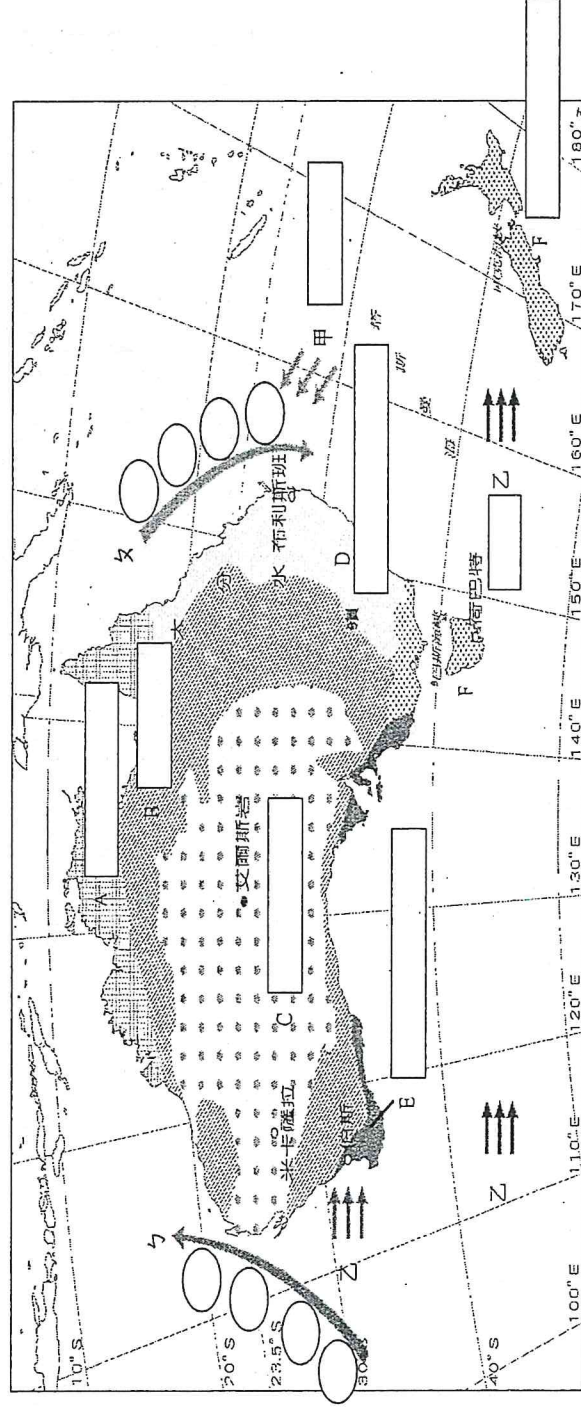
一、填圖題：

(1) 大洋洲填圖：甲~丙為三大島群、A 為海洋、1-4 為經緯線



1. 甲為(A)沖繩群島(B)密克羅尼西亞(C)大安地列斯群島(D)東印度群島
2. 乙為(A)美拉尼西亞(B)巴哈馬群島(C)小安地列斯群島(D)西印度群島
3. 丙為(A)澎湖群島(B)南洋群島(C)印度尼西亞群島(D)玻里尼西亞
4. A 為(A)太平洋(B)大西洋(C)印度洋(D)北極海
5. 1 為(A)180°E(B)120°E(C)23.5°S(D)23.5°N
6. 2 為(A)60°E (B) 120°W (C) 150°E (D) 0
7. 3 為(A)45°N(B)30°N(C) 66.5°N(D)23.5°N
8. 4 為(A) 66.5°S(B)23.5°S (C)30°S (D) 5°

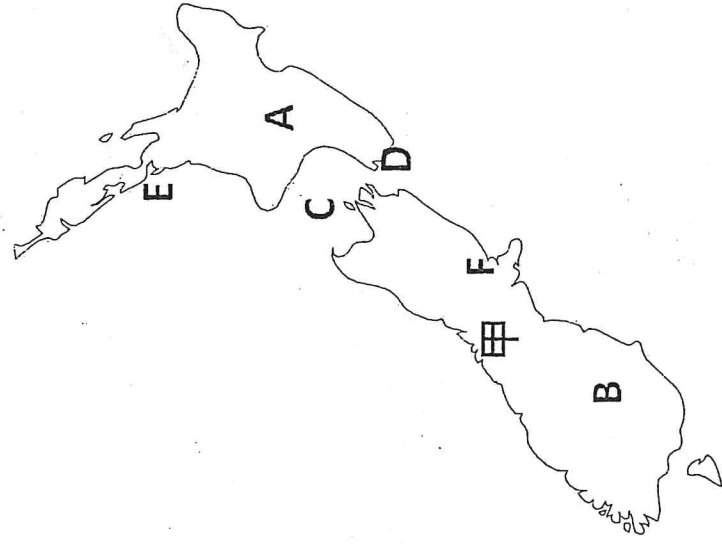
(2) 紐西蘭和澳洲氣候填圖：A~F 為氣候類型，ㄅ~ㄆ為洋流名稱，甲、乙為盛行風向。



9. 請問 A 為哪一種氣候(A)溫帶大陸性(B)熱帶雨林(C)熱帶沙漠(D)熱帶莽原
10. 請問 B 為哪一種氣候(A)季風氣候(B)熱帶草原(C)熱帶沙漠(D)溫帶草原

11. 請問 C 為哪一種氣候 (A) 熱帶沙漠 (B) 溫帶沙漠 (C) 海洋性氣候 (D) 溫帶草原
12. 請問 D 為哪一種氣候 (A) 溫帶大陸性 (B) 熱帶季風 (C) 熱帶草原 (D) 夏雨型暖溫帶氣候
13. 請問 E 為哪一種氣候 (A) 溫帶草原 (B) 地中海型氣候 (C) 溫帶大陸性 (D) 溫帶海洋性
14. 請問 F 為哪一種氣候 (A) 高地氣候 (B) 乾燥氣候 (C) 季風氣候 (D) 海洋性氣候
15. 請問 ㄅ 為哪一股洋流 (A) 加利福尼亞涼流 (B) 西澳涼流 (C) 親潮 (D) 北大西洋暖流
16. 請問 ㄆ 為哪一股洋流 (A) 拉不拉多寒流 (B) 阿拉斯加暖流 (C) 東澳暖流 (D) 黑潮
17. 請問 甲 為哪一種風向 (A) 東南信風 (B) 東北季風 (C) 西南信風 (D) 西北季風
18. 請問 乙 為哪一種風向 (A) 南風 (B) 東風 (C) 西風 (D) 北風

(3) 紐西蘭填圖



19. 請問 A 為何島 (A) 東島 (B) 西島 (C) 南島 (D) 北島
20. 請問 B 為何島 (A) 東島 (B) 西島 (C) 南島 (D) 北島
21. 請問 C 為何 (A) 英吉利海峽 (B) 津輕海峽 (C) 松本海峽 (D) 庫克海峽
22. 請問 D 為何 (A) 羅托魯瓦 (B) 漢密爾頓 (C) 威靈頓 (D) 哈比村
23. 請問 E 為何 (A) 坎培拉 (B) 奧克蘭 (C) 拿皮爾 (D) 陶蘭加
24. 請問 F 為何 (A) 墨爾本 (B) 基督城 (C) 達爾文 (D) 皇后鎮
25. 請問 甲 為何 (A) 斯堪地那維亞山 (B) 阿爾卑斯山 (C) 喜馬拉雅山 (D) 南阿爾卑斯山

二、選擇題：

26. 澳洲地廣人稀，物產豐富，下列關於其近年經濟發展特色的說明，何者最正確？ (A) 水稻農業為立國基礎 (B) 欄牧業為立國基礎 (C) 農、牧、礦、工等產業均發展 (D) 資訊業、生物科技等產業為立國基礎。
  27. 亞洲經濟勢力崛起，加上澳、歐之間昂貴的運費成本，使澳洲逐漸將貿易重心移往亞洲。請問：澳洲該貿易策略與下列哪一項因素最為密切？ (A) 恐怖主義引起區域內部保護主義 (B) 國際分工興起，生產分工範圍擴大為國際 (C) 殖民母國的勢力愈來愈擴散 (D) 國際經濟體系趨向經濟區域整合。
  28. 紐西蘭以粗放畜牧業為經濟基礎，主要原因與下列何者關係最密切 (A) 地形崎嶇 (B) 交通不便 (C) 氣候乾燥 (D) 人力不足。
  29. 澳洲中西部形成沙漠的原因，主要有哪些？ (甲) 背西風 (乙) 背東南信風 (丙) 距海遙遠 (丁) 副熱帶高壓籠罩 (A) 甲乙 (B) 甲丙 (C) 乙丙 (D) 乙丁。
  30. 位於西半球的夏威夷為美國唯一地處熱帶的島州，該地屬於大洋洲的哪一個島群？ (A) 玻里尼西亞 (B) 密克羅尼西亞 (C) 美拉尼西亞 (D) 澳大利亞。
  31. 大洋洲的低島，其面積通常不大，這些島嶼的主要經濟活動為下列何者？ (A) 農業和礦產開採 (B) 漁業和觀光資源 (C) 牧業和海水養殖 (D) 礦業和森林採集。
  32. 包圍北極海的大陸不包括下列何洲？ (A) 亞洲 (B) 歐洲 (C) 非洲 (D) 北美洲。
  33. 下列哪一項自然環境是臺灣和紐西蘭兩國皆具有的地理特色？ (A) 位居熱帶氣候區 (B) 乾、溼分明的降水分布 (C) 板塊擠壓，全境多山地地形 (D) 同時擁有廣大的火山與冰河地形。
  34. 大洋洲是哪兩大洲往來必經之路？ (A) 歐洲、非洲 (B) 歐洲、美洲 (C) 亞洲、美洲 (D) 非洲、美洲。
- 各地的南島語族雖因適應不同的自然環境，已發展出各種不同的文化形式，但在許多方面，仍可發現諸多相似之處，如臺灣阿美族和東加都有下列何種傳統技藝？ (A) 將樹皮加工製成衣物 (B) 將駝鳥蛋加工為碗盤 (C) 將象牙製成棋子使用 (D) 將鯨魚骨磨成繡花針。

# 鼓山高中國中部114學年度第一學期三年級公民科第三次月考

作答：■劃記答案卡

範圍：

第五課～第六課

試卷頁數：

共4頁

\_\_\_\_年\_\_\_\_班 座號：\_\_\_\_\_

姓名：\_\_\_\_\_

## 一、選擇題：第一題4分，其餘每題3分

1. ( ) 阿強每月打工收入固定為18,000元，原本每天花50元買一個便當，後來便當漲到100元，他只能買到較少的餐點。這個情況最能說明貨幣出現了什麼變化？  
(A)貨幣價值上升 (B)貨幣價值下降 (C)收入增加 (D)消費選擇變多
2. ( ) 小美到市場買菜時，攤販清楚標示價格並只接受政府發行的鈔票與硬幣，拒收外國紀念幣或私人代幣。根據這個情境判斷，攤販願意收取鈔票與硬幣，最主要是因為法定貨幣具有哪一項特性？  
(A)本身具有商品價值 (B)政府依法規定必須被接受 (C)數量永遠固定不變 (D)可以兌換成任何商品
3. ( ) 新聞報導指出，當物價持續上漲，民眾覺得「錢越來越不值錢」時，中央銀行可能會採取緊縮貨幣的措施，希望讓市場上的貨幣數量減少，以穩定物價。根據這段情境，中央銀行在貨幣中主要扮演哪一種角色？  
(A)決定商品價格的單位 (B)提供民眾貸款的商店 (C)發行並調節貨幣以穩定其價值的機構(D)負責商品生產的單位
4. ( ) 小明搭捷運時使用悠遊卡進站，但發現卡片餘額不足而無法通過閘門。根據情境判斷，造成他無法完成交易的主要原因為何？  
(A)儲值卡必須先存入足夠金額 (B)儲值卡不具交易功能(C)捷運不接受電子支付 (D)儲值卡屬於信用支付
5. ( ) 小琪使用信用卡購買手機，當下帳戶內沒有足夠存款，但仍成功完成付款，之後再依帳單期限繳款。這種支付方式最能說明信用卡具備哪一項特性？  
(A)必須先存錢才能使用 (B)延遲支付的功能 (C)無需銀行介入 (D)不會產生消費紀錄
6. ( ) 新聞報導指出，有些民眾因頻繁使用信用卡消費，卻未在帳單期限內繳清款項，導致負債累積。根據課文內容，這種情況最可能與信用卡的哪一項使用特性有關？  
(A)交易速度快 (B)付款金額固定 (C)先消費後付款 (D)不需簽署合約
7. ( ) 新聞提醒民眾，使用手機行動支付雖然快速方便，但若未設定密碼或定期更新系統，可能增加個資外洩風險。這則新聞主要在提醒消費者注意哪一件事？  
(A)交易金額大小 (B)支付方式的價格 (C)科技便利與資訊安全的平衡 (D)行動支付不具貨幣功能
8. ( ) 某位消費者在網路購物時，因長期使用信用卡分期付款，累積大量帳單而無力償還，最後成為卡奴。這個例子最能說明使用信用卡時應注意的哪一個重點？  
(A)信用卡不安全 (B)信用卡只能用一次 (C)應評估自身還款能力 (D)信用卡不能用於網購
9. ( ) 新臺幣發行是由下列哪個機構所負責的？(A)臺灣銀行 (B)中央銀行 (C)土地銀行 (D)合作金庫
10. ( ) 媽媽最近因為工作忙碌，決定請專業的清潔公司每週來家裡打掃一次並支付報酬。這種將原本家中的無酬家務變成付費勞務的現象稱為什麼？  
(A)義務勞動專業化 (B)家務勞動市場化 (C)勞動力失業現象 (D)企業倫理的落實
11. ( ) 暑假期間，小明去便利商店打工領到了15,000元工資。他先花3,000元買了一雙球鞋，剩下的12,000元存進銀行準備以後出國旅遊使用。請問關於這段描述，下列貨幣功能的對應何者正確？  
(A)用3,000元標價購買球鞋——發揮「價值儲存」功能 (B)將12,000元存進銀行——發揮「交易媒介」功能 (C)以「元」作為球鞋價格的計算單位——發揮「價值衡量」功能 (D)小明付出勞動獲取15,000元工資——發揮「延期支付」功能
12. ( ) 小華在某超商工讀，他想了解關於基本工資、工作時間、休假以及職業災害補償等法律保障。他最應該去查閱下列哪一部法律？ (A)憲法 (B)民法 (C)勞動基準法 (D)就業保險法
13. ( ) 關於我國對於失業者的保障措施，下列敘述何者錯誤？  
(A)可以向政府請求就業諮詢協助 (B)可以參加各種職業訓練提升技能 (C)符合規定者可申請失業給付維持基

本生活 (D)只要是不想工作的人都可以領取失業補助

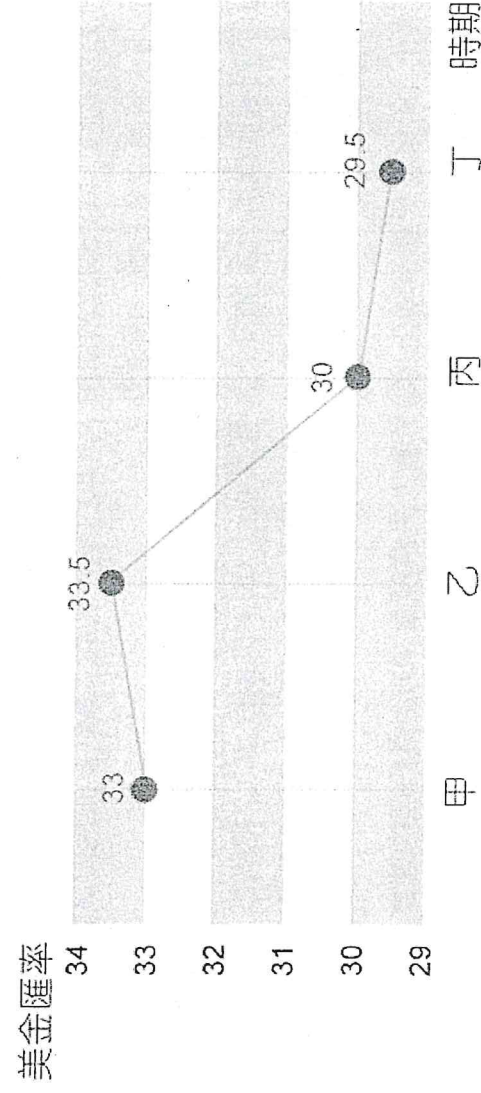
14. ( ) 勞動部勞動保險司指出，勞工因雇主遷廠而選擇自行離職，不論雇主是否已提供必要協助，仍屬「非自願離職」，勞工在失業期間可依「法」申請失業給付。上述的「法」是指哪部法律？
- (A)《性別工作平等法》(B)《勞動基準法》(C)《民法》(D)《就業保險法》
15. ( ) 「市場勞動」與「家務勞動」兩者關係密切，下列關於兩者關係的敘述何者正確？
- (A)兩者互不相干，應分別獨立看待 (B)家務勞動提供經濟來源，支持市場勞動 (C)家務勞動能維持市場勞動的穩定運作，兩者相輔相成 (D)只有市場勞動才能提升國家的競爭力，家務勞動則否
16. ( ) 下表關於「家務勞動」與「市場勞動」的對照分析，哪一項內容有誤？

選項	家務勞動	市場勞動
(A)	又稱為無酬勞動	又稱為有酬勞動
(B)	對社會的貢獻不亞於市場勞動	是經濟發展的重要基礎
(C)	勞動的場所必然在家中	勞動場所必然在家庭之外
(D)	例如：媽媽準備孩子的早餐	例如：學生在學校合作社工讀

17. ( ) 大明不幸被公司裁員失業，心情低落。根據我國現行制度，政府提供了哪些資源可以協助大明度過難關？
- (A)提供就業諮詢與各種職業訓練 (B)若符合規定，大明可以申請基本工資補助金 (C)只要失業，政府就會無條件發放終身生活補助 (D)雇主若違反倫理，大明可直接向警察局申請勞資調解
18. ( ) 暑假期間，小明在網路上看到一則徵人廣告寫著：「誠徵打字員，在家工作，論件計酬，但需先支付5,000元材料保證金以防檔案外流。」根據課本內容，小明應該提高警覺，因為這可能屬於哪一種情形？
- (A)雇主發揮企業倫理的表現 (B)典型的求職陷阱 (C)勞動基準法保障的契約內容 (D)合理的市場勞動成本負擔
19. ( ) 下列哪個選項是貨幣的儲存功能？
- (A)颱風過後市場恢復營業，民眾拿著現金購買食物 (B)新聞報導學生申請助學貸款，畢業後再分期償還借款與利息 (C)理財專欄指出，有些人選擇將現金保留在家中或存入銀行，以備突發狀況或未來需要使用 (D)房仲新聞中提到，高雄美術館區，房價每坪從30萬元上漲到60萬元，顯示該地區不動產價值提高

## 二、題組：每題3分

(一)下圖是在甲、乙、丙、丁四個時期，台幣兌換美元的匯率走勢圖，請根據此圖回答下列問題：



20. ( ) 美金匯率在乙時期與台幣的兌換達到33.5，之後開始下降。匯率下降表示什麼現象？
- (A)美金升值 (B)美金貶值 (C)美金匯率穩定 (D)美金匯率波動不明顯
21. ( ) 若小華想在網站上購買一雙標價 100 美元的限量球鞋，在不考慮手續費的情況下，在乙和丁兩個時間點購買的價差大約是多少新台幣？ (A) 100 元 (B) 400 元 (C) 1000 元 (D) 3310 元
22. ( ) 阿強的爸爸在美國工作，每個月固定寄回1000美金貼補家用。請根據圖中趨勢判斷，阿強家在哪個時期收到的「新台幣金額」會是當年度最多的？(A)甲 (B)乙 (C)丙 (D)丁
23. ( ) 當美金從乙時期至丁時期時，對美國本土的觀光業的影響為何？

- (A)美金相對變便宜，會吸引更多台灣遊客前往美國觀光，有利於美國觀光業  
(B)美金相對變貴，台灣遊客前往美國旅遊的成本增加，導致美國觀光收入減少  
(C)新台幣相對貶值，台灣遊客在美國購買紀念品的負擔變重，不利於美國觀光業  
(D)匯率變動僅影響出口貿易，對於美國本土的餐飲、飯店等觀光產業沒有影響
24. ( ) 某知名連鎖藥妝店「康是美」或「屈臣氏」計畫從美國大量引進一批知名的維他命與護膚產品。身為採購主管，小明深知「匯率即成本」的道理。若要在圖中這四個時期選擇一個時機點進行大宗貨款的清償，哪一個時期能讓藥妝店省下最多的新台幣成本，進而提升公司利潤？(A)甲 (B)乙 (C)丙 (D)丁
25. ( ) 來自美國的英文老師 Peter 在台灣工作，每個月領取固定 10 萬元新台幣的薪資。他習慣每個月月底留下一部分生活費後，將剩餘的台幣換成美金匯回美國繳納房貸。請問根據匯率圖趨勢，Peter 在哪一個時期匯款，能讓美國銀行帳戶收到的「美金金額」最多？(A)甲 (B)乙 (C)丙 (D)丁

(二)請閱讀下列文章，並回答下列問題:

### 安全使用新型態支付方式

許多人在使用新型態支付工具時，會讓電腦或手機記住輸入的帳號密碼後採用自動登入，如此一來雖然方便，但任何接觸到此電腦或手機的人，都可以輕易取得密碼。專家建議最好取消「自動登入」、「記住密碼」等設定，以免電腦或手機借他人使用或遺失時密碼遭竊，造成損失。

此外，不少店家會利用QR Code引導消費者進入優惠頁面，但QR Code可能隱藏能竊取個資的病毒，在掃描之前最好謹慎確認，以免無意中暴露自己的個資；「短連結」也可能隱藏木馬病毒，若不能確認短連結的來源，或收到「更新密碼」、「密碼失效」、「銀行升級」等要求變更密碼的簡訊及連結時，千萬不要直接點按，一定要先向相關單位確認，以免不小心中毒。

新型態支付方式帶來交易模式的改變，電腦或手機裡存有許多個人支付的重要資料，因此在更換電腦或手機時一定要記得將資料刪除，恢復原廠設定；更換手機號碼時，也要向銀行註銷及更新行動支付相關資料，以避免個資外洩問題發生

26. ( ) 小安為了方便，每次使用行動支付時都勾選「記住密碼」與「自動登入」。某天手機遺失後，他發現帳戶被盜刷。根據本文內容，下列哪一個做法最能降低類似風險？  
(A)將密碼改成生日，方便自己記憶 (B)關閉自動登入與記住密碼功能 (C)只在家中使用行動支付 (D)將帳號密碼告知家人代為保管
27. ( ) 小美在夜市消費時，掃描攤位提供的 QR Code 進行付款，手機卻跳出要求輸入個人資料的畫面。依據文章內容，這種情況最可能存在什麼風險？  
(A)付款速度變慢 (B)手機耗電量增加 (C)個人資料可能被不當蒐集 (D)行動支付公司無法收取手續費
28. ( ) 阿哲收到一則簡訊，內容顯示「您的銀行帳戶需升級，請立即點擊連結更新密碼」。根據本文的提醒，下列哪一個行動最恰當？  
(A)立即點擊連結，以免帳戶被停用 (B)將連結轉傳給同學詢問 (C)不點擊連結，向銀行或官方單位查證 (D)直接回覆簡訊提供個人資料
29. ( ) 小恩準備把舊手機賣給二手商，但手機中曾使用過多種行動支付工具。依據文章建議，下列哪一個做法最能保障個人資料安全？  
(A)只刪除常用 App 即可 (B)將手機交給店家處理即可 (C)刪除資料並將手機恢復原廠設定 (D)更換手機殼後再出售
30. ( ) 老師在課堂上提醒學生：「科技帶來便利，但也伴隨風險。」根據本文內容，下列哪一項最能作為這段話的最佳說明？  
(A)新型態支付工具不適合學生使用 (B)行動支付會讓人過度消費 (C)傳統現金交易完全沒有風險 (D)使用便利的支付工具仍需注意資訊安全

## 勞動權益的保障

我國長期以來勞動力不足，需要移工填補人力缺口。在國際分工下，國際移工因為薪資較低，逐漸成為工廠作業與家庭照顧工作的首選與主力。例如：有些家庭會聘雇國際移工專職從事看護工作與家庭幫傭，來處理各項家務工作。

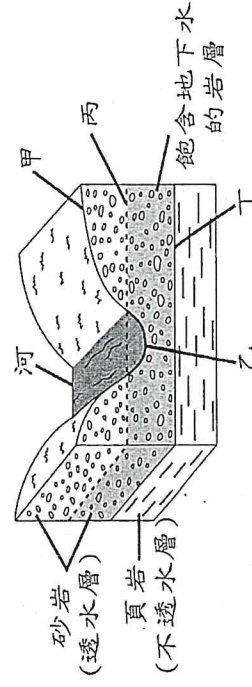
但在我國，國際移工權益保障的法律卻相對不足，勞資權力不對等的問題更形嚴重，許多本國勞工享有的勞動權益，國際移工經常無法享有。例如：從事家庭幫傭的移工無法享有勞動基準法的保障，也無法有適當的休息時間與合理的工作薪資；從事漁業的移工，因雇主成本與管理考量，使其下班後無法上岸休息，只能以漁船為家。這些生活環境不佳的漁船，常帶來許多安全衛生疑慮。民國108年，南方澳跨港大橋斷裂，許多罹難者為移工，使社會注意到移工的勞動條件、職場安全等問題，相關單位才承諾會在兩年內給予陸地安置，並提供適當的協助。

國際組織針對勞工權益受到剝奪的現象，呼籲各國政府透過立法來確保勞動的權益。例如：聯合國通過過人權兩公約，期盼提升各國的勞動、性別、族群等權利，要求國家、企業承擔責任，共同營造友善的勞動環境。

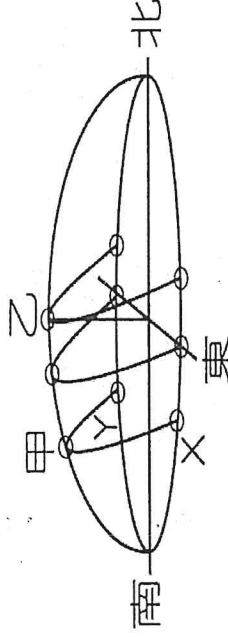
31. ( ) 小雯的家中聘請了一位外籍看護工協助照顧生病的祖母。她發現這位看護工幾乎沒有固定休假，也常需要長時間工作。依據本文內容，這樣的情況最能反映出哪一個問題？
32. ( ) 阿偉在新聞中看到，有些國際移工即使受傷或過勞，仍不敢向雇主反映，擔心失去工作或被遣返。根據本文，下列哪一項最能解釋他們的處境？
- (A) 國際移工多半不熟悉本國語言 (B) 移工缺乏勞動權益相關法律保障 (C) 移工不願意遵守工作規定 (D) 政府禁止移工申訴
33. ( ) 小杰注意到，從事家庭看護與家事勞動的國際移工多為女性。依據文章內容，這種現象最可能與下列哪一因素有關？
- (A) 女性較不願意從事工廠工作 (B) 家庭照顧工作被視為女性角色 (C) 男性移工人數逐年減少 (D) 女性移工較容易取得國籍

一、基本題(每題 2 分，共 40 分)

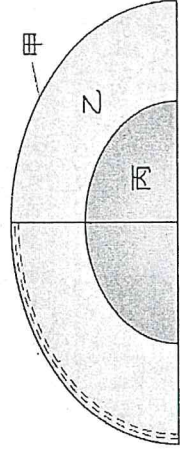
- ( ) 「沙丘」的形成與下列哪一種地質作用密切相關？ (A) 河流沉積作用 (B) 河流侵蝕作用 (C) 風的沉積作用 (D) 風的侵蝕作用。
- ( ) 地球表面總共有哪些外營力作用，會使地表的地形景觀不斷的改變？ (A) 風化、侵蝕 (B) 侵蝕、搬運 (C) 搬運、沉積 (D) 風化、搬運、侵蝕、沉積。
- ( ) 住在靠馬路的房屋，屋內地板常有很多灰塵與砂粒，可能是因馬路上的車輛行駛過去產生的風將地面灰塵與砂粒吹起，透過開啟的窗戶進到房屋內，最後停留在屋內地板。」有關於上述砂粒從馬路到屋內的過程中所包含的地表地質作用及其順序，下列何者最合理？ (A) 先侵蝕後沉積 (B) 先沉積後搬運 (C) 先搬運後沉積 (D) 先搬運後侵蝕。
- ( ) 附圖為某一地區的地層剖面示意圖，圖中灰色部分岩層飽含地下水。關於甲、乙、丙、丁所指的各種交界面，何者為地下水面？ (A) 甲 (B) 乙 (C) 丙 (D) 丁。



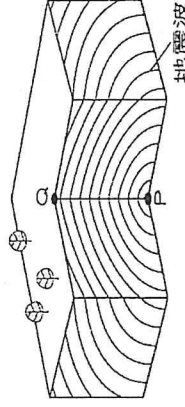
- ( ) 請問下列有幾個屬於板塊互相分離交界？甲. 東非裂谷 乙. 喜馬拉雅山 丙. 聖安地列斯斷層 丁. 美國大峽谷 戊. 海溝 己. 中洋脊 庚. 國界 辛. 洲界 壬. 海岸線 (A) 2 (B) 3 (C) 4 (D) 5。
- ( ) 地球上會有潮汐現象，主要是受到何者的引力？ (A) 太陽 (B) 月球 (C) 金星 (D) 火星。
- ( ) 附圖為北回歸線附近所見太陽的運動軌跡圖，根據此圖所示，下列敘述何者正確？



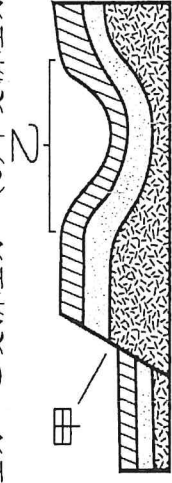
- (A) 每月正午太陽位於同一高度 (B) 春分時，太陽由 X 處升起，Y 處落下 (C) 每年一次正午陽光將直射臺灣嘉義 (D) 每日正午陽光會垂直照射臺灣各地。
- ( ) a. 地球公轉；b. 地球自轉；c. 地球距日遠近；d. 地球自轉軸傾斜；e. 月球繞地球公轉。以上哪些是引發四季交替的原因？ (A) ab (B) ac (C) ad (D) abc。
- ( ) 附圖為地球的分層示意圖，關於甲、乙、丙三主要分層的敘述，下列何者正確？ (A) 密度：乙 > 甲 > 丙 (B) 厚度：丙 > 乙 > 甲 (C) 壓力：甲 > 乙 > 丙 (D) 體積：甲 > 丙 > 乙。



- ( ) 花蓮是臺灣變質岩含量最多的地方，其中太魯閣國家公園更以大理岩構成的深窄峽谷而聞名。試問大理岩是由哪一種岩石變質而來？又該種岩石屬於哪一種岩石類別？ (A) 砂岩；沉積岩 (B) 石灰岩；沉積岩 (C) 安山岩；火成岩 (D) 石英岩；變質岩。
- ( ) 附圖為地震波傳播情形示意圖，試問下列敘述何者正確？ (A) P 為震央 (B) Q 為震源 (C) PQ 間的距離越長，地震規模越大 (D) 地震波會向四面八方傳播。



12. ( ) 附圖為某地區地層剖面圖，圖中甲、乙兩處各為受何種力量所形成之地質構造？甲受張力、乙受張力 (B) 甲受擠壓力、乙受擠壓力 (C) 甲受擠壓力、乙受張力 (D) 甲受張力、乙受擠壓力。

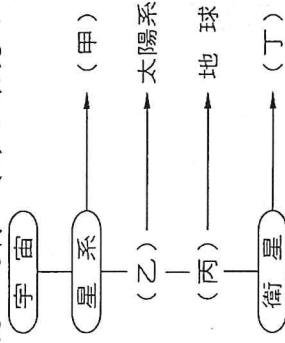


13. ( ) 織女星距離地球 25 光年，則下列推論何者正確？ (A) 織女星的溫度是太陽的 25 倍 (B) 今晚看到的織女星光是 25 年前發出的 (C) 織女星的亮度是太陽的 25 倍 (D) 織女星的體積是太陽的 25 倍。

14. ( ) 關於太陽系各行星的敘述，下列何者錯誤？ (A) 體積最大的行星是木星 (B) 距離太陽最遠的類地行星是火星 (C) 溫度最高的行星是金星 (D) 質量最小的行星是木星。

15. ( ) 光宇發現一種白色略透明的礦物，以石英在其上刻劃會留下痕跡，滴稀鹽酸到礦物上會產生二氧化碳，請問該礦物可能為下列何者？ (A) 大理岩 (B) 方解石 (C) 金剛石 (D) 石灰岩。

16. ( ) 附圖為宇宙組織對地球所在系統的層級關係，試判斷下列敘述何者錯誤？ (A) 甲為銀河系 (B) 丁為流星 (C) 丙環繞乙運轉 (D) 丁環繞丙運轉。



17. ( ) 月全食時，我們看到的月球是什麼顏色？ (A) 月球是黑色的或完全看不到月球 (B) 月球是紅棕色 (C) 月球是藍色 (D) 月球是金色。

18. ( ) 下列哪一節日所觀察到的月相與其他節日不同？ (A) 中元節 (B) 七夕情人節 (C) 元宵節 (D) 中秋節。

19. ( ) 若今日的月亮在中午 12:00 時升起，且在上午 6 點正值滿潮，則下列敘述何者錯誤？ (A) 明日上午 6 點 50 分也正值滿潮 (B) 明日下午 2 點正在漲潮 (C) 今日晚上 6 點 25 分也正值滿潮 (D) 今日只會有一次滿潮。

20. ( ) 關於南、北半球晝夜長短的敘述，下列何者正確？

選項	敘述
(A) 北半球 7 月	晝短夜長
(B) 南半球 7 月	晝夜等長
(C) 北半球 12 月	晝夜等長
(D) 南半球 12 月	晝長夜短

## 二、進階題(每題 2 分，共 40 分)

21. ( ) 關於臺灣夏天時氣溫較高的主要原因，下列何者正確？ (A) 夏天時陽光斜射，且日照時間較長 (B) 夏天時，地球和太陽的距離較近 (C) 夏天時陽光直射，且日照時間較長 (D) 夏天時陽光直射，且日照時間較短。

22. ( ) 「滿潮」是指潮汐週期中的哪一個階段？ (A) 海水水位由最低點上升至最高點的過程 (B) 海水水位由最高點下降至最低點的過程 (C) 海水水位降至最低點時 (D) 海水水位升至最高點時。

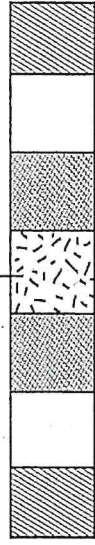
23. ( ) 有關目前對太陽系的認識，下列敘述何者正確？ (A) 八大行星中類地行星與類木行星數量相同 (B) 銀河系與太陽系擁有的恆星數量大致相同 (C) 類地行星主要是由氣體、冰等物質所組成 (D) 類木行星的密度以及體積皆小於類地行星。

24. ( ) 如附圖所示，臺灣位於菲律賓海板塊與歐亞板塊的推擠處，由此可推測，臺灣東側附近海域較易發現下列何者？ (A) 中洋脊 (B) 海溝 (C) 裂谷 (D) 環礁。




25. ( )關於地下水的敘述，下列何者錯誤？(A)地下水雖有地層保護但也會受到汙染 (B)地下水的來源主要依賴海水滲透 (C)如果地下水因超抽而導致海水滲入，將不堪飲用 (D)在沉積物鬆軟的地區，因超抽地下水導致地層下陷將特別嚴重。
26. ( )關於冰川的敘述，下列何者錯誤？甲.冰川也是水循環的一部分；乙.除了南北兩極外，高山地區也可能有冰川；丙.冰川強大的侵蝕力，可將山谷磨蝕成V形峽谷；丁.冰川的總水量比河川、湖泊及地下水少。(A)甲乙 (B)乙丙 (C)甲丙 (D)丙丁。
27. ( )若在野外看到如附圖之地表岩石構造，則此處地層內應可能有何種構造？(A)背斜和向斜均有可能 (B)斷層 (C)向斜構造 (D)背斜構造。

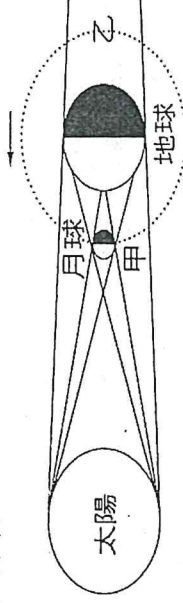
中央地質較老



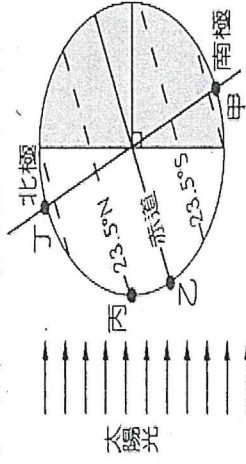
28. ( )關於附圖中各地質事件的敘述，下列何者有誤？(A)丁侵蝕面形成後，丙斷層才發生 (B)甲岩脈是丁侵蝕面形成後才出現的 (C)甲岩脈侵入比丙斷層更早發生 (D)丁侵蝕面比乙岩脈晚發生



29. ( )下列何者不是在地底深處形成的「火成岩」結構上的特色？(A)岩石凝固的時間較長 (B)結晶的顆粒較大 (C)顏色較淺 (D)岩石中常有生物的遺骸。
30. ( )海水的漲退與人們的生活息息相關，下列哪些為生活中常見的潮汐應用？甲.漁民利用潮汐捕魚；乙.計算滿潮時間讓大型貨輪進出港口；丙.計算退潮時間到海邊撿貝殼；丁.利用潮汐發電。(A)甲乙丙丁 (B)甲丙丁 (C)甲乙丁 (D)甲乙丙丁。
31. ( )關於地震防災的敘述，下列何者正確？(A)地震已經可以被準確預知發生的時間、地點 (B)地震一發生，就要立刻衝出建築物以免被埋壓 (C)裝潢整修不可任意更動建築物結構 (D)緊急避難包可以永久保存，不用更換物品。
32. ( )關於「褶皺」構造的敘述，下列何者錯誤？(A)是指岩層呈現波浪狀彎曲的外形 (B)是岩層具有可塑性的表現 (C)是岩漿流出地表冷卻凝固所形成的 (D)凸起的部分稱為背斜。
33. ( )固體地球的表面有許多「板塊」，板塊之間的相互作用產生許多地質現象。一般認為板塊厚約一百至二百公里左右，這是如何測得的？(A)鑽井探測 (B)在礦坑中發現 (C)撈取海底標本 (D)以地震波判斷。
34. ( )彗星接近太陽時，外圍物質受熱後成為氣體，又受到太陽風的吹拂，形成一條長且明亮的彗尾，試問彗尾的方向應該為何？(A)永遠面向太陽 (B)永遠背對太陽 (C)永遠和彗星軌道平行 (D)永遠面對地球。
35. ( )附圖為日食與月食的成因示意圖，請問當月球繞行至甲處與乙處時可能會分別發生哪種現象？(A)繞行至甲處可能會發生月食、繞行至乙處可能會發生日食 (B)繞行至甲處可能會發生日食、繞行至乙處可能會發生月食 (C)繞行至甲處或乙處都可能發生日食 (D)繞行至甲處或乙處都可能發生月食。



36. ( )海床上的沉積物經過膠結固化，可能會形成下列哪些物質？甲.石灰岩；乙.頁岩；丙.安山岩；丁.玄武岩。(A)甲乙 (B)乙丙 (C)甲丙 (D)丙丁。
37. ( )附圖是某一天陽光照射地表的情形，甲、乙、丙、丁是同一經度上的四個地點，則當天正午時(如附圖所示)，何處地表單位面積所接收的太陽輻射能量最多？(A)甲 (B)乙 (C)丙 (D)丁。



38. ( ) 關於岩石和礦物的敘述，下列何者錯誤？ (A) 礦物是指天然產出的均勻固體 (B) 沉積物經由壓密膠結而形成沉積岩 (C) 沉積岩、火成岩及變質岩是依所含礦物種類區分 (D) 岩石是由礦物所組成。

39. ( ) 關於「中洋脊」的各項敘述，下列何者錯誤？ (A) 中洋脊是新的海洋地殼生成的地方 (B) 中洋脊是一種海底的火山 (C) 中洋脊是板塊與板塊之間受張力作用而分開之處 (D) 中洋脊是由石灰岩所構成。

40. ( ) 下列何者所發出的光芒是反射自其他星體？ (A) 銀河 (B) 獅子座流星雨 (C) 大熊與小熊星座 (D) 火星。

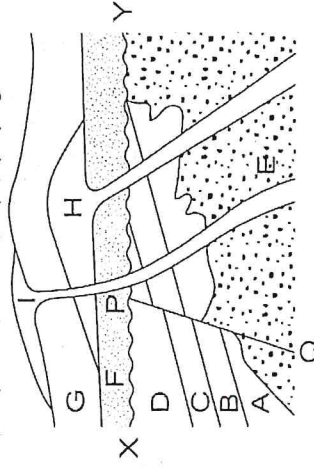
### 三、題組(每題 2 分，共 10 分)

1. 小樂收集了一些岩石：甲. 石灰岩；乙. 花崗岩；丙. 大理岩；丁. 砂岩；戊. 片岩；己. 安山岩；庚. 玄武岩；辛. 頁岩。請你幫他做好分類，並回答下列問題：

41. ( ) 下列何者屬於變質岩？ (A) 甲乙 (B) 丙辛 (C) 乙辛 (D) 丙戊。

42. ( ) 下列何者屬於沉積岩？ (A) 甲丁戊辛 (B) 甲丁辛 (C) 丙丁戊 (D) 乙己庚。

2. 如附圖為一地質剖面圖，試根據此圖，回答下列問題：

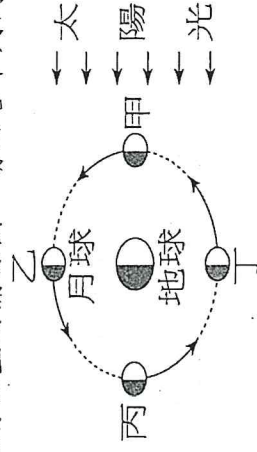


43. ( ) 下列哪一個地質事件最後發生？ (A) F 地層沉積 (B) H 岩脈侵入 (C) I 岩脈侵入 (D) G 地層沉積。

44. ( ) 關於「PQ 斷層、D 地層、C 地層、B 地層、XY 侵蝕面」事件發生的先後，下列何者正確？

(A) D 地層最早出現 (B) XY 侵蝕面最晚發生 (C) XY 侵蝕面比 PQ 斷層早發生 (D) PQ 斷層比 D 地層早發生。

3. 附圖為月球相對於地球和太陽位置的關係圖，請回答下列問題：

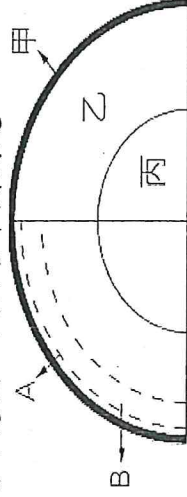


45. ( ) 當月球運行至何處時，地球上所見之月相為朔？ (A) 甲 (B) 乙 (C) 丙 (D) 丁。

46. ( ) 當太陽、月球和地球位於一條線上時，潮汐的潮差會達到最大。請問此時月球應是運行至何處？ (A) 甲丙 (B) 乙丁 (C) 甲乙丁 (D) 甲乙丙丁。

47. ( ) 當月球運行至何處時，地球上最有可能同時看見日食與月食？ (A) 甲 (B) 丙 (C) 甲丙 (D) 地球上不可能同時出現日食與月食。

4. 附圖為地球內部分層示意圖，試回答下列問題：



48. ( ) 試問甲乙丙三層密度大小的排列應為何？ (A) 甲 > 乙 > 丙 (B) 甲 > 丙 > 乙 (C) 乙 > 甲 > 丙 (D) 丙 > 乙 > 甲。

49. ( ) 岩石圈是指哪一部分？ (A) A 以上 (B) B 層 (C) 甲層 (D) 乙層。

50. ( ) 具有極緩慢流動性，緊鄰岩石圈的是哪一部分？ (A) 乙層 (B) 甲層 (C) A 以上 (D) B 層。

# 高雄市立鼓山高中 114 學年度第一學期第三次段考《國三》健教科試題卷

考試範圍：第五冊 3-1~3-3

電腦讀卡代碼：14

班 號 姓名

【注意：若為畫卡作答之考科，經閱卷讀卡發現畫記錯誤，該科扣 5 分，未畫卡者該科以 0 分計。】

一、選擇題：每題 4 分，共 100 分

- 「班際比賽結束時，我以為我們能贏，結果我們竟然輸了！」根據情緒辨識，請問是何種情緒？  
(A) 驚 (B) 喜 (C) 慕 (D) 懼
- 以下順序哪個是小瑜在終點前被對手追趕上並反超時的情緒反應流程？(甲)比賽被對手反超 (乙)錯愕後感到憤怒 (丙)決定迎戰 (丁)全力衝刺。  
(A) 甲丙丁乙 (B) 乙丙丁甲 (C) 甲乙丙丁 (D) 丙丁甲乙
- 以下何者不是適當的調適情緒的方法？  
(A) 調整想法 (B) 聽音樂 (C) 摔東西 (D) 找朋友傾訴
- 在大腦中，邊緣系統是情緒掌管的中樞，請問邊緣系統裡包括了？  
(A) 杏仁核和海馬迴 (B) 邊緣系統和前額葉 (C) 下視丘和前額葉 (D) 海馬迴和下視丘
- 以下何者是情緒反應的流程圖？  
(A) 事件→杏仁核→小腦→本能反應 (B) 事件→下視丘→小腦→本能反應  
(C) 事件→下視丘→杏仁核→本能反應 (D) 事件→杏仁核→下視丘→本能反應
- 菲菲在得知自己考試名列前茅時，內心感到滿足與開心，這種情緒在腦中最有可能首先啟動哪個區域？  
(A) 前額葉 (B) 海馬迴 (C) 下視丘 (D) 杏仁核
- 辰辰在比賽中失利後感到難過，這樣的情緒反應若被強烈壓抑，長期可能產生什麼影響？  
(A) 增加競爭意願 (B) 更能抗壓 (C) 提高記憶力與反應速度 (D) 提高掌管情緒的感受和判斷？
- 當遇到壓力時，就會產生憤怒或恐懼的情緒，在大腦中是誰掌管情緒的感受和判斷？  
(A) 杏仁核 (B) 前額葉 (C) 下視丘 (D) 海馬迴
- 下列哪一項是「情緒接納」的具體表現？  
(A) 強忍不說話讓情緒自行平復 (B) 警告自己不准再有這種感受  
(C) 避免他人發現自己的情緒反應 (D) 認真觀察情緒產生的原因與變化
- 下列對於壓力對身體產生的反應，何者敘述正確？  
(A) 當有壓力時，感覺到緊張、害怕與焦慮是行為上的反應  
(B) 當有坐立不安、提不起勁、社交退縮與自我傷害時是情緒方面的反應  
(C) 當感受到血壓升高與腸胃不適是身體方面的反應  
(D) 當感覺到不滿意自己的表現與專注力變差是身體方面的反應
- 升上國三的阿陽一直在思考自己要讀高中還是高職。請問這是哪一種壓力源？  
(A) 同儕比較 (B) 未來方向 (C) 生活環境 (D) 學校課業
- 對於壓力調適的觀念下列何者正確？  
(A) 完全不用理會 (B) 學會處理壓力的方法，讓壓力成為生活的助力  
(C) 覺得壓力太小，沒有挑戰時，不用理會 (D) 只要學會紓壓，不用管壓力源
- 當我感受到壓力的時候，可以做哪些事？(甲)瞭解自己的壓力來源 (乙)覺察自己壓力的程度 (丙)觀察壓力對自己身體形成的反應 (丁)不用理他 (戊)去飆車抒壓  
(A) 甲乙丁 (B) 甲乙丙 (C) 甲乙戊 (D) 乙丙戊

14. 生活中發生了具有威脅性的事件引發身體和心理的一連串反應稱為？  
(A)情緒 (B)戀愛 (C)壓力 (D)工作
15. 請你觀察下列四位同學的表現，請問哪一位目前可能處於壓力過大的情形？  
(A)小樂總是用著開朗的口氣跟每位同學打招呼  
(B)小玟最近變得比以前更會打扮自己  
(C)小康最近只要一進到教室就開始頭痛、緊張甚至坐立不安  
(D)小育每天上學前都會先靜坐10分鐘
16. 當壓力持續高漲，個人無法自行調適時，下列哪一項最合宜？  
(A)尋求心理師或精神科 (B)壓抑情緒不對人說  
(C)用更多社交娛樂忘記壓力 (D)說服自己只是太敏感
17. 根據壓力與工作表現的倒U型曲線理論，下列哪種壓力狀態最有利於學習與表現？  
(A)完全無壓力，內心放鬆 (B)壓力適中，具備挑戰感  
(C)壓力極大，感到沉重 (D)長期壓力過低
18. 下列何種方法能用來檢視壓力指數？  
(A)覺察目前所承受各種壓力事件，依照不同的沉重程度，分別用輕中重的部分標示出來  
(B)拿剪刀剪紙，依剪紙的大小決定壓力大小  
(C)和同學比手腕力氣來決定壓力的大小  
(D)慢跑距離長短來決定壓力的大小
19. 當我感受到憂鬱情緒的時候，可以做哪些事？(甲)轉換情緒(乙)覺察自己憂鬱情緒的程度(丙)觀察憂鬱對自己的影響(丁)不用理它(戊)責罵弟妹緩解情緒。  
(A)甲乙丁 (B)甲乙丙 (C)甲乙戊 (D)乙丙戊
20. 以下哪一項行為最可能顯示一個人正在經歷中度憂鬱情緒？  
(A)偶爾感到疲倦，但能自行調適 (B)經常失眠，且覺得自己什麼都做不好  
(C)下課時間與同學打球，心情稍微平復 (D)對社團活動熱忱不減，仍積極參與
21. 依僅最近心情低落，對什麼事都提不起興趣，覺得自己什麼都做不好，可以用下列何種方法試著修正過度負向的念頭？  
(A)思考這樣的想法有什麼依據 (B)有沒有替代的想法來看這件事  
(C)把最好的情況與最壞的情況都思考過 (D)以上皆是
22. 發現同學近來情緒低落，總是不停責怪自己時，我們可以如何幫助他？  
(A)責備他不應該這樣說自己 (B)不要理他，讓他自己靜一靜  
(C)叫他不要想太多，想少一點才會快樂 (D)聆聽他情緒低落的原因，耐心陪伴走出負面情緒
23. 下列何者屬於「憂鬱情緒」而非「憂鬱症」的特徵？  
(A)情緒低落已持續三週以上，生活無法正常運作 (B)出現多項症狀且影響日常功能  
(C)遇到壓力事件後情緒低落，幾天後逐漸好轉 (D)常出現無價值感與自我否定長達一個月
24. 當我身陷憂鬱情緒，覺得自己難以負荷時，下面哪支號碼無法提供我們協助？  
(A) 1980 (B) 1995 (C) 1925 (D) 1922
25. 小傑主動與社團夥伴分享學習心得，也在週末參與公益活動。他的行為分別最能對應「幸福五元素」中的哪兩項？  
(A)正向人際、成就感 (B)意義感、正向情緒 (C)全心投入、正向人際 (D)成就感、正向情緒