

高雄市立鼓山高中 114 學年度第二學期第一次段考《國三》國文科試題卷

考試範圍：南一版 L4~L6、自學二、自學三 電腦讀卡代碼：01

三年__班__號 姓名__


一、選擇題：(第 1 題~第 10 題，一題一分；第 11 題~第 36 題，一題三分)

- 下列哪一個選項沒有錯別字？
 - (A) 疫情持續升溫，專家學者再三呼籲：各國要採取更積極措施，否則疾病將不斷漫延
 - (B) 大家對他的言談中還有如此落伍的觀念感到難以致信，今天終於親耳聽到，一樣不敢苟同
 - (C) 壽命有限，成就無限。人必須不斷探索，不斷成長，努力進德修業，以期實踐更遠大的理想
 - (D) 人之所以會成功，與其說是取決於才能，倒不如說是取決於熱忱。
- 下列哪一個選項有錯別字？
 - (A) 百貨公司歲末折扣時，到處人聲頂沸，消費者趁機採購想要的貨品
 - (B) 即使再不甘心，也必須承認對方的實力更勝一籌
 - (C) 這個魚販在入夜後從宜蘭出海，到龜山島海域夜釣一整晚，清晨時才上岸。
 - (D) 因為擔心瓦斯外洩引發更大災情，一名消防員份不顧身地深入火場，迅速解除危機。
- 下列哪一個選項沒有錯別字？
 - (A) 在職場上不需為諾諾，反而讓人心生反感
 - (B) 據我觀察，陳先生參加活動時，總是一襲黑色西裝搭配領帶，看起來非常紳士
 - (C) 許多人都渴望擁有表現機會，希望你能不自我設限，相信會有不可思議的收穫
 - (D) 這個其貌不揚的巨人奮力一吼，憾動山河，大地顫動。
- 下列各組的國字注音何者正確？
 - (A) 「囁」：ㄓㄨㄛˋ / 「蠕」：ㄉㄨㄛˋ (B) 相「濡」：ㄉㄨˋ / 布「疋」：ㄉㄨˋ
 - (C) 「詆」：ㄉㄧˇ / 宅「砥」：ㄉㄧˇ (D) 木「匣」：ㄩㄞˋ / 過份「狎」：ㄒㄧㄞˋ
- 下列各組的國字注音何者正確？
 - (A) 「塵」：ㄉㄨㄣˊ / 「彌」：ㄇㄧˊ (B) 打「盹」：ㄉㄨㄣˇ / 挖「囁」：ㄩㄞㄙㄛˊ
 - (C) 松「茸」：ㄩㄥㄨㄥˇ / 這「罈」：ㄊㄨㄥˊ (D) 重蹈復「轍」：ㄉㄨㄛˊ / 沒「轍」：ㄙㄛˊ
- 下列各組的國字注音何者正確？
 - (A) 擊「柝」：ㄅㄛˊ / 小吏：ㄅㄨˋ / 「拆」：ㄉㄞˊ (B) 「鸛」：ㄍㄨㄢˇ / 東方白「鵲」：ㄉㄨㄛˊ
 - (C) 才華橫「溢」：ㄧˋ / 太過狹「隘」：ㄞˋ (D) 暗「忖」：ㄉㄨㄣˇ / 愛「憎」：ㄗㄥˊ
- 下列解摘釋何者正確？
 - (A) 囁嚅：說話結巴的樣子 (B) 翌日：明天
 - (C) 端詳：端正嚴肅 (D) 渾渾噩噩：因頭暈而不知事理。
- 下列解摘釋何者正確？
 - (A) 暗付：私下勾結 (B) 玩日愒歲：每天開開心心
 - (C) 塵封：因歲月而淡忘 (D) 置信：不相信。
- 下列解摘釋何者錯誤？
 - (A) 愛「憎」：厭惡 (B) 打「盹」：點頭
 - (C) 「彌」足珍貴：更加 (D) 甘食「禴」衣：華美的。
- 下列解摘釋何者錯誤？
 - (A) 「乘」時趨利：順應 (B) 「蠹」耳：蛀蟲
 - (C) 日新不「敝」：遮蔽 (D) 「物」之情：指人。
- 在項鍊一文中，下列何者是作者想藉由這篇小說所要表達的人生哲理？
 - (A) 不貪虛榮，甘於淡泊 (B) 追求完美，近乎苛求
 - (C) 隨遇而安，逆來順受 (D) 有志竟成，人定勝天。

12. 「我能體會老獵人那種對自然恩典的感受，那種回應自然的真實和歸屬」關於這句話要表達的含義，下列何者正確？
- (A) 面對自然的恩典，要以真實的心去感受、回應自然
(B) 要達到天人合一，就要學會狩獵
(C) 人們以真實的心回應自然，才能感到自我真實的存在
(D) 落葉歸根，生命最終要回歸自然。
13. 「唯有回歸開放的心靈、回歸好奇的本能，才是學習的起點。」下列何者是這段話要闡述的觀點？
- (A) 勤奮地學習才可強化人的好奇心
(B) 開放與好奇之心能激起學習動力
(C) 正向積極的人生觀是需要培養的
(D) 回歸學習的起點才能有開放的心靈。
14. 在玫瑰樹根一文中：當細流看到美麗的玫瑰樹，聞到甜香的玫瑰花味時，請問他是以怎樣的心情說出：「天啊！想不到一個在地下如此粗糙、褐黑的樹根，竟會長出柔軟、細緻的玫瑰花！天啊！想不到醜陋的樹根竟然能夠延伸出這樣的美麗」？
- (A) 恐懼 (B) 痛苦 (C) 驚嘆 (D) 嫌惡。
15. 勸訓一文中，「太馬之聖，且惜寸陰；陶侃之賢，且惜分陰。又況賢聖不若彼者乎？」句中的「賢聖不若彼者乎」指的是何人？
- (A) 懶惰的人 (B) 一般平凡之人 (C) 太馬、陶侃 (D) 古聖先賢。
16. 勸訓一文指出天地萬物「日新則不敝」的道理，下列格言哪一個意思與此不同？
- (A) 滾石不生苔 (B) 戶樞不蠹，流水不腐
(C) 君子學貴慎始 (D) 天行健，君子以自強不息。
17. 因果關係能藉前後兩句表達，又分為「先因後果」與「先果後因」兩種，如「一個人為什麼會好奇，因為擁有一顆開放且不自我設限的心靈」便是屬於「先果後因」。下列文句，何者也屬於「先果後因」的關係？
- (A) 還君明珠雙淚垂，恨不相逢未嫁時。
(B) 親賢臣，遠小人，此先漢所以興隆也。
(C) 慈烏失其母，啞啞吐哀音。
(D) 人生在世不稱意，明朝散髮弄扁舟。
18. 作文時，我們可採用當事者或旁觀者的立場來記敘。下列何者的記敘觀點與其他三者不同？
- (A) 老獵人為了讓附近的人知道這裡有水流，就在水滴落的地方放了一塊石板
(B) 父親告訴我，前面有水源區，待會可以到那裡休息、喝水
(C) 我知道父親的意思，水是屬於這裡的，那是大地給的禮物和恩典
(D) 兒子，如果你的方法在便利商店賣水，那只能叫滿足。
19. 「這裡的老獵人說：『那是因為這麼一點點水就足夠讓在這裡工作、狩獵的人飲用了。』這是自然定理，也是老獵人的約定。兒子，夠用就好了。」根據本段文字，「夠用就好」的觀念可以與下列何者相呼應？
- (A) 縱有良田萬頃，日食不過三餐；廣廈千間，夜臥不過八尺
(B) 安得廣廈千萬間，大庇天下寒士俱歡顏
(C) 富貴不能淫，貧賤不能移，威武不能屈
(D) 君子有終生之憂，無一朝之患也。
20. 「通化街菜市場，一個小攤子，擺著數十條銀光燦爛的白帶魚，魚眼明亮透澈，一看就知道是極新鮮的魚貨，而這個魚販也不是一般的魚販，只有偶爾在假日才見到他，因而引起我的興趣。」依據這段文字，下列推論何者正確？
- (A) 這名魚販每逢假日便會來菜市場擺攤賣魚。
(B) 魚販是作者的舊識，特地留了好魚給作者。
(C) 作者與魚販相遇的地點是在通化街的市場。
(D) 作者是從魚眼的狀態判斷白帶魚是否新鮮。

21. 好奇讓人多疑、多問、多談、多學；好奇也讓人開放、探索、觀察、研究；好奇更能帶來知識、訊息、故事，並從中產生無窮樂趣。」關於以上文字，下列說明何者正確？
(A) 使用排比、層遞修辭，造成形式上的美感。
(B) 好奇會引發人從不同角度看事情，增加探究事理的樂趣。
(C) 好奇是從懷疑不信任中產生，藉由觀念澄清可以建立信任感。
(D) 所有故事及知識的形成都是由與好奇心而來
22. 「府吏倪尋、李延共止，俱頭痛身熱，所苦正同。華佗曰：『尋當下之，延當發汗。』或難其異，華佗曰：『尋外實，延內實，故治之宜殊。』」即各與藥，明旦並起。」關於倪尋、李延的症狀與治療方式，下列何者最符合這段文字的敘述？
(A) 倪尋與李延症狀相同，用藥不同 (B) 倪尋當下出汗，比李延更早痊癒。
(C) 華佗以稀有藥材治癒倪、李二人 (D) 華佗兼採內服外敷治倪、李二人。
23. 「莫泊桑的寫作特色如下：在首尾呼應方面，結局經常出乎讀者意料，卻又合情合理；在敘事觀點方面，能在第一與第三人稱上切換自如。此外，他擅長以人物的對話、細密的描繪、平易的用字、不俗的譬喻創作，筆下人物所從事的職業涵蓋各行各業，描繪人物濃纖適度，三言兩語即生動勾勒出人物形貌與特徵。」根據引文，莫泊桑的寫作具有什麼樣的特色？
(A) 用字華麗。(B) 情節經典。(C) 刻劃細膩 (D) 善於寫景。
24. 「某現金卡廣告詞：『借錢是高尚的行為。』」引發了社會的爭議。打廣告當然是為了賣商品，但廣告訊息傳播的價值觀，不僅影響了消費者的觀感，也影響商品本身的形象。」下列何者最符合這段文字的說明？
(A) 廣告影響消費者的觀感時，才能有利於行銷 (B) 廣告以創意凸顯產品的形象時，應審慎行事。
(C) 廣告設計應該以突破社會既定價值觀為目的 (D) 廣告若能引發社會爭議，必能帶動消費潮流。
25. 「能讓全世界都叫得出名字的法國歌手，大概只有香頌天后伊迪絲·琵雅芙。她出身於社會底層，十五歲即在街頭賣唱維生。因此，她的歌總能真實表達社會底層百姓的心聲，引起多數人的共鳴。現在一提到香頌音樂就想到法國，這都歸功於琵雅芙。她的歌已超越音樂本身的影響力，其歌詞優美，反映時代背景，成為重要的音樂文化指標，不但風靡歐美，也啟發許多後輩歌手。」這段文字主要是在強調琵雅芙的哪一項貢獻？
(A) 擴大香頌音樂的影響力 (B) 帶動街頭藝術的表演風氣。
(C) 關懷弱勢，為底層百姓爭取福利 (D) 投身香頌音樂教育，培養後輩歌手。
26. 一家書店的外牆寫著：「在我看來，托爾斯泰和杜思妥也夫斯基比隔壁鄰居更真實。更奇怪的是，早在我尚未出生以前，杜思妥也夫斯基就在一本叫做白痴的書中，寫出了我的人生故事。」根據這段文字，下列推論何者最恰當？
(A) 作者過於耽溺書本，鄰居鮮少與他往來 (B) 作者的人生經歷被杜思妥也夫斯基寫入書中
(C) 從托氏與杜氏的書中，作者看到了真實的人生 (D) 閱讀托氏與杜氏的作品，作者有知音難遇之感
27. 「錢之為體，有乾有坤。其積如山，其流如川，動靜有時，行藏有節；市井便易，不思耗折，難朽像壽，不匱像道。故能長久，為世神寶。」這段文字的主旨，最可能是下列何者？
(A) 強調開源節流的重要 (B) 介紹金錢各方面的特性。
(C) 寄寓作者不慕財利的胸襟 (D) 描寫社會追逐金錢的現象。
28. 「大腦感到好奇的時候，會同時動用到左右腦。遇到全新無法預測的事物時，你一定得先搜尋一遍已知資訊（位於左腦中心），同時將新經驗整合一遍（由右腦中心負責）。如果你經常感到好奇，大腦就會持續增長、修正並重組神經網路。也就是說，終身學習是一件很重要的事，可以讓大腦保持年輕、有彈性。」依據這段文字，下列說明何者正確？
(A) 我們曾經習得的資訊，多半儲存在右腦 (B) 當我們感到好奇時，通常只會動用到左腦
(C) 遇到全新事物時，負責整合新經驗的是右腦 (D) 終身學習可以保護大腦，避免過度使用而損壞。
29. 樹木就像身邊隨時都備有原料的麵包師傅，隨時隨地都可以透過光合作用讓肚子不再咕嚕咕嚕叫。然而，對樹木來說，_____，因為缺水隨時能讓它的生產中心停工。即使是最好的師傅，沒有水也無法烤出麵包，一旦缺乏水分，樹木也無從製造養分。」根據本文的文意，下列何者最適合填入文中的畫線處？
(A) 口渴比飢餓更難忍受 (B) 水汙染簡直要它的命。
(C) 水患和乾旱是大問題 (D) 只有養分才是必需品。

30. 「書，飢讀之以當肉；寒讀之以當裘；孤寂而讀之，以當友朋；幽憂而讀之，以當金石琴瑟也。」這句話的涵義，與下列何者最接近？
- (A) 讀書百遍義自現，尋根求源探其妙 (B) 處逆何妨將書讀，興味來時百憂除
(C) 紙上得來終覺淺，方知此事要躬行 (D) 求學當如飢索食，問道應似寒需衣。
31. 「夫鹵，捨而不治，則腐蠹而棄。使女工繅之，以為美錦，國君服而朝之。身者，鹵也，捨而不治，則智行腐蠹。使賢者教之，以為世士，則天下諸侯莫敢不敬。」關於本文的分析，下列敘述何者最恰當？
(註：繅：音ㄌㄠˊ，煮繭抽絲)
- (A) 以鹵為喻，說明教化對修身的重要 (B) 以身著美錦，暗指上位者奢靡誤國
(C) 以女工與賢者對照，強調環境的影響 (D) 以腐蠹的蠶繭，嘲諷國政的敗壞衰頹。
32. 陶淵明：「勤學如春起之苗，不見其增，日有所長。輟學如磨刀之石，不見其損，日有所虧。」這段陶淵明向後輩闡述的學習之道，其主旨最接近下列何者？
- (A) 所謂「學問」，就是想學就要問 (B) 專心才能使學習事半功倍。
(C) 及早立定計畫，是學習的良好開端 (D) 學習須經過不間斷的累積才有所得。
33. 「學者如取水，終日取而不能踰其量，故操瓢者止於瓢，操盎者止於盎；教者如分火，終日分而未嘗虧其體，故散為十燈而明自若，散為千燈而明自若。故善學者_____，善教者_____。」根據文意脈絡，畫線處依序填入下列何者最恰當？
- (A) 不自隘其器／不自吝其光 (B) 如逆水行舟／似雪中取火。
(C) 宜自知其量／宜自晦其光 (D) 無一時之患／有終身之憂。
34. 環保議題逐年受到大眾關注，但「永續經營」的概念並非現代人特有，請問以下何人之思想即可視為此一觀念的先聲？
- (A) 孔子：「天何言哉？四時行焉，百物生焉。」(B) 孟子：「斧斤以時入山林，材木不可勝用也。」
(C) 楊朱：「拔一毛而利天下，不為也。」(D) 蘇軾：「取之無盡，用之不竭，是造物者之無盡藏也。」。
35. 在下述圖文中，我們無法體會到什麼道理？



如果要談到一對全世界最有名、又經常帶給全球觀眾驚豔的夫妻檔，穆拉德和納塔莉絕對令人印象深刻，這對來自俄羅斯的美豔夫妻，以一系列「Follow Me To」照爆紅，畫面中簡單又率真的牽手模樣，勾勒出濃濃的幸福意象。原本就愛拍照的穆拉德，在旅遊時喜歡佇足拍攝許久，因而常被女友拉著走，偶然間，發現如此逗趣又美妙的構圖。

- (A) 我總是在最深的絕望裡，遇見最美麗的驚喜 (B) 璀璨耀眼的事物相較於平凡事物更能長久。
(C) 幸福是轟轟烈烈的滾燙情感，烙印在心中 (D) 幸福不必刻意追求，而是在偶然之間。

36. 「以下介紹幾種鑽石的車工形狀：


圓形：圓形鑽石是最普遍的鑽石切磨樣式，通常有 57 或 58 個刻面，圓形明亮式車工是最能夠展現鑽石光彩的切磨方式。

橢圓形：橢圓形鑽石是由圓形演變而成，因此明亮程度也與圓形鑽石相仿。

橄欖形：一種類橢圓形但兩端為尖端，又稱馬眼鑽。

梨形：梨形車工是圓形與橄欖形車工的結合，形狀似水滴，一端為橢圓形的頭部，另一端則為馬眼形的尖端。」

你看見新聞正在報導明星的婚禮，新娘手上的鑽石婚戒呈現如下圖的形狀，依照文章敘述，這屬於哪一種車工形狀？？



(A) 圓形 (B) 橢圓形 (C) 橄欖形 (D) 梨形。

二、閱讀題組：(每題三分)

(一)

在父親與族人的注視之下，年輕的莫那魯道，靜靜躺在自己家中的地面上。他不說一語，態度宛如岩石一般沉靜，更像是和整個大地融為一體。他身上蓋著芋麻編織成的白色毯子，一直覆蓋到脖子的下方。那毯子上面如同晚霞一般美麗的紅色圖騰，正是母親親手編織而成的傑作。

在流動緩慢的時間裡，莫那試著讓自己的呼吸不要因紋面儀式到來而變得急促。但當他從仰視的視野看著滿臉皺紋的老嫗嫗將紋面工具——放在自己左耳附近時，他的心，仍像是大雨過後的溪流，有種難以抑止的澎湃。

對賽德克族而言，紋面，是一個人生命中最重要的一個儀式。

每個賽德克族新出生的生命，不管男女，在年幼時都會在額頭上刺上額紋。那是一種「生命」的表徵，也代表著祖靈的眷顧，用以保護他們長大。但是只刺上額紋的人，並不能獲得成為一個賽德克·巴萊——「真正的人」的資格。

要成為賽德克·巴萊，賽德克族的男子必須要有精湛的狩獵技巧，並且成功出草獵回人頭之後，才能在頭目的見證之下，於下巴紋上代表成年的頭紋。至於女子得以紋面的資格，則是必須努力學習有關編織的知識與技術，從採麻、搓麻、織布到縫衣都必須精通，等到有一天她織布的技巧獲得部落長老的認同之後，才能於臉頰兩側刺上頰紋。

對賽德克族人而言，只有臉上有刺紋的人，才能結婚擁有後代；臉上沒有刺紋的人，將永遠被視為小孩，永遠被譏笑，將來死後也不能通過彩虹橋去見祖靈。

可以說，沒有紋面對於一個賽德克族人而言，是一種最羞恥的墮落。

——改寫自魏德聖 賽德克·巴萊

37. 根據本文，莫那魯道在接受紋面前，心情有種難以抑止的澎湃，其原因最不可能為下列何者？

- (A) 通過種種考驗之後的欣慰 (B) 即將成為勇士的興奮感受
(C) 為即將執行出草任務而期待 (D) 將承擔部落重任而覺得驕傲。

38. 根據本文，下列敘述何者正確？

- (A) 在賽德克族內，男女戀愛及婚嫁須經過頭目的准許。
(B) 賽德克族人的額紋，象徵著生命的至高尊嚴與榮耀。
(C) 已屆婚齡卻不結婚的賽德克·巴萊，被視為一種恥辱。
(D) 女性想成為賽德克·巴萊，須精通編織的知識與技術。

(三)

蠹魚 吳沃堯

蠹魚蝕書滿腹，龐然大，以為我天下飽學之士也。遂昂頭天外，有不可一世之想。出外遠行，遇蜚螂，蜚螂欺之；遇蠅虎，蠅虎侮之。

蠹魚忿急，問人曰：「我滿腹詩書，自命為天下通儒，何侮我者之多也？」

人笑之曰：「子雖自命為滿腹詩書，奈皆食而不化者，雖多何用？」

注：①蠹魚：音勿入，蛀食衣服、書籍的小蟲。②蝕：侵蝕，此隱喻「食」。③蜚螂：昆蟲名，俗稱連屎蟲、屎殼蟲。④蠅虎：一種形似蜘蛛，以蠅類為食的昆蟲。⑤通儒：學問淵博，貫通古今的人。

39. 本文主旨揭露時下讀書人易犯的毛病為何？
(A) 擇善固執 (B) 食古不化 (C) 剛愎自用 (D) 不自量力。
40. 「蠹魚忿急」是因何因？
(A) 自覺學識不夠，急於進修 (B) 無法解入難題
(C) 自認學識豐富，何以人人侮之 (D) 遭人陷害。

高雄市立鼓山高中 114 學年度第二學期第一次段考【國三】英語科閱讀試題卷

範圍：翰林版英語第六冊 U1~U2 課本&習作


三年____班____號 姓名_____

★考生將答案劃在答案卡上★ 英語代碼：02

英語閱讀試題佔段考英語總成績 80%

一、字彙測驗-根據題意，選出最適合的英文單字 (30%，每題 3 分)

- Stan didn't have any friends in Taiwan, so he felt _____ when he worked here.
(A) lonely (B) friendly (C) lovely (D) manly
- You'll get two points for each _____ answer, and if your answer is wrong, you'll lose two points.
(A) error (B) false (C) correct (D) mistake
- We live in Kaohsiung. It is in the _____ of Taiwan.
(A) east (B) north (C) south (D) center
- The school offers many interesting _____ in art and design.
(A) leaders (B) courses (C) gates (D) playgrounds
- To be good at a(n) _____, you should speak it often. Also, don't be afraid to make mistakes.
(A) language (B) writer (C) sport (D) exam
- Kyle's bedroom looked clean and _____ after he spent an hour cleaning it.
(A) dirty (B) tidy (C) loudly (D) noisy
- It was _____ of me to believe Eric would give me a nice birthday present. He didn't even remember my birthday.
(A) stupid (B) smart (C) careful (D) helpful
- The man felt a little cold on the plane, so he asked for some hot water and a _____.
(A) bell (B) bowl (C) blanket (D) basket
- Kenny is happy that he got a good _____ on his history test. He prepared for it for days.
(A) lesson (B) idea (C) grade (D) quiz
- Look at the picture. The woman is putting _____ on the cake.
(A) candles (B) forks (C) plates (D) strawberries



二、文法測驗 (42.5%，每題 2.5 分)

- Stan doesn't have enough money for the cellphone, and _____ do I.
(A) so (B) neither (C) either (D) too
- Kyle walked to school when he studied in junior high school, and _____.
(A) neither did I (B) I was, too (C) so did I (D) I didn't, either
- Eric has been interested in science for many years, and _____ Kenny.
(A) so does (B) so has (C) neither is (D) neither has
- Eric has some experiences of taking a mud bath, and _____ Kenny.
(A) so does (B) so has (C) neither is (D) neither has
- Neither you nor Stan _____ to do the dishes and tidy the house every day.
(A) have (B) has (C) had (D) is having
- The music is really too loud. I can hear _____ the phone ring _____ my mother call me.
(A) neither; nor (B) either; or (C) both; and (D) not only; but also
- _____ Kyle _____ Eric have stopped exercising at the gym for months.
(A) Neither; nor (B) Both; and (C) Either; or (D) Not only; but also
- Both of my sisters are teachers. _____ of them teaches English. One is a science teacher and the other is a PE teacher.
(A) Neither (B) Both (C) One (D) Either

【背面尚有題目】

19. Eric: Lisa is the most beautiful teacher in this school.

Kenny: _____ She is not only pretty but kind to everyone.

- (A) I am not sure about that. (B) I don't think so.
(C) I don't agree with you. (D) I couldn't agree more.

20. The housework in Mr. and Mrs. Bond's family _____ between them and their kids. Everyone's got their own job to do.

- (A) shares (B) are shared (C) is shared (D) share

21. As soon as he _____ back the money to me next month, I'll get a nice new car for myself.

- (A) gives (B) will give (C) gave (D) is giving

22. Excuse me. I really need to go now. My kids _____ for me at school.

- (A) waited (B) wait (C) were waiting (D) are waiting

23. My sister is coming to my home today. She _____ with me for a week.

- (A) stayed (B) has stayed (C) stays (D) will stay

24. Stan did not feel the earthquake this morning. He _____ in the park at the time.

- (A) jogged (B) was jogging (C) has jogged (D) would jog

25. Lisa spent several days planning to invite Kyle to dinner, _____ she couldn't say a word when they met.

- (A) so (B) if (C) or (D) but

26. Eric does not like to spend time taking out the garbage. He always has his sister _____ it for him.

- (A) does (B) do (C) did (D) done

27. It was very windy this morning. Some of the shirts on the balcony were blown away _____ in the pond.

- (A) and fallen (B) fell (C) and fell (D) fallen

三、題組 (27.5% , 每題 2.5 分)

【28~29】

Some choices are as easy as deciding which clothes to wear. Some choices, on the other hand, are more difficult to make and need careful thought. For example, many people feel lost when they are choosing a school or a career. That is why it is important to learn how to make a good decision.



Here are the steps you can follow to make a good decision. First, write down all the options. Listing them is a way to help you get a clear idea of what options you have. Second, look for information about the options. Knowing the options well helps you make a better decision. Third, think about the possible risks of each option. Try to ask yourself what might happen when you take different options. Finally, make your decision and believe in yourself.

Making a good decision is never easy. Follow the steps above and be careful with every decision you make. Then you will be able to make a great one.

thought 考慮 step 步驟 option 選項 risk 風險 job offer 工作機會


28. Which is the best title for the reading?

- (A) Tips for Choosing a Career.
(B) Ways to Set Your Goals in Life.
(C) How to Make a Good Decision.
(D) What to Do When You Feel Lost.

29. Kenny is choosing between two job offers. Now he's doing some digging on the two companies before he makes his decision. Which step in the reading is Kenny following?

- (A) The first step. (B) The last step.
(C) The third step. (D) The second step

【下頁尚有題目】



With the rise of social media, FOMO is becoming more and more common. FOMO stands for "fear of missing out." It is a worry you might have that others are having more fun, living better lives, or experiencing better things than you are. For example, you feel sad when your friends are chatting excitedly about a new movie you haven't seen.

FOMO can create some problems. It may lead to Internet addiction. Because you don't want to miss out on things, you'll keep checking social media. What's more, FOMO can cause attention problems. When you check your phone every five minutes, it's hard to focus. FOMO can also cost you money. Because you want to do what everyone is doing, you follow the latest trend, like eating at an Internet-famous restaurant or buying a video game everyone is playing. In the end, you spend money on things you don't need.

How do you stop FOMO? One simple way is to just take a break from social media. Turn off your phone or computer. Also, change your focus. Stop thinking about what you don't own. Live in the moment and enjoy life.

FOMO happens to almost everyone. However, you have the power to stop it. Change a letter and go from FOMO to JOMO (joy of missing out).

FOMO 錯失恐懼症 social media 社群媒體 addiction 成癮

30. What is a trend?

- (A) Something that you have a problem with.
- (B) Something that is very expensive.
- (C) Something that you can't live without.
- (D) Something that is popular at the time.

31. According to the reading, which is **NOT** a case of experiencing FOMO?

- (A) Stan saw a movie but told nobody because he didn't like it.
- (B) Lisa is always checking all of her friends' posts on social media.
- (C) Kyle just got a new phone but already wants to get another that people are talking about.
- (D) Eric always says yes to people's invites because he doesn't want to miss the chance of having fun.

【32~34】

Dear students, your life in junior high school is coming to an end. You need to start thinking about your future. This might be scary, but don't worry! A career plan is a very useful tool that can help you reach your goals. Here are some simple ways to help you start planning for your future.

1. Know Yourself:

- ◇ Ask yourself: "How well do I know myself?"
- ◇ Find out your interests and skills.

2. Explore:

- ◇ If you're still not sure, you can explore different activities to find out what you are good at and what you are not good at.
- ◇ Think about how to make good use of your talents.
- ◇ Talk to someone, search for information online, or take some tests to find a career that might be good for you.

3. Make a Plan:

- ◇ Set a clear goal.
- ◇ Think about what you need to do to get the job you want.
- ◇ For example: What kind of school should you go to? What kind of courses should you take?

4. Take Action:

- ◇ You can try a part-time job or volunteer work to get experience.
- ◇ Just act on your plan.
- ◇ Along the way, always learn and correct your plan.

【背面尚有題目】

32. What is the main idea of this reading?

- (A) Junior high school life is scary.
- (B) A career plan can help you reach your goals.
- (C) Everyone should have a part-time job.
- (D) You should ask your parents for help.

33. From the reading, what is the first thing to do for a career plan?

- (A) Set a clear goal.
- (B) Know yourself.
- (C) Take some tests.
- (D) Do a part-time job.

34. Which of the following is true about a career plan?

- (A) Taking a part-time job will get you a job you want.
- (B) It is hard to get a job without a career plan.
- (C) You cannot change your career plan.
- (D) Doing volunteer work can give you some experience.

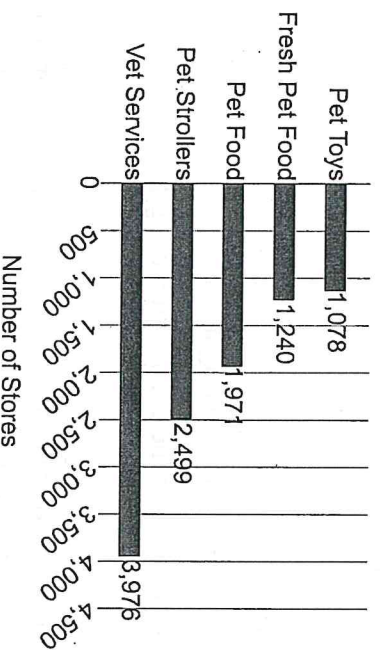
【35~36】

In Taiwan, the pet market is hot and growing fast. Today, Taiwanese families are taking in over 2.5 million puppies and cats a year.

For those people, pets are just like their family, and that's why these owners spend a lot of money on their pets. For example, they try to give their pets everything: vet services, beds, toys, and even going to pet schools. The chart below tells us more about pet-related businesses in Taiwan from 2017 to 2018.

Just like taking care of children, pet owners spend a lot of money on their pets' health. Pet strollers, pet food, and fresh pet food are nothing new on the market. Because the pet market in Taiwan is still getting bigger, more and more people are joining the business to make money and help take care of people's special family.

2017-2018 Pet-Related Businesses in Taiwan



vet 獸醫 chart 圖表
 related 有關的 stroller 嬰兒車

35. What is the reading mainly about?

- (A) Pet training lessons are popular.
- (B) It's important to find out what's new for pet owners.
- (C) People in Taiwan make lots of money from their own pets.
- (D) Pets become important in many people's family now.

36. What does taking in mean in the reading?

- (A) Taking a look at someone or something.
- (B) Knowing something important.
- (C) Giving a living place to someone.
- (D) Making someone enjoy something.

【下頁尚有題目】

After a lot of tests and interviews, you finally got into a good school or got a good job. But there's a problem: it's a long way from home. "Well, I can take the bus or drive," you might think. But before you decide whether it's OK to have such a long commute, it's best to know (37) .

Having a long commute means you'll get fewer hours of sleep, and that'll make you feel tired easily. You'll also have less time for friends and family, for exercise, or for a nice meal.

A long commute not only eats up your time but also hurts your health.

Studies show that people who have a long commute get fat easily and often have neck or back problems. It's easier for them to have heart problems too. (38) .

Studies find that these people get angry more often, feel less happy with their lives, and do less well at work.

Now, does that good school or that good job still sound good to you?



 commute 通勤

37.

- (A) what is the best way of commute for you
- (B) what else you can do
- (C) how you can enjoy it more
- (D) how it will change your life

38.

- (A) And here's an example
- (B) And that's why
- (C) But that's not all
- (D) But that can be stopped

【英語閱讀試題到此頁全部結束】

高雄市立鼓山高中 114 學年度第二學期第一次段考《國三》英語科聽力試題卷

範圍：翰林版英語第六冊 U1~U2 課本&習作

三年__班__號 姓名__

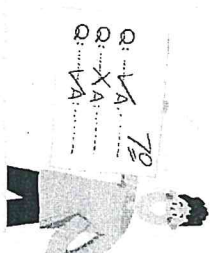

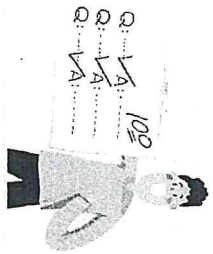
★考生將答案劃在答案卡上★

英聽代碼：22



英語聽力成績佔段考英語總成績 20%

一、辨識句意：根據聽到的內容，選出符合描述的圖片或符合圖片的描述。(每題 4 分)


1. (A) (B) (C)



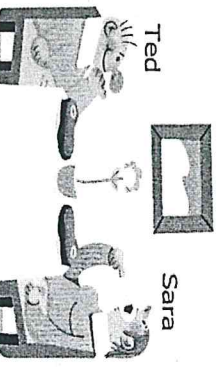
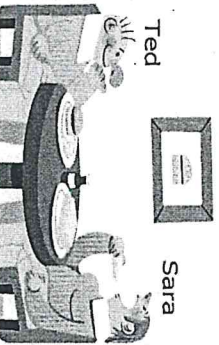
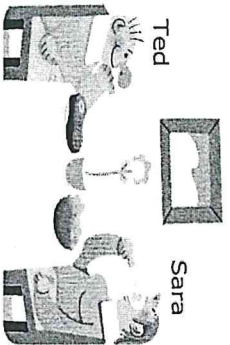
2. (A) (B) (C)





3. (A) (B) (C)



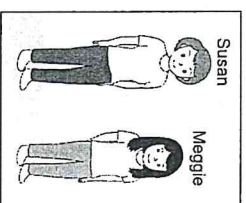
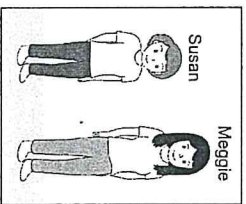

4. (A) (B) (C)




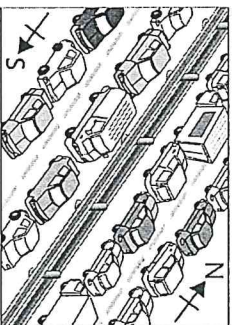
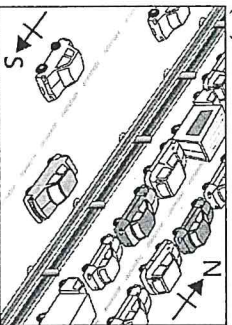
5. (A) (B) (C)



6. (A) (B) (C)



7. (A) (B) (C)



【背面尚有題目】

二、基本問答：根據聽到的內容，選出一個最適合的回應或最適合的問句。(每題 4 分)

8. (A) Sure. Let's keep in touch.
(B) Okay, it's a deal.
(C) No, thanks. I can do it myself.
9. (A) Sorry. I can't give you my number.
(B) Of course. The seat is taken.
(C) Sure. It's 27B.
10. (A) I think we can have a great future.
(B) Well, making a career plan is useful for you.
(C) Looking for a job is not easy now.
11. (A) I go to the steak house with my friends very often.
(B) Let's clean it together after dinner.
(C) Almost every day. I can't stand any dust or trash in my house.
12. (A) You can go see a doctor for help.
(B) You must spend more time studying.
(C) You are getting stupid.
13. (A) Nobody's home now.
(B) Sounds like a plan.
(C) You never know.
14. (A) I'll have the same.
(B) I hope it's good.
(C) I'm serious.
15. (A) Hurry up.
(B) Maybe not.
(C) I agree with you.
16. (A) Well, it's good to know.
(B) Well, he won't listen to me.
(C) Well, I don't remember.

【下一頁尚有題目】

三、言談理解：根據聽到的內容，選出一個最適合的答案。(每題 4 分)

17. (A) The man lost his watch at the gym.
(B) The man took a watch that belonged to someone else.
(C) The man spent too much money on the watch.
18. (A) Clean up the living room.
(B) Take care of Vicky's kids.
(C) Give Vicky's kids some books and toys.
19. (A) They are playing badminton together.
(B) They are watching a ball game.
(C) They are playing computer games together.
20. (A) Cookies, milk, ice cream, and tomatoes.
(B) Cookies, milk, and tomatoes.
(C) Cookies, milk, tomatoes, and sandwiches.
21. (A) In front of the theater.
(B) At a pet shop.
(C) On West Street.
22. (A) The store will close soon.
(B) There is a sale on shoes.
(C) Someone is looking for their child.
23. (A) She'll study for a test.
(B) She'll see a movie.
(C) She'll take a rest.
24. (A) She doesn't really like it.
(B) She is excited about it.
(C) She knows nothing about it.
25. (A) Noodle soup.
(B) Pizza.
(C) Steak.

【英語聽力試題到此頁全部結束】

高雄市立鼓山高中 114 學年度第二學期第一次段考〈國三〉數學科試題卷

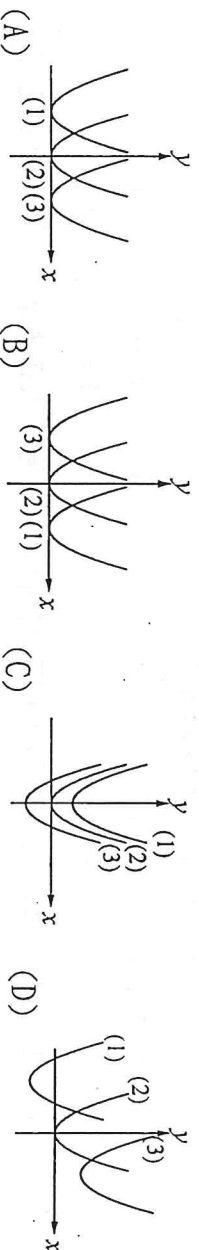
考試範圍：第六冊 1-1~2-1

答案請寫在答案卷上

班 _____ 號 _____ 姓名 _____

一、選擇題：每題4分，共84分

() 1. 已知三條拋物線：(1) $y=(x-2)^2$ (2) $y=x^2$ (3) $y=(x+2)^2$ ，其圖形下列何者正確？



() 2. 下列二次函數的圖形中何者開口最大？

(A) $y=x^2$ (B) $y=\frac{2026}{115}x^2$ (C) $y=\frac{1}{2}x^2$ (D) $y=\frac{1}{2026}x^2$

() 3. 將二次函數 $y=2(x+3)^2+3$ 的圖形向上平移6單位，再向右平移5單位，則會得到下列哪一個二次函數的圖形？

(A) $y=2(x-2)^2+9$ (B) $y=-2(x-2)^2+9$
(C) $y=2(x+9)^2+8$ (D) $y=2(x+8)^2+9$

() 4. 下列關於二次函數圖形的敘述何者正確？

(A) $y=x^2+8$ 圖形有最高點，坐標為(0, 8) (B) $y=-5x^2-3$ 圖形有最低點，坐標為(0, -3)
(C) $y=4x^2+2$ 是對稱於y軸的線對稱圖形 (D) $y=-4x^2$ 的圖形是對稱於x軸的線對稱圖形

() 5. 下列哪一個二次函數的圖形完全在x軸上方？

(A) $y=3(x-2)^2-8$ (B) $y=3(x-2)^2+8$
(C) $y=-3(x-2)^2-8$ (D) $y=-3(x-2)^2+8$

() 6. 坐標平面上有二次函數 $y=-(x-2)^2+1$ 的圖形，今將此圖形向左平移10單位，平移過程中此圖形與y軸的交點也會跟著變化。假設此圖形與y軸的交點為P，判斷在平移過程中，P點位置的變化情形為下列何者？

(A) 持續向下 (B) 持續向上 (C) 先向上再向下 (D) 先向下再向上

() 7. 將二次函數 $y=x^2+5$ 的圖形描繪在坐標平面上，再沿著直線 $y+2=0$ 向下摺疊，並將摺疊後的圖形描繪一次，則所得到的痕迹是下列哪一個二次函數的圖形？

(A) $y=(x-2)^2+5$ (B) $y=x^2-3$ (C) $y=-x^2-9$ (D) $y=-x^2+5$

() 8. 甲、乙兩個二次函數分別為 $y=(x-20)^2+60$ 、 $y=-(x+30)^2+60$ ，判斷下列敘述何者正確？

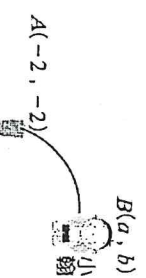
(A) 甲有最大值，且其值為 $x=20$ 時的y值 (B) 甲有最小值，且其值為 $x=20$ 時的y值
(C) 乙有最大值，且其值為 $x=30$ 時的y值 (D) 乙有最小值，且其值為 $x=30$ 時的y值

() 9. 已知二次函數 $y=a(x+b)^2+c$ 的圖形頂點為(3, 1)，且交y軸於(0, 10)，則 $a+b+c=?$

(A) -1 (B) 0 (C) 1 (D) 5

() 10. 如圖，小翰丟垃圾的路徑是一個二次函數 $y=-\frac{1}{3}(x-1)^2+c$ 的圖形。

已知小翰是在此二次函數圖形的頂點（即B點）將垃圾丟出，且在A(-2, -2)落入筒內。若B點坐標為(a, b)，則b之值為何？



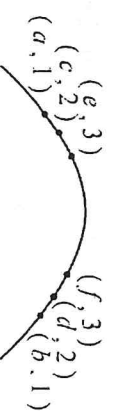
(A) $-\frac{7}{3}$ (B) $-\frac{5}{3}$ (C) $\frac{7}{3}$ (D) 1

- () 11. 農夫想用長80公尺的籬笆圍成一矩形的菜圃，若設矩形的長為 x 公尺，矩形的面積為 y 平方公尺，則依題意可列出下列哪一個二次函數？

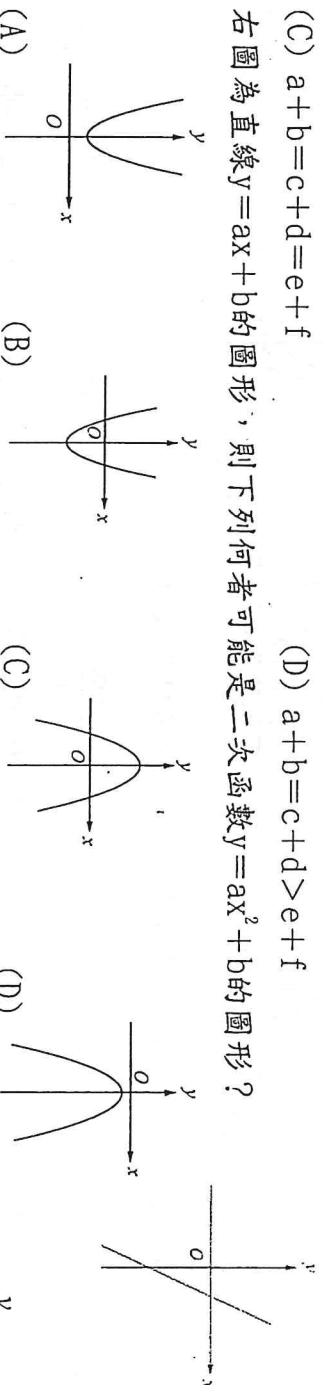
- (A) $y=x(40-x)$ (B) $y=x(40-2x)$
 (C) $y=x(80-x)$ (D) $y=(80+x)(80-x)$

- () 12. 右圖為班上校歌比賽時第一排同學排列的坐標，若這些同學皆在二次函數的圖形上，則下列何者正確？

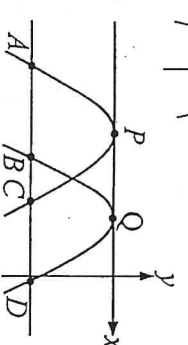
- (A) $a+b>c+d>e+f$ (B) $e+f>c+d>a+b$
 (C) $a+b=c+d=e+f$ (D) $a+b=c+d>e+f$



- () 13. 右圖為直線 $y=ax+b$ 的圖形，則下列何者可能是二次函數 $y=ax^2+b$ 的圖形？

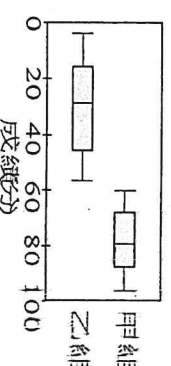


- () 14. 坐標平面上有兩個二次函數的圖形，其頂點 P 、 Q 皆在 x 軸上，且有一水平線與兩圖形相交於 A 、 B 、 C 、 D 四點，各點位置如圖所示。若 $\overline{AB}=12$ ， $\overline{BC}=6$ ， $\overline{CD}=10$ ，則 \overline{PQ} 的長度為何？



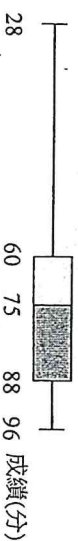
- (A) 11 (B) 11.5 (C) 14 (D) 14.5

- () 15. 右圖為某班甲、乙兩組模擬考成績的盒狀圖。若甲、乙兩組模擬考成績的四分位距分別為 a 、 b ；甲、乙兩組中位數分別為 c 、 d ，則 a 、 b 、 c 、 d 的大小關係，下列何者正確？



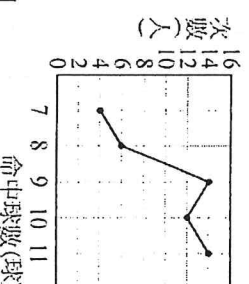
- (A) $a>b, c<d$ (B) $a>b, c>d$ (C) $a<b, c<d$ (D) $a<b, c>d$

- () 16. 如圖，三年甲班第一次段考數學成績的盒狀圖，關於該班成績敘述哪一個是錯誤的？



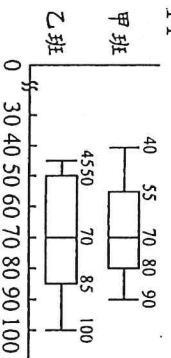
- (A) 成績的中位數是75分
 (B) 約有50%的人成績不及格
 (C) 班上一定有人人的成績是28分
 (D) 60~88分的人數比28~60分人數還要多

- () 17. 如右圖，籃球社有50人，每人投籃20次命中球數的次數分配折線圖，則命中球數的 Q_3 為多少球？



- (A) 8 (B) 9 (C) 10 (D) 11

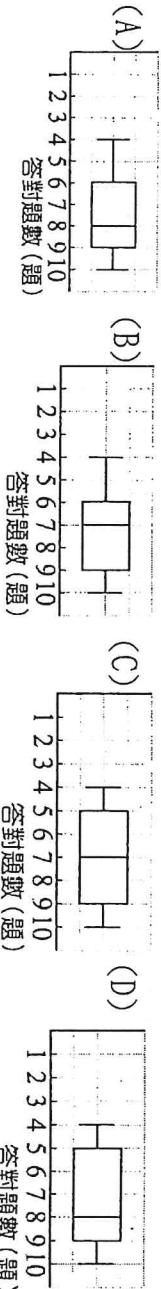
- () 18. 右圖為甲、乙兩班數學小考成績的盒狀圖，已知兩班的人數相同，且甲班的小翊和乙班的小妍都考82分，則兩人在班上的排名哪一個人較好？



- (A) 小翊 (B) 小妍 (C) 一樣 (D) 無法比較

- () 19. 某次數學小考總共10題，班上30位學生答對題數統計表如表所示，則下列何者是正確的盒狀圖？

答對題數	4	5	6	7	8	9	10
答對人數	2	3	4	5	6	7	3



- () 20. 有7個正整數，其平均數為7，中位數為7，眾數為11，且其中三數為2、5、9，則此7個數的全距為多少？

- (A) 6 (B) 7 (C) 8 (D) 9

- () 21. 一組資料有57個數，且形成等差數列，若第1四分位數為-12，第3四分位數為4，則此組資料的總和=？

- (A) -228 (B) -220 (C) -200 (D) -120

高雄市立鼓山高中 114 學年度第二學期第一次段考〈國三〉數學科答案卷

考試範圍：第六冊 1-1~2-1

答案請寫在答案卷上

班 _____ 號 姓名 _____

一、 選擇題：每題4分，共84分

1	2	3	4	5	6	7	8	9	10
11	12	13	14	15	16	17	18	19	20
21									

二、 計算題：共16分(需寫出計算過程)

1. 已知二次函數 $y=a(x-h)^2+k$ 的圖形可由二次函數 $y=2x^2$ 平移後得到，其對稱軸為直線 $x+3=0$ ，且圖形通過點 $(-4, -6)$ ，則：

(1) $a+h=?$ (4分)

(2) 此二次函數圖形的頂點為何? (4分)

2. 有30張分別標示1~30號的紙牌。先將號碼數為5的倍數的紙牌拿掉，然後從剩下的紙牌中，拿掉號碼數為2的倍數的紙牌。若將最後剩下的紙牌，依號碼數由小到大排列，則：

(1) 此數列的中位數=? (4分)

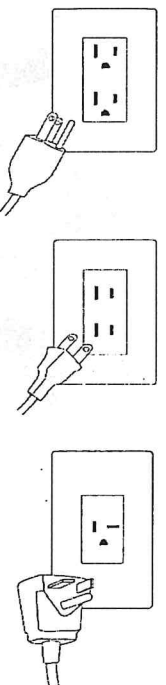
(2) 此數列的四分位距=? (4分)

高雄市立鼓山高中 114 學年度第二學期第一次段考《國三》自然科試題卷

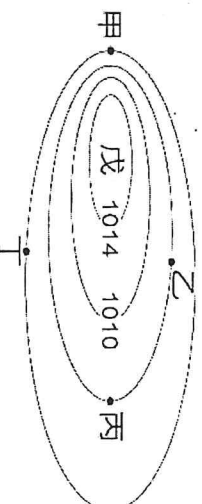
考試範圍：第六冊 1、3 章 電腦讀卡代碼：12 _____ 年 _____ 班 _____ 號 姓名 _____

一、基本題(每題 2 分，共 40 分)

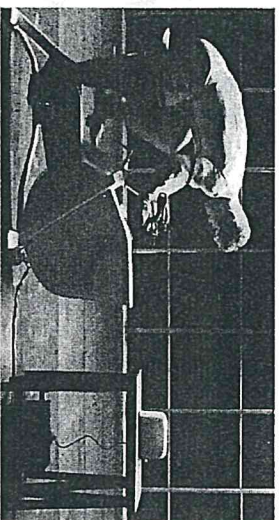
1. () 下列何者是 220 伏特的電源插座？(A) (B) (C) (D) 以上皆非。



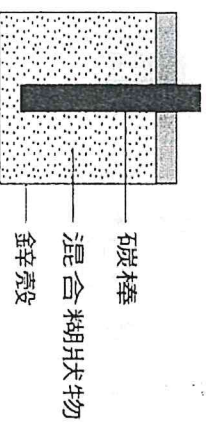
2. () 電力公司用來計算用戶電能消耗的單位為何？(A)度 (B)瓦 (C)歐姆 (D)安培
 3. () 大氣層沒有明顯的邊界，但 99% 的大氣都集中在離地表多少公里以內的範圍？(A)10 (B)30 (C)50 (D)85 公里。
 4. () 附圖為某處天氣圖上的等壓線圖，則丙處的氣壓值為多少百帕 (A)1006(B)1010(C)1014(D)1018。



5. () 瑞典學生拍攝影片表達節能的重要性，影片中請來奧運自行車選手踩單車發電烤吐司，最終選手踩到精疲力竭，才烤好一片吐司，如附圖，過程中發電的平均電功率約 700 W，總共產生的電能約 0.021 kWh。若以一度電 3 元計算，上述過程產生的電能，其對應的電費應如何計算？
 (A) $\frac{700}{1000} \times 3$ 元 (B) 0.021×3 元 (C) $\frac{0.021 \times 700}{1000} \times 3$ 元 (D) $\frac{0.021 \times 1000}{700} \times 3$ 元。

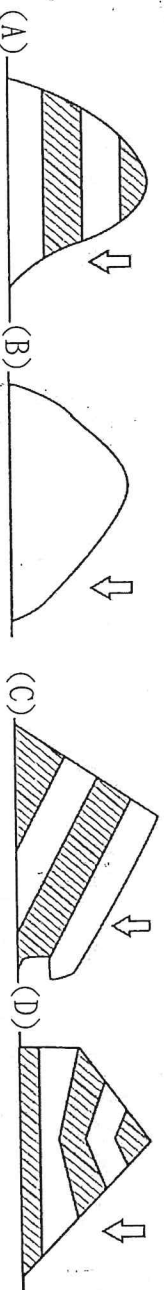


6. () 阿東在寬廣的空地上放風箏，此時吹東北風，他應朝哪一個方向跑，較容易使風箏飛起？
 (A) 東北 (B) 西南 (C) 東南 (D) 西北。
 7. () 下列有關電流化學效應的敘述，何者錯誤？(A) 電鍍時，通常將被鍍物連接在正極 (B) 工業上精製銅時，把粗銅連接在電解槽正極 (C) 電解是利用電能引起化學反應 (D) 乾電池是利用化學反應產生電能。
 8. () 甲. 暖鋒；乙. 冷鋒；丙. 滯留鋒。請問主要影響臺灣天氣的鋒面為何？(A) 甲、乙 (B) 乙、丙 (C) 甲、丙 (D) 甲、乙、丙。
 9. () 乾電池是市面上最為常見之電池，附圖為其簡單之剖面構造。下列關於乾電池的敘述何者正確？
 (A) 鋅殼為負極 (B) 乾電池可以充電 (C) 混合糊狀物的主要成分為氫氧化鉀 (D) 乾電池使用一段時間後，電壓仍維持穩定不變。

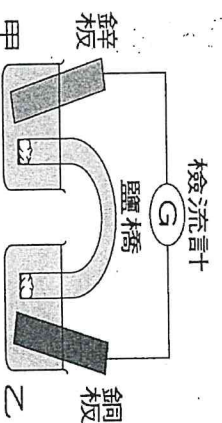


10. () 氣象報導時常見「百帕」一詞，下列有關百帕的敘述何者正確？(A) 百帕是氣壓的單位 (B) 百帕是溫度的單位 (C) 百帕是風速的單位 (D) 百帕是下雨的機會。
 11. () 有關電解水的實驗，下列敘述何者正確？(A) 使用碳棒或針頭作為電極，所得到的產物相同 (B) 使用直流或交流電源，皆可得到完全相同的結果 (C) 兩電極不論距離是遠或近，都不會影響電解速率 (D) 加入任何電解質皆可幫助導電，在兩極產生水的組成元素。

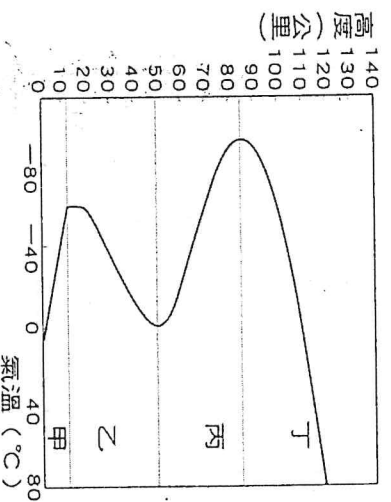
12. () 連續降雨後，下列哪一張示意圖中箭頭所指的坡面，最容易發生山崩？



13. () 附圖為鋅銅電池的實驗裝置，甲、乙兩燒杯之溶液的顏色變化為何？(A) 甲：不變，乙：變淡
(B) 甲：變淡，乙：不變 (C) 甲：變深，乙：不變 (D) 甲：變深，乙：變淡。



14. () 如附圖所示，大氣層中的最低溫出現於哪一層頂？(A) 甲：對流層 (B) 乙：增溫層 (C) 丙：中氣層
(D) 丁：中氣層。



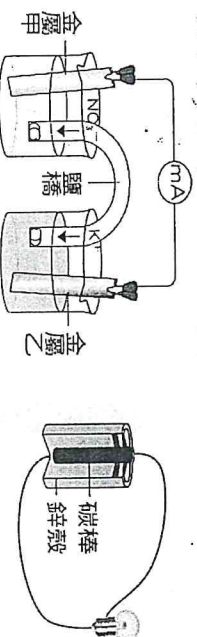
15. () 下列電池中何者常以氫氧化鉀為電解液？(A) 破鋅電池 (B) 鉛蓄電池 (C) 鹼性電池 (D) 鋰離子電池。
16. () 小意使用一鎢絲燈泡，其規格為電壓 110 V，功率 120 W，他將此燈泡先後連接 110 V 與 50 V 電源，當燈泡連接的電壓由 110 V 降至 50 V 時，下列敘述何者正確？(A) 燈泡的電阻減少 (B) 燈泡的電阻增加 (C) 燈泡消耗的電功率降低 (D) 通過燈泡的電流增加。

17. () 電解水的實驗，若實驗結束時，甲試管收集到氫氣 30 毫升，則乙試管會收集到多少毫升的氧氣？(A) 10 (B) 15 (C) 30 (D) 60。

18. () 納豆原訂下週要搭乘飛機前往菲律賓，但氣象署表示附近海域形成的颱風正在「持續發展增強」，請分析在下列哪一個條件下，將使颱風的威力逐漸增強？(A) 颱風登陸地勢崎嶇的島上 (B) 颱風進入廣大的陸地上 (C) 颱風進入寒冷地區 (D) 颱風徘徊在溫暖的海洋上。

19. () 近年來土石流成為常發生的災害之一，其實只要平時多加防範即可減低損害程度。但下列哪一種方式並不理想？(A) 盡量保育或復育林木 (B) 興建良好的排水系統 (C) 大量抽取山坡地下水 (D) 豪大雨來臨前盡早撤離土石流警戒區。

20. () 下圖為鋅銅電池放電時的裝置圖，已知放電過程中，金屬乙的重量增加。右圖為乾電池的結構示意圖。當此鋅銅電池與乾電池放電時，電流分別會經由外部導線流向電池的何處？(A) 金屬甲、碳棒 (B) 金屬甲、鋅殼 (C) 金屬乙、碳棒 (D) 金屬乙、鋅殼。



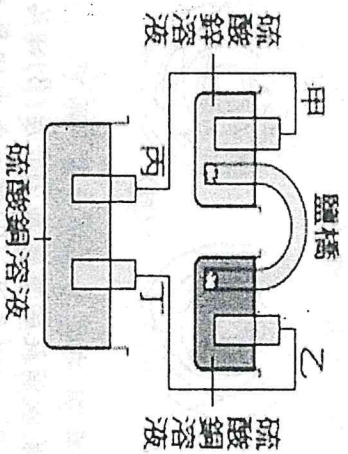
二、進階題(每題 3 分，共 48 分)

21. () 關於家庭用電的敘述，下列何者錯誤？(A) 電源屬於交流電 (B) 三孔插座必為提供 220 伏特的電源 (C) 延長線上的插座皆為並聯 (D) 保險絲必須裝置在總電流通過的地方，才能發揮預期的功效。

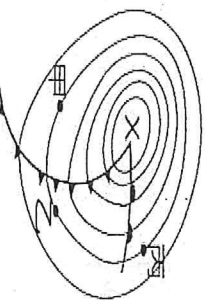
22. () 當鋅銅電池發生反應時，電子的流向為何？(A) 負極經導線流向正極 (B) 正極經導線流向負極 (C) 正極經鹽橋流向負極 (D) 負極經鹽橋流向正極。

23. () 由於臺灣特殊的氣候型態與地形，導致往往一天的連續降雨便會造成洪災。請問下列何者並非造成此現象的原因？(A) 集中的雨量 (B) 河流短急 (C) 地形較陡峭 (D) 常常發生地震。

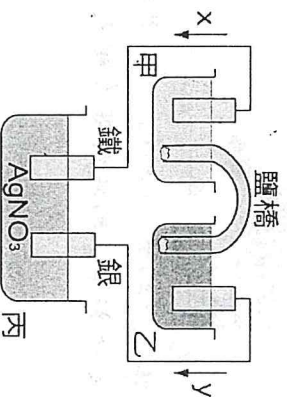
24. () 于緯做電解實驗，他以鋅銅電池電解硫酸銅溶液，如附圖所示，若甲、乙分別為鋅板、銅板，而丙、丁為銅片，則下列敘述何者錯誤？(A)四極中質量會增加的有乙、丙兩極 (B)兩杯硫酸銅溶液的顏色皆會漸淡 (C)四極中會吸引正離子靠近的有乙、丙兩極 (D)四極中當作正極的有乙、丁兩極。



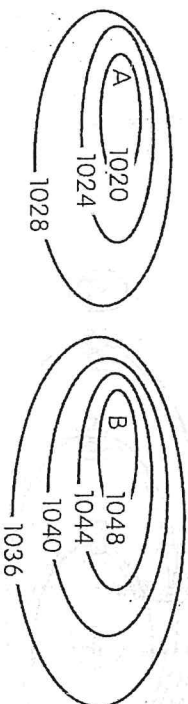
25. () 下圖是亞洲地區常見天氣圖中的鋒面系統示意圖。依據圖中所示，下列敘述何者正確？(A)X是低氣壓中心，中心處氣流下降會形成晴朗好天氣 (B)X是高氣壓中心，中心處氣流上升易形成陰雨的天氣 (C)甲、乙、丙三處的氣壓值均相等 (D)甲、丙處比乙處較不可能降雨。



26. () 關於鋒面的敘述，下列何者正確？(A)若冷空氣向暖空氣推移，所形成的鋒面稱為暖鋒 (B)若暖空氣向冷空氣推移，將使冷空氣沿鋒面爬升 (C)若冷空氣將暖空氣推移且抬升，在鋒面附近常有降雨 (D)若冷、暖空氣勢力相當，鋒面附近將是晴朗的好天氣。
27. () 小智負責班上規畫校慶園遊會攤位的用電，他注意到延長線規格標示為 110 V、25 A、2500 W，則下列哪些電器共用此插座時會造成危險？甲. 110 V、800 W 的電鍋；乙. 110 V、1000 W 的吹風機；丙. 110 V、2000 W 的電火鍋；丁. 110 V、1200 W 的微波爐 (A)甲乙 (B)乙丙 (C)甲丁 (D)乙丁
28. () 請問下列何處比較不可能成為氣團的發源地？(A)蒙古 (B)太平洋 (C)南極大陸 (D)臺灣海峽。
29. () 下列關於大氣層的敘述，何者正確？(A)大氣主要是由氧氣和氮氣所組成 (B)高山上容易覺得耳朵不舒服是因為氣壓的關係 (C)大氣的壓力和溫度都是隨高度升高而降低 (D)大氣中的臭氧、二氧化碳等氣體因為所占比例很低，因此並不具重要性。
30. () 康康想利用鋅銅電池當電源在鐵上鍍銀，裝置如附圖所示，以 AgNO_3 為電鍍液，則下列敘述何者錯誤？(A)電子的流動方向為 γ (B)甲杯的水溶液為 ZnSO_4 ，乙杯的水溶液為 CuSO_4 (C)甲金屬片與銀金屬片質量逐漸減少 (D)金屬離子濃度的變化情形，甲杯逐漸增加，乙杯逐漸減少，丙杯維持不變。



31. () 附圖是在北半球高、低氣壓分布情形，試問 A、B 間空氣流動情形的俯視圖應接近下列何者？

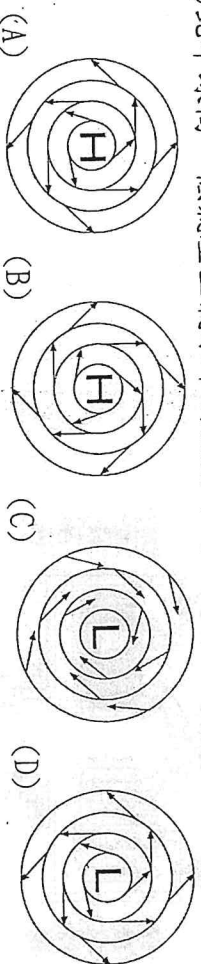


32. () 下列有關交流電的敘述，何者為非？(A)簡記為 AC (B)電流大小和方向會隨時間做規律的週期性變化 (C)乾電池為交流電的一種 (D)若電力公司所提供的交流電頻率為 60 赫，表示以每秒 60 次的頻率變化電流。

33. () 已知向上為北方，則冬季時，臺灣地區盛行何種風向的季風？(A)↘ (B)↙ (C)↗ (D)↖。

34. ()下列關於鉛蓄電池的敘述，何者錯誤？(A)使用硫酸溶液作為電解質溶液(B)正極為二氧化鉛，負極為鉛(C)若欲充電時，外電源的正極需與鉛蓄電池的正極相連接(D)充電過程中，兩電極皆逐漸變成硫酸鉛。

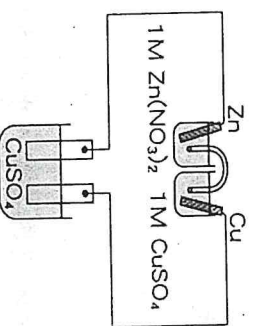
35. ()北半球高、低氣壓空氣水平的流動方向，何者正確？



36. ()純純家有一部 1500 W 的冷氣機，使用 30 天後共需繳電費 500 元，如果每度電費為 2.5 元，則下列敘述何者錯誤？(A)30 天內，冷氣機消耗的電能為 200 度(B)該冷氣使用 2 小時須耗電費 7 元(C)冷氣機每天平均所消耗的電能為 2.4×10^7 焦耳(D)該冷氣平均每天約使用 4.4 小時。

三、題組(每題 2 分，共 12 分)

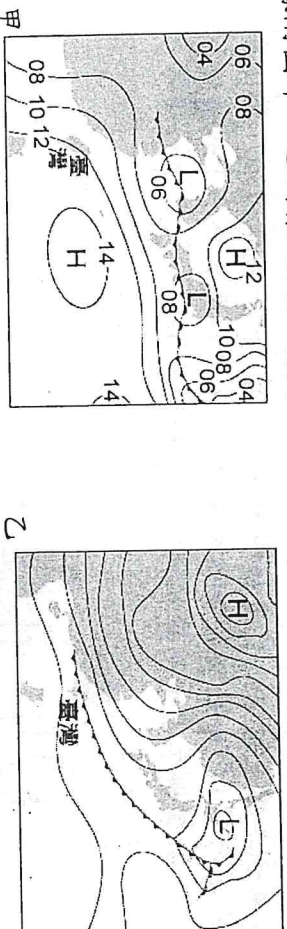
1. 以鋅銅電池為直流電源電解硫酸銅水溶液，裝置如附圖，請回答下列問題：



37. ()有關鋅銅電池的敘述，下列何者正確？(A)電子由銅板流向導線(B)銅板的質量將逐漸增加(C)放電一段時間後，硝酸鋅溶液中鋅離子濃度減少(D)放電過程中，硫酸銅溶液中銅離子濃度不變。

38. ()有關電解硫酸銅溶液的敘述，下列何者正確？(A)連接電池鋅板的電極，會逐漸溶解(B)連接電池銅板的電極，質量增加(C)如以兩石墨棒為電極，則正極產生氣泡(D)如以兩銅片為電極，電解一段時間後，硫酸銅溶液濃度變小。

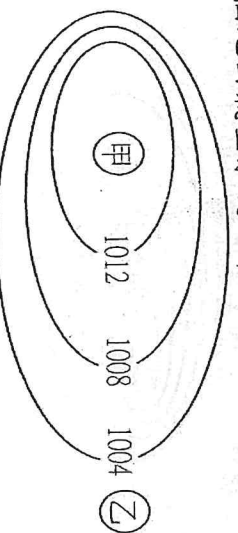
2. 請根據附圖甲、乙兩張地面天氣圖回答下列問題：



39. ()冷鋒影響臺灣時的天氣圖應是哪一張？(A)甲 (B)乙 (C)甲乙 (D)以上皆非。

40. ()若甲圖表示臺灣主要受太平洋高壓系統影響，則此時最可能為哪一季節？(A)春 (B)夏 (C)秋 (D)冬。

3. 附圖是北半球的一個地面氣壓系統，甲、乙是兩個地面氣象觀測站，請依此圖示回答下列問題：



41. ()關於此氣壓系統的敘述，下列何者正確？(A)屬於低氣壓系統 (B)屬於高氣壓系統 (C)其等壓線間距為 4 Pa (D)系統內空氣以逆時鐘方向水平流動。

42. ()此氣壓系統範圍內的天氣狀況最有可能為何？(A)細雨綿綿 (B)狂風暴雨 (C)晴朗乾燥 (D)陰冷潮溼。

高雄市立鼓山高中(國中部)114 學年度第二學期第一次段考《國三》歷史科試題卷

考試範圍:L1~L2

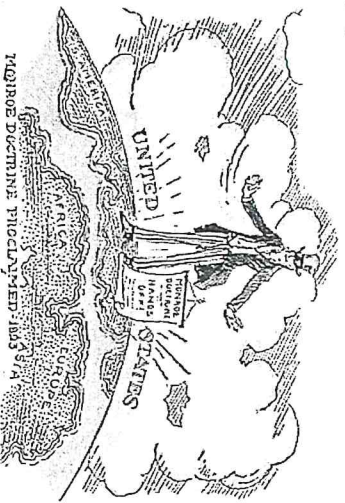
電腦讀卡代碼：04

三年____班____號 姓名_____

一、選擇：(每個答案 4 分，共 100 分)

- () 在《獨立宣言》發表後的一百年，法國贈送自由女神像為禮物來慶祝美國獨立。以此研判，自由女神像最有可能在何時送抵美國？
(A) 西元 1876 年
(B) 西元 1889 年
(C) 西元 1912 年
(D) 西元 1961 年
- () 現今的義大利共和黨起源於十九世紀的義大利統一運動。西元 1831 年，有位義大利人成立青年義大利黨，主張取回奧國占領地，建立統一的國家，此人應是誰？
(A) 馬志尼
(B) 加富爾
(C) 加里波底
(D) 俾斯麥
- () 大航海時代後，歐洲各國紛紛向亞洲、美洲與非洲發起殖民活動，對亞、美、非三洲造成巨大衝擊。請問：關於十六至十八世紀的殖民活動，下列敘述何者正確？
(A) 當時的臺灣被荷蘭與西班牙殖民
(B) 美國在此時開啟對外殖民活動
(C) 中國在此時慘遭歐洲列強瓜分
(D) 日本此時遭受美國以武力逼迫而開港
- () 第一次世界大戰的戰爭規模之大，牽涉之廣為前所未見。成年男性幾乎都遠赴前線，使得後勤生產停擺，若非靠著另一群原本不被重視的人彌補流失的勞動力，戰爭或許不能持續這麼久。請問：「原本不被重視的人」在戰後應該有什麼改變？
(A) 遭打壓剝奪基本人權
(B) 入伍成為往後的軍隊
(C) 在政治領域保持緘默
(D) 地位改善獲得選舉權
- () 維也納會議的決議不包括下列哪一項？
(A) 恢復各國王室統治權
(B) 強調民族自決的原則
(C) 維持歐洲各國勢力均衡
(D) 謀求歐洲的安定與和平
- () 十九世紀帝國主義國家開始掠奪勞力、原料、市場，亞洲與非洲國家漸次淪為殖民地與半殖民地，但是某國卻因為變法成功，加入帝國主義的陣營，侵略鄰近的亞洲國家。請問：此國控制區域為何？
(A) 朝鮮
(B) 菲律賓
(C) 越南
(D) 泰國
- () 第一次世界大戰後，哪一個國家積極促成國際聯盟的成立，但後來卻未加入國聯？
(A) 日本
(B) 德國
(C) 美國
(D) 英國
- () 十九世紀初期，有位革命家趁拿破崙占領伊比利半島的時機，反抗歐洲國家的殖民統治，在拉丁美洲各地領導獨立戰爭，被譽為拉丁美洲的解放者。請問：上述的革命家最有可能是何人？
(A) 拿破崙
(B) 玻利瓦
(C) 俾斯麥
(D) 加富爾
- () 十九世紀以來，巴爾幹地區種族與宗教的問題層出不窮，這與哪一個帝國長期統治該地有關？
(A) 拜占庭帝國
(B) 俄羅斯帝國
(C) 阿拉伯帝國
(D) 鄂圖曼帝國

10. () 附圖是一幅歷史漫畫，呈現美國排拒歐洲勢力進入美洲大陸。請問：發表「美洲是美洲人的美洲」宣言的美國總統是何人
- (A) 門羅
 - (B) 華盛頓
 - (C) 俾斯麥
 - (D) 加富爾

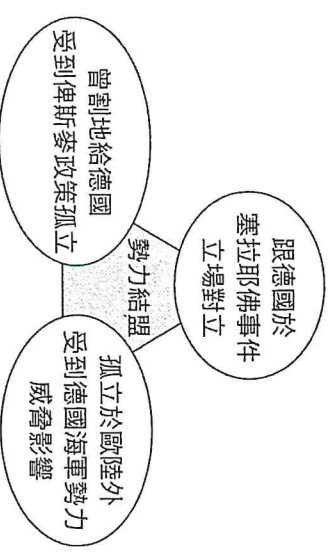


11. () 附圖為聳立在美國紐約曼哈頓的自由女神像，她是法國贈送給美國獨立建國一百周年的禮物。請問：自由女神左手抱的書板最可能與下列何者有關？
- (A) 《聖經》
 - (B) 《美國憲法》
 - (C) 《人權宣言》
 - (D) 《獨立宣言》



12. () 英國政府的態度在此事件後有所轉變，從一開始的極力安撫，變為強力鎮壓，使得北美十三州殖民地與英國政府的關係急轉直下。請問：上述的「此事件」應為下列何者？
- (A) 波士頓茶葉事件
 - (B) 殖民地政府向歐洲各國購買北美洲土地
 - (C) 殖民地代表起草《獨立宣言》
 - (D) 殖民地政府制定憲法
13. () 國際關係學者指出：「一個地區若由當地強大並具主要優勢的國家，與其他國家進行統合，特別容易達成統一」的目的，歷史上德意志地區便是最佳案例。」請問：上述○○所指的應該為何？
- (A) 藝術
 - (B) 經濟
 - (C) 血統
 - (D) 文字
14. () 他在法國大革命後取得政權，曾頒布〈懲治嫌疑犯條例〉，採取恐怖統治，以公安委員會為其機構，剷除異己，數萬人被暗殺或處死。請問：他應是下列何人？
- (A) 梅特涅
 - (B) 路易十六
 - (C) 拿破崙
 - (D) 羅伯斯比
15. () 越南在十九世紀晚期，受到「外來文化」的影響，發展出數道融合東西特色的美食，時至今日也成為越南當地的名產。請問：上述的「外來文化」最有可能是指下列何者？
- (A) 受到英國宗教的影響
 - (B) 加入德國的飲食元素
 - (C) 融合法國的特色麵包
 - (D) 承襲中國的刈包美食
16. () 西元1914年，奧匈帝國皇儲斐迪南夫婦被巴爾幹半島某國的民族主義者暗殺身亡，此事件成為引發第一次世界大戰的導火線。請問：此起暗殺事件與巴爾幹半島哪一個國家有關？
- (A) 塞爾維亞
 - (B) 希臘
 - (C) 保加利亞
 - (D) 羅馬尼亞

17. () 在談論民主發展時，美國獨立是經常被提及的重大事件。十七世紀，北美洲東岸原是英人的重要移民地，為何後來此地的歐洲移民要起而反抗英國？
 (A) 英國強制徵召移民作戰
 (B) 英國強制徵召移民返英
 (C) 英國強制對移民開徵新稅
 (D) 英國強制規定移民的作物耕種
18. () 某位歷史人物征服歐洲時激發了各地的民族意識，促成十九世紀時世界各地出現民族獨立與建國運動的風潮。請問：這是哪一位歷史人物？
 (A) 俾斯麥
 (B) 門羅
 (C) 拿破崙
 (D) 加里波底
19. () 十九世紀某國領袖自豪的說：「我的真正光榮不在於我打了五十幾次勝仗，但不會被遺忘的，將萬古長存的，乃是我的《民法典》。」《民法典》保護私有財產、貿易自由，影響此後歐、亞各國的法律體系甚巨。請問：此部法律又稱為什麼？
 (A) 《拿破崙法典》
 (B) 《漢摩拉比法典》
 (C) 《九十五條論綱》
 (D) 「十二表法」
20. () 這位法國將領曾數度擊敗反法軍隊，成為人民心中的革命英雄。藉著廣大的民意，他改共和為帝國，並以軍事力量征服歐洲大半地區，最後在滑鐵盧戰敗，慘遭流放後抑鬱而終。請問：上述的法國領袖為何人？
 (A) 羅伯斯比
 (B) 梅特涅
 (C) 路易十六
 (D) 拿破崙
21. () 第一次世界大戰的引爆點為「塞拉耶佛事件」，起因於奧匈帝國皇儲斐迪南夫婦至塞拉耶佛進行訪問時，遭塞爾維亞的民族主義分子刺殺，導致奧匈帝國與塞國的政治衝突。然而，為何原本只是奧、塞兩國之間的紛爭，最終會演變成一場嚴重的世界大戰？
 (A) 奧匈帝國與塞爾維亞爆發政治危機，鄂圖曼帝國隨即協助塞國對抗奧匈帝國
 (B) 英國與德國兩國一開始就站在奧匈帝國的陣線之中，並向塞爾維亞宣戰
 (C) 雖然只是奧匈帝國與塞爾維亞之間的紛爭，不過這兩個國家背後的全盟陣線皆被捲入紛爭之中，才會形成一場多國混戰的情勢
 (D) 俄國起初雖然支持塞爾維亞，並協助其對抗奧國，不過之後因為俄國內部局勢的變化，使得俄國最終轉向支持奧匈帝國
22. () 普魯士王國曾倡導建立哪一個組織，奠定日耳曼統一的經濟基礎？
 (A) 紅衫軍
 (B) 反法聯軍
 (C) 關稅同盟
 (D) 青年義大利黨
23. () 中國在十七世紀面對歐洲國家時還有抵抗的餘力，到了十九世紀卻只有挨打的份，這是因為哪一史事所造成的影響，使中國遠遠落後於歐洲國家？
 (A) 文藝復興
 (B) 宗教改革
 (C) 科學革命
 (D) 工業革命
24. () 小汶整理了第一次世界大戰前歐洲某勢力陣營的概要圖(如右圖所示)。圖中的國家各自為了在歐陸勢力發展的考量而組成結盟。請問：該圖應指下列何者？
 (A) 關稅同盟
 (B) 國際聯盟
 (C) 三國協約
 (D) 三國同盟
25. () 德國在第一次世界大戰後被迫割讓領土、限制軍備與償還巨額賠款，由此可知各戰勝國多持哪種心理對待戰敗國？
 (A) 以德報怨
 (B) 報復心理
 (C) 救濟援助
 (D) 經貿合作



高雄市立鼓山高中 114 學年度第二學期第一次段考《國三》地理科試題卷

考試範圍：一、二章

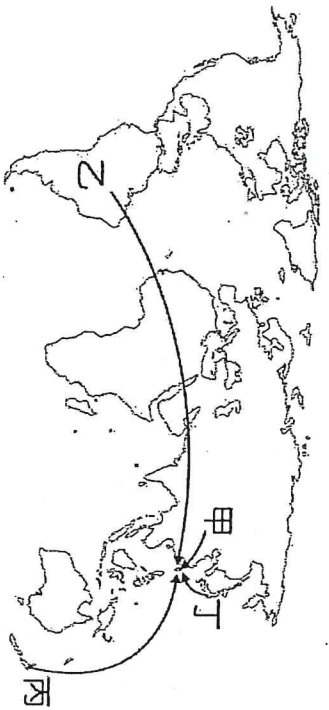
電腦讀卡代碼：05

年 班 號 姓名

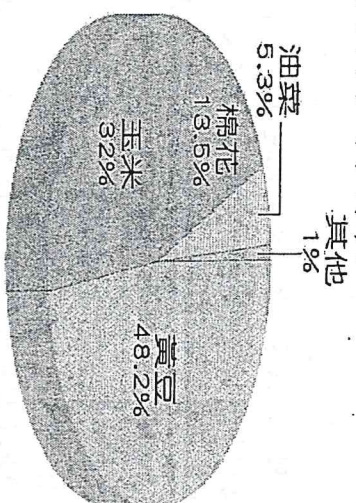
【注意：若為畫卡作答之科科，經閱卷讀卡發現畫記錯誤，該科扣 5 分，未畫卡者該科以 0 分計。】
選擇題：1-33 題每題 3 分，第 34 題 1 分

- () 阿凱報名了中學生夏季文化城體驗營，其中活動規畫了高雄地區五天四夜的考察活動。請問：下列何者最可能是阿凱報名的營隊內容？(A) 城隍廟→北埔客家擂茶體驗→內灣老街(B) 鯉魚潭→清水斷崖→鹿野高台→鳳林日本移民村(C) 高美溼地→大肚台地→后里馬場→后豐鐵馬道(D) 駁二特區→旗津燈塔→壽山動物園→紅毛港文化園區
 - () 請問鼓山區地名由來與演變(A) 早年為馬卡道族(西拉雅平埔族)的打狗社(竹林社)所在地。平埔族語為「Takau」，漢人譯為「打狗」或「打鼓」(B) 清代文獻《重修臺灣府志》記載，因打鼓山地形「其形如鼓」，故稱「打鼓山」(C) 早期船隻行經該海域時，常因濃霧險阻，船員會敲鼓鳴金祈求神明庇佑，故稱為打鼓山(D) 以上皆是
 - () 請問苓雅區地名由來與演變(A) 早期漁民在岸邊存放流刺漁網(台語為「苓仔」或「苓仔」)並在此休息、補網，故名「苓仔寮」(B) 因覺得「苓」字較不雅，曾被稱為「船雅」(C) 民國 41 年恢復原名，定名為「苓雅區」至今(D) 以上皆是
 - () 請問鹽埕區地名由來與演變(A) 清康熙年間(約 1701 年)官府招徠移民在此墾殖，利用海水曬鹽，因此被稱為「打狗鹽埕」(B) 日治時期 1908 年高雄港築港工程，填平鹽田與沼澤，使得鹽田地帶化為「海埔新生地」，由鹽鄉轉型為市區(C) 戰後正式定名為「鹽埕區」(D) 以上皆是
 - () 那瑪夏區地名由來與演變(A) 早期原稱「蚊仔只」(Mangacun)，源於卡那卡那富語音譯(B) 戰後曾改名「三民鄉」(C) 因原住民自我認同提升，並為區分高雄市三民區，於 2007 年通過改名，2008 年 1 月 1 日正式更名為那瑪夏鄉(D) 以上皆是
 - () 以下敘述何者正確(A) 高雄前鎮區地名源自明朝時期(約 17 世紀中葉)的軍事屯墾，因「中提督」下轄的「前鎮」營盤駐紮於此而得名(B) 高雄茄苳區地名源自當地沿海紅樹林多為「海茄苳」(也稱海茄冬、茄藤仔)，漢人便以其相近發音稱此地為「茄苳」(C) 高雄湖內區因靠「湖」邊(潟湖)之「內」而得名(D) 以上皆是
 - () 鼓山高中部戶外教學來到台江國家公園，看到此處有一大片內海的景觀，同時還看到大航海時代的建築物——熱蘭遮城。請問這個地區的古地名為何？(A) 大員(B) 打狗(C) 雞籠(D) 滬尾
 - () 嘉慶君(嘉慶皇帝)一生從未到過台灣，但是為何有這個傳說故事？(A) 清代平定林爽文事件時，福康安來台被誤認為太子(B) 王得祿(嘉慶的得力大將，嘉義人，曾封「太子太保」，誤傳或刻意改寫為嘉慶君(C) 福康安深受寵信，氣派如同太子，當時台灣人民誤以為是嘉慶帝(當時為太子)親臨(D) 以上皆是
 - () 下列哪一個行政區命名上會使用到此「崎」字的狀況相對較少？(A) 南投縣(B) 澎湖縣(C) 苗栗縣(D) 新竹縣
 - () 以下為四組臺灣地名，各組地名出現或來源的先後順序為何？(A) 甲乙丙丁(B) 丁甲丙乙(C) 甲丁丙乙(D) 甲丁乙丙
- | 甲 | 乙 | 丙 | 丁 |
|----------|------------|----------|------------|
| 北投
烏來 | 和平鄉
光復鄉 | 瑞穗
玉井 | 三貂角
富貴角 |
- () 「全臺最早的天后宮俗稱媽祖宮，簡稱為媽宮。」根據這段文字介紹，請判斷這間天后宮所在地最有可能位在下列何處？(A) 澎湖縣(B) 宜蘭縣(C) 臺南市(D) 臺北市
 - () 臺灣過去移墾聚落的居民往往基於防禦盜匪的需求而興建聚落的防禦工程。請問：下列哪一個地名與聚落的防禦工程最具相關性？(A) 大湖(B) 新營(C) 竹圍(D) 烏來
 - () 臺灣地名的來源大致上可區分為與自然環境或是與人文環境有關。請問：下列哪一個地名，主要是與人文環境有關？(A) 崙背(B) 大湖(C) 芎林(D) 潮州
 - () 以下四種與地形有關地名的釋義，其地形用字的地名依序為？(甲) 聚落位於山間小盆地(乙) 為河邊、海邊沙丘或小山丘(丙) 山崖或河階階崖之處(丁) 多指大片的平坦平面(A) 坡、崙、湖(B) 埔、洲、湖、山(C) 湖、崙、坡、坎、埔(D) 堰、坎、埔、崎
 - () 掃描生產履歷 QR Code 時，無法獲得以下何種資訊？(A) 種植流程的詳細紀錄(B) 經營者居住址(C) 產品產地的相關資訊(D) 知道產品的驗證機構
 - () 臺灣自加入世界貿易組織(WTO)後，國外農產品進口量增加，使得食物里程變長，食品安全問題風險提高。為解決上述風險，下列哪一個作法比較可以減少消費者對於食品安全的疑慮？(A) 鼓勵本土農業生產人員注重產銷履歷(B) 發展高密度養殖海鱷魚(C) 採購美國草地牧養牛肉(D) 進口紐西蘭商業性水果
 - () 臺灣進口食物已占據我們生活，下列哪一項農產品，雖有進口但還是以國內自產為主(A) 穀類(B) 牛肉(C) 鮮乳(D) 油籽類
 - () 阿洋在中秋節時購買一箱文旦，看到箱子外側標示「張班長產銷班」，其代表的意義為何？(A) 農民之間彼此合作提高生產效率(B) 農民都由同姓氏的人所組成(C) 這些農民都在同一塊耕地上耕種(D) 農民都種植不同農作物組成產銷班
 - () 在臺灣消費者購買具有生產履歷的產品，其目的不包括下列何者？(A) 可以清楚認識自己吃了什麼，建立對國內農產品的信心(B) 能夠讓生產者願意持續生產安全的農產品(C) 有生產履歷的產品，安全度會高於未經驗證的農產品，對消費者更有保障(D) 能夠讓消費者買到更便宜的農產品

- 20.() 近年來，全臺各地的超市與賣場，除了本地生產的稻米、豬肉，也可以買到挪威的鮭魚和澳洲的牛肉等食物，最主要受到下列哪一項因素的影響？(A) 養殖技術發明(B) 運輸工具發達(C) 加工方法多元(D) 化學肥料使用
- 21.() 消費者在小農市集購買農產品，有以下哪些好處？(甲) 減少中盤商轉運的成本 (乙) 增加食物里程 (丙) 帶動地方飲食文化產業的發展 (丁) 減少食品安全的疑慮(A) 甲乙丙(B) 甲丙丁(C) 甲乙丁(D) 乙丙丁
- 22.() 住在高雄的小臣想在超級市場挑選食物里程較短的水果，下列何者是最佳選擇？(A) 屏東的蓮霧(B) 彰化的鳳梨(C) 臺東的釋迦(D) 桃園的水蜜桃
- 23.() 近幾年有企業透過小農契養、友善養殖的模式，推廣將天然香草加入飼料來飼養雞隻，以增進雞隻的健康。請問：此種新興的生產模式，最能防止下列何種原因所引起的食品安全問題？(A) 農藥殘留(B) 抗生素殘留(C) 病菌殘留(D) 防腐劑殘留
- 24.() 「龍骨瓣芥菜，俗稱野蓮或水蓮，原產於高雄美濃的中正湖。民國九十年代初期，多供當地或鄰近地區食用。如今，全美濃的水蓮種植面積逾百公頃並供應全臺灣，年產值約3億元，儼然成為全臺的平民美食之一。」由上述推論，水蓮的產銷流程空間範圍，經歷了什麼轉變？(A) 由地方性生產與銷售轉變為全球性生產與銷售(B) 由全國性生產與銷售轉變為地方性生產與銷售(C) 由全球性生產與銷售轉變為全國性生產與銷售(D) 由地方性生產與銷售轉變為全國性生產與銷售
- 25.() 在臺灣，同一地區的農民共同組成產銷班與合作社，可能會產生的現象不包括下列何者？(A) 同一地區的農田種植同一種類的作物(B) 可提高生產效率、降低生產成本(C) 可共同壟斷市場，提高農產品價格(D) 形成農業區域專業化的現象
- 26.() 臺灣有近四分之一的進口農產品來自美國，類別主要有黃豆、玉米、小麥、牛肉等。請問：自美國大量輸入農產品，最主要的原因是(A) 基因改造作物品質優良(B) 農場規模龐大價格較低(C) 運用科技資訊協助耕作(D) 農產保存加工技術提升
- 27.() 網路行銷是將農產品朝向何種方向發展？(A) 改良農產品質，提升競爭力(B) 農業企業化，發揮經濟效益
- 28.() 美國與加拿大小麥帶所生產的基因改造農產品，可能需要哪一種對抗環境的特徵，以增加其產量？(A) 抗乾旱(B) 抗低溫(C) 抗多雨(D) 抗炎熱
- 29.() 臺灣依規定雖不可種植基因改造作物，但只要通過基因改造食品的檢驗，仍可進口。附圖一為臺灣從其他國家進口的示意圖，請問哪一條路線最有可能為臺灣進口基因食品的主要來源？(A) 甲(B) 乙(C) 丙(D) 丁

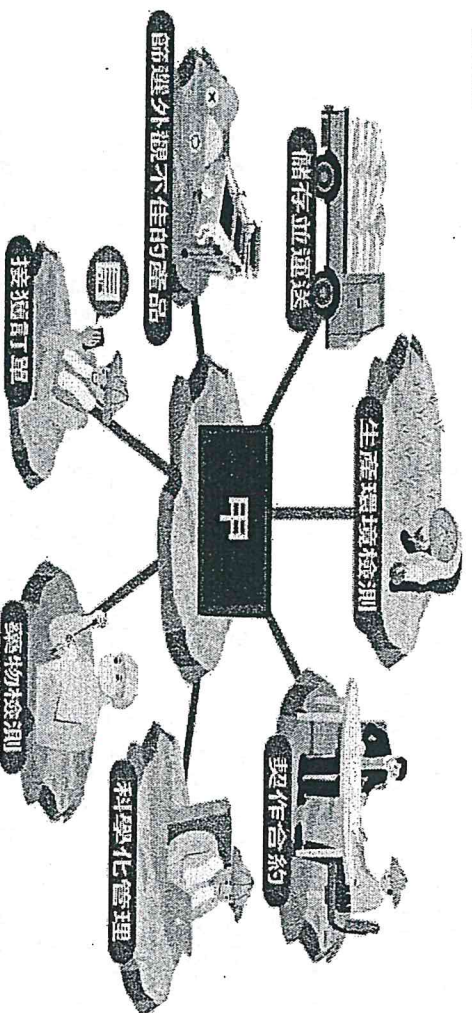


附圖一



附圖二

- 30.() 附圖二為西元 2019 年世界主要基因改造作物的種植面積比例，依圖中資訊判斷，下列何者正確？(A) 多以經濟作物為主(B) 皆為食用的農作物(C) 均分布在亞洲地區(D) 以製糖的作物居多
- 31.() 「綠色革命」是指透過改變農耕方式進行品種改良，以解決落後地區的糧食問題。請問：以下何者不是「綠色革命」所帶來的結果？(A) 需使用化學肥料造成環境負擔(B) 大幅提高農作物產量(C) 提高農業經營的門檻(D) 增加人類對疾病的抵抗力
- 32.() 新聞報導：「全臺正值缺蛋之際，爆出芬普尼毒蛋事件。衛福部食品藥物管理署 13 日接獲農委會(今農業部)通報，彰化縣某牧場驗出芬普尼蛋，抽驗的 3 件檢體驗出芬普尼含量分別是 0.03、0.04 及 0.06ppm，而法規殘留標準為 0.01ppm。芬普尼是一種廣效殺蟲劑，可用於水稻、環境清潔及寵物除蟲，但食用動物不得使用。」前述新聞中提及的食品安全事件，是在下列哪一個階段出現問題？(A) 農業生產階段(B) 食品加工階段(C) 食品運輸階段(D) 食品銷售階段
- 33.() 以下列心智圖來呈現現代商業性農業的特徵。附圖中的「甲」應填入下列何者？(A) 作物單一化(B) 區域專業化(C) 農業企業化(D) 商品精緻化



- 34.() 國三生阿凱在霧台騎車，結果人車噴飛，請問霧台鄉地名由來 (A) 原住民魯凱族為主(B) 原為西魯凱族「霧臺」社居住地 (C) 魯凱語「霧臺」指許多小社聚集的大社之意(D) 以上皆是

鼓山高中中國中部114學年度第二學期三年級公民科第一次月考

作答：■劃記答案卡 科目代號： <u>06</u>	範圍： 第六冊第1~4課	試卷頁數：3	____年____班 座號：____ 姓名：_____
------------------------------	-----------------	--------	--------------------------------

※注意:請小心畫卡，畫卡錯誤，依學校規定扣分。

一、選擇題：每題 3 分，第一題 4 分

- () 小華收到一通電話，對方自稱是銀行客服人員，表示他的帳戶設定錯誤，需要立即到ATM操作才能取消扣款。小華依照指示操作後，帳戶裡的錢卻被轉走。這種情況最可能屬於下列哪一種問題？
(A)網路購物糾紛 (B)網路犯罪層出不窮 (C)資訊公開侵犯隱私 (D)資訊內容真偽難辨
- () 小婷在網路上看到一則訊息，內容宣稱某種食品含有有毒成分，許多人因此不敢購買，但政府單位後來澄清該消息並不正確。這個例子最能說明科技發展可能帶來哪一項問題？
(A)資訊內容真偽難辨 (B)網路犯罪增加 (C)個人資料外洩 (D)電子商務普及
- () 近年來跨國網路犯罪案件增加，例如駭客人侵銀行系統竊取資金，或透過網路詐騙不同國家的民眾。由於犯罪行為跨越國界，單一國家往往難以獨自偵辦。因此政府希望透過國際合作，共同打擊這類犯罪。依據上述情境，下列何者最能說明政府推動國際合作的主要原因？
(A)促進各國商品交易 (B)增加旅遊與文化交流 (C)共同防範與打擊跨國網路犯罪 (D)推廣各國資訊科技產業
- () 小安正在撰寫學校報告，於是上網搜尋資料，找到一篇與主題非常相關的文章。他直接將文章內容複製貼上到自己的報告中並繳交，但沒有標示作者姓名與資料來源。老師指出這樣的行為不僅不符合學術倫理，也可能侵犯他人的權利。根據上述情境，小安的行為最可能違反下列哪一項法律所保障的權利？
(A)著作權 (B)商標權 (C)專利權 (D)隱私權
- () 一位作家花費多年時間完成一本小說，但出版後卻有人將整本書掃描上傳到網路供他人免費下載，造成作者的收入受到影響。這個案例最能說明保障智慧財產權的哪一項主要目的？
(A)增加政府稅收 (B)鼓勵創作者持續創作 (C)限制科技發展 (D)減少商品交易
- () 小傑是一名工程師，經過長時間研究後，發明了一種新的手機充電技術，可以大幅縮短充電時間。他擔心其他公司未經同意就模仿或使用這項技術，因此決定向政府申請法律保護。依據上述情境，小傑最適合申請下列哪一項權利來保護自己的發明？
(A)著作權 (B)商標權 (C)專利權 (D)姓名權
- () 某餐廳老闆為了增加店內氣氛，直接從網路下載音樂並在餐廳內播放給顧客聽，卻沒有取得音樂著作權人的授權。依據著作權法的原则判斷，下列哪一項最能說明這種情況？
(A)只要沒有額外收費就不算侵權 (B)網路上的音樂都可以自由播放 (C)未經授權公開播放可能侵害著作財產權 (D)音樂作品不受著作權法保護
- () 某位網路創作者利用AI工具生成圖片與文章，並直接引用他人作品內容發布在自己的網站上，但沒有標示來源或取得授權。依據著作權相關規定判斷，下列哪一項最可能是對此行為的說明？
(A)只要是AI生成內容就不受法律限制 (B)未經授權引用他人作品可能涉及侵權 (C)只要沒有收費就不會侵權 (D)網路上的內容都屬於公共財
- () 根據我國勞動部統計，西元2020年我國的國際移工人數約為71.9萬人，當中以印尼、越南及菲律賓籍最多，合占移工人口總數的九成二之多。其主要從事海洋漁撈、工廠製造、建築營造，以及家庭看護等工作內容為主，在我國許多產業中扮演重要的角色。下列有關國際移工的敘述，何者正確？
(A)大多數國際移工一定會搶走本國勞動人口的就業機會 (B)國際移工的增加會使得本國的傳統文化轉為弱勢文化 (C)國際移工的存在有機會促進不同文化群體相互的認識 (D)穆斯林國際移工必須遵守不吃牛肉及佩戴頭巾的戒律

- 10.() 電視台連續多日以頭版新聞報導某地區空氣污染問題，並邀請專家分析原因，使得社會大眾開始關注該議題並討論改善方法。依據上述情境，媒體主要發揮了下列哪一項功能？
(A)保障司法獨立 (B)設定議題引導關注 (C)提供娛樂休閒 (D)維護商業利益
- 11.() 在民主社會中，媒體被稱為「第四權」，主要是因為媒體可以揭露問題、監督政府施政，並讓民眾了解公共事務。依據上述說明，下列哪一項最能解釋媒體被稱為「第四權」的原因？
(A)媒體可以制定法律 (B)媒體能監督政府並揭露問題 (C)媒體可以取代行政機關 (D)媒體能決定法院判決
- 12.() 近年來，許多人會在社群網站上發表對公共政策的看法，並與其他網友討論不同意見，使社會上逐漸形成某些共識。依據上述情境，社群網路主要發揮了下列哪一項功能？
(A)限制言論自由 (B)促成討論形成民意 (C)控制政府決策 (D)取代新聞媒體
- 13.() 小安平時會透過網路直播關心環境議題，並將自己拍攝的河川污染畫面上傳到社群平台，引起許多網友討論，也讓媒體開始關注該問題。依據上述情境，小安的行為最符合下列哪一項現象？
(A)公民記者 (自媒體) 崛起 (B)政府資訊公開 (C)企業公共關係活動 (D)商業廣告宣傳
- 14.() 某市政府在制定新的交通政策前，先在網路平台開放民眾留言與投票，讓市民表達對政策的看法，並將意見作為政策修正的參考。依據上述情境，此作法最主要是展現社群網路的哪一項功能？
(A)限制公共討論 (B)公共政策參與平臺建立 (C)增加商業行銷 (D)減少政府責任
- 15.() 過去民眾若表達對某項政策的不滿，通常需要親自參加集會或遊行；如今透過社群網路發起連署或分享資訊，也能快速串聯許多人共同關注某個議題。上述現象最能說明社群網路帶來下列哪一項影響？
(A)限制人民言論自由 (B)強化政府行政權力 (C)網路號召與串聯社會運動 (D)降低公共參與
- 16.() 某新聞媒體為了搶先報導重大事件，在尚未完全查證資訊的情況下就立即播出新聞，後來發現部分內容與事實不符，引發社會爭議。依據上述情境，此現象最能說明媒體可能出現下列哪一種問題？
(A)媒體報導未必反映事實 (B)媒體促進公共討論 (C)媒體保障言論自由 (D)媒體提升政府效率
- 17.() 某綜藝節目中，主持人在介紹飲料時看似自然地喝下某品牌飲品，並稱讚其口感與健康功效，但節目並未明確標示為廣告。依據上述情境，此作法最符合下列哪一項媒體現象？
(A)新聞評論 (B)公共議題討論 (C)置入性行銷 (D)公民記者報導
- 18.() 近年來部分新聞媒體在報導詐騙案件時，常以「外籍移工詐騙集團落網」或「外籍人士涉入詐騙案件」作為標題，並反覆播放相關畫面。長期下來，部分觀眾可能逐漸將犯罪行為與特定族群連結，甚至對整體外籍移工產生負面看法。依據上述情境，此情形最可能造成下列哪一種影響？
(A)促進族群文化交流 (B)強化刻板印象與偏見 (C)提升新聞客觀性 (D)增加公共政策參與
- 19.() 小杰到臺灣的超市購物時，發現架上除了本地商品外，也能買到紐西蘭的奇異果、日本的零食，以及韓國的泡麵等產品。這些商品能夠在不同國家之間流通販售，主要是因為各國之間的商品、資訊與文化交流愈來愈頻繁。上述情形最能說明下列哪一個概念？(A)地方自治 (B)文化保存 (C)社會分工 (D)全球化
- 20.() 近期在日本舉行的世界棒球比賽吸引許多臺灣球迷關注，不少人透過網路直播平台或運動頻道，在臺灣就能即時觀看比賽畫面，並在社群媒體上與世界各地的球迷一起討論賽況，即使身處不同國家，人們仍能迅速接收並分享資訊。上述情形最能說明全球化形成的重要原因是下列何者？
(A)交通運輸發達 (B)資訊科技與傳播媒體進步 (C)農業技術提升 (D)地方政府政策改變
- 21.() 聯合國各國在氣候變遷問題上召開會議，共同討論如何減少碳排放量，以減緩全球暖化問題。這種透過國際合作解決全球議題的情況，最能說明下列哪一種現象？
(A)政治全球化 (B)文化衝突 (C)地方自治 (D)市場壟斷
- 22.() 在全球咖啡市場中，一些跨國企業以較低價格向開發中國家的咖啡農購買咖啡豆，再經過加工與品牌行銷後，以高價銷售到世界各地。由於利潤大多集中在企業與通路商手中，許多農民實際獲得的收益相對有限。上述情況顯示全球化可能帶來下列哪一項問題？
(A)文化衝突 (B)貧富差距擴大 (C)人口老化 (D)教育資源不足
- 23.() 近年來，許多消費者在購買咖啡或巧克力時，會特別選擇貼有「公平貿易認證」標誌的產品。這類商品強調在交易過程中讓生產者能獲得較合理的報酬，以改善其生活條件。上述行動主要是希望改善全球化帶來的哪一項問題？(A)環境污染 (B)不公平貿易 (C)文化衝突 (D)人口老化

- 24.() 新冠肺炎疫情爆發後，病毒在短時間內迅速擴散到世界各地。有人認為這與全球化下人口與貨物流動頻繁有關。此現象最能說明全球化可能帶來下列哪一種影響？
(A)促進文化交流 (B)加速疾病跨國傳播 (C)提升教育品質 (D)增加農業產量
- 25.() 小禾與同學到海邊淨灘時，發現部分垃圾的包裝上印有外文，推測可能是從其他國家漂流過來的。由此可知，海洋垃圾問題並非單一國家能解決，而需要各國共同合作。上述情況最能說明下列哪一項概念？
(A)地方自治 (B)國際合作 (C)文化交流 (D)市場競爭
- 26.() 歐洲聯盟(EU)、亞太經濟合作會議(APEC)與東南亞國協(ASEAN)等組織，主要由特定地區的國家合作組成，以促進區域內的經濟與政治合作。這些組織屬於下列哪一類型？
(A)全球性國際組織 (B)區域性國際組織 (C)民間團體 (D)跨國企業
- 27.() 台灣世界展望會與台灣路竹會等民間團體，經常到海外進行人道救援或醫療服務。這些行動最主要展現下列哪一項意義？
(A)國家軍事實力 (B)民間團體參與國際社會 (C)地方自治能力 (D)企業競爭能力

二、題組：每題 3 分

請閱讀短文，回答下列問題：

當心數位足跡留痕難抹去

小安最近發現一件奇怪的事情：他前幾天在網路上搜尋「運動鞋」之後無論是在新聞網站、影音平台或社群網站上，都常看到運動鞋的相關廣告。原來，小安在網路搜尋、觀看影片與瀏覽商品時，都會留下「數位足跡」，企業可能透過分析這些資訊了解使用者的興趣與習慣，進而投放符合其喜好的廣告。雖然這樣可以讓使用者更快找到想要的商品，但若這些資料被不當利用，也可能造成個人隱私洩洩的問題。因此，專家提醒民眾在使用網路時，應留意自己的數位足跡，並採取適當方式保護個人資訊。

- 28.() 依據上文內容判斷，下列何者最能說明「數位足跡」的意義？
(A)人們在網路上從事各種活動所留下的紀錄 (B)只有購物網站才會留下的資料 (C)政府蒐集人民資料的系統 (D)電腦儲存檔案的技術
- 29.() 小安搜尋過運動鞋後，在不同網站都看到相關商品廣告，這種現象最可能與下列哪一項因素有關？
(A)網站隨機顯示廣告 (B)企業分析使用者的數位足跡 (C)政府要求網站播放廣告 (D)廣告商不知道使用者喜好
- 30.() 依據文章內容判斷，下列哪一項行為最有助於減少個人留下過多數位足跡？
(A)在不同網站大量註冊帳號 (B)隨意點擊各種廣告 (C)定期清除瀏覽紀錄或 cookie (D)將所有個人資料公開

假新聞與媒體識讀

2022年俄烏戰爭爆發後，網路上流傳一段影片，內容宣稱烏克蘭總統澤倫斯基已經逃離首都基輔，甚至有媒體翻譯成「他已經離開烏克蘭」。然而事後經過多家媒體與事實查核機構查證，發現影片中的發言其實是澤倫斯基表示「自己仍然在基輔」，並未離開。由於翻譯錯誤與片段資訊在網路上快速傳播，使部分民眾誤以為消息屬實。面對網路上大量資訊，媒體識讀教育提醒民眾可運用「疑、想、查、問、觀」五字訣來判斷訊息的真偽，例如先保持懷疑、思考訊息來源、查詢事實查核資料、詢問專家或可信的人，以及觀察資訊是否有破綻。

- 31.() 根據上述情境，民眾在面對大量網路訊息時，最需要培養下列哪一項能力？
(A)媒體識讀能力 (B)媒體娛樂能力 (C)媒體行銷能力 (D)媒體製作能力
- 32.() 若某則網路訊息內容聳動，但沒有清楚來源，也無法在其他可靠媒體找到相關報導。依據媒體識讀的觀念，民眾最適合採取下列哪一項行動？
(A)立刻轉傳提醒親友 (B)先分享再查證 (C)暫不轉傳並進一步查證 (D)只相信標題內容
- 33.() 從題組內容可知，假新聞在網路上快速流傳，可能對社會造成影響。下列哪一項最可能是其造成的結果？
(A)增加民眾對公共議題的理解 (B)造成社會恐慌或錯誤判斷 (C)提升新聞媒體的可信度 (D)增加政府行政效率

高雄市立鼓山高中 114 學年度第二學期第一次段考《國三》健康教育

考試範圍：第一單元

電腦讀卡代碼：14

____年____班____號 姓名_____

一、選擇題 1~20 每題 5 分，共 100 分。

空氣污染分境外與境內污染，其中境內污染來源包涵自然界釋出與人類活動製造，請分辨以下空氣污染來源

- < > 1、柴山發生森林大火
 - < A > 自然界釋出 < B > 人類活動製造
- < > 2、中油工廠排放氣體
 - < A > 自然界釋出 < B > 人類活動製造
- < > 3、展展騎機車發氣
 - < A > 自然界釋出 < B > 人類活動製造
- < > 4、佑佑去廟裡燒香
 - < A > 自然界釋出 < B > 人類活動製造
- < > 5、月世界岩石風化
 - < A > 自然界釋出 < B > 人類活動製造
- < > 6、空氣漂浮的粒狀污染物，粒徑小於 10 微米的懸浮微粒，容易對呼吸系統產生影響。其中「微米」是下列哪一選項？
 - < A > am < B > cm < C > μ m < D > ym
- < > 7、「高雄市府通知，今天空氣污染品質指標為_____色，請各位市民減少戶外活動，戴上口罩照顧身體健康。」請問以上 _____ 最適合填入什麼？
 - < A > 綠色 < B > 黃色 < C > 橘色 < D > 紅色
- < > 8、「高雄市府通知，今天空氣污染品質指標為_____色，歡迎全體市民到果嶺自然公園活動郊遊。」請問以上 _____ 最適合填入什麼？
 - < A > 綠色 < B > 黃色 < C > 橘色 < D > 紅色
- < > 9、在空氣品質尚未改善，我們可以做許多事情保護自己，請問以下哪一項行為不屬於？
 - < A > 出門配戴口罩 < B > 使用空氣清淨機 < C > 窗戶絕對不要打開 < D > 查詢空氣品質指標
- < > 10、改善空氣污染從自己做起，以下選項哪一項是我們在生活中可以做到減少污染物的行為？
 - < A > 騎腳踏車取代機車 < B > 陽台種植綠色植物 < C > 購物存電子發票 < D > 以上皆是
- < > 11、高雄市愛河染成粉紅色
 - < A > 物理性 < B > 化學性 < C > 生物性
- < > 12、蓮池潭產生藻華現象(優養化)
 - < A > 物理性 < B > 化學性 < C > 生物性
- < > 13、高雄茄荳海域綠牡蠣事件(牡蠣吸收大量銅離子)
 - < A > 物理性 < B > 化學性 < C > 生物性
- < > 14、自來水廠大腸桿菌數量超過標準，引發民眾集體中毒
 - < A > 物理性 < B > 化學性 < C > 生物性
- < > 15、下列選項何者不是台灣垃圾處理的方法？
 - < A > 隨地亂丟 < B > 衛生掩埋 < C > 焚化處理 < D > 資源回收
- < > 16、阿勳的腳踏車壞了，只是零件歪掉，稍微調整一下就可以騎了。
 - < A > 拒絕 < B > 再生 < C > 回收 < D > 維修
- < > 17、蒼荳去內惟市場買菜，不使用攤販的塑膠袋
 - < A > 拒絕 < B > 減少 < C > 再生 < D > 回收
- < > 18、芸芸把壞掉的蔬果去做堆肥
 - < A > 減少 < B > 維修 < C > 拒絕 < D > 再生
- < > 19、鼓山國中舉辦無塑園遊會
 - < A > 減少 < B > 回收 < C > 維修 < D > 再生
- < > 20、小樂將蝦皮網購的包裹盒子，拿來當收納盒
 - < A > 維修 < B > 回收 < C > 再生 < D > 拒絕