

# 高雄市立鼓山高中 114 學年度第二學期第一次段考《高一》公民科試題卷

考試範圍：J1-L2-2

電腦讀卡代碼：18

\_\_\_\_年\_\_\_\_班\_\_\_\_號 姓名\_\_\_\_

## 一、單選題(每題 2.5 分)

- 民主國家之法律制定、修正與廢止之程序皆應合乎法治國原則，下列何者符合我國立法之法定程序？
  - 人民發起法律草案公投，通過後直接進入立法院審查
  - 監察委員參與立法院院會，提出法律草案之修正動議
  - 院會進行第二讀會時，其決議可與委員會之決議不同
  - 第三讀會時發現法條草案牴觸憲法，須提出釋憲聲請
- 民主國原則指國家權力的行使必須基於人民意志，符合多數人民的集體意願。下列何者最能反映法律制定程序對民主國原則之落實？
  - 經由政黨推薦的人才能參選議員，進入議會審議法律
  - 院會進行三讀程序時，須有一定比例立委出席及同意
  - 行政院認為新法窒礙難行，經過總統核可後提出覆議
  - 國會三讀通過之法律，元首須於期限內對全國公布之
- 隨著社會變遷與科技發展，「未經同意散布私密影像」(Non-consensual pornography, NCP) 已然成為一個新的社會問題，NCP 一般指的是沒有經過當事人同意，故意散布、傳送、張貼或以任何方式讓第三人觀覽當事人性行為、裸露性器官等私密之照片、影像。NCP 的目的不一定只是復仇，還有可能是為了恐嚇與控制受害者。這樣的行為，其實就是對於被害人個人隱私權的侵害，且由於網路快速傳播的特質，一旦私密影像遭到流傳便難以永久移除，使得對被害人造成難以抹滅的傷害。根據婦女救援基金會調查，此類案件近年來快速成長，受害者高達 96% 為女性，加害人有 41% 為前/現任伴侶，13% 為同儕/同事，14% 為不曾見面的網友，也有因駭客入侵而受害的案列。個人擁有性以及性隱私的自主權，性私密影像拍攝與否應出自於自願，且即便當事人同意拍攝，並不代表同意被恣意散布流傳。除了拒絕拍攝、分享私密影像之外，為了保護手機中的資訊，有些公司已研發出可加密手機相簿的應用程式，降低手機被入侵的風險。
 

根據理查·梅森 (Richard O. Mason) 提出資訊倫理的四大議題，NCP 造成的資訊倫理議題與下列何者相同？

  - 倫理孩童透過視訊軟體與外國學童進行語言交流
  - 小白不經查證就在社群網站轉發錯誤的疫情資訊
  - 阿花發現有人雲端硬碟帳號未登出便瀏覽其照片
  - 小華在 Youtube 開直播時播放她喜愛的流行歌曲
- 小覓為了解 AI 技術對社會的影響，蒐集一篇文章，摘錄如下：「自 2022 年 11 月起，全球對生成式 AI (generative AI) 掀起了熱潮，跨國科技公司紛紛投資於 AI 技術的研發。生成式 AI 是指透過讓機器學習模型研究歷史數據的模式和深度學習技術，生成全新的成品，例如文字和圖像。企業們積極導入 AI 技術，顯示 AI 在未來的應用將更加普及。然而，有些人擔心生成式 AI 的影響範圍涵蓋所有領域，可能取代或影響部分工作任務。他們也擔心 AI 將進一步拉大有能力掌握科技資源的人與沒有資源的人之間的收入差距。此外，生成式 AI 降低了製造假訊息的成本，使得意圖引起社會動盪和政治危機的不良分子更容易實現其目標。因此，各國都在制定相應的措施，以規範和管理此領域。」請問，前述訊息中未提及以下何項 AI 技術發展所引發的問題？
  - 以 AI 技術生成虛假訊息影響民眾認知
  - 跨國科技公司壟斷 AI 研發所需的資源
  - AI 技術進步對全球就業市場造成衝擊
  - 數位資源落差造成貧富差距進一步擴大
- 近年來「自動駕駛」技術逐漸成熟，AI 可以取代傳統駕駛人掌控方向盤、油門和煞車，對需要長途駕駛的人來說帶來便利。然而，隨著路上自駕車的增加，自駕車發生車禍的情況也愈發普遍。這種情況下，關於事故賠償責任的歸屬存在爭議：究竟是應由坐在駕駛座的人類駕駛者負責，還是開發自動駕駛技術的車廠應負起此責任。有論者認為，過去《強制汽車責任保險法》的強制責任險只規範了駕駛人，未專門涵蓋車廠，因此政府應制定《強制自動駕駛車輛責任保險法》，要求車主和自駕技術研發的車廠都應投保以應對事故風險。假設政府通過《強制自動駕駛車輛責任保險法》的制定，關於自駕車投保的法律適用，下列敘述何者正確？
  - 基於下位階不得牴觸上位階法規範，應適用《強制汽車責任保險法》
  - 基於實體從舊程序從新的法律原則，應適用《強制汽車責任保險法》
  - 基於後法優於前法的原則，應適用《強制自動駕駛車輛責任保險法》
  - 依特別法優於普通法原則，應適用《強制自動駕駛車輛責任保險法》
- 有鑑於「博愛座」長期以來引發不少爭議，朝野立委皆提出《身心障礙者權益保障法》第 53 條修正案，把博愛座改成「優先席」，期待此座位的存在能更符合設置初衷。已知以下是通過該修正草案須經過的環節，請問根據我國法定立法程序，下列排序何者正確？(甲)送交程序委員會排定議程；(乙)相關委員會審查；(丙)第一讀會；(丁)第二讀會；(戊)第三讀會；(己)立委提出草案。
  - 甲己乙丙丁戊
  - 甲己丙乙丁戊
  - 己丙丁戊甲乙
  - 己甲丙乙丁戊

7. 2026 年 1 月 8 日，立法院進行委員會審查《人工生殖法》修正草案時，代理孕母是否納入規範，引發朝野立委與社會各界討論。支持者認為，隨著生育率驟降及多元家庭需求增加，現行框架不允許代理孕母等於剝奪某些族群的生育選擇權；反對者則指出代理孕母可能衍生倫理與剝削風險，擔心如女性身體可能遭「商品化」或契約地位不平等問題。衛福部次長表示，現行產科尊重孕產婦作為承擔風險者的決定權，但當胎兒被視為「他人所委託」，誰有權為胎兒最佳利益做決定？為保障多元家庭與不孕者的權利，有人主張法律應依《憲法》第 7 條平等對待不同族群生育需求；然而，為避免代理孕母的倫理風險，也應依《憲法》第 23 條畫出基本權利的界線，除了針對利他代孕、商業代孕等不同目的制定明確的法律依據，同時衡平正當目的及比例原則，確保委託者、代孕者、胎兒各自的權利。請問：若從《憲法》第 7 條平等權的角度分析，下列何者最能說明支持開放代理孕母者的主要論點？

(A) 法律應規範所有人一律適用相同的生育方式，不得因個人狀況調整制度設計  
(B) 代理孕母涉及私人契約自由，國家不應以任何法律手段介入，才能確保平等  
(C) 對於因生理或家庭條件無法自然懷孕者，法律若完全禁止代理孕母，可能形成不利差別待遇  
(D) 基於維護傳統家庭價值，法律只要保障傳統家庭中的生育權利即可，不必顧及其他家庭形態

8. 為了建構堅實的行政訴訟結構，立法院三讀修正通過《行政訴訟法》，並於 2023 年 8 月 15 日正式施行。行政訴訟仍維持兩個審級，並新增「遠距審理」、「巡回法庭」等方式，以兼顧各地民眾起訴、應訴的便利性。就《行政訴訟法》的內容性質而言，下列敘述何者正確？

(A) 該法屬規範政府機關如何行使權力的實體法 (B) 該法為規範內容包含人民權利義務的程序法  
(C) 基於程序從新原則，適用時採新修正的規定 (D) 基於實體從舊原則，適用仍以舊法規定為準

9. 中國建立「社會信用系統」，透過民眾被記錄下來的政治、商業與社會行為，給予相對的「社會信用分數」，決定民眾所享有的權利，如購買機票、貸款或求職等。雖然官方聲稱這套系統是為了「褒揚誠信，懲戒失信」，但外界批評這套系統實為中國政府監控民眾的政治工具。對於中國政府實施社會信用系統的做法凸顯科技發展下的哪種隱憂？

(A) 科技發展將對社會產生劇烈且負面的影響 (B) 科技受制於以人際互動為基礎的社會發展  
(C) 政府不得介入科技風險治理及倫理規範 (D) 政府可能因此惡化科技風險甚至違反倫理

10. 一名中國生物學家對外表示，他的團隊已經順利培育出一對具有天生抵抗愛滋病能力的基因改造嬰兒，這項成果隨即受到世界矚目與批評，因為這樣的實驗與研究跨越了人類社會的界限。雖然外界對其真實性有所質疑，但各國科學家仍痛批這是一個「瘋狂實驗」，將使全人類遭受莫大的風險。各國的批評顯示，基因改造的問題不在於科技的發展成熟與否，而是下列哪個問題已無法忽視？

(A) 公權力是否能建構制約個人或組織的制度 (B) 如何取得科技使用與社會觀感之間的平衡  
(C) 是否動搖人類社會價值觀與違反生命倫理 (D) 實驗者未來將如何對被改造的當事人負責

11. 某國政府擬推動全民換發數位身分證計畫，整合戶口、醫療、租稅等資訊，提供人民更便捷的政府服務。認同此計畫的支持者期望藉此實現「數位國家」願景；但有公民團體質疑政府缺乏審慎規劃，擔憂該政策將導致人民喪失個人資訊的控制力，主張必須先制定特別法律，明訂授權範圍、加密機制、跨部門讀取資訊的條件與監督機制。因爭議擴大，該國政府最後放棄換發計畫。某高中生瀏覽相關爭議的網路留言後，心生疑惑：「先前民間團體利用政府資訊製作疫苗數位地圖，協助民眾查找疫苗施打場所，廣受社會稱許，為何數位身分證卻飽受質疑？」請問：針對該高中生的疑惑，從資訊利用行為與個人權利的角度來看，下列何種見解最為合理？

(A) 疫苗地圖增強人民行動自由，數位身分證增強人民的權利，應予相同評價  
(B) 疫苗地圖增強人民的權利，數位身分證削弱人民的隱私權，應予不同評價  
(C) 疫苗地圖削弱人民的隱私權，數位身分證增強人民人身自由，應予不同評價  
(D) 疫苗地圖削弱人民人身自由，數位身分證削弱人民行動自由，應予相同評價

12. 胖虎開了一間小吃店，因標榜「紅茶免費喝」吸引不少顧客上門。某日小夫到小吃店消費，但當天提供的紅茶已經被喝完而感到不滿，於是在網路平臺上對小吃店狂洗 1 星負評、謊稱菜裡有蟲、又貴又難吃等。胖虎得知後，認為小夫所稱並非事實便控告小夫，要求小夫給予金錢賠償並在網路平臺上替店家給予正面留言及 5 星評價。法官審酌後認為小夫確實應給予金錢賠償，但駁回在「網路平臺上替店家給予正面留言及 5 星評價」的訴求。對於法官駁回訴求所依據的法律原則，與下列哪一事件涉及的法律原則相同？

(A) 甲在其土地上搭起鐵皮圍籬用以阻擋乙住家對外通行 (B) 甲承諾以一百萬出售其古董花瓶予乙，卻交付仿製品  
(C) 雇主因員工無故未上班而依勞動契約扣減其一日薪水 (D) 警察以測速照相機偷拍路過的超速車輛並且逕行舉發  
13. 大學入學考試中心（簡稱「大考中心」）是我國專責大學入學考試的機構，於 1989 年由公、私立大學暨獨立學院捐助基金而成立，並設有董事會負責管理，成立目的在於研究改進大學入學制度與技術並辦理大學入學考試；另外為了加強試務控管與改進考試業務，設有考試委員會。關於大考中心的特徵，下列何者正確？

(A) 以考試委員及董事會組成的社團法人 (B) 法律上享有與自然人完全相同的權利  
(C) 基於公共利益而成立，屬非營利機構 (D) 專責大學入學考試之事務，為公法人

14. 一名女性在消防員受訓時，因體檢身高差 1.1 公分，未達 160 公分的身高規定，被內政部消防署認定不符資格而退訓，大法官在《113 年憲判字第 6 號判決》指出，主管機關無法證明為何身高低於 160 公分之女性不適合從事消防工作，而必須排除其應考與受訓，這樣的規定已對女性產生不利的差別待遇，也欠缺與所欲達成公益目的之間的關聯。請問大法官認為此規定違反下列何種基本權利的保障而違憲？(A) 平等權 (B) 自由權 (C) 工作權 (D) 受教權

15. 日治時期，臺灣總督府為開發山林資源，拓殖其經濟利益，初期認為山林中的「蕃人」是阻礙開發的「凶惡之徒」，不但不承認其傳統權益，甚至用武力征伐；後期又進行大規模「集團移住」計畫，迫使各原住民部落離開其傳統生活空間，部落間原有的往來因此被切斷，重新配置的部落也無法和其他部落建立合作關係，以致內部社會關係瓦解。近年來，因應國際人權觀念趨勢、多元文化發展，國家試圖以下列何項保障原住民的政策填補因總督府政策，導致原住民承受的權利損害？

- (A) 國家為國有林地所有權人，原住民得由政府機構許可取用森林資源
- (B) 將原住民立法委員的選舉，分為「山地」與「平地」原住民選舉區
- (C) 設立原住民保留地以保障原住民生計，並限制將土地轉予非原住民
- (D) 設有部落會議的原住民部落，經核定後可取得公法人的主體地

16. 《憲法法庭 2022 年憲判字第 4 號判決》中指出，我國就原住民身分之取得，除須登記外，原則上採取血統主義及自我認同原則，但修法前《原住民身分法》第 4 條第 2 項及第 6 條第 2 項、第 3 項，因另外附加「從具原住民身分之父或母之姓或原住民傳統名字」等原住民文化認同要件，而造成具有血統、但不符合前述要件的原住民，其《憲法》第 22 條所保障之身分認同權受到限制。此外，這樣的規定也造成「父母皆為原住民」的子女必定可以取得原住民身分，但「父母僅一方為原住民」的子女卻未必能取得原住民身分，顯然牴觸《憲法》第 7 條平等權之意旨。下列事件涉及的基本權利，何者與「身分認同權」在《憲法》上同屬概括基本權？

- (A) 穆斯林希望配戴或穿著伊斯蘭教服飾表達其對信仰的虔敬
- (B) 藝人呼籲媒體勿報導涉及個人私密情感的社群軟體對話紀錄
- (C) 失業的民眾走上街頭，要求政府提出政策保障人民充分就業
- (D) 海外國民主張，對國家有異議者不應被列入拒絕返國黑名單

### ※17-18 為題組

由於辦案人力有限，加上證據可能隨時間流逝而逐漸消失，為維護法律安定性，國家不得無限制地追訴犯罪行為。因此，《刑法》第 80 條規定依犯罪的性質與嚴重程度，設立不等的「追訴權時效」，亦即若犯罪行為已超過法律所規定的追訴期間，且檢察官未於期間內提起公訴，司法機關便不得再對行為人進行追訴。其中，在現行制度下，針對兒童及少年妨害性自主的案件，追訴權時效為 30 年。

然而，考量兒少性侵案件的特殊性，被害人在遭受侵害當下，往往因年幼無法察覺自身已遭性侵，或不懂得尋求協助，導致錯過追訴權時效的起算時點。若其成年後才意識到自身受害，極有可能已逾追訴期限，無法追究加害人之刑事責任。為因應此一情況，有立法委員提出修法建議，主張針對未成年被害人所涉之妨害性自主案件，其刑事追訴權時效應「自被害人成年之日起算」。

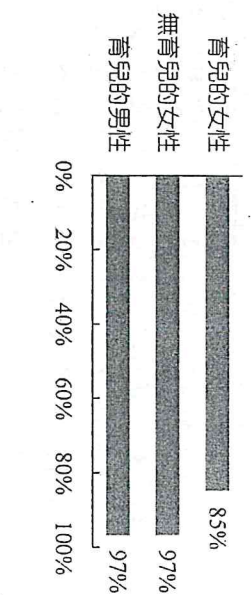
17. 依據題文內容，下列何者最可能是該立法委員提案修正「未成年被害人妨害性自主案件追訴權時效」之目的？

- (A) 保障未成年被害人的名譽與隱私權 (B) 保障未成年被害人提出告訴的權利
  - (C) 維護法律安定確保法官依據裁判 (D) 加重對未成年者妨害性自主的刑責
18. 依據我國修法程序，下列何者是《刑法》部分條文修正案生效施行的必要程序？

- (A) 行政院法務部提出《刑法》部分條文修正案版本 (B) 大法官在《刑法》修正案通過後，進行逐條解釋
- (C) 立法院委員會召開公聽會並審查《刑法》修正案 (D) 行政院院長與法務部部長副署後由總統公布法律

### ※19-20 為題組

美國皮尤研究中心 (Pew Research Center) 2023 年 3 月公布一份美國收入調查報告。調查結果顯示，儘管近年性別平等意識抬頭，但 2022 年美國女性的平均收入僅為男性的 82%，男、女性的收入差距在這 20 年來幾乎沒有縮小。另外，調查報告還進一步針對不同年齡、是否育兒的男性和女性進行收入比較，圖中分別為美國 25~34 歲「育兒的女性」、「無育兒的女性」和「育兒的男性」的收入與「無育兒的男性」之間的比較結果（以「育兒的女性」為例，其收入僅為「無育兒的男性」的 85%）。



※與「無育兒的男性」相比的收入

19. 關於此一調查結果的分析，下列推論何者最適切？

- (A) 美國社會對於性別平等的重視程度不高 (B) 年齡是造成兩性間收入落差的主要原因
  - (C) 男女性的收入與家中育兒與否完全無關 (D) 傳統的性別角色分工會影響女性的收入
20. 根據圖表資料，此調查結果最可能反映出美國職場中存在哪種現象？

- (A) 性別多元化 (B) 性別主流化 (C) 玻璃天花板 (D) 性別職業區隔

### ※21-22 為題組

有鑒於《少年事件處理法》自 2005 年修正後，已逾十多年未再修正，結果出現少年法庭在審理逃學或逃家且觸犯《刑法》規定的少年時，遇到規定不明確、適用範圍過廣的問題，因此為了符合《司法院釋字第 664 號解釋》及《兒童權利公約施行法》之意旨，經 24 名立法委員連署提案修正後，於 2023 年 7 月 1 日正式施行。

我國現行制度是將少年事件獨立於一般刑事案件處理程序之外，主要是考量青少年的身心發展及犯罪類型，不能與成年人等同觀之，因此制定《少年事件處理法》規定有關少年保護事件及少年刑事案件的處理程序及處遇政策，以保障少年的權益。

21. 關於《少年事件處理法》的修正程序，下列敘述何者正確？

- (A) 基於民主國原則應符合多數人民的集體意願，僅能由立法委員提案
- (B) 法案經宣讀標題後即完成一讀，後依院會決議交付程序委員會審議
- (C) 僅就原有的法條修正，無須逐條討論與文字修正，故完成二讀即可
- (D) 法律的制定與修改皆須經立法委員公開表決，並經三讀程序後通過

22. 依據題文資訊，《少年事件處理法》在法律適用上，具有下列哪項特徵？

- (A) 實體法從舊原則 (B) 程序法從新原則 (C) 特別法優於普通法 (D) 程序法先於實體法

### ※23-24 為題組

由於近年詐欺案件頻傳，且趨於集團化、組織化，詐騙手法甚至結合網路、電信通訊、人工智慧等科技，造成愈來愈多民眾受騙。因此，立法院於2023年5月16日三讀通過《刑法》修正案(5月31日施行)，其中便增訂第339條之四「加重詐欺罪」，擴大處罰、加重刑責，以遏止特殊詐欺型態、維護社會秩序、保護社會大眾的交易安全。另外，許多學者強調道德教育的重要性，盼國人能更重視道德觀念，才有助於建立誠信、互助的社會。

第 339 條	詐欺罪	意圖為自己或第三人不法之所有，以詐術使人將本人或第三人之物交付者，處 5 年以下有期徒刑、拘役或科或併科 50 萬元以下罰金。
第 339 條之 4	加重詐欺罪	1. 犯第 339 條詐欺罪而有下列情形之一者，處 1 年以上 7 年以下有期徒刑，得併科 100 萬元以下罰金： 一、冒用政府機關或公務員名義犯之 二、3 人以上共同犯之 三、以廣播電視、電子通訊、網際網路或其他媒體等傳播工具，對公眾散布而犯之 2. 前項之未遂犯罰之

23. 政府修法增訂「加重詐欺罪」的主要原因，下列哪項推論最適切？

- (A) 避免資訊科技發展過快導致更多民眾受騙 (B) 資訊科技的風險問題高於所產生的便利性
- (C) 社會規範不足下仍有賴政府公權力的介入 (D) 社會對詐欺行為的譴責聲量迫使政府修法

24. 請問某詐騙集團於2022年底使用通訊媒體詐騙民眾得手，法院審理後並於2023年6月宣判，請問法官最可能處以下列哪一種刑度？

- (A) 4 年 5 個月有期徒刑 (B) 7 年 8 個月有期徒刑
- (C) 5 年有期徒刑併科 100 萬元罰金 (D) 6 年有期徒刑併科 30 萬元罰金

### ※25-26 為題組：《公職人員選舉罷免法》讓民主殿堂成為民主戰場

立法院內政委員會2024年12月16日排審《公職人員選舉罷免法》(下稱《選罷法》)部分條文修正草案，其中包括「罷免同意票需高於當選票數」條款。當天，A黨立委阻擋B黨立委進入內政委員會，且A黨籍召委以3分鐘通過初審、宣布交付協商，引發B黨陣營不滿，抗議會議無效；而A黨則表示是對方先將內政委員會的電腦搬走，才進行不得已之舉，並回應「議事有沒有效請大家去看議事規則」。

立法院院會2024年12月20日也排審《選罷法》部分條文修正草案，最終，院會經提案、表決同意後，當日在二讀後接續三讀，通過《選罷法》增訂「罷免案提議人及連署人應附國民身分證正、反面影本」(第76條、第79條、第80條、第83條)，以及針對「偽造、假冒提議或連署者」訂立罰則(第98條之2)等條文。至於「罷免同意票需高於當選票數」條款，尚需經1個月黨團協商冷凍期後才能進到院會，故未排入當日議程。

25. 根據文中資訊，《選罷法》「罷免同意票需高於當選票數」條款的審議進度與下列何者法案所描述的修訂進度最接近？

- (A) 經司法及法制委員會審查完竣的《外役監條例》 (B) 確定法案名稱後三讀通過的《公益揭弊者保護法》
- (C) 因諸多爭議與質疑，仍在行政機關研議中的《數位中介服務法》
- (D) 被提出覆議後，由立法院長安排進行黨團協商的《憲法訴訟法》

26. 關於《選罷法》修法過程發生的事件，與民主國原則、法治國原則的配對說明，何者最為正確？

- (A) B 黨立委可主張會議不符合多數人民的意願，違反了法治國原則
- (B) A 黨召委說明程序都合乎議事規則，乃強調過程落實民主國原則
- (C) 不論執政或在野黨皆須依照法定程序修法，乃法治國原則的體現
- (D) 修法提高罷免通過的門檻，乃重視法治國原則更勝於民主國原則

### ※27-28 為題組：《家庭暴力防治法》修法三讀

2023年11月21日立法院三讀通過行政院衛生福利部提出之《家庭暴力防治法》(以下簡稱「本法」)部分條文修正草案，擴大同性婚姻姻親的適用範圍、性私密影像相關保護令等。婦女救援基金會對此描述：「是完整數位性暴力最後一個重要相關法案」。

這次修法的三個重點為：第一，將同性配偶的姻親關係納入受保護對象，由於過去同性婚姻並未準用《民法》親屬編，部分家庭成員無法適用本法。修法後，本法規範的姻親範圍不論直系或旁系，同性婚姻當事人與其配偶的四親等內親屬發生家庭暴力時，均受本法保護。

第二，增訂家暴被害人影像之保護措施。透過民事保護令聲請，被害人可要求對方交付或刪除性影像；另外，網路平臺業者若已知此為家庭暴力被害人的性影像，也應限制瀏覽或移除性影像，否則會有相關罰則。

第三，周延未同居親密關係暴力（俗稱恐怖情人）被害人的人身安全保護。未來將準用本法刑事程序相關規定，警察人員若發現恐怖情人現行犯時，應逕行逮捕。

本次修法還包括擴大保護令的聲請要件、延長保護令期限等，期許「家庭暴力的預防更早，社會中的暴力更少」。

27. 本文《家庭暴力防治法》修法通過前，該法所經歷之程序何者最正確？

(A) 行政院提出之草案，由程序委員會決定排入議程之順序

(B) 一讀會時，常設委員會主導，宣讀性影像相關審查報告

(C) 二讀會時，對恐怖情人定義出現爭議時，進行黨團協商

(D) 三讀會時，針對草案中欲修正的民法內容進行逐條審查

28. 依題文所述，《家庭暴力防治法》修法重點一，何者分析最正確？

(A) 法律應該採擴大解釋，才能因應社會規範的變遷 (B) 法律對於性別角色有明確規範，符合法治國原則

(C) 適用範圍擴至同性配偶家庭成員，會對其產生外在控制

(D) 家庭暴力防治法之於民法為特別法，因此應該優先適用

※29-30 為題組：

因應 AI 發展衝擊 立法院通過《人工智慧基本法》

2025 年 12 月，立法院三讀通過《人工智慧基本法》，「基本法」屬於框架性立法與政策宣言，為我國 AI 發展與治理奠定法律位階的規範架構，建立人工智慧治理的基本原則。該法明定政府在推動 AI 發展的同時，須兼顧人權保障、資訊透明、隱私保護與社會公平，並針對高風險應用建立管理與評估機制，因應科技快速發展可能帶來的倫理與風險。

隨著人工智慧被廣泛運用於醫療、金融、公共決策與網路平台，相關爭議逐漸浮現，包括個資蒐集、演算法歧視、錯誤決策責任歸屬等問題。過去多仰賴產業自律或道德呼籲，但在實務運作中，難以有效回應風險。政府因此透過立法將 AI 使用行為納入正式法律規範。

《人工智慧基本法》並未直接規範技術細節，而是確立治理方向，要求主管機關建立跨部會協調機制，並強化對可能影響生命、自由或重大權益之 AI 應用的監督。支持者認為，此舉有助於在創新與風險之間取得平衡；也有意見指出，後續如何落實與避免過度限制，仍有待觀察。

29. 過去對於 AI 應用多仰賴產業自律或道德呼籲，但在實務運作中難以有效回應風險，因此立法院通過《人工智慧基本法》，將 AI 使用行為納入法律規範。關於 AI 使用的社會規範，下列敘述何者正確？

(A) 產業自律屬於非正式的規範，其約束力來自於國家強制力的支持

(B) 從道德呼籲轉向法律規範，顯示社會控制機制由非正式轉為正式

(C) 產業自律是內在社會控制，效果通常優於外在社會控制的法律規範

(D) 以立法規範 AI，顯示社會控制旨在壓抑科技創新，而非保障權益

30. 《人工智慧基本法》所經歷的立法程序或規範性質，下列敘述何者正確？

(A) 法案於立法院三讀通過並經行政院副署，再交由總統公布

(B) 「基本法」的法位階高於憲法，因此可以作為修憲的依據

(C) 立法院三讀程序中，第二讀會主要在確認法案名稱與提案人

(D) 基本法屬於特別法的性質，其效力優先於所有一般法律適用

※31-32 為題組

我國自 2020 年開始，全國死亡率首度超越生育率，直至 2023 年仍然呈現人口負成長的情況，幾乎年年穩坐出生率世界倒數第一。少子化不僅影響勞動力短缺、降低國家人力資源，更會造成社會保險制度的崩壞、老年照護的困難甚至國防安全。究竟低出生率的原因為何？又該如何解決低出生率的問題？應仰賴全體社會營造友善婚育的環境。

● 不婚不生幸福一生？社會價值觀念影響生育率：

根據中研院的研究，不願生育的原因除了高昂的房價、就業不穩定、工時長與低薪等經濟因素，社會價值觀也影響甚遠。當女性地位突破傳統限制，接受高等教育、進入職場在公領域不斷發揮，但於私領域的婚姻家庭價值卻仍維持傳統父權思想，要求女性「生兒子」或者負擔照顧責任，這種價值衝突造成了婚育的困難。根據統計，臺灣 90% 以上的已婚家庭都會生育孩子，代表如果結婚率低，生育率也會連帶偏低。高社經背景的女性走入家庭養育孩子，要付出比男性更高的機會成本，也因此延緩結婚的時程。然而婚姻市場中「大齡女子」被認為不利生育而扣分，東亞儒家文化又普遍存在「先結婚後生子」的觀念，與其說女性不生，不如說價值觀衝突下女性不願／難以結婚，導致生育率低下。結婚與生育相互連動，是東亞國家特有現象，西方國家則截然不同。美國及英國非婚生比率超過 4 成，瑞典破 5 成，法國更高達 6 成，顯然婚姻關係不是生育必然先決條件。

●他山之石引以為鑑 除了補助更應營造友善環境：

為了拯救生育率，各國政府多以育兒津貼、托育補助、夫婦住房貸款補貼、不孕夫婦治療補貼等方法鼓勵生育，然而僅針對經濟因素的政策效果仍然有限。面臨同樣問題的日本，將支援結婚婚列為少子化計畫之一，除了積極推動單身聯誼活動，建立婚姻諮詢業者照認證制度，在長期單身調查中發現「缺乏成家基金」是年輕人結婚的最大阻礙，更在2016年設置結婚補助金。除了育兒的金援，彈性工時、不扣薪的育兒照顧假、倡導男性育兒與家事的付出，並建立強大的社會安全網，讓男女雙方都能在追求工作成就下承擔照顧家庭責任之外，轉換傳統觀念，開放《人工生殖法》讓非婚者也擁有生育權，或許也能有所助益。

31. 關於文中傳統婚姻家庭價值思想與影響的分析，下列何者正確？

(A) 要求女性負擔家庭照顧責任屬於正式外在社會控制 (B) 此類價值觀可能造成女性的職涯規劃因此受到限制  
(C) 女性若選擇不婚代表此類價值觀屬於內在社會控制 (D) 女性婚後專心照顧家庭此類價值觀屬於制度性歧視

32. 關於東亞國家出生率低下的原因，下列分析何者正確？

(A) 「人工生殖的科技發展，改變社會對於傳宗接代的價值觀念  
(B) 認為女性應以照顧家庭為重，侵害女性隱私權與受教育權  
(C) 生育與婚姻連動，透過法律嚴禁未婚生子的外在社會控制  
(D) 傳統婚姻家庭觀與現代婚姻觀念衝突，女性選擇不婚不生

※33-34 為題組：漫漫十年修法路 礦權與原民土地權之爭

●無視人與環境的霸王條款 礦業修法勢在必行

早期由於重視國家經濟發展，且開發亟需水泥，《礦業法》有不少便利業者的霸王條款。例如：申請礦業用地，只要採礦業者將租金放在法院「提存」，就可以先行使用他人土地，即使地主並未同意。關於礦業權展延的申請，除非有違法，否則政府都必須核准。隨著時空變遷，為平衡經濟與環境保護，我國於1994年制定《環境影響評估法》，要求土地開發前須進行環境評估；為保障原住民族土地權，2005年制定《原住民族基本法》規範原住民族諮商同意權。然而上述規範是否適用在既有礦場？在受眾人注目的亞泥新城礦權期限展延申請案中，凸顯了修法的必要性。

●亞泥礦權展限案引發關注 礦業修法的多重阻礙

2013年，民間團體開始關注《礦業法》，但直至2017年才終於進一讀會。同年3月，經濟部不顧當地太魯閣族人長期抗議，快速核准亞泥在花蓮新城山的礦權展限申請。當地族人提起行政訴訟，以亞泥未諮商取得同意為由，請求撤銷其礦權。法院認定即使《礦業法》未載明應取得諮商同意，但《原基法》已有規定，判決經濟部撤銷亞泥礦權展限，2021年最高法院行政法院駁回上訴，判決確定為原住民族諮商同意權首度勝訴案例。然而判決僅具個案效力，若要通案適用仍仰賴修法。2017年修正提案因行政院院長卸任而歸零，雖然於同年年底再次重啟，但過程不僅行政院草案來回修改多次，在經濟委員會審查11次、朝野協商4次均無法達成共識。2020年又因立委屆期不連續，修法再次歸零。

●三度闖關幾經協商終通過 有待監督與修正指引

2022年12月，經濟委員會完成《礦業法》審查，但其中29條爭議條文仍須送交協商。爭議焦點包括：礦權展限准駁期間能否持續挖礦、既有礦場補辦環評的監督，以及原住民族諮商同意權的期限範圍等。經過經濟委員會召集與立法院院長主持的兩次協商後，終於在2023年5月完成修法。新法刪除霸王條款，讓利害關係人與其他相關的主管機關可以加入程序表達意見或跨部審查，也增訂以體積為總量管制的停止採礦條件以及關閉礦場的計畫書。既有礦場也需要補辦環評以及踐行諮商同意，相關諮商同意的指引規範由主管機關公告外，更需要將相關採計畫公告於指定網站。但修法結果仍有未竟之處。雖然明文規範諮商同意權，但若諮商不成，僅是命令停工，在法規未限制諮商次數與期間之下，業主可能不斷舉辦諮商同意會，直到通過為止，對當地原住民來說是無止盡的騷擾。另停止採礦的關礦計畫，僅納入自然環境衝擊，卻忽視關礦後勞工與就業的衝擊。儘管《礦業法》修法，但是部落諮商規定仍有很多疑義，有待政府就相關細節制訂指引規範以及後續監督與落實。

33. 關於《礦業法》修法過程之分析，下列敘述何者正確？

(A) 修法僅包含委員案，不包含政府案 (B) 院會進行二讀表決過後即修法通過  
(C) 為求快速，二讀之後可逕付委員會 (D) 朝野協商即黨團協商，為正式程序

34. 關於文中提到相關法令規範的解釋適用，下列分析何者正確？

(A) 法院認為《原基法》為上位階法，故優先適用於《礦業法》  
(B) 法院基於程序法優先於實體法，認為應優先適用《原基法》  
(C) 法院是基於誠實信用而認定諮商同意權應適用於礦權展延上  
(D) 諮商同意指引不得牴觸上位階的《礦業法》以及《原基法》

※35-36 為題組

小茜關注《性別平等教育法》，從新聞得知立法院在2023年7月11日召開臨時會審議，並於同年7月28日通過修正案。這次修法重點包括：將軍、警、矯正及預備學校納入適用範圍，明確規定未成年禁止師生戀，若為成年學生，校長或教職員工不得利用不對等權勢關係發展親密關係、學生代表納入各級性平教育委員會成員，違反通報義務將有罰則。小茜好奇修法歷程，於是查詢立法院議事及發言系統，得到以下資訊：

資料一

討論事項：本院教育及文化委員會報告併案審查行政院函請審議「性別平等教育法修正草案」、本院委員等 16 人擬具「性別平等教育法第三十條條文修正草案」……、時代力量黨團擬具「性別平等教育法部分條文修正草案」、國民黨團擬具「性別平等教育法部分條文修正草案」及台灣民眾黨黨團擬具「性別平等教育法修正草案」。(中略)

主席：本案已完成△△，請宣讀△△結論。(中略)

主席：請問院會，對以上△△結論有無異議？(無)沒有異議。本案逐條討論時，逕依△△結論處理。現在進行逐條討論。(中略)

主席：照△△條文通過。全案經過○○，現依△△結論繼續進行□□。請宣讀經過○○之條文。(中略)

主席：□□條文已宣讀完畢，請問院會，有無文字修正？(無)無文字修正。

決議：性別平等教育法修正通過。

**資料二**

主席：出席委員 10 人，已達法定人數，現在開會。

討論事項：審查性別平等教育法相關草案，總共有 25 案 (中略)

主席：今天會議作如下決議：……、四、性別平等教育法相關修正草案已審查完竣，部分條文未具共識，須交由△△後，併案擬具審查報告提請院會討論，院會討論時，由召集委員補充說明。本次會議議事錄授權主席確認後，即上傳立法院全球資訊網公開。

**資料三**如右表

35. 關於《性別平等教育法》修法之內容，下列分析何者正確？
- (A) 納入更多特定學校類型，以符合憲法保障之言論自由
- (B) 明文禁止校內未成年師生戀，為法律保留原則之展現
- (C) 將學生代表納入性平會代表，促進學生結社自由發展
- (D) 違反通報義務之法律責任，是一種內在社會控制類型
36. 關於上述資料中△△是什麼程序？(A) 委員會審查 (B) 二讀 (C) 黨團協商 (D) 三讀

議案內容	會議名稱	決議/決定
十、本院委員等 16 人擬具「性別平等教育法部分條文修正草案」請審議案	立法院第 10 屆第 7 會期第 2 次臨時會	交教育及文化委員會審查
十五、本院時代力量黨團擬具「性別平等教育法部分條文修正草案」請審議案	立法院第 10 屆第 7 會期第 2 次臨時會	交教育及文化委員會審查

**※37-38 為題組**

知名網紅小玉涉嫌利用網路換臉技術，將女性藝人、其他網紅甚至是立法委員等人頭像移花接木成性愛影片，於其經營之社群會員群組販售 變臉性愛影片，不法所得逾新臺幣上千萬元。刑事局專案小組經長期偵蒐，於 2021 年 10 月見時機成熟，持搜索票到小玉租屋處執行搜索行動，現場拘提主嫌小玉、同夥莊男及耶女。小玉所使用的換臉技術為 deepfake (深偽技術)，是透過人工智慧 (AI) 中的 deep learning (深度學習) 技術所創造出來的 fake (偽造) 訊息。深偽技術可以用於影像及聲音，只要蒐集欲仿造對象的影像與聲音素材，就能製造出栩栩如生的假影片。深偽技術其實已經問世 4 年之久，自 2017 年開始，即有創作者透過換臉、控制嘴唇及臉部表情、植入假造的音源檔等，製作色情、政治宣傳或嘲諷的影片。在臺灣爆發小玉涉嫌換臉風波前，《神力女超人》女主角蓋兒加朵及美國前總統歐巴馬也都是受害者。前陣子 YouTube 流傳 歐巴馬痛斥川普的影片，幕後黑手就是利用深偽技術模仿歐巴馬，讓觀看影片的民眾都認為這些話真的都是歐巴馬所說。小玉風波爆發後，民眾紛紛大力撻伐小玉的駭髒行為。高雄市議員黃捷指出之前就有人會利用換臉技術將知名人物置入為謎片女主角，這種新型犯罪型態持續出現在網路中。然而，此次主嫌為小玉令黃捷非常震驚，因為小玉是擁有百萬粉絲的 YouTuber，受眾很廣、很有影響力，很多年輕人也會學習他的行為，但他卻做出踐踏女性尊嚴，用欺負女性的方式來謀取暴利，除了違法之外，更多的是對女性的傷害。

立法委員高嘉瑜也明確指出數位性暴力應立法管制。高嘉瑜認為，未經本人同意而發布的 AI 換臉影片，其實就是一種變相散播假訊息的行為，但綜觀現行針對假訊息管制的法規中，卻僅針對災害、食品、傳染病等假訊息才有做特別規範，對於 AI 換臉造假的影片目前仍無法可管。未來將參考國際作法，致力於推動臺灣 AI 換臉管制的相關法令，包括建立獨立的網路影像真實性查核單位、提高網路平臺對於用戶發布內容之 監督責任、將 AI 換臉的濫用視為獨立犯罪行為，並明文規範其刑事、民事與行政責任。

37. 關於題文中的敘述，以下何者正確？

- (A) 民眾紛紛大力撻伐小玉的駭髒行為並沒辦法維護社會秩序 (B) 我國現行針對假訊息管制的相關法規已將數位性暴力納入 (C) 濫用深偽技術所帶來的負面影響目前僅出現在色情影片中 (D) 深偽技術的濫用促成此次關於假訊息管制的修法立法討論
38. 根據題文，有關高雄市議員黃捷所述「新型犯罪型態」及立法委員高嘉瑜指出之「數位性暴力應立法管制」等言論，是在說明目前的社會規範面臨到了哪些挑戰而需要改變？(多選)

- (A) 傳統的性別角色分工固著 (B) 人工智慧的應用侵犯隱私 (C) 生物科技引發倫理的議題
- (D) 新科技網路犯罪未有規範 (E) 目前的社會規範侵害人權

## 二、多選題：(每題2.5分)

39. 2023年大法官判決指出，婚姻是配偶雙方為經營共同生活之目的，並使雙方人格得以實現及發展，成立具有親密性及排他性之結合關係，受《憲法》第22條婚姻自由的保障，而《憲法》保障的婚姻自由，不僅涵蓋結婚自由、維持婚姻關係，亦包含解消婚姻的自由，因此判定《民法》限制有配偶（指夫妻中主要導致婚姻無法維持的一方，像是對另一方外遇、家暴、離家）請求離婚的規定違憲，與《憲法》保障婚姻自由的意旨不符。上述解釋內容中出現哪些法律解釋的方式？
- (A)文義解釋 (B)歷史解釋 (C)客觀解釋 (D)目的解釋 (E)事實解釋
40. 為洗刷「行人地獄」惡名，立法院於2023年4月14日三讀通過《道路交通管理處罰條例》部分條文，其中就汽、機車未停讓行人的部分，將罰鍰上限提高至新臺幣6,000元。此條例的修正草案提出並排入議程後，期間還歷經交通委員會初審、黨團協商等程序，最終完成修法。關於此次修法的歷程，下列哪些敘述正確？
- (A)基於主權在民，此草案應為人民連署提案  
(B)提案後由程序委員會排入議程以交付審議  
(C)第一讀會後法案交由交通委員會進行初審  
(D)立法院長召集黨團協商之後召開第二讀會  
(E)黨團協商已建立共識，故不交付第三讀會

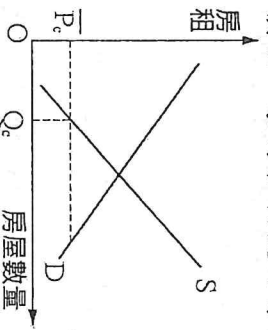
高雄市立鼓山高中 114 學年度第 2 學期高二公民與社會第一次段考試題

2B 畫卡/公民代碼 18/適用班級 501-502/範圍 L1-L2.2

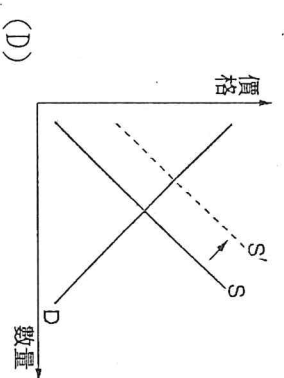
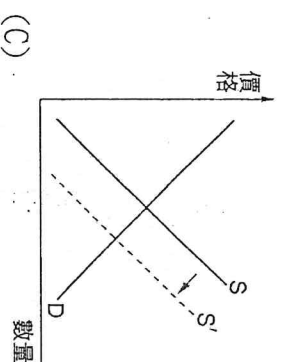
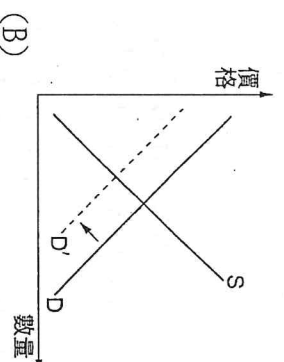
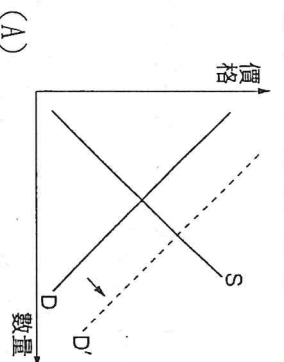
一、單選題：(2 分/58%)

五年 \_\_\_\_\_ 班 \_\_\_\_\_ 號

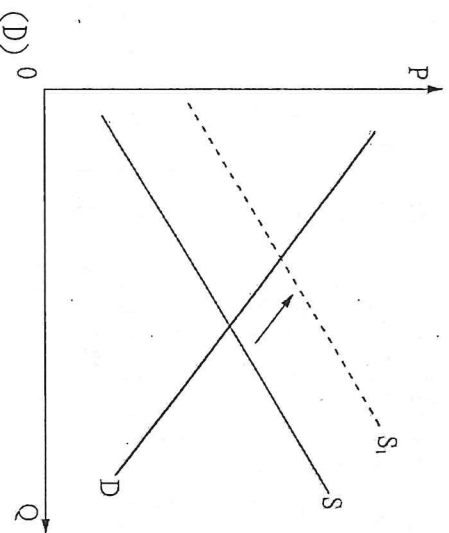
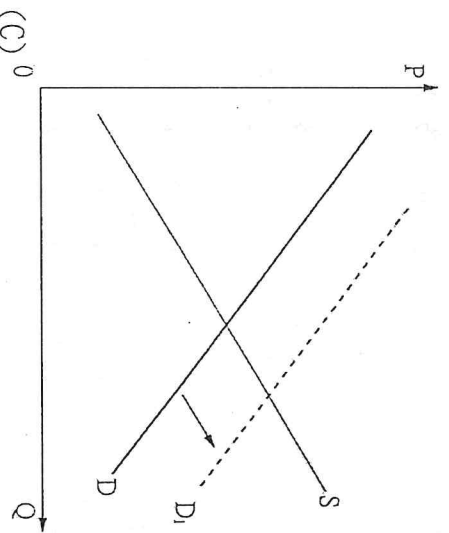
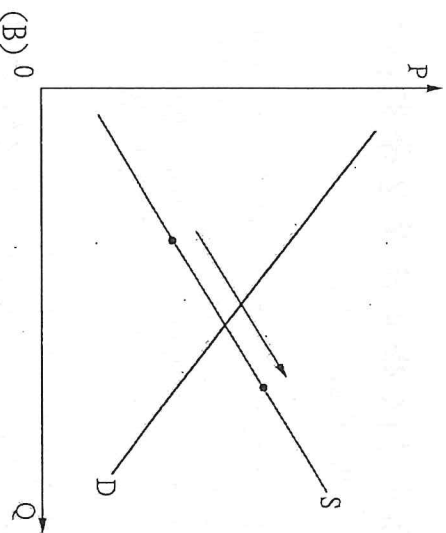
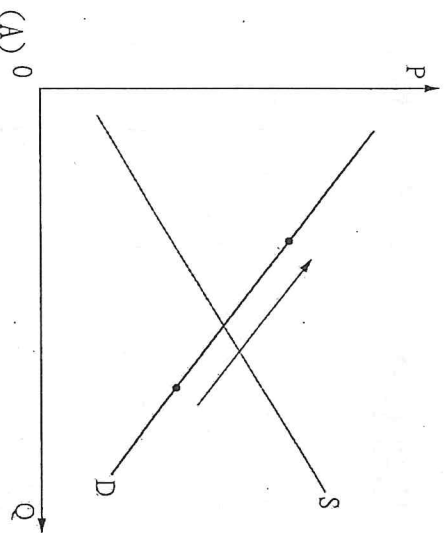
- ( ) 1. 李先生有塊魚塭想將之出租，養蝦的許大哥願付月租 50,000 元，養鰻魚的黃大孀願付月租 45,000 元，養虱目魚的陳小刀每個月願付月租 40,000 元。請問：李先生把魚塭租給許大哥的機會成本為何？  
 (A) 50,000 元 (B) 45,000 元 (C) 40,000 元 (D) 35,000 元
- ( ) 2. 阿板和小喬是搬運工，阿板一天可以搬 6 臺鋼琴或 18 個紙箱；小喬一天可以搬 4 臺鋼琴或 28 個紙箱。請問：何者在搬運鋼琴方面具有比較利益？  
 (A) 阿板 (B) 小喬 (C) 兩者均有 (D) 兩者均沒有
- ( ) 3. 高分補習班正在評估是否多聘請一位補教名師。該名師不論今年或明年聘請，補習班均須支付 200 萬元的年薪，若今年聘請該名師，可為今年創造額外的 400 萬收入。請問：明年才聘請該名師的機會成本為何？  
 (A) 200 萬元 (B) 400 萬元 (C) 600 萬元 (D) 800 萬元
- ( ) 4. 下列何者不會造成商品「需求」(demand)的變動？  
 (A) 互補品與替代品的價格 (B) 對未來價格的預期 (C) 消費者的人數 (D) 商品在當下的價格
- ( ) 5. 在投入與產出之間的流程，主要可利用到「土地」、「勞力」、「資本」及「企業才能」等四種生產要素，下列敘述何者正確？  
 (A) 現年 75 歲的某鄉鎮農會理事長阿坤，60 年來維持每天耕作習慣文中阿坤耕作的田屬於「資本」 (B) 計程車行每天叫車數量約 2,000 通，民眾只要打電話叫車就可免費加入會員，還可以享受跳錶金部分全天 75 折車資優惠文中計程車跳錶器屬於「勞力」 (C) 將捕魚觀光化的年輕船長讓客人隨船捕魚，他想讓一般人了解漁夫的辛苦，進而珍惜大海資源文中的大海資源屬於「土地」 (D) 外商公司的例行會議中，員工提出創新的行銷手法屬於生產過程中的「資本」
- ( ) 6. 在要素市場中，下列何種敘述為正確？  
 (A) 橫軸為工資，縱軸為勞工數量 (B) 在沒有任何限制下，「願意出社會工作的人數變多」會造成勞工「供給量」增加 (C) 在沒有任何限制下，「工資」增加會使「廠商僱用更多勞工」 (D) 自由市場下，「願意升學的人數變多」會造成要素「工資」增加
- ( ) 7. 所謂「需求量」的變化是一物價格的變動，引起該物需求數量的變動。「需求」的變動則是指價格與需求量之間的關係變化。關於需求量和需求的變動，下列敘述何者正確？  
 (A) 價格的改變導致需求的改變 (B) 所得的變動導致需求的變動 (C) 偏好的改變導致需求量的改變 (D) 互補品的價格變動導致需求量的改變
- ( ) 8. 假設政府為照顧低收入戶，實施「房租價格管制」。附圖為政府採取房租管制下的市場供需圖形， $P_c$  為管制的房租價格， $Q_c$  為管制後的房租出租數量。依據附圖，下列敘述何者錯誤？



- (A) 租屋市場有超額供給 (B) 房東供給出租房屋的意願很低 (C) 價格低於均衡價格下，房東會較不願意保養房屋 (D) 政策若沒有嚴格執行可能會使黑市交易猖獗
- ( ) 9. 臺北市房價居高不下，不少人也因臺北市購屋負擔過大，轉進宜蘭購屋置產。請問：此一行為對臺北市房市供需情形，造成何種影響？



- ( ) 10. 比較利益法則的「比較」即是「相對」之意，亦即不是「絕對」的觀念。從個人生涯規劃、企業主僱用員工、國際分工，以至眾所周知的世界貿易組織 (WTO) 入會問題等，都和這個觀念有關。根據比較利益法則，下列敘述何者正確？  
 (A) 先進國家的所有產品均具比較利益 (B) 每單位產出的機會成本較高者屬之 (C) 一國應出口其具有比較利益的產品 (D) 落後國家的所有產品均不具比較利益
- ( ) 11. 氣象預報瑪麗亞颱風可能襲台，加上果菜批發市場公休，民眾搶購蔬菜，導致價格略漲 6% 到 10%。請問以下哪個圖形最能解釋此一現象？



( ) 12. 李媽媽在夜市租了一個店面開設小吃店，她由家裡搬來 1 套桌椅，並添購 5 套桌椅。每個週末，她在大學讀企業管理的兒子也會到店裡幫忙。請問：下列有關生產要素的敘述，哪項是正確的？

(A) 所承租的店面屬於土地 (B) 由家裡搬來的桌椅屬於資本 (C) 李媽媽對小吃口味的更新屬於勞動 (D) 李媽媽的兒子週末付出的時間屬於企業能力

( ) 13. 內政部為推廣孝行觀念，獎勵孝行楷模，發掘感動人心的孝行事蹟，鼓勵民眾見賢思齊，於生活中具體展現慈孝行動，營造溫馨、和樂家庭，增進社會祥和，舉辦全國孝行獎活動，將選拔孝行楷模並舉辦表揚典禮，孝行楷模每人致贈獎座 1 座及獎金 5 萬元。內政部的政策是如何採用誘因而進行推廣孝行？

(A) 採用金錢的正向誘因、非金錢的正向誘因 (B) 採用金錢的正向誘因、非金錢的負向誘因 (C) 採用金錢的負向誘因、非金錢的正向誘因 (D) 採用金錢的負向誘因、非金錢的負向誘因

( ) 14. 受到網路上流傳的外送員月入 10-18 萬新聞吸引，上班族小城決定放棄 70,000 元的月收入，花 10,000 元購買各式裝備投入外送行業，但第一個月每天工時長達 13 小時，收入卻只有 35,000 元，且必須自行吸收 2000 元的油錢及 1000 元的手機費。請問：小城成為外送員的第一個月，所付出的機會成本為多少？

(A) 13,000 元 (B) 48,000 元 (C) 70,000 元 (D) 83,000 元

( ) 15. 請以機會成本的概念，分析下列幾句經典名言，哪些說明較為正確？

(甲) 希臘哲學家亞里斯多德說：「吾愛吾師，但吾更愛真理。」在亞里斯多德的心中，真理的重要性大過於老師，老師是亞里斯多德選擇真理的機會成本。

(乙) 胡適說：「愛情的代價是痛苦，愛情的方法是忍受痛苦。」選擇愛情就得忍受痛苦、犧牲快樂，因此快樂是選擇愛情的機會成本。

(丙) 徐志摩說：「詩人除了作夢之外，別無其他正事可做。」在徐志摩眼中，若詩人沒有選擇，則詩人整天作夢沒有機會成本。

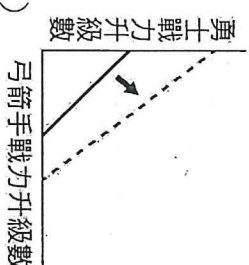
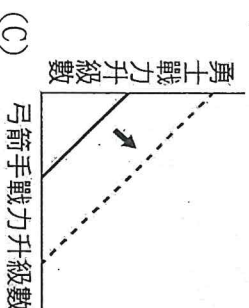
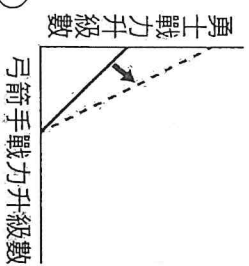
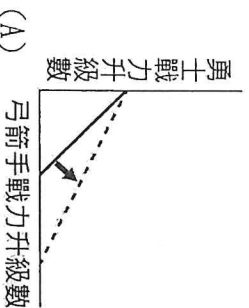
(丁) 詩詞《金縷衣》寫道：「花開堪折直須折，莫待無花空折枝。」在作者眼中，時間的機會成本就是綻放的花朵。

(A) 甲乙丙 (B) 甲乙丁 (C) 乙丙丁 (D) 甲乙丙丁

( ) 16. 隨著科技技術的發達，工業 4.0 的時代悄悄來臨，在自動化生產的浪潮下，機械手臂能夠取代部分勞動力，來減輕人力負擔，並且提升生產效率。請問：機械手臂屬於生產要素市場中的哪一種要素？

(A) 資本 (B) 勞動力 (C) 自然資源 (D) 企業家精神

( ) 17. 某新款遊戲中有兩種角色可以選擇，分別是勇士和弓箭手。原本小新玩一小時遊戲，不管是只選擇勇士或只選擇弓箭手，最高可讓該角色的戰力升五級，但一小時內也可以任意轉換角色。某日小新抽到弓箭手升級速度加倍的一小時優惠，若以弓箭手戰力升級數為橫軸，勇士戰力升級數為縱軸，並以實線代表獲得優惠前每一小時的生產可能線，在其他條件不變下，下列哪一個示意圖最適合用來顯示此優惠對小新一小時生產可能線的影響？



( ) 18. 假設珍珠奶茶一杯賣 60 元，阿國在一週內只會買 1 杯，(甲)這 1 杯珍珠奶茶就是他在價格為 60 元時的需求量，

(乙)這表示消費1杯珍珠奶茶，帶給阿國的滿足至少大於或等於60元。若降價為50元，一週內他會買2杯珍珠奶茶。(丙)當價格持續下降，阿國會因為覺得變便宜，而持續增加一週內購買珍珠奶茶的數量。在價格下降到20元時，他一週內則會買4杯珍珠奶茶。而隨著珍珠奶茶的購買數量增加到一個極限，(丁)每增加購買1杯珍珠奶茶所帶給阿國的滿足感會逐漸增加。同學上課做了以上的筆記，但因為不專心筆記有錯誤的地方，請協助將錯誤的地方選出來。

(A)(A)畫線處甲 (B)(B)畫線處乙 (C)(C)畫線處丙 (D)(D)畫線處丁

- ( ) 19. 2020年1月總統選舉過後，全球新冠病毒肺炎疫情隨即爆發，隨著新冠病毒肺炎疫情延燒，各行各業都受到衝擊，紛紛放起無薪假，勞動部的纾困振興特別預算中，總共編列了41.25億，從原本500億的「就業安定基金」分出了30億，再從原本150億的「就業保險基金」擠出一點錢，加上部分勞動部本身預算，就是這次的特別預算的內容。下列有關上述新聞的敘述，何者正確？

(A)突發事件須動用到纾困金時，行政院可自行要求人民多繳稅，以因應需求 (B)纾困金的挪用，產生了排擠效應，說明了資源有限，因此必須做選擇 (C)政府在預算的編列上必須以要給予人民的補助或津貼為優先 (D)對政府來說，讓人民看到政府把錢用於人民，就能夠贏得總統選舉的選票，因此願意提供纾困金 (E)經濟學是一門分析選擇的科學，因此選擇是經濟學中相當重要的一項基本概念。以下是課堂上同學針對選擇議題的相關討論，選出誰的發言是正確的？

- ( ) 20. 經濟學是一門分析選擇的科學，因此選擇是經濟學中相當重要的一項基本概念。以下是課堂上同學針對選擇議題的相關討論，選出誰的發言是正確的？
- (A)小新：「因為人類的慾望無窮，因此資源的使用必須多用途，以便人類運用。」 (B)正男：「富人難以感到資源有限的問題，因為他們資源充沛，不需做出選擇。」 (C)阿呆：「選擇就是取捨的問題，為了取而做出的捨，捨就是取的機會成本了。」 (D)妮妮：「經濟學的機會成本，只計算捨棄掉最佳機會的價值，不含會計成本。」

- ( ) 21. 小琳是一個超級資優生，出身單親家庭，由她的父親獨力撫養。父親為了愛女的發展，打算讓她轉入一所明星高中。如果小琳留在原本的學校，因家境清寒免繳學費，明星高中的學費則是一年12萬元，但小琳覺得如此一來開銷太大，對父親而言會是沉重的負擔。該所明星高中的校長則表示，若小琳願意就讀，則可提供小琳全額的獎學金。該明星高中提供小琳獎學金，對小琳就讀該校的機會成本有何影響？

- (A)機會成本不變 (B)機會成本增加 (C)機會成本減少 (D)資料不足，無法判斷
- ( ) 22. 小明與小華生產麵包與蛋糕的時間如附表。請問：下列敘述何者正確？

	小明	小華
10個麵包	10分鐘	20分鐘
10個蛋糕	60分鐘	100分鐘

(A)小明生產麵包有比較利益 (B)小華生產1個麵包的機會成本是5個蛋糕 (C)小華生產麵包與蛋糕有絕對利益 (D)小明生產麵包與蛋糕上有比較利益

- ( ) 23. 大寶和二寶在做摺紙，他們照以前的經驗，在其他條件不變之下，兩人做摺紙所需的時間如下表。請判斷下列敘述何者正確？

	大寶	二寶
摺狗(一隻)	10分鐘	6分鐘
摺鳥(一隻)	20分鐘	15分鐘

(A)大寶具有摺狗的絕對利益，二寶具有摺鳥的絕對利益 (B)大寶具有摺狗的比較利益，二寶具有摺鳥的比較利益 (C)大寶摺一隻狗的機會成本，比二寶摺一隻狗的要高 (D)二寶摺一隻鳥的機會成本，比大寶摺一隻鳥的要低

- ( ) 24. 小蔡老闆發現，購買冷氣機的人通常會加購電風扇，然而冷氣購買率高會減少人們對除濕機的消費。在這個狀況下，請問：若冷氣的價格下降時，則市場上最可能出現下列何種情況？

(A)消費者對除濕機的需求增加 (B)消費者對電風扇的需求增加 (C)消費者對冷氣機的需求增加 (D)消費者對冷氣機的偏好提高

- ( ) 25. 2022年7月斯里蘭卡發生嚴重通貨膨脹，(甲)失業率飆高，(乙)人民連取得食物都成了一個問題。大部分孩童賴以維生的食物缺乏蛋白質，奶粉大多仰賴進口，但商店架上的奶粉已經接連幾個月都缺貨。最終，(丙)社會不滿的情緒一併爆發，抗議民眾湧進總統官邸和總理住家，(丁)兩人宣布願意辭職下臺。抗議民眾表示：「當我們看到房子裡的奢華，很明顯的，他們根本沒有時間為國家做事。」對於上述內容之分析，下列選項何者最為正確？

(A)(甲)指勞動市場出現供不應求的現象 (B)(乙)顯示政府未能保障人民之社會權 (C)(丙)可以視為人民行使參政權的表現 (D)(丁)是政府人員負擔法律責任的行為

- ( ) 26. 附表為我國近十年來塑膠袋及塑膠餐具的生產一覽表。其中，塑膠袋包含塑膠夾鏈袋、塑膠包裝袋及塑膠多層膜袋等；塑膠餐具則包含塑膠碗、塑膠盤、塑膠杯(蓋)、塑膠筷、塑膠匙等(資料來源：經濟部統計處工業產銷存動態調查產品統計)。根據該表，我們應該如何理解政府的限塑政策？

項目別	生產量		生產量年增率(%)	
	塑膠袋(公噸)	塑膠容器(千元)	塑膠袋(公噸)	塑膠容器(千元)
103年	227,963	37,828,356	13.98	12.53
104年	226,211	37,747,423	-0.77	-0.21
105年	226,061	40,637,637	-0.07	7.66
106年	254,781	41,834,796	12.70	2.95
107年	270,372	44,433,789	6.12	6.21
108年	268,131	45,047,544	-0.83	1.38
109年	283,996	46,562,074	5.92	3.36
110年	316,016	48,095,388	11.27	3.29
111年	314,366	46,874,887	-0.52	-2.54
112年	292,367	45,256,701	-7.00	-3.45
113年	316,905	49,221,088	8.39	8.76

(A)隨著限塑政策的推行，我國的塑膠用品使用已經大幅度減低 (B)塑膠袋生產量年增率時而為負，代表限塑政策之推行有成效 (C)我國政府對於環境及減塑問題倡議有成，民眾亦能改變習慣 (D)政府提供的誘因或罰則，不足以使民眾改變塑膠的使用習慣

( )27. 根據台電財務報告，即使政府每年都提供補助、我國亦於近兩年來四次調漲電價，我國111年及112年的虧損金額仍分別為2,272億及1,977億元。環保團體表示，「政府應合理調漲電價，尤其是針對高耗能產業，有效落實節約用電」。請問，環保團體的說法，反映何種資源分配的考量？

(A)真正落實使用者付費、才能達到節能 (B)調整用電大戶的電價，才能增加盈餘 (C)為追求最大利潤，政府應該調漲電價 (D)對於廠商來說，應努力消弭政府虧損

( )28. 大雄準備500元買一束玫瑰花送給靜香，花店老闆開價一束550元、最低願售價格為400元，最後兩人以470元成交。大雄的消費者剩餘應為多少？

(A)30元 (B)50元 (C)80元 (D)0元

( )29. 為使社會生活更加順暢，有賴政府對個人私有財產及交易安全制定合理的規範，促使資源在交易「市場」中被更有效地運用，關於此市場所形成的經濟體系，以下敘述何者正確？

(A)產品市場是買賣土地和勞動等「生產要素」的場所 (B)生產要素市場是在交易「財貨」與「勞務」的地方 (C)廠商是生產行為的決策者，以創造最大利潤為目標 (D)家戶跟廠商相對，不會同時扮演家戶及廠商的角色

二、題組：(3分/42%)

1. 「給情人一個特別情人節禮物吧，在這特別情人節裡，不管工作多麼忙，也要記得送御用情人節花束給情人，由9朵維瓦帝玫瑰花象徵長久久久，包裝成的情人節花束是情人節送花的首選花禮喔！」請問：

( ) (30)在情人節前夕，玫瑰花的需求線會如何變動？ (A)右移 (B)左移 (C)不變 (D)下降。

( ) (31)承上題，如果玫瑰花的價格不升反降，可能會是什麼原因？ (A)供給線沒有變動 (B)供給線右移的程度超過需求線右移的程度 (C)供給線左移的程度超過需求線左移的程度 (D)供給線左移但需求線不變。

2. 剛找到工作的小李還未養成早起的習慣，每天早上(a)都會買一杯咖啡提神，然而他也不想固定將(b)每個月薪水存1

萬元起來，做為他和美芳的結婚基金。小李的父親退休後決定開一家小餐館，但仍在尋找廚師，(C)繼承家傳手藝的老傳來應徵後立刻獲得任用，(d)並且新開「老李餐館」，每天提供口味道地的傳統菜餚，人客因此絡繹不絕。請回答下列問題：

( ) (32)根據題幹中所敘述的經濟行為，老李和小李分別扮演經濟活動中的何種角色？ (A)廠商、家戶 (B)家戶、廠商 (C)生產者、廠商 (D)消費者、廠商。

( ) (33)上述劃底線的經濟行為(a)、(b)、(c)、(d)，分別屬於經濟行為流程圖中的哪些部分？ (A)乙、戊、丙、甲 (B)甲、戊、丁、己 (C)乙、丙、丁、己 (D)甲、丙、丁、戊。

3. 阿鷓與阿超決定參加青年返鄉從事友善耕作，假設阿鷓與阿超生產力分別如附表，請回答下列各題：

	生產一斤稻米	生產一斤水果
阿鷓	10小時	5小時
阿超	1小時	8小時

( ) (34)如附表，阿鷓與阿超，誰在生產稻米上具有比較利益？ (A)阿鷓 (B)阿超 (C)兩人皆有比較利益 (D)兩人皆無比較利益

( ) (35)若阿鷓和阿超各自用20小時生產稻米，20小時生產水果，則兩人總共可以生產出多少斤的稻米和水果？ (A)22斤米及6.5斤水果 (B)20斤米及2.5斤水果 (C)2斤米及4斤水果 (D)18斤米及1.5斤水果

( ) (36)若阿鷓用40小時來專業化生產水果，阿超用40小時來專業化生產稻米，則兩人總共可以生產出多少稻米和水果？ (A)40斤米及8斤水果 (B)20斤米及2.5斤水果 (C)20斤米及40斤水果 (D)22斤米及6.5斤水果

4. 自2017年桃園機場捷運通車起，北部的機場聯外交通已漸趨完整，往來桃園機場的旅客乘車選擇也更加多元，而通車後受到衝擊最大的就屬客運業者，過去熱門的臺北車站往返桃園機場路線載客率驟減6成，但由於現在盛行廉價航空紅眼航班，客運搭乘人次僅在深夜機捷未營運時段較多，為因應此現象，客運業者計畫拉長白天班距，甚至不排除推出票價優惠措施，希望可以搶救不斷流失的客源。

( ) (37)2017年桃園機場捷運通車之後，客運業者和計程車業者受到極大衝擊，請問：機場捷運和客運業者及計程車業者間，於經濟市場的相關性與下列何者相同？

(A)當汽車的市場價格調降後，車內導航的需求會因此改變 (B)當冷氣的市場價格調漲後，風扇的需求將會因此改變 (C)當桌上型電腦的市場價格調降後，鍵盤的需求將會因此改變 (D)當咖啡的市場價格調漲之後，奶精的需求將會因此

改變

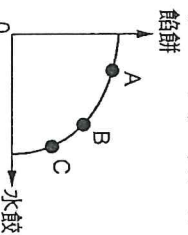
( ) (38) 若客運為了因應客源流失的現象，決定降低售價，則此時對於機場捷運來說，將會受到何種影響？  
(A) 消費者對機場捷運的需求量將會因此增加 (B) 消費者對機場捷運的需求量將會因此減少 (C) 消費者對機場捷運的需求將會因此增加 (D) 消費者對機場捷運的需求將會因此減少  
( ) (39) 客運業者擔心一旦降價之後很難再漲回原本的價格，因此在降價優惠前決定先拉長班距，請問：此舉帶來的供給變動原因與下列何者相同？

(A) 印刷廠添購最新科技設備，每小時產量將比過往增加 10% (B) 嚴重特殊傳染性肺炎 (COVID-19) 疫情影響，百貨公司門可羅雀，商家紛紛縮短營業時間 (C) 颱風將臨，商家紛紛囤貨，希望可在颱風後賺取高額利潤 (D) 專家指出今年高麗菜價格將高漲，許多農民選擇改種高麗菜

5. 小梅喜歡吃麵食，所以常常用麵粉來包水餃或做餛飩。假設小梅用 1 斤麵粉的量，可以做出附表水餃和餛飩的數量，請依此回答問題。

水餃	25	22	X	13	Y	0
餛飩	0	1	2	3	4	5

( ) (40) 表中的 X、Y 數量，最有可能是下列何者？ (A) 18、6 (B) 17、7 (C) 18、7 (D) 17、6  
( ) (41) 若將小梅做水餃和餛飩的組合畫成下圖的生產可能曲線，關於此生產可能曲線的說明，何者正確？



(甲) 多生產一單位水餃的機會成本： $A < B < C$ ；(乙) 多生產一單位餛飩的機會成本： $C > B > A$ ；(丙) 在不同生產組合的使用效率上： $C < B < A$ ；(丁) 在不同生產組合的使用效率上： $A = B = C$  (A) 甲乙 (B) 乙丙 (C) 乙丁 (D) 甲丁

6. 2025 年 1 月 21 日，立法院完成三讀 114 年度中央政府總預算案。雖總預算歲出 3 兆 1324 億，寫下史上新高，不過被刪減了 2075 億也創下新高，占總預算的 6.64%。行政院長隨後即宣布，不影響牽涉弱勢福利政策之部分、但須凍結 50% 之地方補助項目，引發各縣市府反彈。

( ) (42) 以資源分配的角度，我們應該如何理解行政院長的發言？ (A) 刪減後的預算是自由財 (B) 刪減後的預算是經濟財 (C) 我國歲入不足支付歲出 (D) 編列預算不需做出選擇  
( ) (43) 我們應該如何理解行政院長在地方補助及弱勢福利項目、預算分配的考量？ (A) 補助地方政府沒有直接效益 (B) 補助地方政府之總效益較低 (C) 提供弱勢福利項目淨效益高 (D) 除成本效益亦考量公平正義

高雄市立鼓山高中 114 學年度第 2 學期高二公民與社會 第一次段考試題

2B 畫卡/公民電腦代碼 18/應考班級 505-507/範圍總複習 U1-U2

一、單選題(2.5 分/80%)

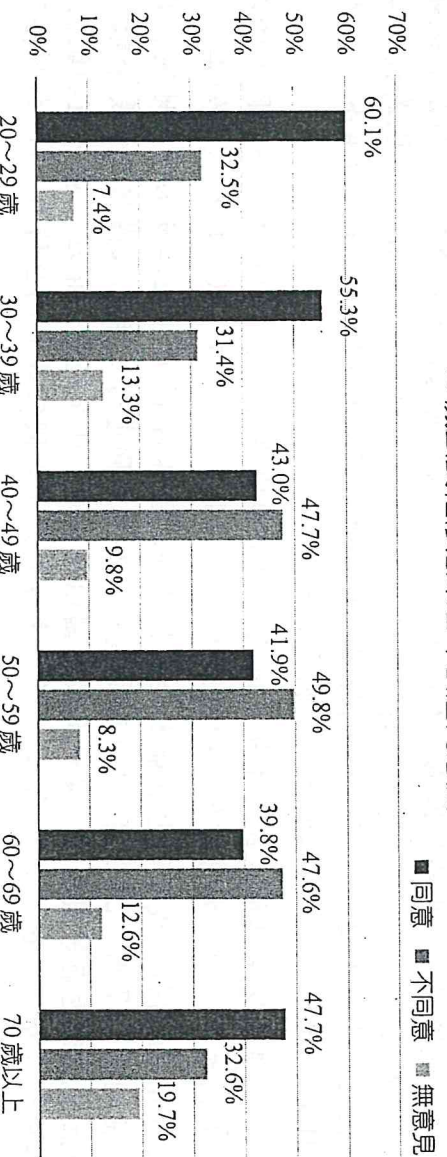
五年 班 號

1. ( ) 首度改編國產電玩的電影《返校》，劇情描述舉華中學教師張明暉在校內儲藏室創辦了讀書會閱讀「禁書」，成員包括音樂老師殷翠涵、學生魏仲廷等人。不過，當時國民黨政府以防止共產主義滲透等理由頒布《戒嚴令》，路上隨處可見「保密防諜，人人有責」、「嚴禁組黨結社」等標語，組織地下讀書會甚至可能構成「叛亂罪」。依據上述訊息判斷，《戒嚴令》限制了張明暉等人的何種公民權利？ (A) 自由權 (B) 文化權 (C) 政治權 (D) 社會權
2. ( ) 2022 年 3 月，某國立法院表決通過「18 歲公民權」修憲案，並於同年 11 月舉行該修憲複決公投。恭民為了解該國民眾的看法，上網蒐集了 2 份於同年 8 月進行的民調。已知某國的修憲程序與我國相同，修憲複決的通過門檻為「有效同意票超過選舉人總額半數」，根據以下 2 份民調資料推論，下列敘述何者正確？

民調一：18 歲公民權修憲案民眾同意度

投票意向	同意	不同意	無意見	總計
會投票	28.4%	25.2%	4.1%	57.7%
不會投票	7.1%	19.6%	3.5%	30.2%
未表態				100%

18 歲公民權修憲案各年齡層同意度



- (A)「18 歲公民權」同意者大於不同意者，修憲案則可通過 (B) 據同意度與投票意向，本案離通過門檻仍存在一定差距 (C) 年齡層愈低，對於「18 歲公民權」修憲案的同意度愈高 (D)「18 歲公民權」的修憲案議題獲跨黨派的選舉權人支持

3. ( ) 美國人民申請護照時，除了要在申請表上填寫姓名之外，還需要填寫性別：M 代表男性、F 代表女性。美國政府宣布，自 2022 年 4 月 11 日起，民眾可在申請護照時選擇性別 X，代表非二元性別人士。下列何者為此措施最主要的目的？ (A) 肯認多元的性別認同 (B) 促進並彰顯言論自由 (C) 模糊民眾的性別認同 (D) 保障少數性傾向權益
4. ( ) 根據現行規定，新住民來臺後，若是有工作的受僱者可從受僱日起參加全民健保，其餘應自持有居留證明文件滿 6 個月才可參加。有論者認為，考量新住民孕婦有產檢需求，應該將未納保的新住民孕婦納入全民健保。下列何者最能支持該論點的理由？ (A) 使新住民也能被平等對待，且權利獲得充分的保障 (B) 促進新住民與我國國民的交流，使其融入我國社會 (C) 對於處境較不利的新住民群體給予優惠性差別待遇 (D) 使新住民配偶也能建立與我國國民一樣的國家認同

5. ( ) 澳洲總理艾班尼斯 (Anthony Albanese) 在泰國曼谷參加 2022 年亞太經濟合作會議 (APEC) 時表示：「跨太平洋夥伴全面進步協定 (CPTPP) 是獲公認國家之間的關係，臺灣在這裡 (APEC) 只是一個經濟體。」隨後，澳洲媒體解讀這像是在暗示澳洲可能不會支持臺灣加入 CPTPP，甚至質疑此舉是在「對中國讓步」。艾班尼斯的發言也反映出我國在參與國際社會時的何種現實？ (A)「一中原則」是我國參與國際事務的主要障礙 (B) 參與非聯合國體系組織時始得使用國家的名義 (C) 我國無法以「經濟體」名義加入國際經濟組織 (D) 我國得否加入 CPTPP 將受制於澳洲政府的決定

6. ( ) 我國是以憲法為基礎的憲政主義國家，然而在國際政治上，我國的國家地位卻未能普遍被世界各國所承認，主要與我國的「主權」爭議有關。關於我國憲法上對「主權」的規範，下列何者正確？ (A) 對領土範圍採取直接列舉，明列臺灣、澎湖、金門與馬祖等地為我國領土 (B) 在《憲法增修條文》中將所謂的「依其固有之疆域」，改稱為「自由地區」 (C) 透過變更原本《憲法》架構及本文，以符合我國現行統治權力管轄的現狀 (D) 當前主權是「一個中華民國、兩個地區」，兩岸則處於「分裂分治」的狀態

7. ( ) 我國 2018 年底依《公民投票法》舉行多案全國性公民投票，其中第 12 案達到法定通過門檻，依當時多數民意及 2017 年 5 月的司法院大法官第 748 號解釋之意旨，提出《司法院釋字第 748 號解釋施行法》草案，並於 2019 年 5 月 17 日立法院三讀通過，使同性婚姻合法化。由此例可見國家與人民之間具有什麼關係？ (A) 人民基於國民主權，可藉直接民主影響國家政策 (B) 擁有國籍的人民依法享受權利及負擔義務資格 (C) 國家應以公權力措施約束人民，以維護社會秩序 (D) 國家應立法界定人民身分，以確立其權利與義務

8. ( ) 2022 年 11 月立法院三讀通過《工會法》部分條文修正案，明定僱主不得以拒絕僱用、解僱、降調、減薪或為其他

不利待遇、限制勞工加入工會等，違者將處新臺幣 10 萬元以上、50 萬元以下罰鍰，並且公布其名稱、代表人姓名、處分期日、違反條文及罰鍰金額。政府得依規定針對違反規定之雇主予以裁罰，主要是基於下列哪一理由？(A) 各國政府擁有界定其人民身分的權力 (B) 各個國家對內具最高性而有決策權威 (C) 我國對外具排他性故可管理他國人民 (D) 我國政府獲國際組織授權而有權管制

9. ( ) 因建構群體身分的標準非常多元，為了維持社會的穩定與和諧，避免因不同群體身分而產生的對立，必須由具有公權力的政府依憲法制定各項政策法令，來保障公民多元身分與各項平等權利。下列哪一作法有助於達成此目標？  
(A) 要求夫妻互負同居之義務，並以夫之住所為住所 (B) 規定婚姻之成立，必須由一男一女之當事人為之 (C) 推動原住民回復傳統姓名，並得以羅馬拼音書寫 (D) 全面禁止非視障者從事按摩業，保障視障者工作

10. ( ) 《司法院公布釋字第 748 號解釋》認定《民法》關於婚姻之規定，未使相同性別者結婚的權利獲得保障，形同差別待遇，違反《憲法》保障人民平等權及自由權的意旨。意即高度民主自由的臺灣直至此大法官解釋後，才開始明確要求政府機關必須積極給予保障。從此一事件可以發現，國家在多元身分的保障上，可能有何缺失？(A) 國家建構群體的身分之標準過於多元 (B) 多元身分的群體利益不一致常有衝突 (C) 政府機關間對各群體保障的標準不一 (D) 對處境不利群體的權利保障尚有不足

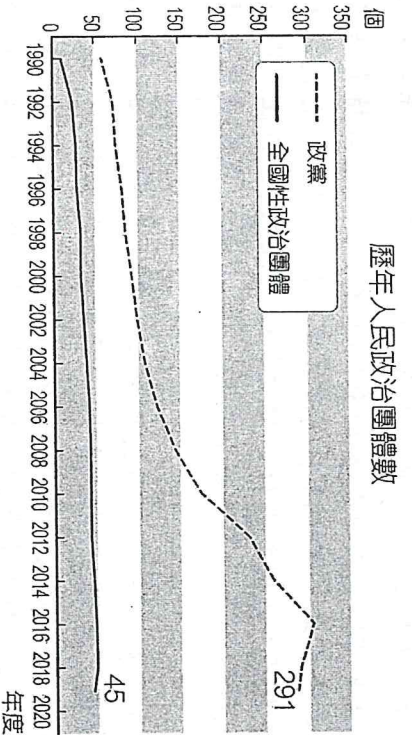
11. ( ) 英國在人民公投選擇脫離歐盟後，政府與歐盟進行多場談判，內容包含未來貿易關係、公民權及「分手費」等重要議題。其中就公民權議題，雙方協議會讓兩地公民權利獲得保障。因為根據《歐洲聯盟條約》規定，歐盟公民得在其所居住的其他歐盟國家行使與該國公民相同的選舉權與被選舉權，以及向歐洲議會請願的權利。在這種形態下，對傳統主權國家產生什麼影響？(A) 人民以直接民主的形式影響政府政策將成常態 (B) 「人民」不再是主權國家組成必須具備的要素 (C) 各國人民間在政治權利上的衝突將較以往頻繁 (D) 對內最高且對外不容干涉的特性逐漸受到挑戰

12. ( ) 憲法是國家的根本大法，我國亦以《中華民國憲法》及其增修條文為立國基礎，關於我國《憲法》規範與變遷，下列敘述何者正確？(A) 憲法中明定我國是民主的共和國體制，且國家主權屬於中央政府 (B) 為穩固二戰後中華民國在國際上的法理地位及正當性而進行修憲 (C) 為使憲法更符合國家政治現狀，將目前治權不及的領土範圍刪除 (D) 修憲後人民得定期改選行政首長與民意代表，更能落實主權在民

13. ( ) 現代主權國家的組成，一般須同時具備人民、主權、政府及領土四項要素，才得以被承認為具國際法人格的國家。其中哪一要素具有「對內最高」與「對外排他」的特性？(A) 人民 (B) 主權 (C) 政府 (D) 領土

14. ( ) 聯合國人權理事會共設 47 個席位，成員國包含亞太地區和非洲地區各占 13 席，拉美及加勒比地區占 8 席，東歐地區占 6 席，西歐及其他地區占 7 席。2022 年 10 月改選後，現有成員國包含近年來人權狀況備受爭議的中國、喀麥隆、索馬利亞、孟加拉和厄利垂亞等國在內。從現有成員國組成來看，可能造成人權理事會何種功能被質疑？(A) 協調與整合聯合國各機關人權工作的成效 (B) 監督並要求侵犯人權之國家改善的公信力 (C) 針對各項人權公約設立專責機構的可能性 (D) 定期審議各締約國的人權報告及個人申訴

15. ( ) 人權是身為人應該有的權利，每個人都有權利過著符合人性尊嚴的生活。人權的演進及發展也隨時代和環境的變遷而日益豐富。下列關於當代普世人權的敘述，何者正確？(A) 因符合各國法定資格者而擁有的權利 (B) 人人皆應同等享有而非侷限國內層次 (C) 國際社會對普世人權的推動已臻完備 (D) 仰賴聯合國簽訂人權公約以落實保障
16. ( ) 附圖為我國「中央政府所轄人民政治團體數量」的資料，從 1990~2020 年人民成立政治團體數量的變化，可以推知下列哪一現象？



※配合《政黨法》，2020 年 6 月起不再有全國性政治團體。

(A) 戒嚴下沒有任何政黨或政治性團體得以成立 (B) 政治團體成立愈多，愈能彰顯主權在民精神 (C) 政黨與全國性政治團體的成長與民主化有關 (D) 政黨數量大幅增加，顯示政黨類型日趨多元

17. ( ) 我國《公民投票法》自 2004 年正式實施後，截至 2022 年為止，經中央選舉委員會公告並舉行的全國性公民投票案共計 20 個，議題以民生經濟、性別平等、國際政治等為最多，落實我國民眾透過公民投票的方式，表達對公共事務的影響力。因此《公民投票法》的實施，主要是落實我國人民下列哪一項公民權利？(A) 自由權 (B) 參政權 (C) 社會權 (D) 多元文化權

18. ( ) 西方社會經歷長久的君主專制統治，人民必須服從君王的統治；沒有反抗的權利。直至 17、18 世紀逐漸發展出「天赋人權」的思想，認為政府權力來自於人民的授權，應受到節制以避免濫權，人權才逐漸受到重視。因此，下列哪一種權利被認為是最基本的普遍性權利，也是判斷一個國家是否民主的基本條件？(A) 自由權 (B) 參政權 (C) 社會權 (D) 多元文化權

19. ( ) 古希臘雅典城邦以「雅典式民主」聞名於後世，其所發展出來的民主體系是最早的民主制度，也是開啟直接民主的

20. ( ) 起源。下列關於雅典式民主的描述，何者正確？ (A) 主要受到天賦人權學說影響而開展 (B) 人民都能直接參與並決定公共事務 (C) 公民身分與權利是某部分人的特權 (D) 公民身分與權利內涵發展已臻完善
- ( ) 附圖是某國政治宣傳的圖片，有學者指出：此圖呈現該國執政領袖、執政黨和人民三者的關係，可清楚看出民主國家運作與該國存有最根本的差異。請問下列何者應為該學者所指的最根本差異？



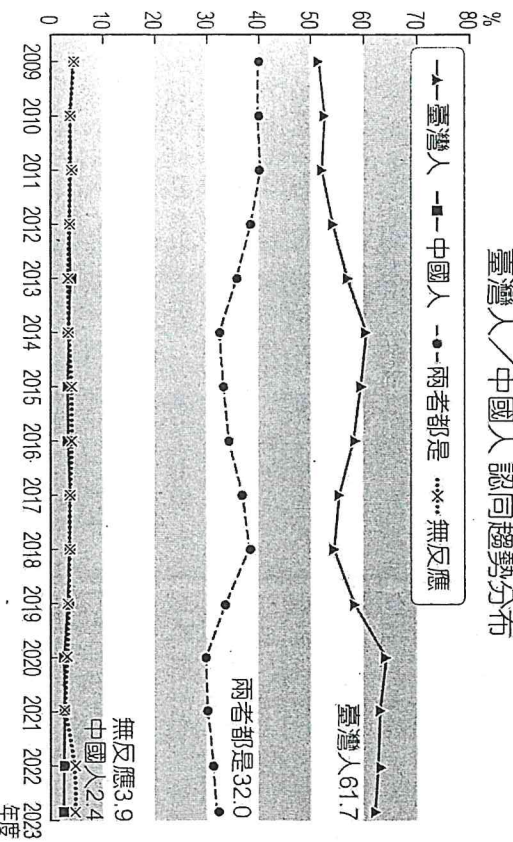
- (A) 存在多黨競爭，難有全民效忠服從的政黨 (B) 肯認多元認同，不易服從單一的政治領袖 (C) 執政領袖和執政黨皆是國家管理人，而非效忠對象 (D) 執政領袖和執政黨只是代表政府，人民應效忠政府
21. ( ) 太平洋島國馬爾地夫因為地勢低平，平均海拔不到 1 公尺，隨著海平面上升，預估到了 2050 年，馬爾地夫將有 8 成國土有被淹沒的危機。當地政府啟動「漂浮城市」計畫，於 2022 年 6 月動工，2027 年正式完工，漂浮城市可隨海平面起伏，不必擔心遭到淹沒。請問：馬爾地夫啟動「漂浮城市」計畫，是為了解決何種問題？ (A) 主權 (B) 政府 (C) 人民 (D) 領土
22. ( ) 我國海釣船疑因越界進入日本海域，而遭日艦拖帶，我國海巡隊員登海釣船了解時，遭日警壓制在地。請問：下列相關敘述何者正確？ (A) 海巡署的海巡隊員，必須具備我國國籍 (B) 海岸線向外延伸 200 海里，為各國的領海 (C) 主權所及的範圍為領土，包括領海與領陸兩種 (D) 我國透過外交系統向日本提出嚴正抗議，是落實國家的秩序目的
23. ( ) 庫德族人居住的地方統稱為庫德斯坦，包括土耳其東南部、伊拉克北部、伊朗西部、敘利亞東北部、亞塞拜然與亞美尼亞南部地區。庫德族生活在這六國的統治之下，有自己的語言、文化，也有自己居住的土地，但同一族卻被六個不同政體統治，故無法聯合一致建立國家，也沒有人承認庫德斯坦國的存在。因為他們欠缺了現代國家的哪些組成要素？ (A) 人民與領土 (B) 政府與主權 (C) 領土與政府 (D) 人民與政府
24. ( ) 報載：「日韓兩國為了兩國海域中間的彈丸之地，又發生爭執，南韓前總理韓昇洙日前搭乘直升機，登上南韓稱為『獨島』，日本稱為『竹島』的小島，並豎起上面記載『東海上的南韓領土獨島』的界碑。」請問日韓兩國對獨島(竹島)的爭議為何？(甲)領土；(乙)政府；(丙)主權；(丁)人民。(A)甲乙 (B)乙丙 (C)甲丙 (D)乙丁
25. ( ) 所謂「弱國無外交」，我國自 1971 年退出聯合國以後，外交友邦銳減，下列何者不是我國突破外交困境的因應之道與具體措施？ (A) 對國際社會主要以正式外交的方式突破中共封鎖 (B) 對國際社會提供人道救援 (C) 爭取參加國際間的非政府組織 (D) 爭取主辦國際會議，並爭取與無邦交國建交與復交
26. ( ) 我國「紀念日及節日實施辦法」規定，臺灣原住民族各族的歲時祭儀日期，依原住民族委員會的公告，定為法定民俗節日，各該族原住民應予放假。從公民權利與社群資源分配的角度思考，該立法用意與下列何者最為相近？ (A) 民法規定父母應以書面約定子女要從父姓或母姓 (B) 國家語言發展法將臺灣手語納入國家語言的範圍 (C) 國籍法解除限制新住民歸化未滿十年不得參選公職之規定 (D) 廣播電視法規定無我國國籍者不得為股東或擔任董監事職務
27. ( ) 某班的「公民與社會」課程進行辯論活動，辯論題目是「我國是否提供移工政治權利」。老師在課堂上針對此議題進行簡單的背景介紹：「二十幾年來，外籍移工遭仲介剝削問題引發社會關注，有人認為政府應讓移工可對自身相關政策擁有決定的權利，但也有人認為『外籍移工並非臺灣人，不應有這些權利』。」恭民為了準備辯論活動，上網蒐集相關資料，下列何者最能凸顯正方的論點？ (A) 國家的法令政策往往往影響所有在國內生活的人，故政策應經全民公投決定 (B) 移工也可以透過集會遊行、上街表達訴求等方式，來保障自身的勞動權利 (C) 外籍移工只是到臺灣短暫停留幾年，與具我國國籍的人民有本質上的不同 (D) 若移工不具參政權，移工勞動剝削的問題容易排除在公共政策討論之外
28. ( ) 紀錄片《時代革命》在臺上映，重現香港反送中運動中，警察以武力迫害人民的畫面，引發臺灣對港人來臺尋求庇護的討論。有人認為應該出於人道考量，儘量給予這些受迫害者接納與生活支持；有人則認為這對在地擁有公民身分的人不公平，而且可能會對原有的社會秩序與文化造成重大影響。關於我國應否制定法律建立難民庇護機制的議題，下列何者是正方最能支持自己立場的論點？ (A) 基於人道與人權立場，可對來臺尋求庇護的香港居民個案協助即可 (B) 難民法通過才能夠系統性提供受到政治迫害的香港民眾支持與援助 (C) 臺灣地狹人稠，接納難民數量有限，無法應對成千上萬的難民申請 (D) 將香港人納入難民法，涉及到國家主權界定的爭議，必須審慎處理
29. ( ) 2024 年參選山地原住民立委的候選人共有 10 位，其中一位候選人的姓名為「李我要單列族名我的布農族名字是 Savungaz Valincinan」，成為今年名字最長的候選人。根據現行法律，原住民登記姓名有三種形式可選擇，包括漢

- 字音譯傳統名字、漢字音譯傳統名字並列羅馬拼音，以及漢名並列傳統名字羅馬拼音，但無法單獨列出族名。下列何者最有可能是該位原住民所欲表達的訴求？ (A) 希望政府保障原住民族狩獵文化不受到法律干預 (B) 希望政府促進原住民族語言的傳承、復振及發展 (C) 希望政府肯認不同族群的身分認同與姓名表示權 (D) 希望政府積極保障原住民族參政權以及自治權利
30. ( ) 2024年4月22日到26日我國舉辦「消除一切形式種族歧視國際公約」(ICERD)的首次國家報告國際審查會議，並以多元文化為核心，分別由法規、組織、政策、教育及宣導等各個層面，檢視政府是否達成該公約宗旨，以提升我國人權保障。不過，因我國並非聯合國的成員國，於是獨創在地審查模式。關於我國國家報告的國際審查，下列何者較為正確？ (A) 由聯合國指派國際人權專家擔任審查委員，並依循聯合國模式審查 (B) 總統府「人權諮詢委員會」負責統籌國家人權報告及國際審查程序 (C) 國家提出人權狀況的國家報告，民間團體也可對不實資訊提出報告 (D) 在地審查後，再將國家人權報告提交至聯合國各個條約機構再審查
31. ( ) 國際特赦組織(Amnesty International)在2022年度人權報告中指出，對比面對俄羅斯侵入烏克蘭時的積極憤怒，西方強權國家對沙烏地阿拉伯、埃及與以色列等國侵害人權的問題上卻都保持沉默，暴露西方強權國家對人權侵犯行為的雙重標準，因此呼籲國際社會應更積極的面對、處理發生在世界各地的人權問題。上述事例凸顯全球的人權發展有何重要趨勢？ (A) 國際非政府組織的報告是促進普世人權的管道之一 (B) 當代主要透過國際強權國家來促進普世人權的實現 (C) 國際政府組織具有強制力，故推動人權的成效較佳 (D) 國際非政府組織是最有效減少政府迫害人權的推手
32. ( ) 我國障礙者依法可向政府申請補助，僱用助理協助生活。小天提出申請，政府依據既有預算額度及權限，核定部分而非足額補助。小天認為這違反身心障礙者權利公約，因該公約要求政府應保障身心障礙者自立生活。依據我國法律體系，對本案政府作為的評論，下列何者最適當？ (A) 政府核定補助應依既有預算額度及權限，而非依國際人權公約 (B) 依該公約施行法精神，政府應盡量補助讓小天能夠自立之費用 (C) 須經國際專家建議，政府才應補助讓小天足以自立生活之費用 (D) 基於個人自我負責理念，政府不應該補助小天之自立生活費用

## 二、題組題(2分/20%)

1. 臺灣駐香港辦事處6位派駐人員簽證在2021年6月21日到期，香港政府日前發函要求須簽「一個中國承諾書」，否則限6月21日離港，駐港官員全員拒簽烽火國格文件，代理處長林振宙等7位官員於20日提前離港，僅留7月簽證才到期的經濟部官員倪伯嘉一人，堅守崗位。  
臺灣駐港最高機構以「臺北經濟文化辦事處」名義運作，實際單位為陸委會，服務包括核發簽證，為我國在港國民換發護照，辦理赴臺留學、定居，提供緊急支援。  
對官員離港一事，陸委會表示，臺港本於互惠互利原則互設辦事處，且一切活動遵守法令，未逾越業務功能範疇。陸委會批評，中共及港府以「一中承諾書」設置障礙，影響香港辦事處人員的輪調及正常運作，片面違反2011年雙方換文內容，要對臺港關係及民眾權益受損負起所有責任，並向中共喊話：「只要能在所謂的民主對等，和平對話的原則之下，隨時都能開啟交流互動。」
- ( ) (33) 根據新聞內容，臺灣駐香港辦公室之所以能夠核發在港國人護照，是基於何項理由？ (A) 我國在國際上兼具法理與事實主權 (B) 我國政府獲得國際組織授權而有效 (C) 在港國人須抱持強烈的國家認同感 (D) 我國政府擁有賦予人民身分的權力
- ( ) (34) 駐香港官員與陸委會將簽署一中承諾書視為矮化國格之舉，最可能的原因為何？ (A) 臺灣經歷多個不同政權的統治，造成多元族群間爭奪國家主權 (B) 日本戰敗後，中共主張臺灣為其固有領土，具有統治的正當性 (C) 自中共建國且兩岸分治後，在各項政策、經貿上失去合作契機 (D) 我國憲法對於領土沒有列舉疆域，造成國際地位存在灰色地帶
2. 聯合國的國際人權體制發展主要分成四個階段。第一階段是1945年通過的《聯合國憲章》，該憲章雖未對國際人權保護有太多直接規定，卻是國際社會組成國際機構，以促成國際人權保障及實踐最重要的集體合作機制。第二階段是1948年通過的《世界人權宣言》，其所規範的是最基本且最具綱領性的國際人權，具有母法的地位。第三階段1966年通過的《公民與政治權利國際公約》、《經濟社會文化權利國際公約》，這兩個公約不但是《世界人權宣言》的具體化，更涵蓋了該宣言所未包括的基本權利，三者同為國際人權保障體系最根本的法源。第四階段則是由特定領域人權議題所規範的公約所組成，《兒童權利公約》、《消除對婦女一切形式歧視公約》、《原住民民族權利宣言》、《身心障礙者權利國際公約》都在其中。  
我國現階段非聯合國成員，亦無遵守公約之義務，但在民間人權團體多年推動下，自2009年開始，陸續通過「兩公約施行法」、「消除對婦女一切形式歧視公約施行法」、「兒童權利公約施行法」、「身心障礙者權利公約施行法」，表達我國落實國際人權公約的誠意和決心。
- ( ) (35) 從上述聯合國國際人權體制四階段的演進，可以推論得知下列哪一訊息？ (A) 「國際人權法典」是國際社會上人權保障體系發展的根源與基礎 (B) 第三階段後，人權從國際間的共同約法轉為單一國家的意識型態 (C) 因各界對《聯合國憲章》的法律拘束力存在質疑，故有《世界人權宣言》的通過 (D) 演進是先發展議題性公約，再整合出總結性公約，最終才有集體合作機制的出現
- ( ) (36) 我國立法通過多項國際人權公約批准並交存聯合國的程序，實質加入聯合國 (C) 人權應基於國家需要選擇性適用，表彰我國的獨立自主性 (D) 人權非普世價值，但我國將人權法制化有助提高國際形象
3. 由於兩岸特殊的政治發展與歷史文化因素影響，使得我國人民在自我國族身分的認定上出現歧異，國內有大學研究中心長期對此進行研究，附圖即為近年間的研究結果。問卷題目是：「我們社會上，有人說自己是『臺灣人』，也有人說自己是『中國人』，也有人說都是。請問您認為自己是『臺灣人』、『中國人』，或者都是？」

臺灣人／中國人認同趨勢分布



- ( ) (37) 上述「特殊的政治發展與歷史文化因素」，應為下列何者？ (A)兩岸政府間對國家主權認定有爭議 (B)我國以國籍作為國族身分認定標準 (C)我國歷史上經歷多個外來政權殖民 (D)臺灣民眾在獨立場上具高度歧異
- ( ) (38) 根據圖中歷年來的資訊判斷，下列敘述何者正確？ (A)主要因我國族群多元而造成民眾出現多元的認同 (B)我國民眾認同具有高度一致性，皆無明顯的變化 (C)我國民眾在認同上並非都是單一認同或絕對認同 (D)近4成民眾同時具兩國國籍而認同「兩者都是」

#### 4. 《姓名條例》三讀修正通過 原住民可依身分證單列族名

自1984年起的原住民民族正名運動至今，雖已有2萬餘人回復傳統姓名，但過去《姓名條例》規定國民必須用「中文字」登記姓名，所以即使「羅馬拼音」是原住民族語的正式文字，原住民卻不能在身分證上只登記傳統姓名之羅馬拼音，一定得與漢人姓名或漢字拼音「並列」。

《姓名條例》修法前，第1條規定「臺灣原住民及其他少數民族之姓名登記，依其文化慣俗為之」，旨在告訴戶政單位必須尊重原住民的傳統姓名；第2條卻要求以「中文字」登記姓名，顯有衝突。內政部曾對此作出解釋：為尊重原住民傳統，准許「使用中文表示」傳統姓名，但羅馬拼音符號不被社會各界所熟知，容易造成使用困擾，故「不宜單獨使用」。長期倡議「單列族名」的「以我的族名呼喚我行動小組」不認同這樣的解釋，認為政府強制原住民以其他語言拼寫名字，使傳統姓名脫離原本的文化內涵。學者指出，公部門未把原住民族視為文化主體，仍停留在單一文化思維。

經過長久的倡議，立法院2024年5月三讀通過修正《姓名條例》，原住民可依法在身分證上「單列原住民語的正式名字——羅馬拼音族名」。原住民委員會針對此次修法表示「可精準呈現名字的發音，提升文化認同，並有助於傳承各族的命名文化與制度，亦符合原住民長期的期待」。

- ( ) (39) 若以上為甲同學製作報告而蒐集的新聞內容，下列何者最適合作為他的研究主題？ (A)原住民族姓名與傳統文化的承載關係 (B)原住民正名運動的歷史發展與內涵 (C)原住民戶籍登記與姓名條例的實施 (D)原住民與我國政府的紛爭解決方式
- ( ) (40) 若以公民權利的角度思考，下列何者敘述正確，且符合題文中倡議團體與學者的主張？ (A)政策規範登記族名之語言使自由權受限制 (B)政策施行缺乏原住民多元文化權的思維 (C)政府僅積極實踐原住民的社會權利保障 (D)政府為保障原住民命名自由有積極作為

高雄市立鼓山高中 114 學年度第二學期第一次段考《高三》公民與社會科試題卷

考試範圍：(L1~L4)

未依規定劃卡者，總分扣 5 分

電腦讀卡代碼：18

單選題 (每題 2.5 分，共 40 題)

六年 班 號

◎美國為推翻伊朗的伊斯蘭革命政權，於 2026 年 2 月 28 日展開了名為史詩怒火的軍事行動，聯同以色列突襲該國高官、軍事指揮官和設施，最高領袖哈米尼遇襲身亡。伊朗立即啟動飛彈、無人機及戰鬥轟炸機等手段予以還擊，襲擊周邊多個以色列、美國的軍用設施，波斯灣地區內多個鄰國也遭受襲擊。伊朗隨後封鎖荷姆茲海峽，襲擊位於此區域內的油輪或其他船隻。每天有超過 1400 萬桶原油經由荷莫茲海峽運輸，占全球海運原油出口總量三分之一；其中四分之三原油出口至全球第二及第三大經濟體中國和印度，以及東亞的日本和南韓。

美伊開戰除了造成油價飆升，航運保險費與風險溢價增加外，更直接拉高了出口導向型產業(如台灣、日本、韓國)的營運與物流成本。《金融時報》報導，油價每上漲 10%，美元兌一籃子全球貨幣將上漲約 0.5%至 1%。《紐約時報》提到美國的通膨可能從 2%提升到 4%，今年經濟成長率恐從 2.4%下降到 1.6%。《牛津經濟研究院》預估，若油價漲到 100 美元以上，將使全球通膨率上升約 0.7% 至 0.8%，倘若衝突持續數月，全球經濟成長率可能下降 0.25% 至 0.4%，全球經濟都將承受顯著的衝擊。請依據上述內容回答第 1~5 題：

1. 油價每上漲 10%，美元兌一籃子全球貨幣將上漲約 0.5%至 1%。此預估代表下列何者可能即將發生？ (A)全球經濟活絡 (B)生活成本增加 (C)美元上漲 (D)美元下跌。
2. 下列對「油價」的敘述何者錯誤？ (A)屬一籃子商品 (B)影響生活成本 (C)重要的核心物價 (D)包含在總指數中。
3. 若油價漲到 100 美元以上，將使全球通膨率上升約 0.7%至 0.8%，上述導致通膨的主因是？ (A)成本推動 (B)需求拉動 (C)貨幣數量 (D)石油產量暴增。
4. 倘若衝突持續數月，全球的經濟成長率可能下降 0.25%至 0.4%，主要是因為？ (A)名目 GDP 增加 (B)實質 GDP 增加 (C)名目 GDP 減少 (D)實質 GDP 減少。
5. 航運保險費與風險溢價增加，直接拉高了出口導向型產業的營運與物流成本，對台灣可能的影響下列敘述何者錯誤？ (A)CPI 增加 (B)CPI 年增率增加 (C)名目 GDP 增加 (D)PPP 增加。
6. 研究顯示，當領導人在公司外部有更廣、更深厚的人脈關係，該公司就會有更高的績效；同樣的，儘管推薦信無法直接預測工作表現，但應徵者若能得到有力人士，或與決定應徵結果的人關係密切人士的推薦或背書，那得到職位的可能性也會大大提高。我們該如何理解上述現象的成因？ (A)由於文化資本不平等，故不同應徵者難以取得相同的工作機會 (B)社會資本在機會取得上扮演關鍵角色，能降低個人付出的成本 (C)企業領導人之間，往往因為企業規模的大小而造成權力不對等 (D)未取得推薦信的工作者，其父母的社經地位必然較取得者為低。

◎到 2020 年 7 月為止，至少約有 70 萬移工在全台大小工廠與家庭，成為重要的勞動力，不過，因為追求更好的工作待遇以償還高額的中介費和貼補家用，不少移工選擇私下轉換工作，成為「非法勞工」。根據移民署的最新統計，失聯移工數超過 5.1 萬人，人數最多的是印尼籍看護工與幫傭，其次是從事營造業和製造業的越南籍移工。台灣外籍移工超過 40 萬人集中在製造業中，另有 25 萬人分佈在台灣大大小小家庭與安養院中，看照年邁的長者。

這些遠渡重洋來台賣命工作的移工大軍，撐起了台灣岌岌可危的 3K 產業與如履薄冰的長照缺口。然而，同樣缺人缺到只靠「千歲團」們在苦撐的農業，卻不被允許合法聘用外籍移工。公開的秘密是——不能用，但大家都都能聘到人。台灣目前總計有超過 5.1 萬名失聯移工，他們當中的許多人，填補了台灣的農業人力缺口，領著還像樣的收入，非法種菜給台灣人吃。(註：3K 產業來自日文翻譯，指航麟、危險、辛苦的工作)請依據上述內容回答第 7~8 題：

7. 根據題文判斷，下列何者最可能是外籍移工選擇私下轉換工作，成為「非法移工」的原因？ (A)在原生國即為農民出身對農業較熟悉 (B)所屬產業機器替代人力已無勞力需求 (C)合法工作時反而難以追求更好的薪資 (D)因宗教信仰、文化差異與語言隔閡太大。
8. 若政府想要減少外籍移工成為失聯移工的現象，應採取何種政策較為恰當？ (A)監管中介機構的中介費用 (B)擴大開放農業聘外籍移工 (C)落實失聯移工的通緝搜查 (D)辦理各國的移工文化交流。
9. 歐巴馬雖為美國首位非裔總統，但歐巴馬和夫人曾在《時人》雜誌訪問時，暢談種族議題與個人經驗。歐巴馬說，與他同輩的黑人專業人士走出餐廳等待座車時，大概都有過旁人把車鑰匙交給他們的經驗，因為非裔人士多半會被當成是停車服務生，這事也曾發生在他身上。下列敘述何者正確？ (A)法律雖已廢除黑奴，但實際上此制度仍存在 (B)若非裔能提升教育程度，可解決被歧視的困境 (C)美國人有依據膚色將他人做階層化分級的傾向 (D)美國社會對非裔的態度不友善，屬於封閉社會。

10. 韓國首爾的江南區因為一首「江南 Style」聞名全球。這個重要的商業中心匯集了跨國大企業與時尚精品店，反映出韓國傲人的經濟成就。但在這個黃金地段上，卻又有一個從冷戰時期就形成的貧民窟，居民生活困苦又落後。商業大樓跟貧民窟的對比，成為韓國社會的一大隱憂。上文呈現出韓國什麼社會問題？ (A)國家的城鄉發展不均衡 (B)政治權力被菁英所掌握 (C)文化資本嚴重分配不均 (D)都市內的貧富差距問題。
11. 英國素有權貴私立學校的傳統，例如著名的伊頓公學就曾孕育出至少 8 位英國首相。英國社會學者辛普森在 1962 年出版《剖析英國》一書，預言英國政治的菁英統治傳統，將逐漸由「唯才適用」和「任人為賢」取代。但多年後他重新審視，赫然發現，伊頓公學、劍橋大學及牛津大學等高級學府仍舊繼續造就統治階層，多數的國會議員與首相都是名校畢業生，他不得不承認「英國仍然是個由上流菁英統治的社會。」上述英國學者的研究，凸顯了下列何種問題？ (A)學校教育使上層階級累積了更多文化資本 (B)社會的階層化結構可以經由教育系統瓦解 (C)英國權貴學校使文化資本轉換為經濟資本 (D)英國人民崇尚由名校畢業的官員統治國家。
12. 曼德拉 1994 年發表總統就職演說時表示，將打造和平的彩虹國度，讓所有南非人民(不論黑人或白人)都能保有人類尊嚴；但曼德拉辭世後，這個夢想仍待繼續努力。占總人口約 8.7% 的南非白人，平均所得比黑人高 5 倍，還能獲得較完善的教育和醫療照護、買到較好的房子。20 歲以上的黑人，僅 8.3% 接受過中學教育，比率遠少於白人的 37%，黑人的全國失業率也高達 24.7%。上述南非社會的現象，下列何者正確？ (A)人口占少數的黑人常面臨白人的歧視 (B)黑人屬於低社會階層位置的弱勢團體 (C)身為黑人意謂一生將處於較低的階層 (D)政府應該對白人推出優惠性差別待遇。
13. 每逢伊斯蘭教開齋節，許多印尼移民工會群聚台北車站大廳慶祝，引發民眾抱怨。台鐵週末於大廳拉起紅線，並明文禁止組織性的集會。某學者對此拋出疑問：「若一開始湧入車站大廳者，不是放假時慶祝伊斯蘭教開齋節的印尼民工，而是一大群白人，民眾會抱怨嗎？台鐵會拉起這條紅線嗎？還是將其視為國際化的象徵？」下列敘述何者正確？ (A)台灣因為引進東南亞外籍移工，所以屬於奴隸制度 (B)台灣的東南亞外籍移工人數已過多，應要加以限制 (C)台灣社會經常依種族特徵將外國人作階層化的分級 (D)台灣民眾對東南亞外籍移工不友善，屬於封閉社會。

◎2013 年英國 BBC 廣播公司播出紀錄片《56UP》，導演花了 49 年的時間，從 1964 年拍攝起，追蹤 14 個不同社會階層孩子的成长，從 7 歲開始每 7 年記錄一次。結果發現，14 個人中只有一個人從農人之子成為大學教授，原本期待理應發生的階級翻轉，居然成了「例外」，多數的孩子並沒有翻轉。例如來自貧民區的女孩，她單純希望長大能到附近超市上班，眼前最大的夢想是看到爸爸能吃飽。而一對家境優渥、上私立小學的兄弟從小就開始讀《金融時報》，之後也從牛津大學畢業成為知名律師，而他們的下一代也照著父母的老路複製人生。請依據上述內容回答第 14~15 題：

14. 針對該紀錄片發現的社會現象，下列各項延伸解釋或論述，何者較符合產生此種社會現象的因果關係？ (A)性別歧視仍是當前導致此現象的主因 (B)貧富差距擴大會加劇此現象的發生 (C)此現象最關鍵是造成代內流動的停滯 (D)此現象減少社會流動而有利社會穩定。
15. 英國早已邁入後工業社會，但依據上文，穩固的社會階級卻仍然存在。與過去農業、工業社會的階層流動相比較，下列敘述，何者最符合社會的現況？ (A)以服務業為主的知識經濟下，個人的「成就地位」是社會流動的唯一標準 (B)穩固階層制度導致家族血統與財產的世襲，不同族群、階層的人通婚困難 (C)個人的社會階級在出生時就確定，「先賦地位」是決定階級的根本 (D)同樣有經濟資源、政治權力集中在少數人及貧富差距較嚴重的不平等現象。

◎哈佛大學公共政策學家普特南 2015 年出版《階級世代：窮小孩與富小孩的機會不平等》一書，呈現 1950 年~2015 年間，美國富裕家庭與貧窮家庭的生命故事。他發現，相較於過去，現在的人在日常生活中愈來愈難接觸到與自己不同階級的人。中上階級的父母有更多時間陪伴孩子，培養孩子的認知與非認知技巧；窮人家的孩子則時常面臨家庭的崩解，或在隔代教養環境中長大。針對貧窮孩子的困境，作者認為應將所有孩子都視為「我們的孩子」，以集體的力量來養育，否則機會不平等將同時危及經濟的成长與民主的效能，可能需付出更多社會成本。請依據上述內容回答第 16~17 題：

16. 依社會階層與社會流動的概念，下列敘述何者較正確？ (A)貧窮家庭孩子難以接觸不同階級的人，接觸社會的機會相對較少 (B)作者可能支持政府縮減社會福利，透過市場機制解決社會不平等問題 (C)富裕家庭與貧窮家庭的教養方式差別，是階級複製的一大主因 (D)富裕家庭的孩子出生時就比窮人家孩子擁有更好的成就地位。

17. 該書的序中提及：「台灣的貧富差距確實日益擴大，『黑手變頭家』、『三級貧戶變總統』等流動傳奇，似乎已成過眼雲煙。不論台灣或美國，社會階級涉及的不僅是收入與財富分配不均，也造成下一代在機會與社會流動上的不平等。」關於台灣社會流動的情況，下列敘述何者正確？ (A)在工業社會努力可打破既有農業社會階級，促進取得成就地位 (B)從農業跨入工業社會時因失業暴增，使全體社會階層向下流動 (C)『黑手變頭家』、『三級貧戶變總統』兩項社會流動傳奇都屬於代間向上流動 (D)後工業社會重視重工業，因此體力與財力較好的人能向上流動。

18. 2022年2月24日俄羅斯入侵烏克蘭，引發全球的關注，俄羅斯各地陸續有民眾走上街頭，譴責總統普丁發動戰爭。上述反戰示威是否屬於社會運動？ (A)否，因為俄烏衝突屬於國際議題，並不屬於內政議題 (B)是，因為俄羅斯的許多城市皆有民眾進行公開的集會 (C)否，因為反戰示威僅表達對普丁不滿，未具體訴求 (D)是，因為反戰示威是民眾由下而上所發起的集體行動。

◎香港回歸中國後，原英國殖民特殊的自由地位消失，轉口經濟亦遭上海取代，經濟榮景日漸衰退。在「一國兩制」下，本應保有政經體制的高度自治權，但實際上中國逐步加緊對香港掌控，引起民眾反彈。2014年9月爆發「讓愛與和平佔領中環」運動(簡稱佔中運動或雨傘運動)，導因於中國全國人民代表大會否決2017年香港特首選舉的公民提名方式。香港大學副教授戴耀廷發起運動，主張用非暴力方式長期佔領中環要道，欲癱瘓香港政經中心來迫使北京讓步，表達「香港人要普選、無須共產黨篩選」的訴求。

2019年的「反送中運動」更震動全球，港府於2月修訂《逃犯條例》草案，嫌犯得遭送中國審判，遭港人強烈反對，認為將危害香港司法獨立與人權。其後數月「反送中」示威頻繁，規模動輒百萬人，示威者罷工、罷課、罷市，佔領街道與立法會，更引發警民衝突。示威者提出五大訴求：撤回草案、撤回暴動定性、撤銷控罪、追究警隊濫權、落實雙普選(立法會議員與行政長官直接民選)。行政長官林鄭月娥宣布暫緩修訂草案，並未正面回應民意，反而強調對抗暴力並恢復秩序，要求警察鎮壓示威者，導致7、8月抗爭加劇擴散各地，地鐵與機場數度癱瘓，流血事件頻傳，香港陷入困局，港人對經濟前景亦失去信心。請依據上述內容回答第19~20題：

19. 依據上述，對於香港「佔中運動」，下列敘述何者正確？ (甲)是為了恢復過去英國殖民時期的自由地位 (乙)是為了改變香港不當政策的行動 (丙)是香港人民爭取參政權的民主行動 (丁)可視為香港人民質疑「一國兩制」的行動 (戊)是為了迫使北京放棄香港統治權的行動 (A)甲乙 (B)乙丙丁 (C)乙丙丁戊 (D)甲乙丙丁戊。
20. 以下對香港「反送中運動」的解讀，何者正確？ (A)為爭取民主的社會運動，追求香港主權獨立 (B)多數香港人民不信任中國司法，但對「一國兩制」仍有信心 (C)行政長官不回應民意也非普選產生，民眾質疑其領導正當性 (D)抗議激烈且規模龐大，與香港貧富差距及經濟衰退並無相關。
21. 盛產石油的委內瑞拉近年來，經濟低迷不振，主因是油價暴跌導致進口下降和財政赤字擴大。而美國的經濟制裁，使委內瑞拉面臨更嚴重經濟蕭條與通膨問題，2021年1月，委內瑞拉年通膨率達到2665%，迫使中央銀行印製更多玻利瓦爾(委國貨幣)以挽救經濟，3月中將發行面額100萬玻利瓦爾鈔票(約新台幣15元)，卻連一杯咖啡都買不起。惡性的通貨膨脹之下，委內瑞拉最可能出現下列何種現象？ (A)人民的儲蓄意願很低 (B)薪水階層購買力提高 (C)企業的投资意願提高 (D)人民的生活品質提升。
22. 續上題，委內瑞拉發生了何種通膨？ (A)輸入型通貨膨脹 (B)成本推動的通貨膨脹 (C)需求拉動的通貨膨脹 (D)貨幣過多的通貨膨脹。
23. 下表為某國10年來的物價指數及年增率，根據表中資料下列何者正確？

年份	2003	2004	2005	2006	2007	2008	2009	2010	2011	2012	平均
當年CPI	89.4	90.8	92.9	93.5	95.2	98.5	97.7	98.6	100	102	
年增率(%)	-0.3	1.61	2.3	0.6	1.8	3.52	-0.9	0.96	1.42	1.93	1.29

- (A)依據表中數據可以推測基期應為2003年 (B)若是同樣的一筆錢在2003年，消費者可能可以買到最多數量的商品 (C)若將物價指數基期改為2010年則各年物價膨脹率均會上升 (D)該國10年來物價漲不停顯示經濟已出現大問題。
24. 大學剛畢業的大雄，夢想是去澳洲打工度假，不僅能體驗異國生活，也能賺取全球第一的基本薪資。根據他查到的兩個資訊，下列關於台灣與澳洲的敘述何者正確？

(1) 2021年我國的基本時薪是160元，澳洲則是19.84澳幣(約新台幣402元)，若是週薪則保障每週至少753.8澳幣(約新台幣1.5萬元)。

(2) 有人分享在澳洲生活的經驗，房租占支出比例最高，食物花費部分自己煮比外食省的多。舉例來說，中餐館一份餐點約新台幣270元，自己煮則是新臺幣100元左右。

- (A)澳洲的薪水較高，因此會有較高的GDP購買力
- (B)台灣的薪水較低，因此自然失業率會比澳洲高
- (C)兩國薪水比較，還須將物價水準高低納入考量
- (D)澳洲的薪水較高，實質薪資是台灣的2到3倍。

25. 每年颱風季氣象預報若報導將有颱風侵台，許多民眾擔心菜價上漲，就紛紛先行搶購囤積，導致菜價漲幅常常超過 2-3 成；北高兩地則靠著釋出冷凍蔬菜來抑制菜價。下列相關敘述何者正確？ (A)此種通貨膨脹屬需求拉動所造成 (B)漲幅相當大，屬於惡性通膨 (C)只要抑制菜價就能避免通膨 (D)菜價暫時上漲不算通貨膨脹。
26. 2014 年 3 月台南市知名的碗粿店收到一封信，開頭寫著「我要自首」。原來，寄信的何先生大約 17 年前就讀小學時，在店裡吃了 1 碗 25 元的碗粿卻沒有結帳，心裡感到愧疚，特地寫信懺悔並附上 200 元。老闆開店 20 多年，頭一回收到顧客的還錢信，既驚訝又感到窩心。碗粿店老闆：「那我就再把錢再捐出去。」若一籃子商品的內容不變，2014 年的 CPI 是 120，17 年前的 CPI 是 100，17 年前的 25 元，其購買力最接近於 2014 年的多少？ (A)30 元 (B)60 元 (C)100 元 (D)200 元。
27. 中國網友近年熱烈討論「移居他國、肉身翻牆」的方法，被稱作「潤學」(取英文 run 的諧音)。在相關討論中，想「潤」的人有兩種，一種是為了追求自由而潤，另一派是為了更好的生活而潤。疫情期間，在中國嚴格清零封控的影響下，經濟活動幾近停擺、人民收入大幅下滑，面臨就業困難的處境，因此紛紛萌生「潤」的念頭。根據上述，「想潤」的中國人最可能想追求什麼樣社會流動的機會？ (A)代內水平流動 (B)代內垂直流動 (C)代間垂直流動 (D)代間水平流動。
28. 歐美社群網路上有 Nepo Babies 一詞，代指那些背景顯赫、父母有能力提供裙帶關係，享有特權和優待的階級二代。其中，最常被使用的對象是身處娛樂產業的星二代。這些星二代的父母多是知名的導演、演員、製片，因此星二代相對普通人而言，從小就有更多機會認識社交名流，並獲得在鎂光燈下被大眾認識的機會。根據題文，下列何者是 Nepo Babies 之所以享有特權和優待的主要因素？ (A)文化品味 (B)教育程度 (C)社會網絡 (D)政治權力。
29. 1910 年韓國三星集團的創辦人李秉喆出生在韓國的一個富裕家庭裡，赴日留學回國後，創立了三星物產株式會社，專門做國際貿易，成功地累積起三星集團早期的財富。李秉喆也創立第一製糖、第一毛織等公司，成功佔領韓國的糖與服裝市場。而李秉喆的兒子李健熙認為，半導體是未來的產業，趁韓國一家半導體公司面臨破產，收購其一半股份，為三星的半導體事業打下了基礎。後來，在李健熙大力開斧的改革下，三星集團也一步步變成了韓國巨大的財閥之一。前述主要在討論下列何種社會流動類型？ (A)代內垂直流動 (B)代間水平流動 (C)代內水平流動 (D)代間垂直流動。
30. 某歌手創作一首搖滾歌曲，唱出年輕人面對社會競爭的無奈和困境，其中一段歌詞是：「社會現實你知道嗎？全球都一樣，有人靠家世，人生不必努力也勝利」。下列何者能說明「有人靠家世，人生不必努力也勝利」發生的原因？ (A)就業保障未能普世化 (B)階級複製的現象嚴重 (C)社會安全制度不夠健全 (D)跨國資本全球快速移動。
31. 臺灣自 2003 年起年年舉辦同志遊行，倡議平等尊重多元族群的生活方式。在性別團體長年的立法遊說與社會倡議下，我國 2019 年通過了《司法院釋字第 748 號解釋施行法》，正式承認同性婚姻，保障同性伴侶的婚姻自由以及公民權利，成為亞洲第一個承認同性婚姻合法化的國家。下列哪一種理論觀點最能夠解釋同志運動的興起原因？ (A)新社會運動論 (B)政治機會論 (C)資源動員論 (D)相對剝奪論。
32. 泰國反政府運動抗爭者，不滿軍政府解散年輕政黨以及王室作為，於 2020 年進行一系列抗爭運動，其中最引人注目的就是充滿創意與善用新興科技的抗爭模式。比如利用社群網站(SNS) 標籤功能，快速且即時散播抗爭時間與地點，抗爭者以步行、摩托車、計程車等方式代步，讓警方無從事前預測、部署，而抗爭者可靈活應對警方的行動，隨時自行解散離去。對泰國反政府運動的分析，下列何者最為正確？ (A)抗爭行為沒有固定的時間與地點故不符合社會運動的定義 (B)抗爭行動成功是因抗爭群眾有專業的領導者與豐富的資源 (C)可能因數位落差導致抗爭群眾多屬網路世代年輕人 (D)抗爭者不一定來自受解散政黨故此運動不具正當性。
33. 2005 年的一場「八年級的學運」，由數百位中學生所組成的中華民國學生反髮禁自治協會在其他社運團體的聲援下，舉辦反髮禁連署，高舉抗議標語，演出「髮禁告別式」、「祭髮禁文」等行動劇，立刻引起媒體的關注，並成功地讓教育部部長行文各校要求：「學校訂定《教師輔導與管教學生辦法》，不應針對學生髮式作規範，並不得進行懲處；有關學生服裝儀容之相關規定，應廣納學生意見，循民主參與程序訂定，以塑造開明、信任之校園文化。」從上文可得知社會運動具何項特色？ (A)發起占領政府單位的活動 (B)會大學破壞社會秩序安寧 (C)通常都是由上而下的行動 (D)具有特定理念且目標明確。
34. 2022 年 10 月中共二十大召開前，有人在北京海澱區的一座高架橋上，掛出寫著「不要核酸要吃飯，不要封鎖要自由」、「不要謊言要尊嚴，不要文革要改革」、「不要領袖要選票，不做奴才做公民」、「罷課罷工罷免獨裁國賊習近平」等巨幅布條，引起熱議。民眾掛布條的作法，是否屬於一種社會運動？ (A)是，因為掛布條表達抗議在中國為體制外的手段 (B)否，因為個別民眾掛布條並非有組織的集體行為 (C)否，因為布條僅對習近平尋求連任一事表達不滿 (D)是，因為掛布條由下而上對政府表達改革的訴求。

35. 台灣的勞工運動近年蓬勃發展，勞工團體除了例行在五一勞動節和 1 月舉辦遊行，更以組織工會的形式保障團結權。其中最具代表性的，應為由「桃園市空服員職業工會」在 2016 年和 2019 年發起的華航空服員和長榮空服員的罷工行動，不僅成功提升空服員的勞動條件，也促進社會大眾的討論，有助於我國勞權意識的提升。關於我國勞工運動的敘述，下列何者正確？ (A)從空服員的罷工行動可推論，勞工運動僅是社會菁英參與的活動 (B)勞工團體為達成目標經常採取體制外手段，故一定是違法行為 (C)勞工運動雖可能有外部成本，但也能促進社會進步與價值改變 (D)修法開放勞工組織企業工會後，能依此參與選舉、爭取執政權。
36. 一夜致富是許多人的夢想。假設為了造福人民，我國政府用大量無人空拍機到全國多處隨機撒下鉅額鈔票，將造成什麼影響？ (A)貨幣相對於產品增加，將造成物價水準往上漲 (B)我國的國民所得提高，人民普遍變得更加富裕 (C)持有新臺幣蔚為風潮，吸引外國人大量兌換 (D)開銷變多，民眾因而拋售實質資產籌錢花用。
37. 2022 年 3 月的新聞報導：「俄烏戰爭開打至今超過一個月，外界關注對全球政經局勢及臺灣經濟的影響。行政院主計總處表示，2022 年台灣經濟成長率確實有下修的可能，但『保 4』應該沒問題。至於俄烏戰爭牽動能源價格、加劇通膨壓力，估計 2022 年國內消費者物價上漲率可能會落在 2.4% 至 2.6% 間。」已知臺灣 2021 年的經濟成長率逾 6%，主計總處對 2022 年臺灣經濟成長的預測，下列敘述何者正確？ (A)受物價影響，臺灣實質 GDP 較前年低 (B)臺灣的經濟景氣緊縮，可能出現衰退 (C)臺灣 2022 年經濟成長的亞洲排名將下修 (D)臺灣的經濟景氣持續擴張但成長趨緩。
38. 凱因斯曾說：「通過連續的通貨膨脹過程，政府可以秘密、不為人知地沒收公民財富的一部分。用這種辦法可以任意剝奪人民的財富，在使多數人貧窮的過程中，卻使少數人暴富。」下列何者較能解釋這位經濟學大師的意思？ (A)通膨是政府浮濫發行貨幣所造成，目的是要將 GDP 灌水以提升經濟成長率 (B)通膨發生時會產生所得重分配的效果，對事先知道政府即將採取措施的人有利 (C)政府放任企業以無薪假與裁員方式因應經濟衰退，會被人民唾棄 (D)面對金融海嘯，政府用貨幣政策降息救經濟是錯誤的。
39. 每當選舉期間，總能聽見候選人以「人民要有錢」、「拚經濟」等類似的口號競選。若是要檢驗當選後國家有沒有比之前有錢，應該看總體經濟指標的何種變化最為恰當？ (A)GDP 較過去增加 (B)出口總額創下歷史新高 (C)經濟成長率呈現正數 (D)消費者物價指數超過 100。
40. 下列關於購買力平價理論的敘述，何者錯誤？ (A)是一種根據各國不同的價格水準計算出來的貨幣之間的等值係數 (B)是選用相同的產品做比較 (C)購買力的意思：我們賺的錢能買多少東西 (D)平均薪資高，實質購買力比較強。