

高雄市立鼓山高中 114 學年度第二學期第二次段考《國一》國文科試題卷

考試範圍：翰林版四~六課、語(二)

電腦讀卡代碼：01

一年 班 號 姓名

一、單題：(每題 2 分，共 40 分)

( ) 1. 以下哪一組詞的讀音相同？

- (A) 鑲「嵌」／山「坎」 (B) 「緬」懷／「硯」規  
(C) 「麝」香／溼「漉」漉 (D) 「哺」乳／胸「脯」。

( ) 2. 下列文句，何者最為精簡，沒有冗詞贅字？

- (A) 魔法風潮方興未艾，書迷熱切期盼這一類的新書上架  
(B) 大家都擠在鎮瀾宮前，等待媽祖遶境隊伍行列經過  
(C) 每年秋冬都會一向有大批候鳥棲息在高美溼地  
(D) 老師已經勸告過他，他依然照舊固執已見，最終踢到鐵板。

( ) 3. 在閱讀某篇報導時，作者提到：「石虎是臺灣特有的珍貴動物之一，其生存面臨著棲地減少的威脅。」請問作者是如何層次分明地說明生態保育的議題？

- (A) 敘述龍貓在日本的意義，接著說明石虎對臺灣的重要，進而呼籲要珍惜。  
(B) 從琉球西表島的山貓談起，進而點出石虎在臺灣的困境，建議可以效法日本。  
(C) 描述過去石虎常見，對比現今石虎瀕臨絕跡，期勉共同努力讓石虎復育。  
(D) 以石虎的生存危機為主軸，進而提出疑問引發讀者思考，最後提出建議。

( ) 4. 「沿著河堤，我開始拉著天空奔跑」這是一種「誇飾」的說法。下列何者也使用了此手法？

- (A) 高堂明鏡悲白髮，朝如青絲暮成雪 (B) 姑蘇城外寒山寺，夜半鐘聲到客船  
(C) 書冊埋頭無了日，不如拋卻去尋春 (D) 細數落花因坐久，緩尋芳草得歸遲。

( ) 5. 在一篇關於自然保育的文章中，提到石虎的保育策略時，作者以苗栗三義為例，闡述了該地在石虎保育中的特殊意義。請根據文章內容回答：下列何者「不是」作者認為三義適合作為保育策略的原因？

- (A) 能結合周遭淺山步道規畫生態旅遊  
(B) 設有生態教育館，可以進一步規畫  
(C) 因三義是目前石虎發現最多的鄉鎮  
(D) 石虎環保人士抗議，帶動眾人關注。

( ) 6. 根據右文，下列敘述何者最正確？

- (A) 活動開始前 7 小時都可以取消訂單  
(B) 行程除立槳衝浪，另含導覽、潛水  
(C) 小荳一家五口，正好可以湊團一起出行  
(D) 總行程超過 3 小時，建議先吃飽再上船。

( ) 7. 下列列文句，何者用字正確？

- (A) 我們靈敏聰穎，懷有鴻鵠大志 (B) 我們氣勢膨派，不怕任何挑戰  
(C) 我們是璀璨的寶石，韻含深度 (D) 我們陶氣、可愛，活潑又熱情。

( ) 8. 關於「近體詩」的簡介，下列敘述何者錯誤？

- (A) 平仄：絕句和律詩皆須合乎平仄 (B) 押韻：絕句和律詩偶數句必須押韻，一韻到底  
(C) 對仗：絕句和律詩都必須要對仗 (D) 字數：絕句和律詩皆有五、七言之分。

( ) 9. 在鼓山高中舉辦的文學理解比賽中，阿凱拿出一本珍藏的《杜甫詩選》，並提出這樣的問題：「如果杜甫是一位大學教授，在外演講後回到家中，說的第一句話可能是：『尚有油鹽否？』」請問阿凱這段話的意義為何？

- (A) 以教育解決油鹽不足的狀況才是關鍵 (B) 偉大的詩人或教授也會面臨生活中的現實問題  
(C) 藝術創作與現實生活正好可以融為一體 (D) 大學教授應該遠離日常生活

⑤ 行程前 72 小時可取消訂單  溪團導覽，每團 15-25 人  
④ 行程時長：3 小時 30 分鐘  自行前往指定地點集合

① 搭船前往號稱「人間仙境」的牛奶海，在美麗的海域體驗立槳衝浪 (Stand up paddle)  
② 近距離欣賞龜山島海底溫泉的獨特地景，環湖繞島一周  
③ 搭配專業解說員，深度探索海洋與龜山島地理環境生態之美  
④ 因安全考量，下水一律需穿著救生衣，禁止潛水  
⑤ 活動中全面禁菸，禁止開火飲食







- ( ) 10. 有關新詩的敘述，下列何者正確？  
(A) 又叫近體詩 (B) 有固定的形式與格律  
(C) 一定不可押韻 (D) 從胡適提倡白話文運動之後才發展起來。
- ( ) 11. 下列畫線的詞語，何者使用錯誤？

歡迎大家來參與今天的校慶運動大會。三年前，因為老師們(A)備嘗艱辛地籌辦學校，以及鄉親們的(B)鼎力相助，才能完成創校大業。今天的校慶運動大會，希望所有的參賽選手，都能秉持(C)扶搖直上的運動家精神，在各種運動領域(D)精益求精、追求卓越，爭取自己的光榮，也爭取班級的光榮。最後，預祝各班級都有好的成績。



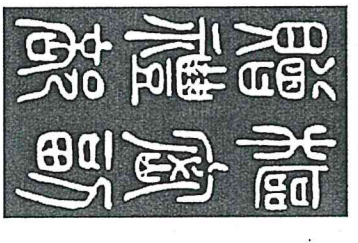

- ( ) 12. 假設你在夏天的果園裡幫忙，看到許多果實因成熟而散發著誘人的香氣。一位農夫突然問你：根據以下詩句內容，猜猜看這描述的是哪種水果？詩句為：「從小在沙田裡翻滾／直到成年／青綠色的皮膚／不用置生堂保養／有一顆像人類的頭顱／但沒有思想／只有滿腔赤血／每逢炎夏／大地各人們一齊喊／渴呀／我便／拋頭顱／灑熱血」。
- (A) 哈密瓜 (B) 木瓜 (C) 冬瓜 (D) 西瓜
- ( ) 13. 「很多人都以為一首詩的誕生就像是嬰兒呱呱落地般，是頭腳齊全地來臨的，殊不知它們經常是靠一隻鼻子找到一張臉，憑一根腳趾找到一條腿的。」這句話的涵義，與下列何者最接近？  
(A) 寫詩就如同懷胎，需要時間孕育 (B) 一首詩通常是由零星的想法逐漸發展完成  
(C) 寫詩常憑靈感拼湊，毫無脈絡可尋 (D) 好詩可讓讀者從中尋索到作者的情性思想。
- ( ) 14. 在一次課堂活動中，老師向學生展示了以下詩句，並詢問大家：在律詩中間的兩聯中，對仗是非常重要的。請根據以下選項，判斷哪一句詩符合律詩中間聯的格式？  
(A) 星垂平野闊，月湧大江流 (B) 晚來天欲雪，能飲一杯無  
(C) 待到重陽日，還來就菊花 (D) 離離原上草，一歲一枯榮。
- ( ) 15. 宋晶宜曾提到：「驕傲的人並不一定自信，謙虛的人卻常是不自卑的。最能肯定自己的應該不是掌聲，而是心靈的回聲。」假如你在一次校內演講比賽後，聽到評委引用這段話來勉勵參賽者，並提問：「關於這段話，下列說明何者正確？」  
(A) 缺乏自信的人常是因為過於謙虛造成 (B) 最能自我肯定的方法是得到旁人讚美  
(C) 真正有實力的人，常是自信卻不自滿 (D) 充滿自信的人通常表現出驕傲的態度。
- ( ) 16. 學生時期接觸文學藝術時，經常被鼓勵觀察與欣賞作品。某位教育心理學家指出：「多接觸好作品，可以養成欣賞的眼光，未來更能主動尋找好作品。」這段話最可能支持以下哪一個觀點？  
(A) 好作品需要有人欣賞才能有藝術價值 (B) 從文學藝術教育得到鑑賞藝術品能力  
(C) 老師都是在學生時期培養鑑賞的能力 (D) 大量創作文藝作品可以培養賞析能力。
- ( ) 17. 「隨著科技的進步，AI 人工智慧已經滲透到我們生活的各個層面，從智慧型手機的語音助理，到自動駕駛汽車，甚至是醫療診斷，然而，這股浪潮不僅帶來便利，也引發了許多倫理和社會議題。例如，當 AI 在金融市場進行交易時，如果程式出現錯誤，誰該為此負責？當 AI 被用於創作藝術作品時，著作權又該歸屬於誰？我們在享受 AI 紅利時，也必須深入思考如何制定規範，以確保科技的發展符合人類的共同利益。」根據這篇短文，下列何者最適合做為其標題？  
(A) 人工智慧的技术與革新 (B) 智慧科技的法律規範  
(C) 未來世界的科技生活 (D) AI 的應用與倫理挑戰。
- ( ) 18. 小承參加「環境保護」海報設計比賽，他希望設計海報時能用一句標語來傳達核心理念。下列四則標語，哪一則最能同時表達「環境保護的迫切性」與「每個人都能為此做出貢獻」這兩個意涵？  
(A) 救地球刻不容緩，就從你我做起 (B) 人與自然共攜手，同創永家園  
(C) 入山林只留下足跡，不留下垃圾 (D) 守護綠色，就是守護我們的未來。

( ) 19. 下列是四幅不同字體的圖片，請按照它們演變的時代先後順序加以排列。

(甲)	(乙)	(丙)	(丁)
			

(A) 甲乙丙丁 (B) 乙丁甲丙 (C) 甲丙丁乙 (D) 乙甲丙丁。

( ) 20. 「隸書是漢代主要的書寫字體，在字形結構上是將小篆轉折弧形的筆畫拉直，形體比小篆方扁，筆畫則方折多於圓轉，它最大的特點是筆勢舒展，筆畫尾部如水波之勢上挑。」依據這段文字的說明，下列何者為隸書字體？

(A)	(B)	(C)	(D)
			

二、題組：(每題 2 分，共 20 分)

個人形象跟國家形象一樣重要，建立良好的個人形象，必須先從改善別人對自己的印象，也就是改善「自我形象」做起。

一個人先要看得起自己，別人才看得起你。這是一個很簡單卻真實的道理，口口聲聲說「我不是讀書的料」的學生，在別人眼光裡一定越來越像一個自暴自棄的孩子。

每逢談到自己的時候，要使用樂觀、進取、肯定和積極的語言，這樣不但能提高自尊心，改善自我形象，也能使別人刮目相看。心理學家說，一個人對自己天賦的態度，比天賦本身更重要。

常常想像自己是一個有前途的學生，前途一定大放光明。

(黃驥 建立個人形象)

- ( ) 21. 作者認為建立良好的個人形象的第一步應如何？
- (A) 先改善別人對自己的印象 (B) 臉上常保持笑容，但要保持沉默
- (C) 衣著整齊，打扮光鮮亮麗 (D) 舉止大方，出手闊綽。
- ( ) 22. 下列哪一個例子，適合用來證明「一個人對自己天賦的態度，比天賦本身更重要」？
- (A) 拿破崙每天只睡四小時，橫跨歐洲戰功彪炳 (B) 史懷哲義無反顧，到非洲行醫救人
- (C) 牛頓坐在蘋果樹下，發現地心引力 (D) 武洋匪不良於行，依然樂觀向上。

甲、我就要鬆手／輕輕放開掌心纏繞的線圈／我厭倦了閃躲刺眼的陽光／仰頭望著你飛得既高且遠的身影／還要勉強自己對你說／我希望你能飛得更高更遠／滿足了你的期待／卻失落了自己的依靠／手裡緊繞的絲線／只換得一陣疼痛的訊號／這一次／我準備好了攤開緊握的拳頭／放掉不真實的擁有／向天邊的你瀟灑地揮揮手／放任你遠遠離開我的視線／我並非期待你更臻完美的飛翔演出／只是為了讓自己／沒有牽絆地走開

(郭盈蘋 風箏)

乙、讓我們到歌聲嘹亮的上空放風箏／從一線陽光在雲層裡突破的缺口／輕輕地打開希望的呼吸／繞過它向永恆談條件／到蔚藍的髮上尋找航圖／讓我們離開困擾我們的文明／用搖籃的手斜斜地使力／一次比一次／更高飛

(暮云 一線風箏在高飛)

- ( ) 23. 關於這兩首詩所表現的情感，下列何者說明正確？
- (A) 甲詩無怨無悔，乙詩自甘墮落 (B) 甲詩無可奈何，乙詩抑鬱難平
- (C) 甲詩無牽無掛，乙詩志氣昂揚 (D) 甲詩消極頹喪，乙詩趾高氣昂。
- ( ) 24. 關於這兩首詩的寫作手法，下列何者說明正確？
- (A) 甲詩採用總分手法，乙詩分項條列細數 (B) 甲詩善用中西典故，乙詩運用名言佳句
- (C) 甲詩善用譬喻手法，乙詩先敘事後抒懷 (D) 甲詩運用象徵意象，乙詩運用轉化修辭。

根據國朝宮史記載，皇后年俸 1000 兩銀子，貴妃一年 600 兩銀子，每年就相差 400 兩，怪不得貴妃不開心。至於金器、銀器，指的是膳食器皿規定。皇后可以用金碗吃飯，皇貴妃、貴妃用銀器，貴人、常在、答應等連銀碗都不行，只能使用銅器、錫器、瓷器、漆器。妃嬪人人都想力爭上游拚上位，也不是沒有道理。畢竟在清朝後宮，什麼位分才配用什麼行頭，宮廷器皿和權力地位井然有序，階級森嚴。就算你淡泊名利，不在乎奢華行頭，但日常吃什麼、喝什麼，也和嬪妃的位份大有關聯。現代臺灣人手一杯手搖飲，假若身在清朝後宮，想天天喝好茶？抱歉，先看你的後宮等級。以公家每月配發的六安茶：皇太后 1 斤、妃與嬪 12 兩、貴人與常在 6 兩，答應只有 3 兩。所以入宮不好好爭寵，想一天一杯茶都難喔！

(改寫自中研院：研之有物)

- ( ) 25. 根據本文，下列說明何者正確？
- (A) 清朝盛產茶葉，後宮嬪妃無限量供應 (B) 古代後宮嬪妃依照等第給予薪俸
- (C) 宮廷器皿和權力地位無關，大家共用 (D) 妃嬪人人都想力爭上游拚上位，因大家團結一心為國服務。
- ( ) 26. 根據本文提到的後宮體制，下列何人的行為「逾越規矩」？
- (A) 雲貴人用漆器品嚐茶點 (B) 皇后與皇太后用黃金杯盞喝下午茶
- (C) 甄嬛皇貴妃用金碗進晚餐 (D) 珍貴人拿出珍藏的青花瓷盤裝水果款待母親。

昔人已乘黃鶴去，此地空餘黃鶴樓。  
黃鶴一去不復返，白雲千載空悠悠。  
晴川歷歷漢陽樹，芳草萋萋鸚鵡洲。  
日暮鄉關何處是？煙波江上使人愁。

(崔顥·黃鶴樓)

- ( ) 27. 關於本詩的說明，下列何者正確？
- (A) 本詩屬於七言絕句 (B) 本詩共有三組對仗
- (C) 開頭兩句點出本詩主題 (D) 韻腳為樓、悠、洲、愁。
- ( ) 28. 「昔人已乘黃鶴去，此地空餘黃鶴樓。黃鶴一去不復返，白雲千載空悠悠。」上述詩句所表達的情感為何？
- (A) 物是人非，滿懷惆悵 (B) 時光流逝，把握當下
- (C) 拋開過去，迎向挑戰 (D) 閒適自在，淡泊名利。

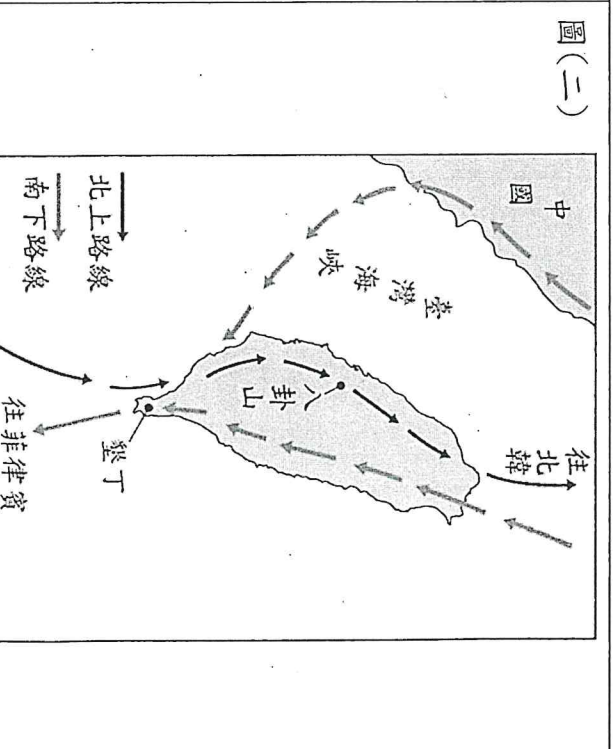
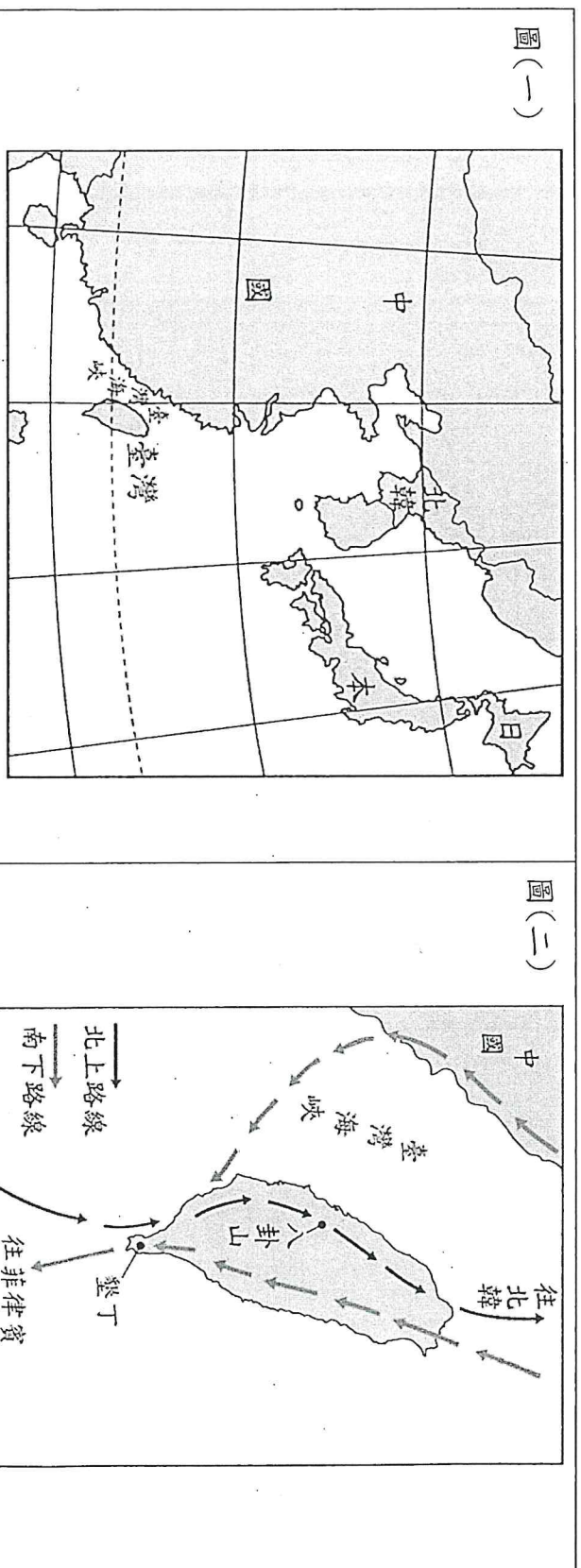
灰面鵟鷹是過境臺灣的候鳥。每年十月起，牠們遠從日本、西伯利亞或中國東北而來，經過墾丁，前往菲律賓的度冬地，到了三月，再集結北返。

研究灰面鵟鷹十多年的人員曾經透過無線電追蹤，了解牠們的遷徙路線。春季牠們會從度冬地開始北遷，一條路線是從臺灣東南外海的蘭嶼，經過琉球北上，回到日本繁殖地。另一條路線則是從臺灣的西岸通過，回到中國東北、北韓或日本一帶。位在臺灣中部的八卦山，因為地理位置而成為牠們重要的休息站。

每年春天，成千上萬的灰面鵟鷹從南方來，彰化人稱牠們「南路鷹」。八卦山的次生林環境，提供了豐富的食物來源。另外，猛禽遷徙過程依靠氣流滑翔，必須利用山脈地形，尋找上升氣流，再提升高度，八卦山正好就提供這樣的地理條件。

(改寫自留住八卦驛站)

- ( ) 29. 小原根據本文與圖(一)畫了一張灰面鵟鷹遷徙路線圖，如圖(二)。小嵐認為小原在圖中標示的遷徙路線有疏漏和錯誤，他提出了下列說法。對照本文後，何者可以成立？



- (A) 北上的路線應該在臺灣南部出海 (B) 北上的路線少畫了經由蘭嶼的這條  
 (C) 南下的路線不應該經由墾丁出海 (D) 南下的路線少畫了從中國來的這條。
- ( ) 30. 根據本文，八卦山成為灰面鵟鷹重要休息站的原因，最可能是下列何者？
- (A) 林相完整，雨量豐沛 (B) 地形獨特，容易識別  
 (C) 食物豐富，地形適合 (D) 氣候溫暖，適合繁殖。

# 高雄市立鼓山高中 114 學年度第二學期第二次段考《國一》國文科作答卷

選擇(60分)	非選(40分)	總分

一年\_\_\_\_班\_\_\_\_號 姓名\_\_\_\_\_

## 三、國字注音：(每題1分，共12分)

1. 「篆」書：	2. 「蒨」鬱：	3. 平「上」去入：
4. 「領」聯：	5. 「蒨」北：	6. 「銳」減：
7. 「ㄩㄩㄛˋ」永：	8. 「ㄛ一ˋ」枝：	9. 衰「ㄉㄨㄟˋ」：
10. 美輪美「ㄉㄨㄛˋ」：	11. 繁「一ㄛˋ」：	12. 「ㄩㄛˋ」舍：

## 四、解摘釋：(1-8每題2分，9-12每題1分，共20分)

1. 欲窮千里目：	2. 扶搖直上：
3. 縱酒：	4. 湛藍：
5. 紅塵：	6. 次第：
7. 蒨鬱：	8. 驚鴻一瞥：
9. 「卻」看妻子：	10. 欲「窮」千里目：
11. 驚鴻一「瞥」：	12. 白日「依」山盡：

## 五、課文填充(每格2分，共8分；錯一字扣1分，扣完為止)

1. 劍外忽傳收蘄北，( )滿衣裳。
2. 卻看妻子愁何在，( )喜欲狂。
3. ( )須縱酒，青春作伴好還鄉。
4. 即從巴峽穿巫峽，卻下襄陽( )。





※請將答案寫在答案卷上

(A) 基礎題 (70%)

考試時間 45 分鐘

一、根據文意填入適當的字詞：20 % (每題 2 分)

1. Many people in Taiwan have a barbecue on the Moon \_\_\_\_\_.
2. Chinese New Year is my favorite \_\_\_\_\_.
3. Jessie: What's the \_\_\_\_\_ of the basketball game?  
Joseph: It's on August 5.
4. \_\_\_\_\_ the water and drink it later.
5. Please throw away the \_\_\_\_\_. It's very stinky!
6. Lucy, \_\_\_\_\_ your hands first, and then you can have lunch.
7. Please write down your name on the \_\_\_\_\_.
8. What does the word "celebrate" \_\_\_\_\_?
9. \_\_\_\_\_ it or not, there is a tiger in the mountain!
10. There are many cars on the \_\_\_\_\_.


二、True or False 依據圖片，將正確的敘述寫 T，錯誤的敘述寫 F。20 % (每題 2 分)

Lisa	Josh

want 想要

1. Josh wants three oranges.
2. Lisa wants some coffee.
3. Lisa wants three apples.
4. Lisa and Josh are hungry.
5. Josh wants some milk.
6. Lisa needs a dozen eggs.
7. Josh wants three pieces of cake.
8. Lisa doesn't want any chocolate.
9. Josh wants four apples. Lisa wants two.
10. Lisa loves cake. She wants three pieces of cake.

三、看圖填入適當的字詞：10% (每格 1分)



MON	TUE	WED	THU	FRI	SAT	SUN
3	4	5	6	7	8	9
10	11	12	13	14	15	16
17	18	19	20	21	22	23
24	25	26	27	28	29	30
31						

1 Q: What is the ① of the dance party?

A: It's on March ②.



MON	TUE	WED	THU	FRI	SAT	SUN
3	4	5	6	7	8	9
10	11	12	13	14	15	16
17	18	19	20	21	22	23
24	25	26	27	28	29	30
31						

2. Q: What is the date of Henry's birthday?


A: It's on ③ ④.



MON	TUE	WED	THU	FRI	SAT	SUN
3	4	5	6	7	8	9
10	11	12	13	14	15	16
17	18	19	20	21	22	23
24	25	26	27	28	29	30

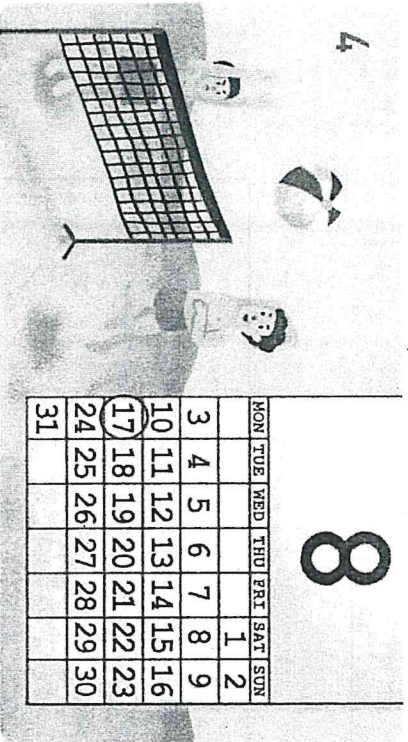
3. Q: When is Earth Day?

A: It's on ⑤ ⑥.



4. Q: ⑦ is the opening of the new art museum?

A: It's on June ⑧ .  
 opening 開幕



5. Q: ⑨ is the beach ball game?

A: It's on ⑩ seventeenth.  
 beach 沙灘

四、依提示整句作答：20% (每題4分)

1. Mother's Day

Q: \_\_\_\_\_  
 A: It's on May twelfth.



1.

2. Sandra's potluck


Q: \_\_\_\_\_ (用date問)  
 A: It's (on) June seventh.



2.

3. cake

Q: What is the mouse eating?  
 A: \_\_\_\_\_



3. 28.

4. Jack's family trip


Q: When is Jack's family trip?  
 A: \_\_\_\_\_



4.

5. Jane's afternoon tea party

Q: When is Jane's afternoon tea party?  
 A: \_\_\_\_\_



5.

(B) 挑戰題 (30%)

五、閱讀克漏字、填充題和選擇題：(每題二分)

(1~4) 填充題：請將 A 部份的(A,B,C,D)代號答案填入 B 部份。

A: 答案選項：


(A) September 28	(D) December 24
(C) February 14	(B) March 9

B: 題目欄：(1 ~ 4)

<p>1. It's cold tonight. I'm sitting beside a beautiful tree in the living room. I hope Santa will bring me something nice. Q: What's the date today? Ans: _____</p>	<p>2. There are flowers and chocolate on Miss Hsu's desk. This is a surprise for her from her husband. Q: What's the date today? Ans: _____</p>
<p>3. We love the color powder fights so much! Everything is so colorful. I hope we can have a really good and happy new year. Q: What's the date today? Ans: _____</p>	<p>4. Our teachers always take good care of us. Let's do something to show our thanks to them. How about buying them some gifts? Q: What's the date today? Ans: _____</p>

(5 ~ 7)

Ms. Lin: Hey, class. I have some gifts for all of you.  
 Ted: Wow! Thank you. What are they?  
 Ms. Lin: They are some cool things from Thailand.  
 Judy: Postcards of elephants?  
 Allen: Thai snacks?  
 Ms. Lin: Good guess about elephants, but they're actually notebooks.  
 Ted: Is there something special about them?  
 Ms. Lin: Yes, they're made from elephant poop.  
 Allen: Really?! Do they smell...  
 Ted: I don't want to touch them...  
 Ms. Lin: The notebooks are clean and smell like paper. Everyone, come and get one.



guess 猜測    actually 事實上    notebook 筆記本  
 make from 由...製作    touch 碰觸    smell like 聞起來像

5. ( ) What does Ms. Lin do?



6. ( ) What are them?

(A) Postcards. (B) Elephants.

(C) Notebooks.

7. ( ) Which is true?

(A) The notebooks are from Thailand.

(B) The gifts are made from Thai snacks.

(C) The elephant postcards smell like paper.

(8 ~ 10)

Kathy: The Dragon Boat Festival is coming. It is a 8. in Taiwan. We don't have to go to school.

Hank: Really? That's good. When is it?

Kathy: It's on 9. of May in the lunar calendar.

Hank: How about the 10. of the festival in the solar calendar?

Kathy: It is on June 9, and it's Friday. We can have a three-day holiday that weekend!

Hank: Wow, that's great. How do you celebrate the Dragon Boat Festival? We don't have that in Japan.

Kathy: People here have a lot of fun on that day. We have Dragon Boat Races on the rivers, and my mom's rice dumplings are the best. You can try some.

Hank: That's very nice of you.

lunar calendar 農曆 solar calendar 國曆 rice dumpling 粽子 best 最好的

( ) 8. (A) week (B) holiday (C) season (D) days

( ) 9. (A) four (B) five (C) fifth (D) the fifth

( ) 10. (A) meeting (B) month (C) date (D) party

(11 ~ 12)

Peter: Hey, Lisa. Are you going to the supermarket?

Lisa: Yeah. 11.

Peter: I need some pork. Can you buy some for me?

Lisa: No problem. How much do you need?

Peter: About 1 kilo.

Lisa: 12.

Peter: I want to make pork sandwiches.

Lisa: I see. Anything else?

Peter: Two bottles of orange juice. Thanks.

Lisa: Not at all.

\* supermarket 超市 kilo 公斤 How much 多少

- ( ) 11. (A) Where's the supermarket? (B) Do you buy pork?  
(C) What is it? (D) How do you go there?

- ( ) 12. (A) Why do you need pork? (B) What do you like to eat?  
(C) When do you eat pork sandwiches? (D) How do you make pork sandwiches?  
(13 ~ 15)

There is a kind of coffee in the world from Asian Palm Civet's poop. Asian Palm Civet is a little animal and it likes to eat coffee berries. You can see Asian Palm Civet on coffee farms in Indonesia. People find some coffee berries from its poop. Farmers put the poop together, wash and bake it. Kopi Luwak becomes its new coffee name and people sell it at a very high price. People say it tastes like sugar and fruit. It can cost 30,000 per kilogram. You can buy Kopi Luka in the Philippines and in East Timor.

Try and taste something different and special Kopi Luwak is your best choice.

● Indonesia 印尼 Asian Palm Civet (亞洲椰子貓) best choice (最好的選擇)

- ( ) 13. Where can you NOT find Kopi Luwak?  
(A) Indonesia. (B) Taiwan. (C) East Timor.  
( ) 14. According to the reading, which is NOT true?  
(A) Kopi Luwak is expensive. (B) It is not easy to get Kopi Luwak.  
(C) Asian Palm Civet is a kind of coffee name.  
( ) 15. What may (可能) Kopi Luwak taste like (像)?  
(A) Milk. (B) Fruit. (C) Tea.

【英語閱讀試題到此全部結束】

# 高雄市立鼓山高中 114 學年度第 2 學期第二次段考《國一》英語科 閱讀 答案卷

範圍：南一版英語 B2 L3~Review 2

一年 \_\_\_\_\_ 班 \_\_\_\_\_ 號 姓名： \_\_\_\_\_

閱讀卷 (80%)	英聽卷 (20%)	總分

## (A) 基礎題 (70%)

一、根據文意填入適當的字詞：20% (每題 2 分)

1.	2.	3.	4.	5.
6.	7.	8.	9.	10.

二、True or False 依據圖片，將正確的敘述寫 T，錯誤的敘述寫 F。20% (每題 2 分)

1.	2.	3.	4.	5.
6.	7.	8.	9.	10.

三、看圖填入適當的字詞。10% (每格 1 分)

①	②	③	④	⑤
⑥	⑦	⑧	⑨	⑩

四、依提示整句作答：20% (每題 4 分)

1.	
2.	
3.	
4.	
5.	

## (B) 挑戰題 (30%)

五、閱讀克漏字，填充題和選擇題：30% (每題 2 分)

1	2	3	4	5	6	7	8	9	10
11	12	13	14	15					

高雄市立鼓山高中 114 學年度第 2 學期第二次段考《國一》英語科聽力試題卷

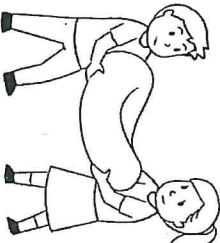
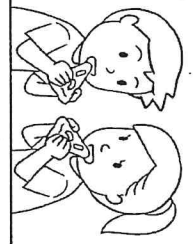

範圍：南一版英語 B 2 L3~Review 2 (課本+習作)




一年\_\_班\_\_號 姓名\_\_

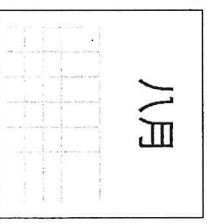
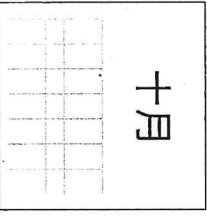
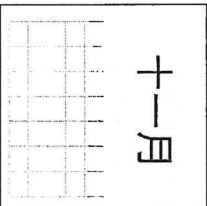
※請將答案直接劃在答案卡上。 英聽代碼：22

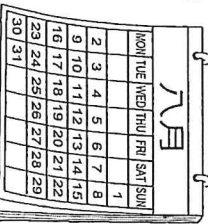
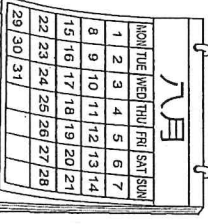
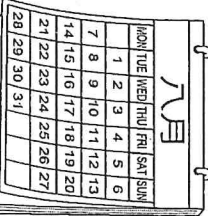
英語聽力成績佔段考英語總成績 20%

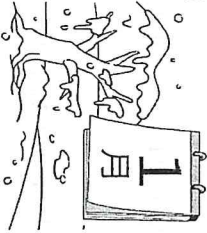


一、辨識句意-根據聽到的內容，選出正確的圖片代碼：每題 4 分、共 40 分

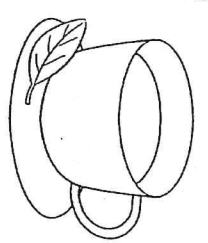
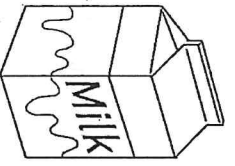
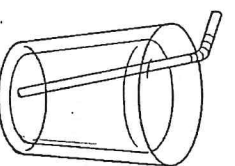
- ( ) 1. (A)  (B)  (C) 




- ( ) 2. (A)  (B)  (C) 




- ( ) 3. (A)  (B)  (C) 

- ( ) 4. (A)  (B)  (C) 

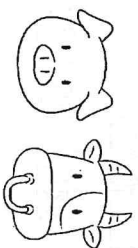

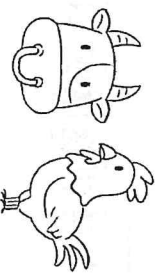
- ( ) 5. (A)  (B)  (C) 

- ( ) 6. (A)  (B)  (C) 


- ( ) 7. (A)  (B)  (C) 

- ( ) 8. (A)  (B)  (C) 

( ) 9. (A) X (B) O (C) X (D) O




( ) 10. (A)



(B)



(C)



二、基本問答-根據聽到的內容，選出合適的回應：每題 3 分、共 30 分

- ( ) 11. (A)It's Sunday. (B)It's May 10. (C)It's a good day.  
( ) 12. (A)In January. (B)It's snowy. (C)Almost every time.  
( ) 13. (A)We eat moon cakes. (B)Once in a blue moon. (C)Don't waste your food.  
( ) 14. (A)In April. (B)On Wednesdays. (C)On August eighth.  
( ) 15. (A)No problem. (B)It's on January 25th. (C)They have water fights.  
( ) 16. (A)Isn't it great? (B)Can you believe it? (C)That's a lot of work.  
( ) 17. (A)No, chicken is good. (B)No, today is the meat-free day. (C)Let's get our hands dirty.  
( ) 18. (A)The Moon Festival. (B)Once in a blue moon. (C)The festival is just around the corner.  
( ) 19. (A)He doesn't like pies. (B)A piece of pie, please. (C)I can make beef noodles.  
( ) 20. (A)No, it's not useful. (B)How about three slices? (C)No, thanks. I'm not hungry.

三、言談理解-根據聽到的對話內容與問題，選出正確的答案：每題 3 分、共 30 分

- ( ) 21. (A)It's on August 29. (B)It's on August 30. (C)It's on September 1.  
( ) 22. (A)It's on January 24. (B)It's the girl's favorite. (C)The boy likes it very much.  
( ) 23. (A)August 31. (B)September 1. (C)September 2.  
( ) 24. (A)They have a party with families. (B)They wash away bad luck with water. (C)They say "Gong-si" to other people.  
( ) 25. (A)It's on Friday. (B)It's for the school's birthday. (C)Every student can only wear bear costumes.  
( ) 26. (A)Eggs. (B)Chicken. (C)Noodles.  
( ) 27. (A)They can clean the garbage. (B)They can't clean their hands. (C)There are some garbage bags by the sea.  
( ) 28. (A)The room is very big. (B)The room is very dirty. (C)They have two bathrooms.  
( ) 29. (A)It is near Lion Street. (B)The girl is having a party there. (C)It has large special lunchboxes.  
( ) 30. (A)Boil the poop. (B)Color the poop. (C)Put the poop on a screen.

# 高雄市立鼓山高中 114 學年度第二學期第二次段考《國一》數學科試題卷

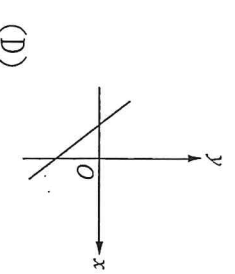
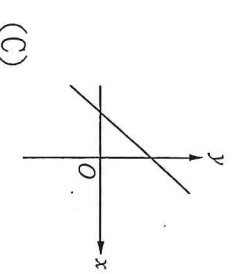
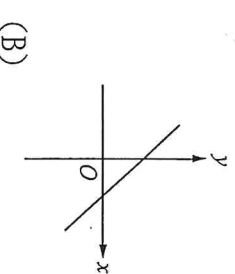
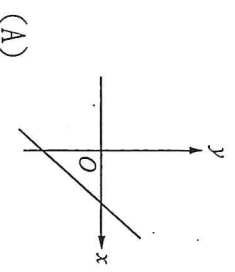
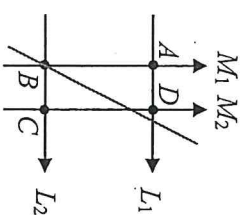
考試範圍：第二冊 2-2~3-2

答案請寫在答案卷上

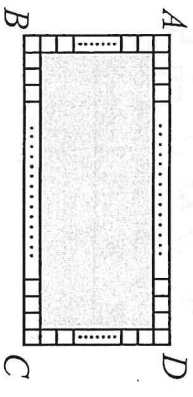
一年\_\_\_\_班\_\_\_\_號 姓名\_\_\_\_\_

## 一、單選題：每題 4 分，共 64 分

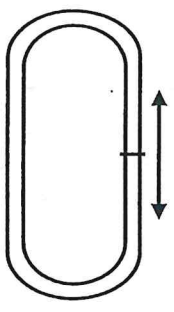
- ( ) 1. 2 : 3 的比值為下列何者？  
 (A)  $\frac{3}{2}$  (B)  $\frac{2}{3}$  (C) 2.3 (D) 3.2
- ( ) 2. 下列何者為最簡整數比？  
 (A) 15 : 8 (B) 14 : 7 (C) 7 : 14 (D) 6 : -3
- ( ) 3. 畫二元一次方程式  $x + 2y = 4$  的圖形時，下列哪個點在此直線圖形上？  
 (A) (2, 2) (B) (0, 2) (C) (0, 4) (D) (4, -4)
- ( ) 4. 坐標平面上，直線  $y = -3x - 4$  和直線  $y = -7$  的交點座標為何？  
 (A) (-7, -1) (B) (0, -7) (C) (1, -7) (D) (-1, -7)
- ( ) 5. 坐標平面上，關於二元一次方程式  $2x - 3y = 12$  的圖形，下列敘述何者正確？  
 (A) 圖形不經過第四象限 (B) 圖形與  $x$  軸交於 (6, 0)  
 (C) 圖形與  $y$  軸交於 (0, 4) (D) 圖形通過原點
- ( ) 6. 下列哪一組的比是相等的？  
 (A) 5 : 3 與 3 : 5 (B)  $\frac{1}{7} : \frac{1}{2}$  與 7 : 2 (C) 4 : 9 與 2 : 3 (D) 9 : 3 與 12 : 4
- ( ) 7. 若  $x : y = 2 : 1$ ，則  $(x - 1) : (y + 1)$  之比為何？  
 (A) 1 : 2 (B) 2 : 1 (C) 7 : 5 (D) 無法判斷
- ( ) 8. 已知右表中的  $x$ 、 $y$  成正比例關係，試問  $a + b - c = ?$
- |     |     |    |     |     |
|-----|-----|----|-----|-----|
| $x$ | $a$ | 12 | 16  | $c$ |
| $y$ | 14  | 21 | $b$ | 35  |
- (A) 16 (B) 0 (C) -5 (D) 11
- ( ) 9. 若  $(3x - 4)$  與  $y$  成正比，且  $x = 2$  時  $y = 1$ ，則當  $y = -8$  時， $x = ?$   
 (A) -4 (B) 56 (C)  $\frac{8}{3}$  (D) -14
- ( ) 10. 已知單價與購買數量相乘等於總金額，下列敘述何者正確？  
 (A) 若購買數量固定，則單價與總金額成反比 (B) 若單價固定，則購買數量與總金額成反比  
 (C) 若總金額固定，則單價與購買數量成反比 (D) 以上皆非
- ( ) 11. 下列哪個式子表示  $x$  與  $y$  成反比？  
 (A)  $2x - 7y = 10$  (B)  $3x - 8y = 0$  (C)  $y = 3x + 7$  (D)  $2xy - 7 = 0$
- ( ) 12. 如右圖，直線  $L_1$ 、 $L_2$  其中一條為  $x$  軸，直線  $M_1$ 、 $M_2$  其中一條為  $y$  軸，若紅色直線為方程式  $2x - y = -6$  的圖形，那麼圖中的 A、B、C、D 四點，哪一點可能是原點？  
 (A) A (B) B (C) C (D) D
- ( ) 13. 若  $ab < 0$ ， $a - b < 0$  則下列哪一個圖形有可能是直線  $y = ax + b$  的圖形？



- ( ) 14. 如右圖，將長方形 ABCD 分割成 1 個灰色長方形與 144 個面積相等的小正方形。若灰色長方形之長與寬的比為 22 : 13，則  $\overline{AD} : \overline{AB} = ?$
- (A) 5 : 3 (B) 7 : 5  
(C) 23 : 14 (D) 47 : 29



- ( ) 15. 如右圖，小傑、奇犽兩人背對背同時繞操場走一圈。已知奇犽走一圈要 130 步，且兩人相遇時小傑走了 84 步、奇犽走了 60 步。假如兩人出發點相同，且速率不變，則小傑走一圈要幾步？
- (A) 156 步 (B) 182 步  
(C) 266 步 (D) 98 步



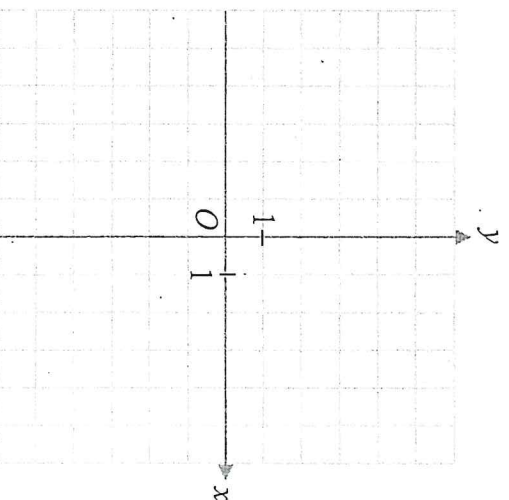
- ( ) 16. 已知物體的重量與距離星球球心的平方成反比。如果某星球的半徑為 1000 公里，則在星球表面上 500 公斤的物體，移到離星球表面 1000 公里的太空中，應該重多少公斤？
- (A) 500 公斤 (B) 100 公斤 (C) 250 公斤 (D) 125 公斤

### 二、填充題：每題 4 分，共 28 分

- 座標平面上，二元一次方程式  $4x - 5y = -20$  的圖形，不會通過第 \_\_\_\_\_ 象限。
- 已知  $y$  與  $x$  成反比，且  $x = 9$  時， $y = 13$ 。 $x$ 、 $y$  的關係式為 \_\_\_\_\_。
- 將 234 : 456 化為最簡整數比。答：\_\_\_\_\_。
- 已知  $x$ 、 $y$  皆不為 0，且  $\frac{x}{20} = \frac{y}{5}$ ，求  $x : y$  的最簡整數比。答：\_\_\_\_\_。
- 已知  $x : y = 2 : 5$ ，求  $3x : 7y$  的最簡整數比。答：\_\_\_\_\_。
- 爸爸以每小時 65 公里的平均速率從家裡出發開車到車站需要 24 分鐘，如果媽媽以固定速率行駛同一路程需要 39 分鐘，則媽媽開車的平均速率為每小時 \_\_\_\_\_ 公里。
- 若鼓山國中原本男、女生人數的比為 5 : 4，後來加入男生 50 人、減少女生 25 人，使男、女生人數比變成 10 : 7，則原本男生人數是 \_\_\_\_\_ 人。

### 三、計算題：每題 4 分，共 8 分

- 若  $2x : 3y = 5 : 7$ ，且  $x + y = 87$ ，則  $(x + 5) : (y - 2)$  的比值為多少？
- 將二元一次方程式  $2x - 3y = 6$  畫在座標平面上。



# 高雄市立鼓山高中 114 學年度第二學期第二次段考《國一》數學科答案卷

考試範圍：第二冊 2-2~3-2

答案請寫在答案卷上

一年\_\_\_\_班\_\_\_\_號 姓名\_\_\_\_\_

## 一、單選題：每題 4 分，共 64 分

1	2	3	4	5	6
7	8	9	10	11	12
13	14	15	16		

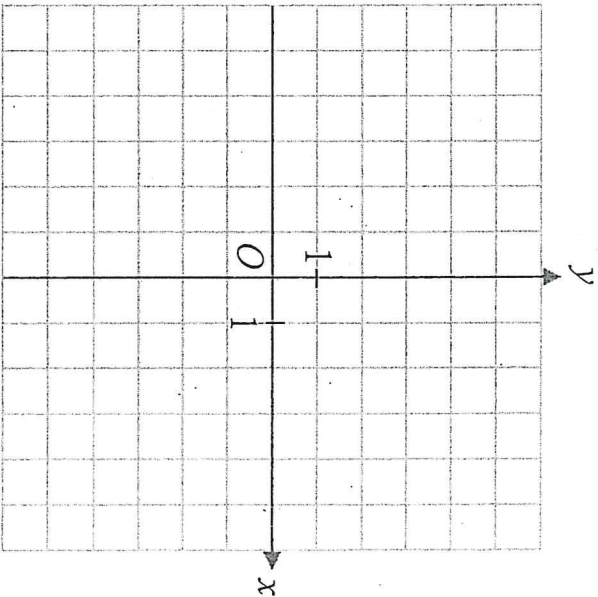
## 二、填充題：每題 4 分，共 28 分

1	2	3	4
5	6	7	

## 三、計算題：每題 4 分，共 8 分

1. 若  $2x : 3y = 5 : 7$ ，且  $x + y = 87$ ，則  $(x + 5) : (y - 2)$  的比值為多少？

2. 將二元一次方程式  $2x - 3y = 6$  畫在座標平面上。



# 高雄市立鼓山高中 114 學年度第二學期第二次段考《國一》自然科試題卷

考試範圍：2-2~3-3

年 班 號 姓名

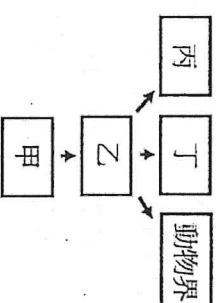
電腦讀卡代碼：12 【注意：若為畫卡作答之考科，經閱卷讀卡發現畫記錯誤，該科扣 5 分，未畫卡者該科以 0 分計】。

一、單選題：共 40 題，每題 2.5 分

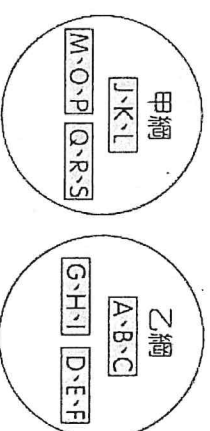
1. 台灣某知名變性藝人，性別為男性，經由外科手術後將男性特徵去除，整型美容變為女兒身，試問其口腔細胞內的染色體應該如何表示？(A) 46+XY (B) 46+XX (C) 44+XY (D) 44+XX。
2. 下列何者不屬於生物技術應用的範圍？(A) 添加礦物質以增加農作物產量 (B) 生產具觀賞價值的螢光魚 (C) 複製生物 (D) 組織培養。
3. 下列哪些人需要遺傳諮詢專家的協助？(甲) 母親患有因營養不良導致的貧血；(乙) 配偶是血友病患者；(丙) 育有一個地中海型貧血症的小孩；(丁) 有白化症但希望擁有子女的父母。  
(A) 甲乙丙丁 (B) 甲乙丙 (C) 甲丙丁 (D) 乙丙丁。

4. 語恩欲產生一隻複製豬，若將黑毛豬具有細胞核的體細胞，置入白毛豬去細胞核的卵細胞，再將此卵放入灰毛豬的子宮，則會產下什麼的豬？(A) 灰毛豬 (B) 黑毛豬 (C) 斑馬紋路的豬 (D) 白毛豬。

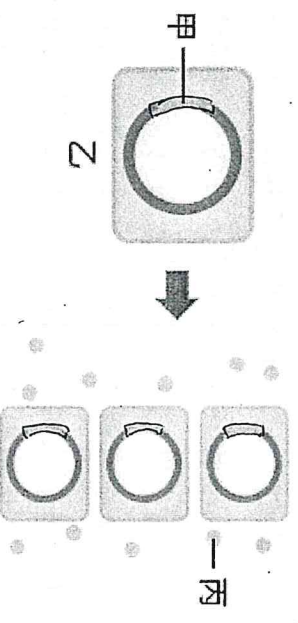
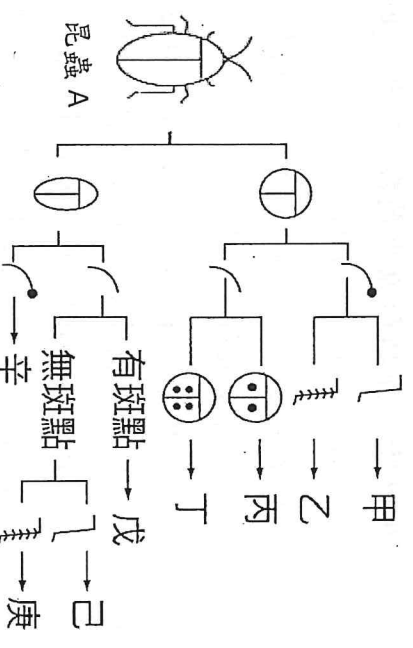
5. 科學家依據生物的細胞構造、營養方式及生活史，將地球生物分為五大界如右圖，請問下列敘述何者正確？



- (A) 甲界生物皆具有細胞核 (B) 乙界生物皆生活在陸地上 (C) 若丙為真菌界，則丁為植物界 (D) 病毒可歸屬於五大界中的任何一界。
6. 地球上生物的分類階層主要有七層，請問下列何者敘述錯誤？  
(A) 分類階層包括界、門、綱、目、科、屬、種 (B) 分類的層次越高，包含的生物親緣關係越近 (C) 分類的層次越低，包含的生物種類越少 (D) 分類的層次越低，通常包含的生物特徵越相似。
7. 下列有關二名法的敘述，何者正確？(A) 依據二名法的規則取名，則稱為學名 (B) 皆由英文命名 (C) 由科名和種小名構成 (D) 由英國科學家孟德爾提出。
8. 同學們在生物課討論原生生物界的課題，陳小怡說：「此界生物皆為單細胞生物」；陳小姿說：「此界生物可分為原生動物、藻類和原生菌類」；陳小華說：「此界生物皆可經加工做為健康食品」。請問哪些同學的說法錯誤？  
(A) 陳小怡、陳小姿 (B) 陳小怡、陳小華 (C) 陳小姿、陳小華 (D) 三者說法皆為錯誤。
9. 諾羅病毒可能會引起嚴重的上吐下瀉，傳染途徑包括和患者密切接觸或食用遭患者嘔吐物、排泄物污染的食品，常造成校園等大規模群聚感染。請問下列有關病毒的敘述，何者正確？(A) 病毒屬於原核生物界 (B) 病毒可以在活體外繁殖 (C) 病毒具有細胞膜、細胞質和細胞核 (D) 病毒構造有蛋白質外殼，內有遺傳物質。
10. 莊小函整理生物資料中有這 4 種生物：(甲) *Panthera tigris*；(乙) *Felis tigris*；(丙) *Bos domesticus*；(丁) *Felis domesticus*，請問哪兩者親緣關係最近？(A) 甲乙 (B) 甲丙 (C) 乙丁 (D) 乙丙。
11. 甲、乙、丙、丁、戊五種生物，已知甲、戊同科不同屬，乙、丁同綱不同目，甲、丙、丁同目不同科，請問下列何者正確？(A) 甲、丁同門 (B) 乙、丙同屬 (C) 甲、丙同種 (D) 甲、戊親緣關係最遠。
12. 如右圖所示，以大圓形代表綱，長方形代表目，英文字母代表物種，下列何者敘述正確？(A) 丁和 Q 可以產生具有生殖能力的下一代 (B) B 和 S 的外型應極為相似 (C) E 和 F 的親緣關係比 G 和 I 更接近 (D) 物種 M 與 R 的關係相當於 H 與 E。
13. 同學們在討論馬和驢是否為同「種」的議題，請問何者正確？  
(A) 陳小怡說：「不同種，因為他們不能產生具有生殖能力的下一代」  
(B) 莊小君說：「不同種，因為他們俗名不同」  
(C) 蘇小云說：「同種，因為他們可以產生下一代」  
(D) 蔡小欣說：「同種，因為他們外型相似」。
14. 髮菜又稱髮狀念珠藻，是藍綠菌類的生物，因其顏色黑且形狀細長而得名。有關念珠藻的特性，下列敘述何者錯誤？(A) 具有細胞壁 (B) 具有細胞膜 (C) 具有葉綠素 (D) 屬於原生生物界。
15. 科學家根據化石等證據推測地球上生命和環境的演變，下列有關化石的敘述何者正確？  
(A) 只有生物的遺體才會形成化石 (B) 堅硬的細胞壁有利於植物形成化石  
(C) 化石不可能保有柔軟的組織細胞 (D) 化石不易受到環境和生物的破壞。



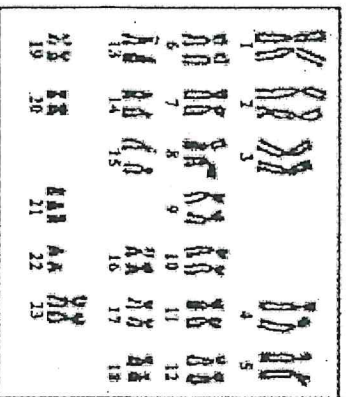
16. 依據馬的化石可以推測其演變過程，下列何者敘述錯誤？  
 (A)四肢的趾數越來越少 (B)牙齒的咀嚼面積越來愈小 (C)體型由小變大 (D)演化為較有利於在草原上奔跑。
17. 壽山位於高雄市西南區，為南北走向之珊瑚礁質丘陵地，舊稱麒麟山、埋金山、打狗山或打鼓山，是高雄市的天然地標。其中有許多含有貝類化石的珊瑚礁岩，此現象最合理的解釋為何？  
 (A)這些珊瑚是現已滅絕的陸生種珊瑚 (B)這些珊瑚是被海浪沖上來的  
 (C)這些珊瑚礁岩是形成後由海底抬升的 (D)這些珊瑚離水登陸生活。
18. 科學家根據化石可推測恐龍過去的可能樣貌，但不包括下列何者？  
 (A)體色 (B)體型 (C)食性 (D)生存時間。
19. 下列有關基因轉殖的敘述，何者正確？(A)屬於有性生殖的一種，須經配子的結合 (B)只在醫療上產生效用，農、林、漁、畜牧業皆無助益 (C)原理是將某一外來的基因轉殖入生物的細胞內，使被轉殖的生物表現出該基因的性狀 (D)經基因轉殖的生物皆無法產生下一代。
20. 生物遺傳物質發生變異的情形稱為突變。下列有關突變的敘述，何者正確？(A)突變在自然界中不會自行發生 (B)當遺傳物質接觸到某些化學因子，例如紫外線、核輻射和 X 光，突變機會大增 (C)突變若發生在生物的體細胞，只會在此個體表現出突變的特徵 (D)突變通常對個體本身或其子代極有益處。
21. 有關人類細胞中的染色體，下列何者錯誤？  
 (A)女性口腔皮膜細胞是 44+XX (B)男性肌肉細胞是 44+XY  
 (C)女性的卵只有 22+X (D)男性的精子只有 22+Y。
22. 根據英國的研究人員經由一連串的複製技術，成功產下全世界第一隻複製羊：桃莉。請問在複製羊的過程中包括下列何者？(A)細胞分裂 (B)基因轉殖 (C)精卵結合 (D)基因重組。
23. 細胞內的染色體組成會因為細胞種類不同而有所差異，(甲)卵細胞；(乙)受精卵；(丙)紅血球；(丁)肌肉細胞，請問以上四種人體細胞中，何種細胞具有成對的性染色體？(A)只有甲 (B)乙和丁 (C)甲和丙 (D)甲乙丙。
24. 下列有關育種的敘述，何者正確？(A)人類會刻意捨棄生物的變異，維持品種的單一性 (B)從金魚中可培育出各式各樣的鯽魚 (C)經育種產生的生物更適合在自然環境中生存 (D)現今人類可運用基因轉殖等技術，在短時間內完成育種，縮短逐代篩選的時間。
25. 民法第 983 條規定近親不能結婚，請問主要原因為何？(A)容易生下具遺傳性疾病的小孩 (B)會增加子代發生突變的機率 (C)隱性等位基因會轉變成顯性 (D)會提高夫妻不孕的機會。
26. 張小瑞在校園發現了右圖昆蟲 A，利用右表進行分類檢索，可鑑定圖中昆蟲 A 所屬的類別為何者？(A)丙 (B)乙 (C)庚 (D)辛。
27. 下列有關藻類的敘述何者錯誤？(A)均含葉綠素 (B)均有細胞壁  
 (C)屬於植物界 (D)有些可供食用，例如：昆布、石花菜。
28. 有關生物分類階層的敘述，下列何者正確？  
 (A)「同科」必「同屬」(B)「同綱」的親緣關係比「同科」的親緣關係近  
 (C)「同綱」必「同目」(D)「同屬」的親緣關係比「同綱」的親緣關係近。
29. 右圖為利用細菌進行基因轉殖製造人類胰島素的流程，請問下列何者敘述錯誤？  
 (A)甲為人類製造胰島素的細胞 (B)乙為被轉殖的生物  
 (C)丙為人類的胰島素 (D)基因轉殖後的細菌可以產生人類的胰島素。
30. 關於人類 A、B、O 血型的遺傳，下列敘述何者正確？  
 (A)人類的 A、B、O 血型由 I<sup>A</sup>和 I<sup>B</sup>二種等位基因控制  
 (B)血型分別為 AB 型與 O 型的父母，有可能生出血型為 O 型的女子  
 (C) I<sup>A</sup>是顯性等位基因，I<sup>B</sup>是隱性等位基因，i 與血型表現較無關係  
 (D)若一人血型為 AB 型時，其基因型只有 I<sup>A</sup>I<sup>B</sup>一種可能。
31. 血型皆為 B 型的夫婦，生下了兩個小孩，小孩的血型不可能為下列哪一種情形？  
 (A)皆為 O 型 (B)一個是 B 型、一個是 AB 型  
 (C)皆為 B 型 (D)一個是 B 型、一個是 O 型。



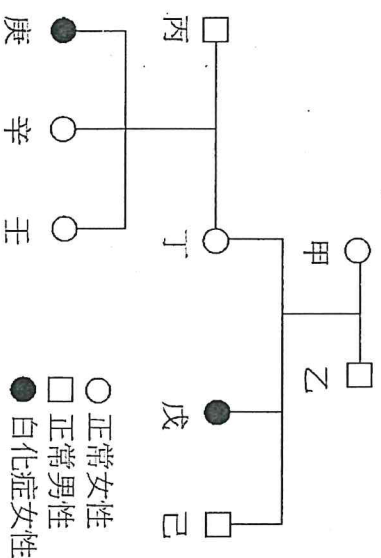
寶林茶室中毒案為 2024 年臺灣一宗重大集體食物中毒事件。3 月下旬，臺北市寶林茶室疑似處理食物不當導致滋生唐菖蒲伯克氏菌，並分泌邦克列酸(舊稱米酵菌酸) (Bongkrek acid)，導致有多名食客食物中毒就醫。唐菖蒲伯克氏菌屬於革蘭氏陰性桿菌，在中性 (pH 6.5-8.0)、低鹽(含鹽量<2%)、溫暖且潮濕(20-30°C)條件下，可大量孳生，尤其在富含油酸(Oleic acid)之椰子及其果肉、玉米、木耳、銀耳等食品中，並於生長過程產生邦克列酸。  
邦克列酸(舊稱米酵菌酸)是一種罕見的毒素，經過高溫、高壓烹煮都難以破壞毒性，抑制細胞粒線體作用，導致細胞無法進行呼吸作用或能量交換，加上其無色、無味之特性，若不慎食入，通常很難察覺，因而造成中毒死亡。常見於穀、麥類磨漿後未即時晾曬製作，或製作完畢未冰存導致變質的澱粉類。  
 <資料來源：衛生福利部食品藥物管理署>  
 請依據上文回答 32-34 題。

32. 唐菖蒲伯克氏菌的正確學名寫法為何?  
 (A) Bongkrekic Acid (B) oleic acid (C) *Burkholderia gladioli* (D) *Burkholderia gladioli*。
33. 已知唐菖蒲伯克氏菌是一種革蘭氏陰性桿菌，不可能發現下列何種構造?  
 (A) DNA (B) 細胞核 (C) 細胞質 (D) 細胞膜。
34. 唐菖蒲伯克氏菌與下列何種生物的親緣關係最接近?(A) 新冠肺炎病毒 (B) 酵母菌 (C) 藍綠菌 (D) 黏菌。

◎透過篩檢可以提前了解孕婦肚子裡的胎兒健康情形，包括羊膜穿刺檢查可得到染色體如(圖一)，另外此家族的遺傳性疾病史情形如(圖二)，請回答 35-40 問題：



(圖一)



(圖二)

35. 關於(圖一)的敘述，何者正確?(A)此胎兒可能罹患唐氏症(B)此胎兒的 X 染色體皆來自母親 (C)此胎兒為男生 (D)此胎兒具有 46 條染色體。
36. 此對夫妻至優生保健門診諮詢時，繪製白化症(為隱性遺傳疾病)家族遺傳性病史如(圖二)。請問無法確認下列何者的基因型?(A)甲 (B)丙 (C)庚 (D)壬。
37. 如(圖二)，丙和丁有三個女兒，若再生第四胎，是白化症兒子的機率為何?  
 (A) 0 (B) 1/2 (C) 1/4 (D) 1/8。
38. 承第 37 題，人類子代的性別決定於那一個階段?  
 (A)母親產生卵的瞬間 (B)父親產生精子的瞬間 (C)卵和精子結合的瞬間 (D)母親產出胎兒的瞬間。
39. 如(圖二)若丙的血型為 A 型，丁的血型為 AB 型，使用棋盤方格法推測其子代的基因型如右表，請問下列何者錯誤?(A) 乙為 I<sup>B</sup> (B) 丙為 I<sup>A</sup> (C) 丁為 I<sup>A</sup>I<sup>A</sup> (D) 戊為 I<sup>B</sup>i。
40. 下表有關遺傳性疾病的敘述，何者正確?(A)甲 (B)乙 (C)丙 (D)丁。

選項	疾病名稱	疾病症狀
甲	白化症	紅血球較小且易破裂，會產生貧血現象
乙	地中海型貧血症	難以分辨顏色的差異
丙	唐氏症	智力及反應較為遲緩，或器官未完整發育
丁	色盲	體內缺乏黑色素，眼睛畏光，皮膚與頭髮白色

♂	I <sup>A</sup>	乙
♀	I <sup>A</sup> I <sup>B</sup>	I <sup>A</sup> i
I <sup>B</sup>	I <sup>A</sup> I <sup>B</sup>	c

♂表示男生  
 ♀表示女生

試題結束

高雄市立鼓山高中(國中)114學年度第二學期第二次段考《國一》歷史科試題卷

考試範圍:J3~J4

電腦讀卡代碼: 04

一年\_\_\_\_班\_\_\_\_號 姓名\_\_\_\_\_

一、選擇：(每個答案 4 分，共 100 分)

- ( ) 中華民國政府接收臺灣初期，政策失當民心浮動，其中什麼問題造成民眾極大的不滿？ (A)物價飛漲 (B)外患不斷 (C)預期壽命短 (D)人口外流
- ( ) 何人主持《自由中國》雜誌，提倡民主制度與政黨政治，並試圖組織政黨，卻遭到政府壓制？ (A)蔣渭水 (B)雷震 (C)林獻堂 (D)陳儀
- ( ) 家偉前往臺灣圖書館，看到一本臺灣鐵道的相關書籍，內容主要分為臺灣島內介紹、各線路導覽、鐵道營業中心三大部分，書中收錄有臺灣各地風景照片及各市街導覽地圖，在書中出現的車站名、地名或人名等名詞，皆會詳細標注日文音譯。由這些內容可得知，此手冊編寫的目的為下列何者？ (A)總督府為臺灣山林調查而進行的調查成果 (B)規畫臺灣山林資源的開採 (C)展現日本在臺建設的現代化成果 (D)為吸引日人在臺觀光旅遊
- ( ) 附表為臺灣在不同政權統治下官方的重要教育措施，若按其施行的時間先後排列，下列何者正確？ (A)甲乙丙 (B)乙甲丙 (C)丙甲乙 (D)甲丙乙。

教育措施

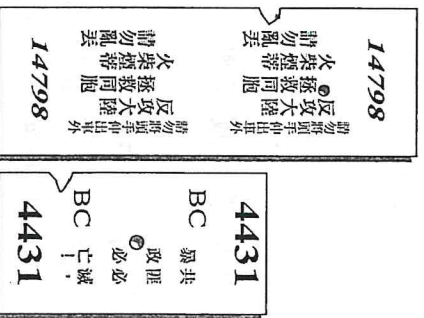
甲、設西學堂、電報學堂
乙、建立公學校及小學校
丙、推行九年國民義務教育

- ( ) 日治時代林獻堂等人曾發動了歷時十多年的請願活動。請問：此一運動的主要訴求是向日本當局要求設置哪一個機構？ (A)臺灣總督府 (B)臺灣議會 (C)臺灣民眾黨 (D)臺灣地方自治聯盟
- ( ) 法律是保障民眾權益的最後一道防線。但在某時期，法律不但無法保障民眾，執政者甚至不依照法律程序，進行對民眾的迫害，造成許多人遭到誤判、冤判的情形一再發生，形成後人所謂的「威權體制」。上述時期被稱為下列何者？ (A)日治時期 (B)白色恐怖時期 (C)黨外運動時期 (D)民主化改革時期
- ( ) 臺灣文化協會與推動臺灣議會設置請願運動的成員重疊甚多，是因為當時臺灣知識分子主要的訴求為何？ (A)革命推翻日本政權 (B)政治請願爭取權利 (C)促使日本文化扎根 (D)經濟上採抵抗運動
- ( ) 下列為我國某個已廢止的法案的部分內容：

第一條	總統在動員戡亂時期，為避免國家或人民遭遇緊急危難，或應付財政經濟上重大變故，得經行政院會議之決議，為緊急處分，不受憲法第三十九或第四十三條所規定程序之限制。
第二條	總統副總統得連選連任，不受憲法第四十七條連任一次之限制。

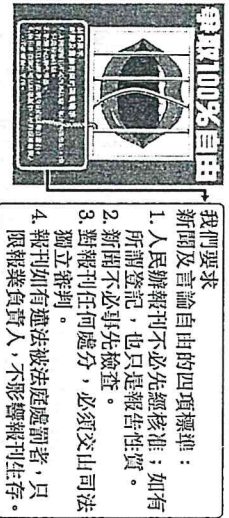
此法案的制定，應與何事有關？ (A)國共內戰 (B)第一次世界大戰 (C)中日戰爭 (D)牡丹社事件

9. ( ) 家衛在《臺灣鐵道史》書中，找到一張臺灣早期火車票的圖片。請問：這應是哪一時期的車票？  
(A) 清帝國時期 (B) 日治時期 (C) 戒嚴時期 (D) 解嚴時期



10. ( ) 「臺灣文化協會」在西元1923年舉辦的演講只有36場，第二年增加為132場，啟迪民智的影響力與日俱增。請問：下列何人與這個協會舉辦的活動有很大的關係？ (A) 丘逢甲 (B) 余清芳 (C) 唐景崧 (D) 蔣渭水

11. ( ) 下圖為1980年代臺灣某雜誌的封底，藉此表達該雜誌社的政治訴求。圖中內容所呈現的訴求，最可能與下列何者有關？ (A) 中央民意代表改選以及總統直選 (B) 政府應該妥善處理「二二八事件」 (C) 政府推行國語運動使得母語式微 (D) 消弭戒嚴體制對人民權利的限制。



12. ( ) 阿殷：本來以為終於有機會可以升遷了，誰能想到，他們一來，那些位子都被占走，唉！阿光：還以為他們那裡有多進步，沒想到連水龍頭都不懂，買個水龍頭插牆上就以為會有水，真是讓人笑掉大牙啊！

從阿殷與阿光的對話，請判斷他們應是生活在下列何時的人？ (A) 甲午戰爭後，臺灣割讓給日本 (B) 清法戰爭時，法軍進占基隆 (C) 霧社事件時，日軍進攻原住民部落 (D) 中華民國政府接收臺灣初期

13. ( ) 成育回想起爺爺跟他說：「在我是小學生的時候，我們國家的領袖是蔣中正，到我成家立業的時候，在國慶典禮上閱兵的領袖還是蔣中正。」蔣中正能夠持續擔任國家領導者的原因可能是下列何者？ (A) 《戒嚴令》的關係，使總統無法改選 (B) 《憲法》賦予總統可連選連任 (C) 修訂後的《動員戡亂時期臨時條款》，使總統能不受任期限制 (D) 白色恐怖時期，臺灣民眾不敢與之競逐總統大位

14. ( ) 臺灣男性的平均壽命在西元1905年是28歲，西元1945年時增到46歲，此一變化的原因和下列何者最為相關？ (A) 總督府宣導「預防疾病，早期治療」 (B) 劉銘傳的現代化建設 (C) 唐景崧成立「臺灣民主國」 (D) 林獻堂成立「臺灣文化協會」

15. ( ) 國際組織將「人權城市」定義為「既是當地社區，也是當地背景下的社會政治進程，其中人權作為基本價值觀和指導原則發揮著關鍵作用。」依此原則，高雄市為全臺唯一被指定為人權城市的地點。請問：高雄市最有可能因為曾經發生哪一事而被國際組織指定為人權城市？ (A) 雷震事件 (B) 二二八事件 (C) 美麗島事件 (D) 野百合運動

16. ( ) 每年的二月二十八日，臺灣各地都會舉辦各種追思會以追悼二二八事件受難者。請問：二二八事件是發生於臺灣哪一個時期的歷史事件？ (A) 明鄭時期 (B) 清領時期 (C) 日本統治時期 (D) 國民政府統治時期。

17. ( ) 右圖是臺灣總督府所發行的「健民運動」海報。請問：這種健民運動對臺灣有什麼直接影響？ (A) 接受守時觀念 (B) 接受現代醫藥衛生觀念 (C) 就學率提高 (D) 移入人口增加




18. ( ) 民國六十到七十年代末期，臺灣政治與社會改革運動逐漸興起，這與下列哪一個原因有關？ (A) 宣布解嚴 (B) 廢除《動員戡亂時期臨時條款》 (C) 臺灣教育水準低落 (D) 完全落實地方自治

19. ( ) 在《亞細亞的孤兒》一書中，對日治時期臺灣人民的心理及社會狀況有深刻的描述。下列關於本書的描述何者有誤？ (A)時代背景為二十世紀 (B)一般漢人可就讀公學校 (C)亞細亞的孤兒是指臺灣人 (D)皇民化運動後，臺灣人與日本人地位無差別
20. ( ) 下圖是兩張宣傳海報，說明講座課程和講師。請判斷當時這兩場活動的主辦單位最可能為下列何者？ (A)臺灣議會 (B)臺灣文化協會 (C)臺灣民眾黨 (D)臺灣地方自治聯盟

<p>★時間：西元 1923 年 8 月 10 日</p> <p>★課程：臺灣通史、憲法</p> <p>★講師：○○○先生 ○○○律師</p>	<p>★時間：西元 1924 年 7 月 27 日</p> <p>★課程：經濟、衛生</p> <p>★講師：○○○先生 ○○○醫生</p>
---	---

21. ( ) 在臺灣民主政治的發展上，由於下列何者的發生，使得黨外運動進入轉型期，正式開啟政黨競爭的新階段？ (A)二二八事件 (B)美麗島事件 (C)中國民主黨組黨運動 (D)民主進步黨的成立
22. ( ) 臺灣，南島語族重要的分布地區，隨著歷史各階段不同族群的移入與發展，促使原住民的生活空間日漸限縮，文化傳統也隨之轉變。清人李秉瑞所撰寫的《蓬萊小語》曾寫道：「時人入山，常遇靈怪悲號迴野(遇到妖怪鬼哭神號)，俗謂『討路費，散冥鏹(撒冥錢)，可免。』遇怪悲號猶可，遇番悲號，則以首級為路費矣。」生動描繪原住民的「出草」文化。請問：直至何時原住民的出草習俗才因政府政策而終止？ (A)荷蘭在臺時期 (B)清帝國時期 (C)日治時期 (D)中華民國時期

23. ( ) 下圖中被逮捕的人物是白色恐怖時期的知識分子，他準備籌組中國民主黨，但很快遭到關切，甚至因而入獄。請問：圖中的人物最可能是下列何人？ (A)雷震 (B)陳儀 (C)蔣渭水 (D)林獻堂



24. ( ) 家中的長輩常提及：「我們那時代要參加定期的社區環境清潔活動，保正、甲長會來監督，警察也會來檢查，打掃若不合格，還要重掃啣！」這樣的衛生觀念，在哪一個時代建立？ (A)鄭氏在臺時期 (B)清帝國時期 (C)日治時期 (D)中華民國時期
25. ( ) 「都市化」與「人口增加」經常呈現正相關，從一九二〇年代開始，臺灣人口大幅增加，現代化的城市也紛紛出現。請問：這個時期人口增加的原因，下列何者為非？ (A)醫療進步 (B)出生率高 (C)移入者眾 (D)社會安定

# 高雄市立鼓山高中 114 學年度第二學期第二次段考《國一》地理科試題卷

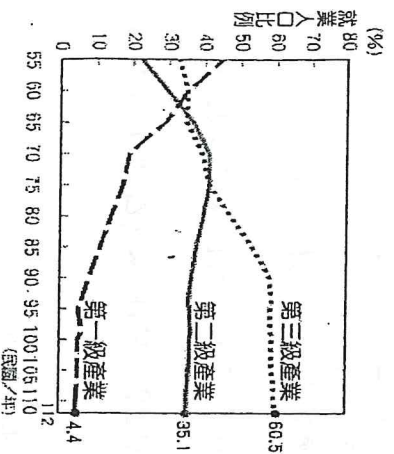
考試範圍：三、四章

電腦讀卡代碼：05

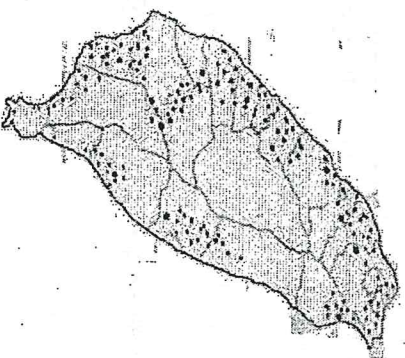
年 班 號 姓名

【注意：若為畫卡作答之考科，經閱卷讀卡發現畫記錯誤，該科扣 5 分，未畫卡者該科以 0 分計。】  
選擇題：共 50 題, 1 題 2 分

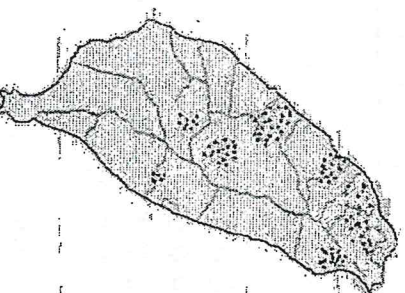
- 下列何種行業屬於第一級產業？(A)量販業(B)畜牧業(C)紡織業(D)運輸業
- 高科技屬於第幾級產業？(A)一(B)二(C)三(D)四
- 高科技業所具有的產業特徵不包括下列何者？(A)勞力密集度高(B)技術密集度高(C)資本密集度高(D)附加價值高
- 台灣從事人口最多，創造產值最高的是(A)農業(B)工業(C)服務業(D)建築營造業
- 下列關於臺灣第二級產業發展的敘述，何者錯誤？  
(A)民國四十年代，臺灣主要的工業發展類型為農產加工業  
(B)民國五十年代，政府在南投成立加工出口區，利用大量廉價勞力和優惠政策，吸引外國資金和技術  
(C)民國六十年代，配合國內重大基礎設計畫，政府推出十大建設，大力發展重化工業  
(D)民國七十年代迄今，政府發展技術和資本密集產業，以提升產業競爭力
- 民國 55 年，臺灣第一座加工出口區成立，究其成立的背景條件與目的，下列何者正確？(甲)國內市場有限，需發展外銷產業(乙)這時期臺灣有大量且便宜的勞力(丙)高科技工業為此時期的發展主軸(丁)希望能吸引外資投入與技術合作  
(A)甲乙丙(B)甲乙丁(C)乙丙丁(D)甲丙丁
- 由附圖一可看出臺灣三級產業就業人口比例的變化趨勢。根據此圖推測，下列有關臺灣產業變化的敘述，何者正確？  
(A)各級產業結構所占比例均衡(B)產業結構無明顯變化(C)目前的工商業高度發展(D)農業成長最快速



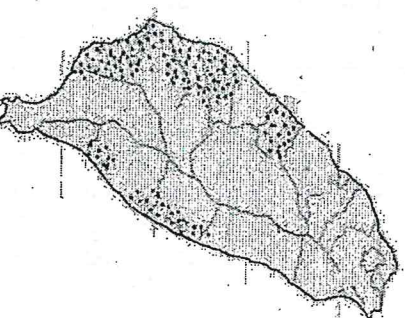
附圖一



附圖二



附圖三

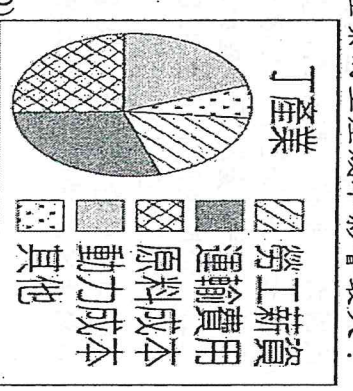
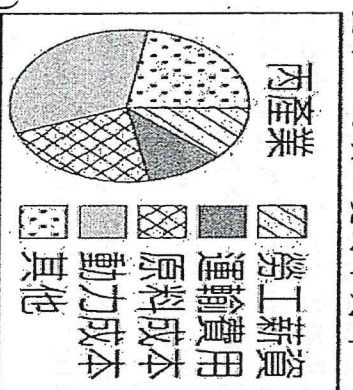
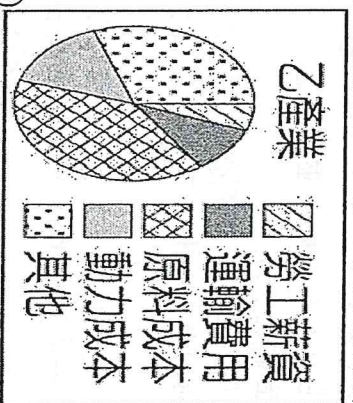
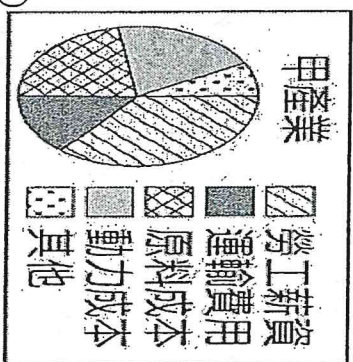


附圖四

- 請問附圖二是哪一種作物(A)茶(B)甘蔗(C)稻米
- 請問附圖三是哪一種作物(A)茶(B)甘蔗(C)稻米
- 請問附圖四是哪一種作物(A)茶(B)甘蔗(C)稻米
- 下列哪一句諺語和農業活動的「集約」最相關？(A)做牛著愛(需要)拖，做人著愛應(B)交春(立春)落雨透(到)清明(C)農無閒年，地無閒田(D)二月初二彈雷(打雷)，稻尾(稻穗)較重秤錘
- 臺灣居民對稻米的需求量日漸減少，目前政府最主要的因應措施為何？(A)加強廣告宣傳(B)外銷國外市場(C)鼓勵農民轉行從事工商業(D)鼓勵改種高經濟價值的作物
- 下列何者不是農業轉型的其中一種方向？(A)有機農業(B)提高附加價值(C)休閒農業(D)高山農業
- 臺灣加入 WTO 後，由於國內的農業生產成本高於進口國，導致許多農產品面臨衝擊，但政府仍以各種方式維持國內農產品產量，或限制國外農產品的進口比例，近年來更大力將臺灣的農產品外銷出去，以維持臺灣農業的競爭力。請問：下列何者無法達到上述目的？(A)推廣高優質的農產品(B)建立產銷履歷制度(C)開放農地自由買賣(D)推動農業品牌化
- 下列關於臺灣酪農業發展的敘述，何者不正確？(A)生產成本太高，價格不具競爭力(B)管理技術不佳，乳品品質不具營養(C)新興傳染病威脅，防疫是大問題(D)從業人力不足，尚待招收生力軍
- 下列哪一項第一級產業發展的改變，最需要搭配良好的交通系統？(A)取得產銷履歷，強化田間管理技術(B)推行鴨稻共作，降低化學肥料的使用(C)鼓勵箱網養殖，減少地下水抽取用量(D)發展休閒農業，提供民眾休憩體驗空間
- 為使民眾於外食用餐時，能夠辨識並享受在地國產米食料理，農業部於民國 103 年起推行「臺灣米標章」，推廣新鮮、在地、優質的國產米。政府推行臺灣米標章的原因與目的，何者為非？(A)飲食習慣改變，稻米需求減少(B)推廣休閒農業，促進農業轉型(C)加入 WTO 後，廉價稻米競爭(D)推廣在地食材，降低食物里程(指食物從生產地送到消費者手上或消費者的餐桌上需要的運輸距離)
- 「冬季捕烏魚，是傳統臺灣漁民的主要活動之一。」上文所述的漁業型態，屬於何種漁業類型？(A)遠洋漁業(B)近海漁業(C)養殖漁業(D)沿岸漁業
- 「夏季捕黑鮪魚，是傳統臺灣漁民的主要活動之一。」上文所述的漁業型態，屬於何種漁業類型？(A)遠洋漁業(B)近海漁業(C)養殖漁業(D)沿岸漁業
- 請問有關台灣漁業問題與轉型何者正確(A)推動箱網養殖(B)鼓勵休閒漁業(C)重視漁業生態保育(D)以上皆是

21. 請問糖廠分布是哪一種工業區位(A)原料(B)市場(C)勞工(D)動力
22. 請問報紙印刷廠分布是哪一種工業區位(A)原料(B)市場(C)勞工(D)動力
23. 請問烘焙廠分布是哪一種工業區位(A)原料(B)市場(C)勞工(D)動力
24. 請問玻璃工廠分布是哪一種工業區位(A)原料(B)市場(C)勞工(D)動力
25. 請問魚罐頭工廠分布是哪一種工業區位(A)原料(B)市場(C)勞工(D)動力
26. 請問煉鋁廠分布是哪一種工業區位(A)原料(B)市場(C)勞工(D)動力
27. 請問高雄煉鋼廠分布是哪一種工業區位(A)原料(B)市場(C)勞工(D)動力
28. 請問科學園區分布是哪一種工業區位(A)政策(B)市場(C)勞工(D)交通
29. 「臺灣由於礦產資源不豐，必須從國外輸入原料，並將之製成產品，再輸往世界各地，以維持經濟活動的繁榮。」上文說明了下列何者是臺灣經濟發展的命脈？(A)國際貿易和製造業(B)低廉的勞工和廣大的市場(C)雄厚的資本和便利的陸運(D)進步的技術和農產原料

30. 臺灣推動「一例一休」的勞工政策，使所有勞工每週可以有一天的例假，以確保勞工有足夠的休息時間，如要在休息日加班，加班費提升為「平日每小時工資」的1.3倍。在其他條件不變下，這項改變對下列哪一種產業的生產成本影響最大？



31. 量販店結合哪兩種商業模式(甲)工廠生產(乙)批發(丙)零售(丁)網購(A)甲乙(B)乙丙(C)丙丁(D)甲丁
32. 臺灣的便利超商店數多且分布廣，對消費者而言，最大的好處為何？(A)提供大量購物的便利(B)商品價格低廉(C)購物空間廣大(D)民眾就近消費

33. 國際貿易中的「出超」，其意義為何？(A)將國外貨品賣到國內(B)國家與國家之間的談判行為(C)貿易的出口總值大於進口總值(D)貿易的進口總值大於出口總值

34. 隨著臺灣工資不斷上揚，目前許多傳統產業為了降低成本，紛紛轉移至下列哪些國家或地區？(甲)日本(乙)北韓(丙)中國(丁)東南亞(A)甲乙(B)甲丁(C)乙丙(D)丙丁

35. 請問大陸棚是水深幾公尺內的海底地形(A)50m(B)100m(C)150m(D)200m

36. 請問烏魚是隨著哪一股洋流來台？(A)西澳涼流(B)加利福尼亞涼流(C)中國沿岸流(D)拉不拉多寒流

37. 請問黑鮪魚是隨著哪一股洋流來台？(A)阿拉斯加暖流(B)黑潮(C)親潮(D)阿古拉斯暖流

38. 近年來政府推行何種技術讓養殖漁業永續發展(A)炸魚毒魚(B)地下水抽取(C)流刺網(D)箱網

39. 台灣的畜牧業是屬於(A)山牧季移(B)游牧(C)欄牧(D)放牧

40. 飼養乳牛乳羊，供應乳製品的畜牧方式為(A)放牧(B)酪農業(C)欄牧(D)游牧

41. 雲林西螺為何成為台灣重要蔬菜產銷中心(A)中山高速公路通車(B)高鐵開通(C)勞力增加(D)採機械化耕作

42. 臺灣位於熱帶和副熱帶地區，卻能生產溫帶水果的主要因素為何？(A)年均溫較高(B)乾溼季分明(C)地形起伏大(D)降水量豐富。

43. 農業部歷年來陸續推動漂鳥計畫、青農返鄉等措施，其目標是希望吸引青年投入農業工作，並參與農場實作，以培養新一代的農業人才。農業部這些措施，主要是為了改善臺灣的哪項農業問題？(A)機械化程度低(B)生產成本過高(C)耕地太過狹小(D)農村勞力老化。

44. 民國50年代，臺灣的經濟發展以雨傘、鞋子、成衣等輕工業為主。當時臺灣發展這些工業，是因其具備下列哪項區位條件？(A)工資低廉(B)礦產充足(C)資金充足(D)市場廣大。

45. 臺灣工業發展自民國50年代至今，產業類型不斷轉變。若依其發展主軸順序加以排列，應該為下列何者？(A)輕工業→電子代工→自創品牌→重工業(B)輕工業→生物科技→電子代工→重工業(C)輕工業→重工業→自創品牌→電子代工(D)輕工業→重工業→電子代工→自創品牌。

46. 臺灣在經濟發展上，對於國際貿易的依賴度極高，此種商業現象與臺灣的何種環境特徵最為相關？(甲)國土狹長；(乙)自然礦產資源缺乏；(丙)國內消費市場有限；(丁)自行生產的生產設備與零組件仰賴出口外銷(A)甲乙(B)丙丁(C)甲丁(D)乙丙。
47. 對於國際貿易的敘述，下列何者正確？(A)一國向其他國家購買物品，稱為出口(B)一國出口總值大於進口總值，稱為出超(C)一國出售物品給其他國家，稱為進口(D)臺灣因需要大量工礦原料，貿易多為入超。

48. 冰淇淋工廠設置應優先考慮哪種區位？(A)勞工(B)原料(C)市場(D)動力。

49. 美國將 iPhone 販售至臺灣，若想省下銷售產品時的運輸成本，應將工廠設置在何處？(A)美國(B)中國(C)臺灣(D)日本。


50. 關於臺灣工業發展歷程，下列何者敘述正確？(A)由重工業轉為民生工業(B)高科技工業轉型成輕工業(C)勞力密集轉為技術密集(D)技術密集轉成能源密集。

鼓山高中中國中部114學年度第二學期一年級公民科第二次月考

作答:■劃記答案卡 科目代號:06	範圍: 第三課~第四課	試卷頁數:4頁	____年____班 座號:____ 姓名:_____
----------------------	----------------	---------	--------------------------------

一、 選擇題:1-10題每題4分，其餘每題3分

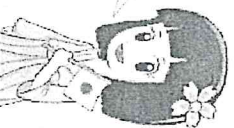
- ( ) 阿強在整理外公家的儲藏室時，發現了早期的手搖式電話、爸爸年輕時使用的黑金剛手機，以及現在大家普遍使用的智慧型手機。外公感慨地說：「從以前只能單純通話，到現在能視訊、上網、處理各種生活雜事，這些發明都是在前人的基礎上不斷改良而成的。」請問，通訊工具隨時間演進而功能日益強大的現象，最能說明文化的哪一種特性？  
(A)普遍性 (B)差異性 (C)約制性 (D)累積性。
- ( ) 儘管生活環境與風俗習慣各異，但世界各地的民族為了生存、延續族群或表達情感，都會發展出語言、飲食習慣、家庭制度以及對神靈的信仰。請問，下列哪一個例子最能說明文化具有「普遍性」的特徵？  
(A)社會發展出各種社會規範，用以約束成員的行為 (B)雖然各國菜色不同，但所有人類社會都有其獨特的飲食文化 (C)隨著時間推移，現代人的醫療技術比起古代已有大幅度的進步 (D)同樣是表達感謝，歐美人士習慣擁抱，亞洲人則較多以點頭示意
- ( ) 人類為了生存與社交，發展出了豐富的「飲食文化」。雖然世界各地的人們都要進食，但使用的餐具與進餐時的禮儀卻各不相同。請問，下列哪一個情境最能反映文化的「差異性」？  
(A)每一個社會都會發展出滿足生理需求的飲食方式 (B)為了追求健康，現代人的營養科學比過去進步許多 (C)華人習慣使用筷子用餐，西方人則多使用刀叉 (D)在公共餐廳用餐時，應保持安靜以尊重他人
- ( ) 在臺灣，送禮時若選擇「時鐘」，常因諧音「送終」而被視為不吉利；但在西方國家，送時鐘則被視為準時與珍貴禮物的象徵。這種對於相同物品卻有不同觀感與解釋的現象，最能說明文化具有哪一種特性？  
(A)普遍性 (B)差異性 (C)累積性 (D)約制性。
- ( ) 在臺灣，大部分的人在日常溝通時習慣使用國語或閩南語，這構成了社會中多數人認同的價值與溝通媒介。然而，在某些特定的愛好者圈子中，例如「動漫迷」或「電競玩家」，他們發展出了一套特有的術語（如：被推坑、吃雞、Buff）與行為模式。相較於社會大眾通用的語言習慣，這些特定群體所發展出的文化屬於？  
(A)主流文化 (B)次文化 (C)強勢文化 (D)多元文化
- ( ) 臺灣早期的建築風格多元，而在近年的老屋翻修潮中，許多設計師將傳統的「紅磚三合院」或「日式木造建築」結合了現代的工業風鋼鐵構件、大片落地窗以及節能通風系統。這種建築風格既保留了歷史的韻味，又具備現代生活的機能與美感，深受年輕世代歡迎。請問，這種建築風格的演變最能說明下列哪一個文化概念？  
(A)文化創新 (B)文化傳承 (C)文化位階 (D)文化資產
- ( ) 小美假日時喜歡去逛來自瑞典的跨國連鎖家具店（如 IKEA），回家路上買了一杯源自西雅圖的星巴克咖啡，晚餐則與朋友相約吃美式漢堡店，並全程用 iPhone 手機拍照打卡。這些跨國品牌與生活方式不僅在臺灣隨處可見，也影響了許多人的消費習慣與審美觀。請問，這種歐美生活風格對台灣產生的廣泛影響，最能說明該文化在台灣屬於？(A)優質文化 (B)強勢文化 (C)本土次文化 (D)弱勢文化
- ( ) 右圖是西元 1965 年的馬祖初級中學學生手冊，學生生活公約中要求學生「要說國語，不講方言」。請問，這種在學校推行「掛狗牌、罰錢、禁說方言」的作法，主要反映了當時政府對文化的何種看法？  
(A)主張不同語言之間地位平等，應互相欣賞 (B)認為文化會隨著時間演進而自然產生累積性 (C)存在著「文化位階」概念，將國語視為較優越的語言 (D)強調尊重不同族群的語言權，推動多元文化發展
- ( ) 近年來，社會各界紛紛發起「搶救母語」行動，政府也將多種本土語言列入中小學必修課程，並成立專責頻道（如：原住民族電視台、客家電視台）來推廣族群文化，強調「語言不分高低貴賤」。請問，這些政策的推行，主要是為了翻轉過去哪一種文化現象所帶來的負面影響？  
(A)弱勢文化消失 (B)文化創新不足 (C)主流文化流失 (D)文化資產遭破壞




- 10.( ) 社會規範分為「非正式規範」以及「正式規範」，兩者的效力大不相同。下列何者屬於「正式規範」的特色？  
 (A)懲罰是良心譴責 (B)啟發人性良知 (C)規範具有強制力 (D)自然而然形成
- 11.( ) 在一間跨國科技公司裡，公司高層規定所有正式會議與官方文件必須使用「英語」，並將歐美的管理風格視為「專業」的唯一標準。員工若在私下交談時使用母語（如閩南語或東南亞語系），常會被主管委婉提醒「這樣不夠國際化」或「顯得格局較小」，導致許多員工為了升遷，被迫隱藏自己的文化背景，轉而模仿西方人的生活方式。請問，造成這種「文化位階」現象的主要原因為何？  
 (A)弱勢群體自願放棄傳統，以追求更具創新性的文化融合 (B)政府透過《國家語言發展法》，強制要求企業推行單一語言 (C)強勢群體憑藉其掌握的資源優勢，將自身文化定義為進步的標準 (D)不同族群在社會地位完全平等的基礎上，發展出多樣化的生活習慣
- 12.( ) 大華在參加社區住戶大會時，發現社區為了維持居住品質，共同訂定了「晚間十點後保持安靜」、「垃圾應依規定分類」以及「公共走道禁止擺放雜物」等公約。雖然這些公約限制了部分行為自由，但多數住戶都願意遵守，因為大家都認同這能讓社區生活更和諧。請問，上述情境體現了社會規範具備哪些重要性？  
 (甲) 避免或解決鄰里間的糾紛 (乙) 協助住戶融入並適應社區集體生活 (丙) 提升社區內的違規與衝突發生率 (丁) 維護社區整體的公共秩序與美觀  
 (A)甲乙丙丁 (B)甲乙丙 (C)乙丙丁 (D)甲乙丁
- 13.( ) 阿美族部落為了防止傳統的織布技藝失傳，特別在暑假期間開設「織女工作坊」，由部落長輩親手指導年輕孩子如何操作織布機，並講述布料圖騰背後的家庭寓意。部落首領表示：「這不只是在織布，更是在把祖先的精神留給下一代。」請問，該部落舉辦此工作坊的主要目的為何？  
 (A)文化傳承 (B)彰顯主流文化 (C)製造文化衝突 (D)使文化趨於單一性
- 14.( ) 臺灣是一個多元文化的社會，為了保障不同族群的平等地位與發展權利，需要社會各界共同努力。關於促進多元文化的具體行動，下列何者屬於由「政府」推行的政策措施？  
 (A)民間團體發起大規模遊行，要求政府重視少數族群權益  
 (B)民眾在接待外國觀光客時，主動展示家鄉的傳統服飾與手藝  
 (C)立法院通過《國家語言發展法》，保障各族群語言為國家語言並設置專屬頻道  
 (D)企業在拍攝產品廣告時，特別留意劇本以避免對特定群體產生刻板印象
- 15.( ) 高雄是擁有百年港都文化、移民色彩濃厚且充滿活力的城市。為了展現「人權港都」的包容力並促進城市發展，高雄市政府提出多項政策規劃。請問下列哪一項政策，最能有效促進城市中的「多元文化」發展？  
 (A)在鹽埕與大木塊等區域設立「新住民與多元族群文化中心」，定期舉辦如東南亞潑水節、原住民歲時祭儀及各國工藝展覽。  
 (B)加強高雄捷運延伸線及輕軌二階的建設，提升市區交通運輸效率，並增加觀光景點的便利性。  
 (C)擴大辦理「青年創業補助」，鼓勵南部年輕人結合在地農業與科技進行產品開發與轉型。  
 (D)為了行政管理方便，規定所有公務文件與校園溝通僅限使用單一特定語言，以確保最高效率。
- 16.( ) 某個青年旅館裡，從世界各地來到臺灣旅遊的背包客，正在進行文化交流。請根據下圖中的對話內容判斷，下列敘述何者錯誤？

(A)不同地區都有慶祝新年的儀式，顯示文化的普遍性 (B)不同社會規範可能會彼此互相影響 (C)圖中對話屬於社會規範中的倫理道德 (D)社會規範會因地而異呈現不同樣貌，這個屬於文化的差異性。

我們也會在過年時到寺廟參拜，並訂下新年願望。但我們是午夜參拜而不是白天喔！



新年時，我們會刻意擦掉家中的碗盤甚至花盆，象徵送走過去一年的煩惱和惡運。



我們則是會爬到椅子上，等跨年的鐘聲一響就跳下來，象徵甩去惡運、跳進新年！



- 17.( ) 臺灣傳統的「布袋戲」近年來展現了驚人的生命力。以霹靂布袋戲為例，除了保留傳統精湛的操偶技術與「一人分飾多角」的口白技藝外，更引進了大量的電腦動畫特效、爆破場面，並在音樂中融合了交響樂與搖滾樂。這種將傳統掌中戲與現代數位影音科技結合的演出方式，不僅創作出全新的視覺震撼，更吸引了許多年輕世代與海外觀眾的目光。請問，這種布袋戲的演變最能說明文化的何種意義？  
(A)文化創新 (B)文化傳承 (C)文化資產 (D)文化位階

- 18.( ) 每逢農曆三月，臺灣各地都會舉辦盛大的「媽祖遶境」活動。家家戶戶準備供品祭拜，信徒們則跟隨神轎徒步前行，這已成為臺灣社會重要的年度盛事。這項活動不僅是民間長久累積下來的生活慣例，更展現了人們對神靈的虔誠信仰。請問，這項活動主要包含了哪兩種社會規範？

(A)倫理道德、法律規範 (B)風俗習慣、宗教信仰 (C)法律規範、風俗習慣 (D)宗教信仰、倫理道德

- 19.( ) 以下表格是鼓山國中的學生對於四種社會規範的整理，其中一項是錯誤的，請問是哪一項？

社會規範	風俗習慣	倫理道德	宗教信仰	法律
選項	非正式規範			正式規範
(A)類型	啟發個人內在良心，進而約束外在行為。			
(B)作用	有強制力，會被公權力處罰			無強制力
(C)違反後果	中秋節烤肉			回教徒齋戒
(D)例子	吃月餅	不亂丟垃圾	月禁食	騎機車不戴安全帽

- 20.( ) 過去在臺灣，為了維護交通安全，《道路交通管理處罰條例》曾進行多次修正。例如：以前開車或騎車並沒有強制規定要繫安全帶或戴安全帽，但隨著法規修改，現在若未遵守相關規定，將會面臨警察開單處罰。這種透過國家制定條文，並以強制力來規範人民外在行為的做法，屬於下列何種社會規範？

(A)風俗習慣 (B)倫理道德 (C)宗教信仰 (D)法律

- 21.( ) 每逢農曆春節，家家戶戶都會在大年夜齊聚一堂吃「團圓飯」，長輩也會發放紅包給晚輩以示祝福，而晚輩則會說吉祥話來拜年。這種在特定節慶中，大家根據長久累積下來的生活慣例而進行的行為模式，最能說明下列哪一種社會規範？

(A)風俗習慣 (B)倫理道德 (C)宗教信仰 (D)法律

- 22.( ) 某宮廟因違法擴建道路及廟宇建築，涉嫌竊占國土及濫墾山坡地，相關單位多次介入協調，要求廟方自行拆除，但該廟負責人認為廟地選址及擴建的決定皆為神明指示，堅決不願退讓，於是相關單位除了開罰六萬元外，並將負責人移送法辦。上述內容最可能是關於下列哪二者之間的衝突？

(A)環境保育與經濟發展 (B)法律規範與宗教信仰 (C)傳統習俗與倫理道德 (D)宗教自由與人民財產權

- 23.( ) 早期臺灣社會對於性別平等的意識尚未普及，法律曾規定父母對於未成年子女權利義務的行使，若有意見不合時，以「父親」的意見為準。然而，隨著教育普及、人權觀念進步以及雙薪家庭增加，社會大眾普遍認同父母地位應平等。政府隨後修正《民法》，改為由父母雙方協議，若協議不成則由法院依子女最佳利益決定。請問，這種法律條文的修正，最能說明下列哪一種現象？

(A)傳統信仰在制度改變中有重要影響 (B)法律可以強制規範人們的所有內心想法 (C)社會大眾越來越忽視家庭倫理與傳統價值 (D)法律規範會隨著社會環境的變遷而進行調整

- 24.( ) 今年暑假，鼓山高中將和日本土別市東高校舉辦兩校師生的交流活動。以下是班上四位同學對於「文化交流」的說法，何者較為恰當？

(A)先認同本國文化，才不會迷失在外來文化 (B)為了促進國際交流，學習外語比學習母語更為重要 (C)族群有優劣之分，應該多推展優質族群文化 (D)文化有優劣之別，我們要向強勢文化學習。

### 政大首創多元文化假，並延長祭儀假

教育部表示，原住民學生每學年可請歲時祭儀假1日，學校應核予公假；若學生因宗教、種族、地域而參加節慶或文化活動，而有請假需求者，也請學校予以准假。國立政治大學(以下簡稱「政大」)基於校內有大量來自海外及不同國家的學生，皆有屬於自身文化與宗教的相關祭儀，與學生會、相關單位等經過多次討論，決議學生只要檢附證明文件，每學年可以請2日多元文化假。政大指出，此次開全國大學先例，增訂多元文化假，期盼能夠發揮影響力，喚起社會尊重多元文化的意識。

另外，由於原住民族多數祭儀都在2日以上，加上考量往返原鄉部落及祭儀準備等時間，原先主管機關僅給予1日歲時祭儀假，顯然有所不足，因此政大決議將其延長為5日。

25.( ) 政大首創「多元文化假」，讓來自不同國家、宗教或文化的學生能請假參加所屬群體的節慶。這種做法最能體現下列哪一種理念？

- (A)文化位階：區分出哪些國家的文化比較高級 (B)多元文化主義：尊重、包容並保障不同族群的文化權利 (C)文化同化：要求外籍學生放棄原有文化，融入臺灣生活 (D)文化創新：將各國文化混合在一起，創造出一種新宗教

26.( ) 文中提到教育部規定原住民學生每學年可請歲時祭儀假，政大進一步修改校內規範並增加假別天數。關於這種「請假規範」，下列敘述何者正確？

- (A)這屬於風俗習慣，學生如果不請假會被長輩責罵 (B)這屬於倫理道德，是學生內心良知的展現 (C)這屬於宗教信仰，不遵守會受到神靈的懲罰 (D)這屬於法律與制度規範，由政府或機構制定以維護成員權利

27.( ) 政大指出增訂「多元文化假」期盼能發揮影響力，喚起社會尊重多元文化的意識。這項政策的主要目的不包括下列何者？

- (A)有利於各族群文化的保存與傳承 (B)消除社會中對特定文化的歧視與偏見 (C)透過強制手段要求所有學生信仰特定宗教 (D)建立尊重不同文化背景的友善校園環境

### 優先席上路 重塑讓座文化

搭乘大眾運輸工具時，車輛開動或行進間的晃動、轉彎及停煞等，不僅可能造成一般乘客坐立不穩、衝撞或摔倒，對幼童、孕婦、長者、行動不便者、視障者與其他需要協助者來說，一旦跌倒造成的危險與傷害往往更加嚴重。

過去在身心障礙者權益保障法中，即明定未提供對號座的大眾運輸工具應設置供「身心障礙者及老弱婦孺」優先乘坐的博愛座，比率不得低於總座位數的15%，並視需要標示或播放提醒禮讓座位的警語。這樣的規範，便是為了保障弱勢路人的乘車安全。不過，該法僅規範業者設置博愛座，並未強制民眾讓座，是否讓座仍取決道德規範與個人決定，造成讓座爭議層出不窮。多起因讓座而起的衝突事件，也掀起檢討博愛座設置必要的聲浪。

近年來，人們了解社會上有許多從外表看不出來不適的人，可能也有使用博愛座的需求，因此相關單位開始宣導，任何座位都可以禮讓給「有需要」的乘客，鼓勵乘客能夠關懷和同理有座位需要者，讓座給有需要者。民國114年，立法院三讀通過身心障礙者權益保障法修正案，將博愛座更名為優先席，盼落實將該座位優先禮讓給有需要者的精神。

28.( ) 根據文中敘述，民國 114 年法律修正案將「博愛座」更名為「優先席」的主要目的是什麼？

- (A)增加交通運輸工具的座位總數 (B)取消身心障礙者優先乘坐的權利 (C)強制規定不讓座的乘客將會被罰款或拘留 (D)落實將座席優先禮讓給「有需要者」的精神

29.( ) 根據文章內容與生活經驗，過去博愛座爭議層出不窮，多起衝突事件發生的主要原因為何？

- (A)法律規定的座位數太少，導致乘客無位可坐 (B)年輕人與長輩對於博愛座的顏色有不同的認知 (C)政府完全沒有宣導讓座文化，導致民眾缺乏道德感 (D)民眾過度依賴外表判斷他人需求，忽略了「隱形需求者」

30.( ) 關於更名為「優先席」後的觀念，下列哪一位同學的說法最符合法治社會中「尊重多元」的精神？

- (A)小明：「只有領有身心障礙手冊的人才能坐，其他人坐就是犯法。」 (B)小華：「既然法律沒說不讓座會被抓，我愛怎麼坐就怎麼坐。」 (C)小雅：「我們應發揮同理心，將座位留給『有實際需要的人』，不論其年齡或外表。」 (D)小強：「政府應該取消所有特別座，大家憑體力競爭才有公平競爭感。」

# 高雄市立鼓山高中 114 學年度第二學期第二次段考《國一》健教科試題卷

考試範圍：第一篇

電腦讀卡代碼：14

班級：

座號：

姓名：

## 一、選擇題共 25 題每題 4 分共 100 分

- ( ) 下列哪個毒品濫用後，患者會躁動、口乾、脫水且頭頸部不自主地抽搐、痙攣？  
(A) 海洛因 (B) 搖頭丸 (C) 大麻 (D) FM2。
- ( ) 檳榔本身即可致癮，其成分為何？  
(甲)尼古丁(乙)檳榔素(丙)檳榔鹼(丁)焦油(戊)乙醇？  
(A)甲乙 (B)乙丙 (C)丙丁 (D)甲丁。
- ( ) 若家人或朋友有毒品相關的困擾，可以撥打哪個號碼向藥物濫用免費諮詢專線求助？  
(A) 0800-770-885 (B) 0800-000-165 (C) 0800-066-666 (D) 0800-123-123。
- ( ) 下列何者是菸品成份當中能產生興奮感，讓人血管收縮、心跳加速、血壓升高且讓人成癮的物質？  
(A) 菸焦油 (B) 尼古丁 (C) 二氧化碳 (D) 一氧化碳。
- ( ) 什麼叫做毒品的「耐受性」呢？  
(A) 對不使用毒品的忍耐力 (B) 使用毒品的用量越變越多 (C) 毒品的效果 (D) 百毒不侵的程度。
- ( ) 下列有關 K 他命的敘述，何者正確？  
(A) 會使腦部興奮，久用造成精神病 (B) 又稱「搖頭丸」 (C) 吸食可能會產生體溫過高、身體脫水的現象 (D) 長期使用會造成膀胱纖維化。
- ( ) 下列藥物濫用對人體的傷害的描述，何者正確？  
(A) 神經肌肉協調功能障礙 (B) 認知、判斷與計算能力下降 (C) 出現妄念與幻覺的症狀 (D) 以上皆是。
- ( ) 下列何者是菸品成份當中造成細胞缺氧，會讓人思緒不清的物質？  
(A) 菸焦油 (B) 尼古丁 (C) 二氧化碳 (D) 一氧化碳。
- ( ) 哪種非法藥品使用後容易造成「尿失禁」，甚至出現血尿血塊的情況？  
(A) 搖頭丸 (B) K 他命 (C) 大麻 (D) 一粒眠。
- ( ) 哪個毒物的外形像無色結晶碎冰，被稱為「冰塊」或「冰毒」？  
(A) FM2 (B) 嗎啡 (C) 安非他命 (D) 大麻。
- ( ) 阿東長期使用某毒品而造成膀胱纖維化，導致頻尿、記憶力變差，請問他是使用哪種毒品？  
(A) FM2 (B) 大麻 (C) 海洛英 (D) K 他命。
- ( ) 下列何者不是長期嚼食檳榔對健康的危害？  
(A) 腹部積水——肝硬化 (B) 牙齒鬆脫——牙周病 (C) 口腔黏膜病變——口腔癌 (D) 頰黏膜僵硬——纖維化。
- ( ) 政府規定酒後不可駕車，哪個原因為非？  
(A) 酒後判斷力會變遲鈍 (B) 酒後精神不易集中 (C) 酒後神經反應加快，易開快車 (D) 酒後影響肢體的神經協調，會步履不穩。
- ( ) 下列敘述，何者錯誤？  
(A) 隨地亂吐檳榔汁是會被處以罰鍰並接受 4 小時的講習 (B) 種植檳榔可綠化環境，可多種植 (C) 種植檳榔會使水土保持不易，造成土石流 (D) 農業部輔導原本耕作檳榔的農民轉作其他農作物，並提供一次性轉作補助金。
- ( ) 在臺灣，30 歲以上有吸菸或嚼(戒)檳榔的人，可免費每兩年做一次什麼項目的健檢？  
(A) 大腸癌糞便潛血檢驗 (B) 口腔黏膜檢查 (C) 胸部 X 光攝影 (D) 抽血檢測。
- ( ) 五年內第三次以上酒駕，罰鍰為上次金額加罰幾萬元，且無上限？  
(A) 5 (B) 7 (C) 9 (D) 12。
- ( ) 小志出國旅遊海關之前，有同團的某人託他幫忙提物過關，你認為小志應該如何回應？  
(A) 婉拒協助，因為懷疑可能有不法物品 (B) 先婉拒協助，若有給酬勞費便可幫忙 (C) 答應幫忙，因為航廈裡有很多執勤人員應該是安全的 (D) 答應幫忙，因為舉手之勞，助人為快樂之本。
- ( ) 下列哪個單位成立戒菸專線服務中心，來幫助想戒菸的人？  
(A) 法務部 (B) 教育部 (C) 國民健康署 (D) 環境部。
- ( ) 每年的七月在新北市的福隆常會舉辦貢寮國際海洋音樂祭，下列何種成癮藥物常在音樂祭的活動中被濫用？  
(A) FM2 (B) 海洛英 (C) 搖頭丸 (D) 大麻。

20. ( ) 長期嚼檳榔會帶來哪些健康及社會問題？(甲)外銷他國促進經濟發展；(乙)導致口腔癌；(丙)亂吐檳榔汁有礙觀瞻；(丁)造成牙周病；(戊)種植檳榔破壞水土保持。  
(A)(甲)(乙)(丙)(丁)(戊) (B)(甲)(乙)(丙)(丁) (C)(乙)(丙)(丁)(戊)  
(D)(甲)(乙)(丙)(戊)。
21. ( ) 小杰開始戒菸後，出現失眠、注意力不集中、煩躁、坐立不安等症狀，這些不適的症狀稱為什麼？  
(A)尼古丁戒斷症候群 (B)菸焦油戒斷症候群 (C)一氧化碳戒斷症候群 (D)酒精戒斷症候群。
22. ( ) 關於檳榔的敘述，下列何者正確？  
(A)可以預防疾病，應該多加宣導服用 (B)含有纖維，可以預防便秘的發生 (C)檳榔西施可以作為觀光資源，吸引外國人來臺灣 (D)山坡地栽植檳榔樹會破壞水土保持，造成土壤流失。
23. ( ) 「拉」一時、尿布一世，這是預防某毒品的標語，請問「」中填入下列哪一個英文字母？  
(A)F (B)A (C)K (D)B。
24. ( ) 下列哪支電話為政府單位提供的戒菸專線？  
(A) 0800-63-63-63 (B) 412-5252 (C) 0800-770-885 (D) 0800-200-885。
25. ( ) 長期過量飲酒，對身體會造成哪些傷害？(甲)肺癌；(乙)皮膚癌；(丙)肝癌；(丁)心血管疾病；(戊)肝硬化。  
(A)(甲)(乙)(丁) (B)(丙)(丁)(戊) (C)(甲)(丙) (D)(乙)(戊)。