

高雄市立鼓山高中 114 學年度第二學期第二次段考《國三》國文科試題卷











電腦讀卡代碼：01

三年____班____號 姓名_____

一、單題：(每題 2.5 分，共 62.5 分)

1. 「颱風是大自然中最具破壞性的自然災害之一，而臺灣因位處於西太平洋颱風路徑侵襲前緣，因此時常受到颱風侵擾。根據中央氣象局資料：在過去 100 多年內，臺灣一共受到近 400 個颱風的侵襲！所挾帶的狂風暴雨，往往使人民生命財產蒙受巨大損失。」(柯金源 難以磨滅的風雨記憶：五個臺灣史上的颱風之最) 根據這段文字，下列何者是臺灣時常受到颱風侵襲的因素？
- (A) 歷史機緣 (B) 溫室氣體 (C) 太陽輻射 (D) 地理位置。

2. 根據下表中的字形，何者的造字原則與「月」字相同？

例字	月	小	木	出	汝
甲骨文					
小篆					

- (A) 小 (B) 木 (C) 出 (D) 汝。

3. 下列選項中「」的字，何者讀音前後不相同？

- (A) 偉人「肖」像／九「霄」雲外 (B) 倉「卒」成軍／「猝」不及防
(C) 傀「儡」政權／古典芭「蕾」 (D) 孝「悌」傳家／感激「涕」零。

4. 下列文句，何者用字完全正確？

- (A) 好茶除了散發微香外，入於喉中還有幽微的青甜
(B) 當初我只是隨便塗鴨，沒想到會被報社採用
(C) 市長上任後的第一件事，便是要澈底整頓混亂的交通
(D) 成功人士們總是宿興夜寐的投入工作，從不間歇。

5. 下列文句「」中成語的運用，何者最恰當？

- (A) 這件醜聞已經鬧得「淒風苦雨」，不知該如何收拾
(B) 每到慈善活動開跑，大家便會「秋扇見捐」的響應
(C) 經過整治以後，那條臭水溝終於恢復「河清海晏」
(D) 李白的詩歌成就極高，是唐朝文學的「中流砥柱」。

6. 「潭中魚可百許頭，皆若空游無所依。日光下澈，影布石上，佁然(佁然，痴呆的樣子。佁，音牙ㄨ)不動。」(柳宗元 小石潭記) 關於這段文字，下列說明何者正確？

- (A) 水流十分湍急 (B) 河水清澈見底 (C) 光影稀疏不明 (D) 魚群游速飛快。

7. 一詞多義的情形常在語文的使用中出現。下列選項「」中的詞語，何者意思兩兩相同？

- (A) 狩獵對秦雅男人是「莊嚴」的事／法會現場氣氛「莊嚴」肅穆
(B) 他下巴「輪廓」很剛硬／這件車禍的肇因，已逐漸現出「輪廓」
(C) 我們不應該用家世「背景」來判斷一個人的善惡／許多電影都以世界末日作為故事「背景」
(D) 「寫意」畫講求的是畫者內心情緒的展現／走在翠綠的林蔭大道上，心中好不「寫意」。

8. 下列「」中的注音寫成國字之後，何組字形相同？

- (A) 不分「ㄊㄩㄣˊ」輕／器宇「ㄊㄩㄣˊ」昂 (B) 走「ㄉㄨˋ」無路／出人「ㄉㄨˋ」地
(C) 「ㄎㄨㄟˊ」一死戰／拍案叫「ㄎㄨㄟˊ」 (D) 「ㄉㄨㄣˊ」醉如泥／粗製「ㄉㄨㄣˊ」造。



這則電話簡訊圖文的用意，最可能是下列何者？

- (A) 宣布店面即將歇業 (B) 塑造超低價的銷售感
(C) 表達對粉絲支持的感謝 (D) 強調阿甘百貨的品牌精神。

10. 下列韻文作品，依照古詩、近體詩、詞和元曲的順序加以排列，何者正確？

- 甲、俏冤家，在天涯，偏那裏綠楊堪繫馬。因坐南窗下，教對清風想念他。蛾眉淡了教誰畫？瘦巖巖羞戴石柳花。
乙、燕雁無心，太湖西畔隨雲去。數峯清苦。商略黃昏雨。第四橋邊，擬共天隨住。今何許。憑闌懷古。殘柳參差舞。
丙、庭中有奇樹，綠葉發華滋。攀條折其榮，將以遺所思。馨香盈懷袖，路遠莫致之。此物何足貴？但感別經時。
丁、細草微風岸，危檣獨夜舟。星垂平野闊，月湧大江流。名豈文章著，官應老病休，飄飄何所似？天地一沙鷗。
(A) 甲丁丙乙 (B) 乙丙丁甲 (C) 丙丁乙甲 (D))丁丙甲乙。

11. 「土，他們幾代承繼苦命的掌紋翻了一百多年。」以上句中「一百」代表實際數字。下列選項「」中的詞語，何者也代表實際數字？

- (A) 事若不「三思」，終將會後悔 (B) 「十步」之內，必有芳草
(C) 「六出」飛花入戶時，坐看青竹變瓊枝 (D) 自反而縮，雖「千萬」人吾往矣。

12. 「在提到遊記作家『勇怯有別，勞逸各殊』時，余光中便以袁枚出遊『既怕走路，又怕晒太阳』；謝靈運尋訪山水，動輒『僮僕數百人，伐木開徑，驚動官府』；以及民初作家郁達夫遊仙霞嶺，坐汽車『足足走了一個多鐘頭山路』，還直嚷山高水深、彎多路險的狹小格局等——和徐霞客對照而結論如下：『比起徐霞客來，大半的遊記作者都只能算是公子遊春已。』」根據文意，徐霞客最可能是下列何種類型的遊記作者？

- (A) 動員開路，造福後人 (B) 跋山涉水，不辭辛勞 (C) 駕車入山，探索祕境 (D) 擇時出遊，安逸自適。

13. 「趙閱道為成都運轉使，出行部內，唯攜一琴一龜，坐則看龜鼓琴。嘗過青城山，遇雪，舍於逆旅。逆旅之人不知其使者也，或慢狹之，公頽然（頽然，此指安靜和順的樣子）鼓琴不問。」根據這段文字，可知趙閱道的人格特質為何？

- (A) 從容平穩，沉得住氣 (B) 急公好義，樂善好施 (C) 心浮氣躁，容易激動 (D) 鐵面無情，不留餘地。

14. 下列選項「」中的字，何組意思前後相同？

- (A) 「安」身立命／居「安」思危 (B) 「寥」若晨星／寂「寥」街道
(C) 屏氣「凝」神／「凝」聚人心 (D) 避重「就」輕／「就」事論事。

15. 「恰離了綠水青山那答，早來到竹籬茅舍人家。野花路畔開，村酒槽頭榨，直吃的欠欠答答。醉了山童不勸咱，白髮上黃花亂插。」（盧摯 沉醉東風開居）在此曲中，下列何句最能具體表現主人公放肆的酩酊醉態及瀟灑不羈的形象？

- (A) 早來到竹籬茅舍人家 (B) 野花路畔開，村酒槽頭榨 (C) 醉了山童不勸咱 (D) 白髮上黃花亂插。

16. 「有一條河穿過這個城市，『（甲）蜿蜒著奇異的夢想／（乙）以及／那個城市／（丙）像極那件圍裙，（丁）青色的碎花圖案。／（戊）鑲著／』累的時候，打開身後那扇窗／河裡的魚就游了進來。」（節选自陳皓 護城河）根據詩意，『』中的詩句排序何者最恰當？

- (A) 乙甲丙戊丁 (B) 乙丙戊甲丁 (C) 甲乙丙丁戊 (D) 甲丙戊丁乙。

17. 「臣之里有出妻而再嫁者，日與其後夫言前夫之非，意甚相得也。一日，又失愛于其後夫，而嫁于郭南之富人，又言其後夫如昔者。其人為後夫言之，後夫笑曰：『是所以語子者，猶前日之語我也。』」（劉基 郁離子·卻惡秦秦）關於這段文字，下列何者解讀正確？

- (A) 「出妻而再嫁」：妻子死後再續弦 (B) 「意甚相得也」：丈夫言行均一致
(C) 「言其後夫如昔」：慣於批評歷任前夫 (D) 「猶前日之語我」：如同以前我說的話。

茱麗葉吾愛鈞鑒：

在下日前造訪寒舍，雖不得其門而入，但石頭圍成的高牆怎能阻隔愛情？是愛情輕盈的翅膀讓我飛了過來。請耐心等待我向家族表明愛你的決心！敬請
道安

羅密歐敬啟

媽媽在檢查茱麗葉的信件時，發現和茱麗葉同輩的羅密歐信件用語錯誤連連。修正後正確的選項為何？

(A) 鈞鑒改成惠鑒 (B) 寒舍改成寒軒 (C) 道安改成金安 (D) 敬啟改成敬上。

19. 某寺廟的附近有一條算命街，深受外國觀光客喜愛，下列哪一副對聯不會出現在這條街的店門上？

(A) 八卦理窮天地／大爻機測鬼神 (B) 推算五行定凶吉／洞察陰陽識浮沉
(C) 收入山川歸朗鑑／安排風水定浮針 (D) 敢謂金針能度世／莫誇玉尺可量才。

20. 「三國為何歸了司馬氏，而不是諸葛氏？從哲學的角度，也可是解答這個問題：忠君到底的諸葛亮是儒家真信徒，而叛君奪權的司馬懿是個偽信徒。所以，司馬氏完成了帝王之業，而諸葛家只能世代為臣。」(程萬軍 諸葛亮和岳飛被什麼害慘了？) 下列何者最符合作者的說法？

(A) 諸葛亮無法成為王的原因是過度被宗教信仰所約束 (B) 司馬懿始終得不到眾人尊重乃因缺乏虔誠信仰所致
(C) 兩人分出勝負的關鍵是哲學思辨的問題，無法討論 (D) 兩人真正差別在於前者忠誠，後者對皇位有所圖謀。

21. 有些問卷使用否定句式，可能使受訪者不易理解內容，甚至誤判立場。根據下列問卷題目，小豪的立場與選擇不符的是哪一個？

問卷題目		小豪的立場	小豪的選擇
(A)	您是否不同意取消校園年度演唱會？	非常期待演唱會	不同意
(B)	您是否不同意將畢業舞會改為線上舉行？	偏好實體活動	不同意
(C)	您是否同意社團經費應優先用於藝文活動？	藝文活動重要	同意
(D)	您是否同意學校不應該強制學生參加跑步比賽？	運動應自由參與	同意

22. (甲) 我喜歡「□□」兩個字，很喜悅，很自信，卻也很謙遜，很謹慎，對自己的存在很滿足，卻沒有囂張喧嘩。

(乙) 立秋以後，緯度高的地區，氣溫變化很快，早晚吹起秋風，暑熱逐漸退去。偶然在河岸空曠處看到抽長的蒲葦，銀白潔淨，在旭日光裡閃耀亮眼，彷彿布告□□喧鬧結束，另一個沉靜內斂的季節已悄悄來了。(蔣勳 歲月靜好)
根據以上兩段文字，文中缺空處分別填入下列何者最恰當？

(A) 小滿／夏日 (B) 立冬／大雪 (C) 小滿／秋氣 (D) 立冬／春意。

23. 「據說，燕子是多情的。每年，春風還薄薄的時候，牠們就從老遠的地方回來。回到舊日曾住過的雕梁藻井、簷下廊邊，細語商量不定。牠們忙著剪風裁柳，忙著銜泥做窠，又忙著呢喃訴說許多遠方可悲、可喜的故事。年年，從不爽約。人對人說：『明年，燕子再來的時候，我就回來了。』不論是揮鞭還是解舟，終歸都是去了。今朝燕子果真從切切的盼望中回來。小女孩實在高興極了，傍在人的身邊，依依的說：『看！燕燕又造窠啦！』多情的燕子，無知的小女孩，可知道：你們正在傷人家的心理！」(明川 燕子惜漫畫選釋) 依文意推論，作者說燕子與小女孩「正在傷人家的心理」的原因是什麼？

(A) 燕子如期歸來，許下承諾的人卻未見歸期 (B) 春天萬物展現生機，貧苦人家卻無處謀生
(C) 燕子重回昔日往處，童年往事卻無法再現 (D) 燕子銜泥做窠，顛沛之人卻依然流離道上。

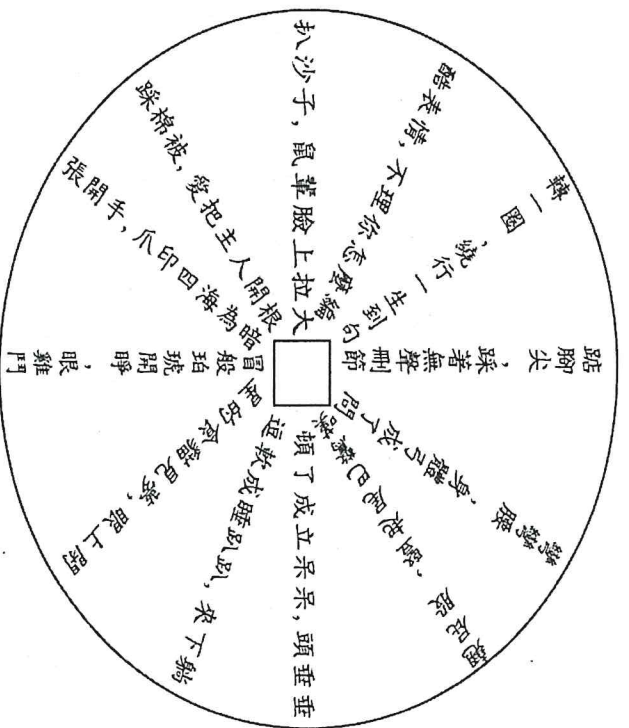
24. 「遇沉沉不語之士，且莫輸心；見悻悻(悻悻，剛愎固執的樣子)自好之人，應須防口。」(洪應明 菜根譚) 這句話告誡人們處世應該如何？

(A) 逢人且說三分話，未可全拋一片心 (B) 寧當有日籌無日，莫待無時思有時
(C) 各人自掃門前雪，休管他人瓦上霜 (D) 智欲圓而行欲方，膽欲大而心欲小。

25. 「鄰人有以酒食召蔡邕者，比①往而酒已酣焉。客有彈琴於屏，邕至門試潛②聽之，曰：「嘻！以樂召我而有殺心，何也？」遂反。將命者③告主人曰：『蔡君向來，至門而去。』」（范曄 後漢書 蔡邕傳）【注釋】①比：等到。②潛：暗中。③將命者：奉命傳話的人。根據這段文字，蔡邕不參加酒宴的原因為何？
- (A) 眾人已經喝得酒酣耳熱
(B) 從琴聲中聽到肅殺之氣
(C) 鄰人沒有出門迎接蔡邕
(D) 賓客之中有其多年政敵。

二、題組：(每題 2.5 分，共 37.5 分)

(一) 請閱讀以下圖表，並回答 26~28 題：



(林德俊)

26. 根據詩意，下列哪一個字最適合填入圖中央的缺空處？
(A) 點 (B) 號 (C) 碼 (D) 題。

27. 下列何者在本詩的敘述中找不到？
(A) : (B)) , (C)) ★ (D)) ▲。

28. 這首圖像詩最適合以下列何者來命名？
(A) 俄羅斯圓盤 (B) 機會與命運 (C) 貓咪伸展操 (D) 小狗抓小貓。

(二) 請閱讀以下文章，並回答 29~30 題：

小生這個詞好理解，我們日常生活中一直頻繁使用，什麼英俊小生、奶油小生……這個和他在京劇的定位基本差不多。

京劇小生這個行當很有意思，雖然演繹的都是青年男性主人公，卻有和女性演員一樣的音高，使用獨特的真假聲結合的發聲方法。假聲，也叫「小嗓」，比較尖、細、高、亮，這樣從聲音上就和老生、武生別開來，可是小生的假聲和旦角又不同，聽起來要更寬厚、更飽滿，更寬、更亮，有一種剛勁挺拔的感覺。

小生角色不一定就是年紀小的。比如群英會中周瑜的年齡比諸葛亮還大，可諸葛亮是老生，戴髯口，周瑜卻是小生。這是為什麼呢？在京劇舞臺上，決定某個角色應該歸屬於哪個行當的時候，不光看角色的生理年齡，更關心這個人物身上展現出的氣質特徵。諸葛亮雖然年輕，可是沉穩老練，符合老生特點，而周瑜雖然年長，卻好勝心強，神采飛揚，更像個翩翩少年，所以由小生來扮演。

(節錄自梅若薇 小生)

29. 根據本文，有關小生假聲的說明，下列何者正確？

- (A) 全程以假聲的方法發聲 (B) 假聲比真聲更加寬厚低沉
(C) 小生假聲比旦角假聲更寬厚 (D) 都由青年女性來扮演、演繹。

30. 根據本文，下列哪一個人物形象最可能歸屬於小生角色？

- (A) 英俊儒雅的美男子 (B) 年邁穩重的僕人 (C) 戰功顯赫的將軍 (D) 溫柔的大家閨秀。

(三) 請閱讀以下短文，並回答 31~33 題：

在商品行銷策略的世界中，經典的「行銷 4P」理論是許多品牌制訂商品計畫的基礎。這四個 P 分別代表產品(Product)、價格(Price)、通路(Place)和推廣(Promotion)。以服飾品牌為例，提供多元產品線並推出聯名系列，在價格上主打高品質平價，通路涵蓋百貨實體店與線上商店，推廣方面則透過廣告、社群媒體與實體促銷活動強化曝光。

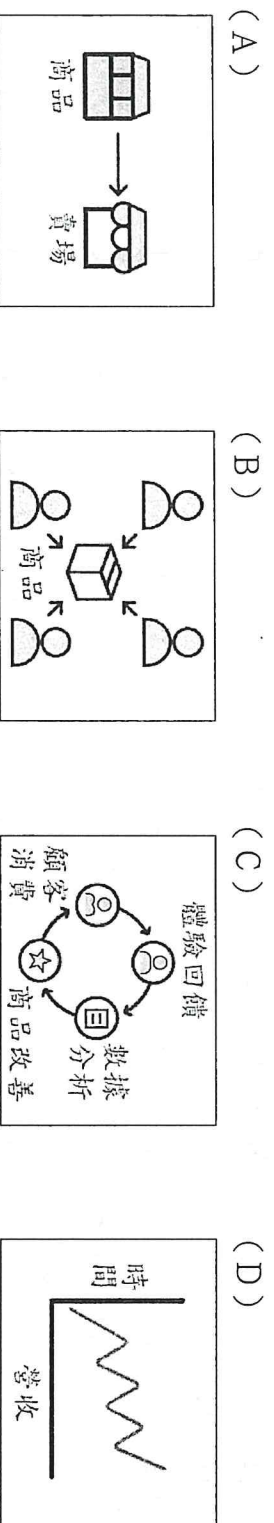
但隨著大數據與科技發展，傳統 4P 模式面臨挑戰。現代行銷更強調「人」的角色，催生出新 4P：人(People)、成效(Performance)、步驟(Process)與預測(Prediction)。新的商品行銷策略強調精準分眾與個人化行銷，藉由數據分析掌握顧客行為，優化行銷流程與預測購買時間，進一步提升顧客回購率與品牌忠誠度。

消費者導向的「行銷 4C」則從顧客角度出發，包含顧客(Customer)、成本(Cost)、便利性(Convenience)與溝通(Communication)。企業不再只是單方面推出產品，而是深入了解顧客需求、考量顧客的時間與金錢成本、提升購買便利性，並與顧客建立互動關係。

整體來說，從 4P 到新 4P 與 4C，行銷策略從產品導向轉向顧客導向與數據導向，顯示在瞬息萬變的市場中，唯有理解顧客、運用數據、提升互動，品牌和商品才能長久生存並贏得顧客青睞。

(改寫自行銷 4P、新 4P 是什麼？4C 又是什麼？)

31. 下列圖表何者最適合用來呈現本文中新型態的行銷策略？



32. 根據本文，服飾品牌的案例主要可說明下列何者？

- (A) 新 4P 理論的重要性 (B) 推廣比其他策略更重要
(C) 行銷 4P 最適合用於服飾銷售 (D) 4P 理論於產品行銷上的實際應用。

33. 閱讀完本文後，下列敘述何者最恰當？

- (A) 傳統 4P 屬於顧客導向，著重顧客的消費體驗與回饋 (B) 新 4P 屬於產品導向，著重實體門市展店與產品設計
(C) 4C 屬於數據導向，著重分析各項數據並做精準預測 (D) 服飾案例屬於產品導向，著重產品設計及行銷推廣。

(四) 請閱讀以下文言文，並回答 34~36 題：

明末，濟屬多盜。邑各置兵，捕得輒殺之。章盜尤多。有一兵佩刀甚利，殺輒導窺①。一日，捕盜十餘名，押赴市曹。內一盜識兵，逡巡②告曰：「聞君刀甚快，斬首無二割。求殺我！」兵曰：「諾。其謹依我，勿離也。」盜從之刑所，出刀揮之，豁然頭落。數步之外，猶圓轉而大讚曰：「好快刀！」

(蒲松齡 聊齋志異)

【注釋】①導窺：沿著筋骨空隙砍去。導，沿著、順著。窺，音ㄎㄨㄛˋ，空隙，指骨節間的空穴。

②逡巡：徘徊不前。逡，音ㄑㄨㄢˊ。

34. 文本中盜賊為何請求士兵為他行刑？

- (A) 待有機可乘時逃跑 (B) 盼能求得痛快一死 (C) 盜賊與士兵有私交 (D) 已與士兵交換利益。

35. 根據本文，下列敘述何者正確？

- (A) 盜賊橫行，唯章邱治安良好 (B) 盜匪被逮捕後，往往誅殺之
(C) 士兵最後拒絕了盜賊的請求 (D) 盜賊趁士兵不注意逃之夭夭。

36. 「盜從之刑所，出刀揮之，豁然頭落。數步之外，猶圓轉而大讚曰：『好快刀！』」這段文字顯然脫離了事實。作者這麼寫的用意為何？

- (A) 揭示一切的故事情節，僅僅是作者個人的虛構 (B) 刻畫血淋淋的砍頭事件，具有教化人心的意味
(C) 諷刺酷吏當道，許多無辜百姓被當作盜賊處決 (D) 將誇飾技巧運用到了極致，產生強烈的渲染力。

(五) 請閱讀以下文章，並回答 37~38 題：

試想，你在旅途中點的餐飲超級難吃，你，如何反應？

二龍山出土匪。那天晚上，張武剛進村口，便被綁架，而且被押到了二龍山。

進了一個山洞，張武被帶到一個微胖的大鬍子面前，綁他上來的小嘍囉王二說：「大哥，今晚沒有大的收穫，只弄到了一個。」

大鬍子道：「老規矩，你們去給他弄點吃的。」

張武就被帶到另一個地方，那兒有一個石頭壘砌的石桌。

過了一會兒，王二端著一盤熱氣騰騰的魚，小六拎著一壺酒進來了。張武一看這架勢，眼淚就唰地出來了，王二說：「你這是幹什麼，這是我們大哥訂的規矩，凡是進洞的人，我們都要好吃好喝地款待。」張武看了看王二，又轉頭看了看小六一眼，才止住了淚水。

張武顫抖著手拿起筷子，他看了看那條魚，咽下一口水，他從沒吃過魚，不管三七二十一就從□□□上戳下一塊魚肉，放在嘴裡吃了起來，又端起酒杯咕嚕一口把酒都喝了下去，嗆得他眼淚又流了出來。

吃過喝過，張武又被帶到大鬍子跟前，王二把張武的吃喝過程詳細地向大鬍子做了彙報，大鬍子朝張武擺擺手說：「放他下山去。」

張武就這樣被放了回去，像是做夢一般。世上哪有這樣的好事，綁他上去就是為了好吃好喝？張武想破腦袋也沒想出個所以然來。

一年以後，張武正在茶館裡喝茶，突然發現王二和小六也在那兒。王二也看到了張武，連忙和小六走了過來，拍了拍他的肩膀：「兄弟，你也在這兒，今天你的單我們兄弟替你買了。」張武想起當年心中的疑惑，忍不住問：「你們當年把我抓進山洞難道就是為了給我一頓好吃好喝？」

王二和小六一聽，就哈哈大笑起來，王二說：「算你小子命大，你知道魚有幾種吃法嗎？」張武搖頭。……

原來，他們把吃魚歸納為三種吃法。第一種：吃魚眼睛的人，一定是財主家的人，吃魚吃膩了，他們就要狠狠地勒索一把；第二種：吃魚肚子上肉的人，一定是富家子弟，說明他們經常吃魚，知道那兒的肉好吃，所以就關上幾天，讓他們家人送點錢來就放了；第三種：吃魚背上肉的人，肯定是窮人家，沒吃過魚。喝酒也是這樣的，有錢人才有酒喝，才會慢慢品，沒有錢的人從沒喝過酒，才會一口把酒喝光了。所以，他們的大哥就是根據一頓飯判斷哪些是真正的窮人，哪些是真正的富人。

(改寫自沈從文 土匪吃魚)

37. 若要找一個成語來形容小說中的土匪特質，下列哪一個最適合？

- (A) 心狠手辣 (B) 濫殺無辜 (C) 冷酷無情 (D) 劫富濟貧。

38. 根據本文，缺空處填入下列何者最符合文意？

- (A) 魚眼睛 (B) 魚背上 (C) 魚肚肉 (D) 魚尾巴。

(六) 請閱讀以下二文，並回答 39~40 題：

【甲】

晉平公問於師曠曰：「吾年七十欲學，恐已暮矣。」師曠曰：「何不炳燭乎？」平公曰：「安有為人臣而戲其君乎？」

師曠曰：「盲臣安敢戲其君乎？臣聞之，少而好學，如日出之陽；壯而好學，如日中之光；老而好學，如炳燭之明。炳燭之明，孰與昧行乎？」平公曰：「善哉！」

(改寫自劉向 說苑·建本)

【乙】

失於盛年，猶當晚學，不可自棄。孔子云：「五十以學《易》，可以無大過矣。」曾子七十乃學，名聞天下；荀卿五十，始來遊學，猶為碩儒；公孫弘四十餘，方讀《春秋》，以此遂登丞相，此並早迷而晚寤也。世人婚冠未學，便稱遲暮，因循面牆，亦為愚耳。幼而學者，如日出之光，老而學者，如秉燭夜行，猶賢乎瞑目而無見者也。

(改寫自顏之推 顏氏家訓·勉學)

39. 關於甲、乙二文對於「學習」的看法，下列敘述何者正確？

- (A) 甲文認為年老才學習有如盲人摸象，難以洞明真相 (B) 乙文認為老年學習所獲得的成效比幼年學習差得多
(C) 二者皆認為不必受到年輕才適合學習的觀念的限制 (D) 二者皆認為天資聰穎者才適合老年學習，反之無效。

40. 關於甲、乙二文的說明與比較，下列何者最恰當？

- (A) 甲、乙二文分別用「炳燭」、「日出」比喻老年學習 (B) 甲文藉人物對話呈現思想，乙文多舉古人事蹟為例證
(C) 甲文論證清晰，乙文多藉由感嘆語氣來抒發作者情感 (D) 二者皆引用孔子及後學的言行證明自己提出的觀點。

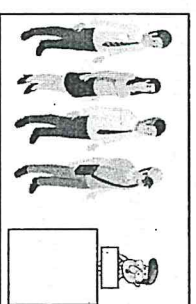
高雄市立鼓山高中 114 學年度第 2 學期第二次段考《國三》英語科試題

範圍：翰林版英語 B6 U3-Review 2

班 _____ 號 姓名 _____

畫卡代碼：02

一、選擇(1-10 每題 3 分，11-38 每題 2.5 分)



1. Look at the picture. What are they doing?
A. They are walking around. B. They are standing in line.
C. They are drinking water. D. They are talking with each other.
2. Emily is fifteen. She isn't old enough to _____ in the election.
A. date B. vote C. park D. count
3. Lisa drove her friends to the house _____ the party was held.
A. what B. which C. where D. whose
4. When are you going to _____ the problem?
A. deal with B. hand in C. clean up D. stay up
5. Sam didn't know how to do the math homework _____ he asked Ann for help.
A. if B. while C. since D. until
6. The girl was short, so she jumped up and _____ her hand to try to get her favorite singer's attention.
A. felt B. held C. raised D. touched
7. It's raining right now, so I don't see the _____ of hanging our clothes outside.
A. point B. topic C. power D. problem
8. James: Hi, I'm here for Jay's Talk Show. Where should I go?
Chloe: Hello, sir. Please _____ here, and then go to Room 312.
A. stay up B. check in C. grow up D. cheer up
9. The restaurant tried to _____ its customers by giving them free snacks and drinks.
A. miss B. store C. please D. collect
10. It's cold outside. There is a jacket on the sofa. Don't forget to _____.
A. put it on B. get it off C. sign it up D. point it out
11. The boy and the dog _____ are playing over there live at the foot of the mountain.
A. which B. who C. that D. why
12. Mom: Jessie, tell me _____. Jessie: Don't worry. Nothing special.
A. what time it is B. when the movie starts C. what happened D. where is your money
13. While Eric _____ the road, he saw a lady waving at him.
A. crosses B. crossed C. is crossing D. was crossing
14. Do you know the girl _____ dream is to travel to another planet?
A. who B. whose C. which D. that
15. The woman _____ long hair used to be a tennis player.
A. of B. in C. with D. at
16. After _____ the work, he will get a lot of money.
A. finish B. will finish C. finished D. finishing
17. If it _____ rain tomorrow, we'll go on a picnic.
A. hasn't B. doesn't C. isn't D. won't
18. Mark: Mom, I have decided to study hard.
Mom: _____ But don't break your words again.
A. Do you know how to work it out? B. I don't think so.
C. That's quite easy. D. I'm glad to hear that.
19. Daniel has to stay up late because of the exams, _____?
A. doesn't he B. does he C. hasn't he D. has he
20. The watch I bought five years ago still _____ new. It cost me a lot of money.
A. looks like B. like C. is looked D. looks

21. I am sure ___ Sally's not the only person that Mike's dating.
A. if B. that C. who D. whether
22. Here comes the bus. Let's _____.
A. get on the bus B. get it on C. get the bus on D. get it on bus
23. Many students go to school _____.
A. by their bikes B. on bicycle C. by bicycles D. on their bikes
24. Nora's father _____ to Japan on business (出差), and he won't be home until next month.
A. has gone B. has been C. went D. goes
- 二、閱讀題組
A. 克漏字

(At a police station)

Police: Please tell me what happened as clearly as you can.

Mr. Carter: No problem. ___25___ I was withdrawing money, three men in black suddenly showed up. One of them put a knife to my neck and made me give them all the money I had.

Police: ___26___

Mr. Carter: No, I didn't. All of them wore a mask and a cap.


Police: How did you get ___27___ in the end?

Mr. Carter: A tall strong guy ran up to me and fought with them. They couldn't beat him, so they ran away.

Police: I see. That was very brave of him. Well, I think that's all I need. You can go home and have a good rest now.

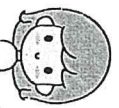
Mr. Carter: Thank you. I really need some time to ___28___.

withdraw 提取 beat 擊敗★★★★



25. A. While B. Although C. Since D. Until
26. A. Didn't you wear a face mask? B. Did you see their faces?
C. Do you know where they came from? D. Didn't you call the police?
27. A. bitten B. attacked C. picked D. saved
28. A. point out B. cool down C. stay up D. wake up

B. 閱讀題組



Isabella ★★★★★

A beautiful story for people from eight to eighty
Reviewed in the US on September 8, 2021

The book is about two 13-year-old boys who both live in France but in different times.

Adrien lives in 2014, and Hadrien lives in 1914. They write to each other through a magic mailbox. In the letters, they share their problems about families, school, and girls. One day, Adrien learns that Hadrien lives in 1914, the year World War I starts. This makes him very worried, and he tries hard to stop Hadrien from being killed in the war.

My favorite part is when Adrien digs into history and geography to get the big picture of the war. Then he tells Hadrien how the war will go, so Hadrien and his family can move to a safe place before the war begins. His effort to save his friend is very touching. By reading the book, I also learned what people's lives were like in 1914. For example, most teenagers couldn't go to school but had to work. I think people of all ages would enjoy reading this book. It gives you not only pleasure but also a chance to take a look at life a hundred years ago.

review 評論 mailbox 信箱 geography 地理 effort 努力



29. What does this mean in the reading?
- The mailbox through which Adrien and Hadrien write to each other.
 - The fact that Hadrien lives in the time of World War I.
 - The problem that Hadrien has at school.
 - The letter which Adrien shares his worries in.
30. Which is UNLIKELY to be found in Adrien's letters to Hadrien? unlikely 不太可能的
- Could it be that you are a boy from the future?
 - I know something bad will happen in 1914, and I'm so worried about you.
 - In four weeks, your village will be taken over.
 - Most boys at your age have to work. Is that true?
31. What CAN'T we learn from the review?
- Isabella's favorite part of the book.
 - How Adrien tries to save Hadrien.
 - How the two boys keep in touch with each other.
 - What Hadrien's family is like.

Have you ever tried to copy down every word your teachers said in class? Taking notes is a useful skill that can help your whole life. It can help you do better on tests and to understand difficult lessons. Studies show that people who take notes remember better and longer than those who don't. Here are three tips for note taking.

Step 1: Don't be a recorder.

Don't write down every word that your teacher says. It wastes time and is very inefficient. What should you do? Write down the main ideas. When your teacher asks a question, write it down and answer it in your own words. Putting things in your own words helps you to understand and remember them.

Step 2: Use colored pens.

Write questions in one color, answers in another, and key points in a third. The colors help you organize and find what you are looking for quickly and easily.

Step 3: Review your notes.

Reread your notes while the class is still fresh in your mind. It helps to reinforce what you learned and lets you fill in any gaps that you might have left during class.



organize

組織

review

復習

reinforce

加強

gap

缺口

32. Which is a good note taking tip from the reading?
- Review your notes after you finish them.
 - Use pens of the same color to take notes.
 - Bring a recorder with you.
 - Write down every single word your teacher says.
33. Which is true?
- Use a recorder to record what your teacher is saying in class.
 - Helping your classmates will help you understand better.
 - People who take notes in class can't remember things longer.
 - Try to answer the questions in your own words.
34. Which of the following examples of inefficient is correct?
- Amy spent a lot of time studying and got good grades. It was inefficient.
 - Doing homework and watching TV at the same time are inefficient.
 - It's inefficient that Linda doesn't have any brothers or sisters.
 - Asking questions and looking for answers are inefficient.

Taiwanese Dish Cooking Class

Come and join us to make this delicious Taiwanese dish, "Three-Cup Chicken."

It is mouth-watering just from smelling it!

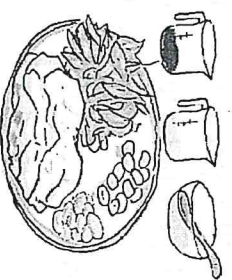
Ingredients:

- Chicken legs 900 g
- Sesame oil 3 tablespoons
- Soy sauce 1/4 cup
- Rice wine 1/4 cup
- Ginger 12 slices
- Garlic 12 cloves
- Taiwanese basil 2 cups

Time: July 10, noon

Place: *Gina's Kitchen*

Fee: NT\$350 or NT\$100 if you bring your ingredients.



	sesame	芝麻	soy sauce	醬油	rice wine	米酒
	ginger	薑	garlic	大蒜	Taiwanese basil	九層塔
	fee	費用				

35. What are ingredients for?

- A. The fee to make a dish.
- B. The tools to make a dish.
- C. The food to make a dish.
- D. The time to make a dish.

36. When may people feel something mouth-watering?

- A. When they hear something interesting.
- B. When they put on something beautiful.
- C. When they see something useful.
- D. When they smell something great and want to eat it.

The Look

by Sara Teasdale (1884-1933)

*Strephon kissed me in the spring,
Robin in the fall,
But Colin only looked at me
And never kissed at all.
Strephon's kiss was lost in jest,
Robin's lost in play,
But the kiss in Colin's eyes
Haunts me night and day.*

 jest 玩笑 haunt 縈繞在...心頭

 in jest 開玩笑地；haunt 縈繞在...心頭

37. Who **DIDN'T** give the poet(詩人) a kiss?

- A. Robin.
- B. Strephon.
- C. Colin.
- D. None of them.

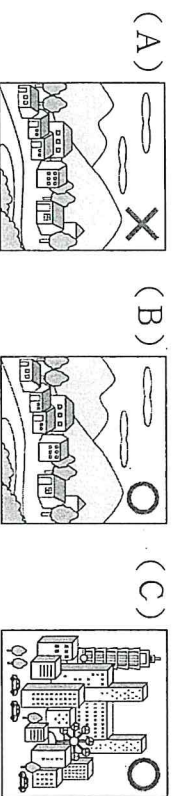
38. What made the poet unforgettable(難忘的)?

- A. Robin's kiss.
- B. Colin's eyes.
- C. Colin's hand.
- D. Strephon's joke.


範圍：翰林版英語 B6 U3~Review 2 每題 4 分
畫卡代碼 22

一、辨識句意：根據聽到的內容，選出符合描述的图片或符合圖片的描述。


1. ()




2. ()




3. ()



4. ()




5. ()



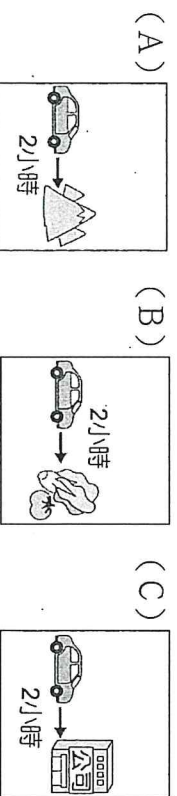
6. ()



7. ()



8. ()



二、基本問答：根據聽到的內容，選出一個最適合的回應或最適合的問句。

9. ()
(A) Yes. It took us almost three years.
(B) What? I thought we were ready for that.
(C) No worries. The house is just two blocks away.
10. ()
(A) The girl with long brown hair.
(B) The picture that is hung on the wall.
(C) The band which plays country music.
11. ()
(A) We must study harder.
(B) I don't know how to wake him up.
(C) It's because he is too serious.
12. ()
(A) Yes, I went there many times before.
(B) The weather there is pretty cold in winter.
(C) Not yet. I can't make a decision right now.
13. ()
(A) Please give me the shopping list.
(B) We have to check the time and the place.
(C) Of course. The meeting will begin in five minutes.
14. ()
(A) An old lady was hit by a scooter. Luckily, she could still stand and walk.
(B) Be careful when crossing the street.
(C) I didn't know how to deal with the problem.
15. ()
(A) Oh, I'll wash my face later.
(B) I stayed up late last night to prepare for today's English test.
(C) I need to turn on the light because the room is so dark.
16. ()
(A) OK! Let me show you.
(B) Cool! I like the red computer.
(C) Sure! I'd be glad to fix the screen for you.
17. ()
(A) We had better look up the words in the dictionary first.
(B) No wonder she likes to exercise a lot.
(C) I can't agree with you more. She is really good at English.
- 三、言談理解：根據聽到的內容，選出一個最適合的答案。
18. ()
(A) Packing for a trip.
(B) Shopping for coats.
(C) Choosing where to camp.
19. ()
(A) In a bank.
(B) In a police station.
(C) In a post office.
20. ()
(A) The girl likes to study the planets.
(B) The girl wants to be a scientist.
(C) The girl likes to go traveling.
21. ()
(A) In a department store.
(B) In a bank.
(C) In a post office.
22. ()
(A) The woman was sad.
(B) The woman was cheated.
(C) The woman was stupid.

23. ()
(A) Ken.
(B) Judy.
(C) Frank.
24. ()
(A) He fell off from his bike and broke his leg.
(B) He fell down from the stairs.
(C) He was hit by a motorcycle.
25. ()
(A) She may have a cold and doesn't feel well.
(B) She may get lost and can't find the hospital.
(C) She may have trouble learning a language.

高雄市立鼓山高中 114 學年度第二學期第二次段考《國三》數學科試題卷

考試範圍：第六冊 2-2-3-1

_____年_____班_____號 姓名_____

一、選擇題：16 題，每題 5 分，共 80 分

1. () 小漢煮好了 25 顆湯圓，其中 15 顆為芝麻湯圓，10 顆為花生湯圓。已知小漢想從煮好的湯圓中撈一顆，若每顆湯圓被小漢撈到的機會相等，則他撈到花生湯圓的機率為何？
 (A) $\frac{2}{5}$ (B) $\frac{2}{3}$ (C) $\frac{1}{2}$ (D) $\frac{1}{10}$

2. () 動物園準備了 100 張刮刮樂，打算送給開幕當日的前 100 位遊客每人一張，其中可刮中獎品的刮刮樂共有 32 張，附表為獎品的種類及數量。若小強為開幕當日的第一位遊客，且每張刮刮樂被小強拿到的機會相等，則小強刮中玩偶的機率為何？
 (A) $\frac{1}{2}$ (B) $\frac{1}{16}$ (C) $\frac{8}{25}$ (D) $\frac{1}{50}$

獎品	數量
北極熊玩偶一個	1
獅子玩偶一個	1
造型馬克杯一個	10
紀念鑰匙圈一個	20

3. () 箱子內裝有 53 顆白球及 2 顆紅球，小宏打算從箱子內抽球，以每次抽出一球後將球再放回的方式抽 53 次球。若箱子內每顆球被抽到的機會相等，且前 52 次中抽到白球 51 次及紅球 1 次，則第 53 次抽球時，小宏抽到紅球的機率為何？
 (A) $\frac{1}{2}$ (B) $\frac{1}{3}$ (C) $\frac{2}{53}$ (D) $\frac{2}{55}$

4. () 袋子裡有 40 顆相同大小的球，其編號依序為 1、2、3、4、……、39、40，從袋中任意取出一球，每顆球被取到的機率都相等，則此球的號碼是質數的機率是多少？
 (A) $\frac{1}{4}$ (B) $\frac{3}{10}$ (C) $\frac{11}{40}$ (D) $\frac{13}{40}$


5. () 阿志、小怡兩人打算搭乘同一班次電車上學。若此班次電車共有 5 節車廂，且阿志從任意一節車廂上車的機會相等，小怡從任意一節車廂上車的機會相等，則兩人從同一節車廂上車的機率為何？

- (A) $\frac{1}{5}$ (B) $\frac{1}{2}$ (C) $\frac{1}{10}$ (D) $\frac{1}{25}$

6. () 甲箱內有 4 顆球，顏色分別為紅、黃、綠、藍；乙箱內有 3 顆球，顏色分別為紅、黃、黑。小賴打算同時從甲、乙兩個箱子中各抽出一顆球，若同一箱中每球被抽出的機會相等，則小賴抽出的兩顆球顏色相同的機率為何？

- (A) $\frac{1}{3}$ (B) $\frac{1}{6}$ (C) $\frac{2}{7}$ (D) $\frac{7}{12}$

7. () 阿嘉和小揚都有 5 張分別標示數字 1、2、3、4、5 的紙牌，右圖表示兩人的牌中皆有三張牌被自己蓋住的情形。今兩人打算從自己蓋住的紙牌中翻開一張牌，若阿嘉蓋住的牌中每張牌被翻開的機會相等，小揚蓋住的牌中每張牌被翻開的機會相等，則比較兩人翻開的那張牌上的數字，阿嘉比小揚大的機率為何？



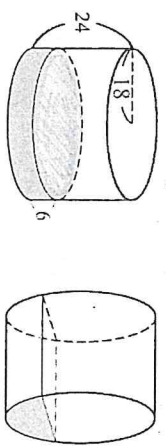
- (A) $\frac{1}{3}$ (B) $\frac{2}{3}$ (C) $\frac{1}{9}$ (D) $\frac{2}{9}$

8. () 有一組資料共有 8 個整數，7、4、4、6、9、4、2、4，在每個數被取到的機會相同的情況下，任取一數，取到 4 的機率是 $\frac{1}{2}$ ，如果想要取到 4 的機率大於 $\frac{3}{4}$ ，至少要再增加多少個 4？

- (A) 11 (B) 10 (C) 9 (D) 8

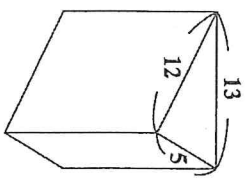
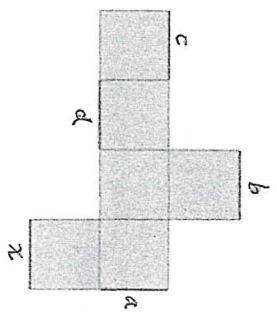
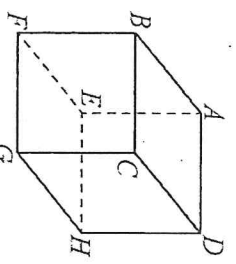
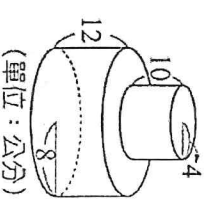
9. () 已知正六角錐有 a 個頂點， b 個面， c 條邊，則下列敘述何者正確？
 (A) $a=12$ (B) $b=7$ (C) $c=18$ (D) $a+b+c=38$

10. () 圖一為一個密閉圓柱體容器，內部底面半徑為 18 公分、柱高為 24 公分，裝水高為 6 公分。將其推倒後，如圖二，若水不外漏，則圖二灰色區域的面積為多少平方公分？
 (A) 36π 平方公分 (B) 54π 平方公分
 (C) 81π 平方公分 (D) 162π 平方公分



圖一
圖二
(長度單位：公分)

11. () 如下圖三，將兩圓柱體疊合後，其表面積為多少平方公分？
 (A) 350π (B) 375π (C) 400π (D) 416π



圖三

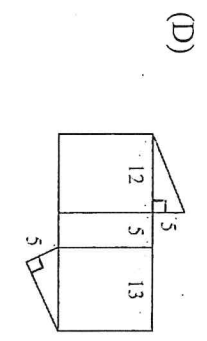
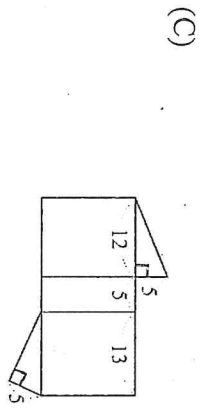
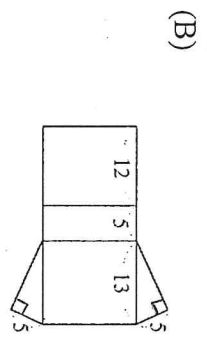
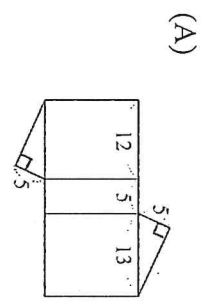
圖四

圖五

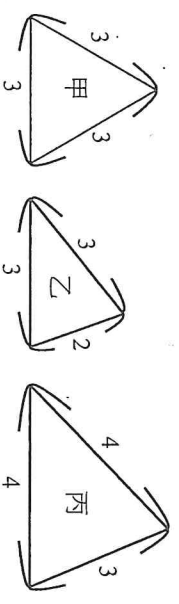
圖六

13. () 如下圖五為一正方體的平面展開圖，其中 a 、 b 、 c 、 d 、 x 所表示的邊如圖所示，若將它摺回原來的正方體，則哪一邊會和 x 邊接合？
 (A) a (B) b (C) c (D) d


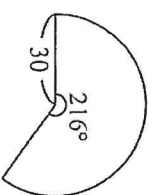
14. () 上圖六為一直角柱，其底面是三邊長為 5、12、13 的直角三角形。若下列選項中的圖形均由三個矩形與兩個直角三角形組合而成，且其中一個為右圖的直角柱展開圖，根據圖形中標示的邊長與直角記號，此展開圖為何者？



15. () 有甲、乙、丙三種三角形木片，其邊長如圖所示，阿林、小柏 打算利用這三種木片各自組合成一個正三角錐。首先兩人皆選一片甲當作底面，接著阿林選三片乙當作側面，小柏選三片丙當作側面，關於兩人選的木片能不能組合成一個正三角錐，下列判斷何者正確？
 (A) 兩人皆能 (B) 兩人皆不能
 (C) 阿林不能，小柏能 (D) 阿林能，小柏不能



16. () 如圖，阿逸想用圓心角 216° 、半徑 30 公分的扇形，做一頂魔術師帽，則下列哪一個圓錐是阿逸所做的魔術師帽？



二、非選題：每題 10 分，共 20 分。請寫在 **答案卷** 內，需有計算過程或理由說明

1. 一副完整的撲克牌有 4 種花色，且每種花色皆有 13 種點數，分別為 2、3、4、5、6、7、8、9、10、J、Q、K、A，共 52 張。某撲克牌遊戲中，玩家可以利用「牌值」來評估尚未發出的牌之點數大小。「牌值」的計算方式為：未發牌時先設「牌值」為 0；若發出的牌點數為 2 至 9 時，表示發出點數小的牌，則「牌值」加 1；若發出的牌點數為 10、J、Q、K、A 時，表示發出點數大的牌，則「牌值」減 1。

例如：從一副完整的撲克牌發出了 6 張牌，點數依序為 3、A、8、9、Q、5，則此時的「牌值」為 $0+1-1+1+1-1+1=2$ 。請根據上述資訊回答下列問題，完整寫出你的解題過程並詳細解釋：

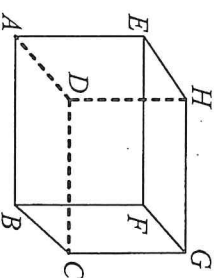
(1) 若一副完整的撲克牌發出了 11 張點數小的牌及 4 張點數大的牌，則此時的「牌值」為何？

(2) 已知一副完整的撲克牌已發出 28 張牌，且此時的「牌值」為 10。若剩下的牌中每一張牌被發出的機會皆相等，則下一張發出的牌是點數大的牌的機率是多少？

2. 如圖，長方體中， $\overline{EH} = 6$ ， $\overline{HG} = 10$ ， $\overline{AE} = 8$ ，請回答下列問題：

(1) $\overline{AH} = ?$

(2) 請問 \overline{HB} 與 \overline{AG} 是否等長且互相垂直？請完整說明此結果的理由。



一、選擇題：(每題 5 分，共 80 分)

1	2	3	4	5	6	7	8	9	10
11	12	13	14	15	16				

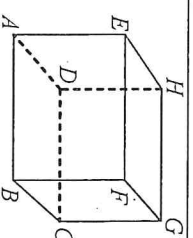
二、非選擇題：(需有計算過程或理由說明，共 20 分)

1. 一副完整的撲克牌有 4 種花色，且每種花色皆有 13 種點數，分別為 2、3、4、5、6、7、8、9、10、J、Q、K、A，共 52 張。某撲克牌遊戲中，玩家可以利用「牌值」來評估尚未發出的牌之點數大小。「牌值」的計算方式為：未發牌時先設「牌值」為 0；若發出的牌點數為 2 至 9 時，表示發出點數小的牌，則「牌值」加 1；若發出的牌點數為 10、J、Q、K、A 時，表示發出點數大的牌，則「牌值」減 1。
 例如：從一副完整的撲克牌發出了 6 張牌，點數依序為 3、A、8、9、Q、5，則此時的「牌值」為 $0+1-1+1+1-1+1=2$ 。
 請根據上述資訊回答下列問題，完整寫出你的解題過程並詳細解釋：

- (1) 若一副完整的撲克牌發出了 11 張點數小的牌及 4 張點數大的牌，則此時的「牌值」為何？
 (2) 已知一副完整的撲克牌已發出 28 張牌，且此時的「牌值」為 10。若剩下的牌中每一張牌被發出的機會皆相等，則下一張發出的牌是點數大的牌的機率是多少？

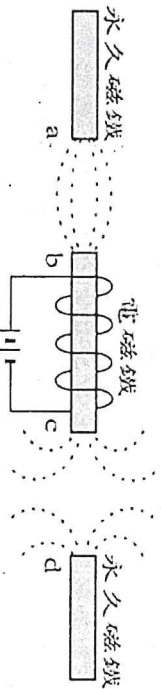
2. 如圖，長方體中， $\overline{EH} = 6$ ， $\overline{HG} = 10$ ， $\overline{AE} = 8$ ，請回答下列問題：

- (1) $\overline{AH} = ?$
 (2) 請問 \overline{HB} 與 \overline{AG} 是否等長且互相垂直？請完整說明此結果的理由。

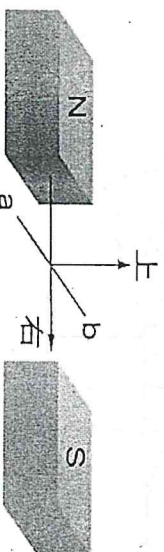


一、基本題(每題 2 分，共 40 分)

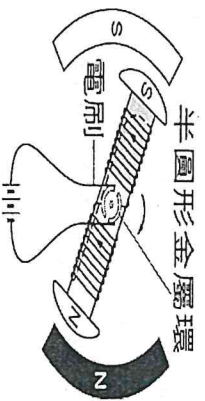
- () 磁場是具有何種性質的物理量？甲. 有大小；乙. 有方向；丙. 沒有大小；丁. 沒有方向。(A) 甲乙 (B) 乙丙 (C) 甲丁 (D) 丙丁。
- () 下列哪一位科學家最先發現了電和磁之間是有關係的？(A) 安培 (B) 伏打 (C) 厄斯特 (D) 生頓。
- () 下列哪一種作用或現象發生時，會增加大氣中的溫室氣體？(A) 燃燒化石燃料所產生之氣體 (B) 海洋中碳酸鹽類的沉積作用 (C) 植物行光合作用產生之氣體 (D) 水蒸氣凝結為雨滴降落地面。
- () 咚咚發現電磁鐵與兩個永久磁鐵排列在一起時，磁力線的分布如下圖所示。下列何者為磁極 a、b、c、d 的磁性？(A) N、S、N、N (B) N、N、N、N (C) S、S、N、N (D) S、N、S、S。



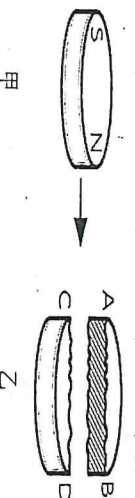
- () 近年來的生態研究，發現許多生物分布的區域有逐年往更高緯度或更高海拔處移動的趨勢，下列何者是最主要的原因？(A) 臭氧洞面積增加 (B) 聖嬰現象 (C) 全球暖化 (D) 酸雨越趨嚴重。
- () 如附圖所示，一條長直導線的電流方向由 b 流向 a，則導線所受之磁力方向為何？(A) 向上 (B) 向下 (C) 向左 (D) 向右。



- () 馬達中的線圈藉由左右電刷和兩片半圓形集電環的反覆接觸，以改變線圈電流方向而轉動，請問電刷和集電環多久改變一次電流方向？(A) 轉動 90 度後 (B) 轉動 180 度後 (C) 轉動 240 度後 (D) 轉動 360 度後。
- () 方向固定的風，長時間吹拂海水可以產生大規模的海水運動，此運動稱為下列何者？(A) 對流 (B) 平流 (C) 洋流 (D) 潮汐。
- () 關於以右手開掌定則判斷導線和磁場方向之間的受力關係，下列哪一敘述是正確的？(A) 大拇指代表電流方向 (B) 四指代表受力方向 (C) 掌心代表磁場方向 (D) 手背代表受力方向。
- () 為減緩氣候變遷，下列哪些是「淨零排放」目標中移除溫室氣體的方法？甲. 利用森林、溼地吸碳；乙. 利用海洋中的藻類吸碳；丙. 人為進行碳捕捉與封存；丁. 增加畜牧業規模加強碳循環。(A) 甲乙 (B) 丙丁 (C) 甲乙丁 (D) 甲乙丙。
- () 附圖的馬達結構中，何者是改變輸入線圈電流方向的裝置？(A) 線圈 (B) 場磁鐵 (C) 半圓形金屬環 (D) 鐵芯。

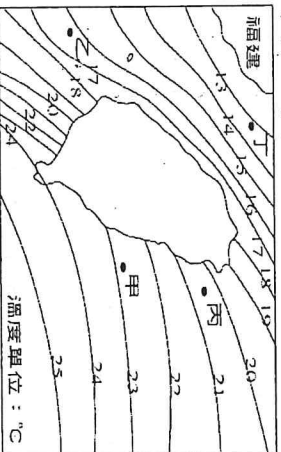


- () 有一圓盤形磁鐵如圖甲，今將其橫切如圖乙，則下敘述何者錯誤？

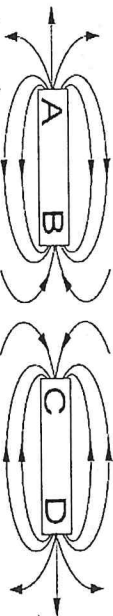


- (A) A 為 S 極；B 為 N 極 (B) C 為 S 極；D 為 N 極 (C) 若將橫切的兩塊磁鐵再重疊時，會互相排斥 (D) A 極和 D 極的磁性相同。

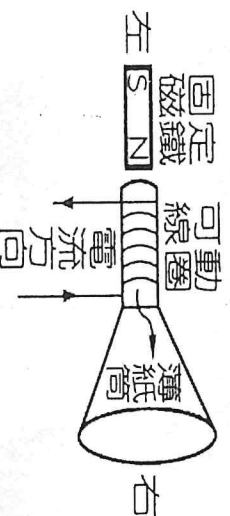
13. () 將一磁針放在一磁鐵建立的磁場中，磁針N極所指的方向與該處磁力線切線方向的夾角為多少度？ (A)0度 (B)45度 (C)60度 (D)90度。
14. () 下圖為臺灣附近海水表面冬季平均溫度分布狀況。由圖可知，下列哪一區域的冬季海水表面溫度最高？ (A)甲 (B)乙 (C)丙 (D)丁。



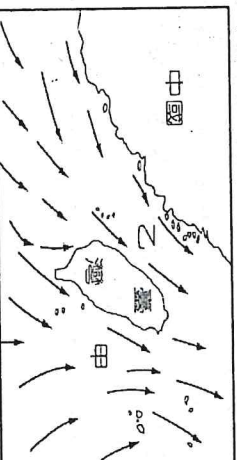
15. () 附圖為一直線上之兩磁棒的磁力線圖形，下列有關各磁極的磁性，何者正確？



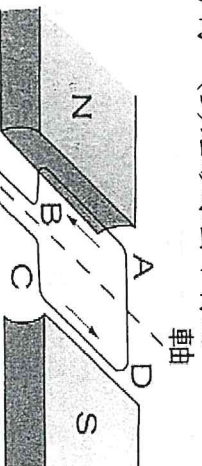
- (A)A 為 S 極 (B)B 為 N 極 (C)C 為 S 極 (D)D 為 S 極。
16. () 下列何種現象屬於小範圍、地區性問題，並非全球變遷？ (A)溫室效應增強 (B)海洋酸化 (C)海平面上升 (D)地層下陷。
17. () 全球平均溫度上升，除了會影響人類生活外，還會造成下列何種影響？ (A)海水面持續上升使沙漠變少 (B)兩極和高山的水層加速融化 (C)珊瑚與浮游生物大量繁殖 (D)土壤中水分蒸發速率驟降。
18. () 附圖為喇叭示意圖，線圈緊繞在薄紙筒上，其中磁鐵固定不動，若在線圈上通以直流電流，請問線圈如何運動？ (A)向左 (B)向右 (C)左右來回振動 (D)不動。



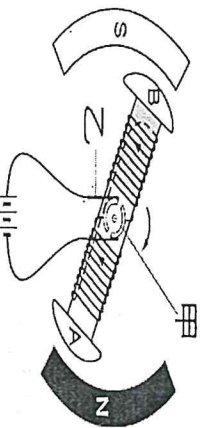
19. () 一電子束由地面沿著鉛直的方向朝空中射出時，會受地磁影響而偏向何方前進？ (A)東方 (B)西方 (C)不受影響 (D)返回地面。
20. () 下列關於黑潮的敘述何者有誤？ (A)是北大西洋主要洋流之一 (B)寬度可達數百公里 (C)深度約達1公里 (D)海水顏色呈深藍色。
- 二、進階題(每題3分，共48分)
21. () 附圖是某季節時臺灣附近海域的海水流動情形，箭頭代表海水流動方向，甲為臺灣東部海域洋流，乙為臺灣西部海域的洋流，則下列敘述何者正確？



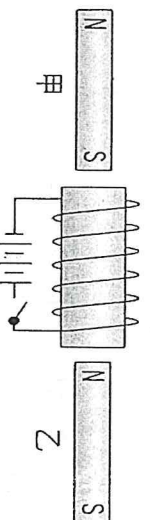
- (A)此季節為冬季 (B)甲為黑潮 (C)乙為涼流 (D)甲、乙的流向會隨盛行季風方向而改變。
22. () 阿志在地下室發現了一臺發電機，他仔細觀察之後做了以下的敘述，請問其中哪一項是錯誤的？ (A)發電機是利用電磁感應的原理 (B)需要能產生磁場的磁鐵 (C)運轉過程中將電能轉換成力學能 (D)藉由變化的磁場來產生電流。
23. () 取一組磁鐵，中央放一個可轉動的矩形線圈，通入直流電後，電流方向如附圖中箭號所示，則下列敘述何者正確？ (A)矩形線圈會順時鐘轉動 (B)矩形線圈會逆時鐘轉動 (C)矩形線圈每轉180度改變一次轉動方向 (D)矩形線圈不轉動。



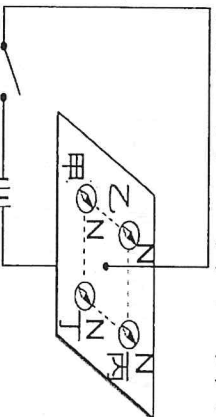
24. () 如附圖所示，這是一組簡易馬達結構運轉的分解圖，圖中繞有線圈的鐵芯，稱之為電樞。圖中甲、乙結構依次為下列何者？(A) 電刷、集電環 (B) 電刷、強力磁鐵 (C) 集電環、電刷 (D) 強力磁鐵、電刷。



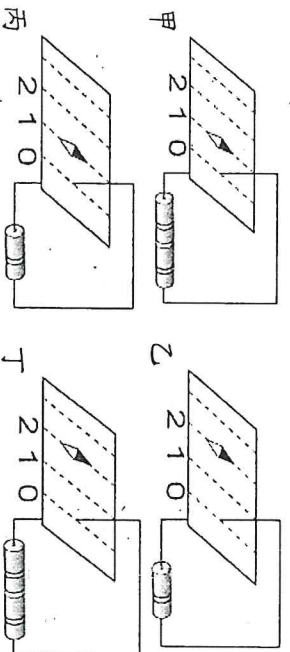
25. () 純在磁鐵下方掛上一串鐵釘，以手固定第一個鐵釘後移開磁鐵，應該會觀察到下列何種現象？(A) 鐵釘會馬上掉落 (B) 鐵釘一直維持原狀態不變 (C) 一小段時間之後鐵釘掉落 (D) 數小時後由最下方的鐵釘依序掉落。
26. () 阿墨搭乘觀光船在臺灣東部航行時，導覽員介紹了流經臺灣東部海域的洋流黑潮，關於黑潮的敘述，下列何者正確？(A) 黑潮主流流經臺灣海峽 (B) 表面水流緩慢 (C) 黑潮支流流經臺灣東部沿岸 (D) 攜帶溫暖的海水。
27. () 使地表保持平均溫度約 15°C，主要是受到溫室氣體的影響，試問下列何者不是溫室氣體？(A) 水氣 (B) 二氧化碳 (C) 甲烷 (D) 氮氣。
28. () 如附圖所示，阿呆將一個螺旋形線圈前後分別放置甲、乙兩根磁棒，則當按下開關後，甲、乙兩磁棒的移動方式為何？(A) 甲向右移、乙向左移 (B) 甲向左移、乙向右移 (C) 甲乙皆向右移 (D) 甲乙皆向左移。



29. () 如附圖所示，水平面上有四個磁針，當電流尚未接通以前，各磁針指向相同，將開關壓下，則四個磁針中，哪一個將不偏轉？(A) 甲 (B) 乙 (C) 丙 (D) 丁。



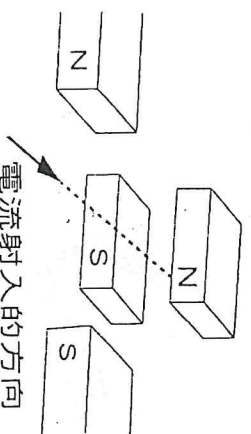
30. () 海洋變得越來越酸，會造成什麼重要影響？(A) 海浪強度越來越大，使沿岸侵蝕增強 (B) 珊瑚、貝類等製造碳酸鈣外骨骼的生物生存受威脅，減低生物多樣性 (C) 增加海面的蒸發速率，造成降水變多 (D) 海水變酸會加快海冰的融化，使陽光反射量減少，增加全球暖化。
31. () 人類活動造成大氣中的二氧化碳濃度增加，這主要是人類加快釋放自然儲存在何處的碳所致？(A) 石灰岩中儲存的碳 (B) 海水中溶解的大量二氧化碳 (C) 地函中巨量的碳儲存 (D) 森林和化石燃料儲存的碳。
32. () 導電後的導線會在周圍形成一個磁場，關於這個磁場的敘述，下列何者正確？(A) 磁場的方向和電流方向平行 (B) 磁場方向和電流方向垂直 (C) 磁場強度和導線距離成正比 (D) 磁場強度和電流大小成反比。
33. () 如附圖所示，甲、乙、丙、丁四磁針所受的磁力，何者最小？(A) 甲 (B) 乙 (C) 丙 (D) 丁。



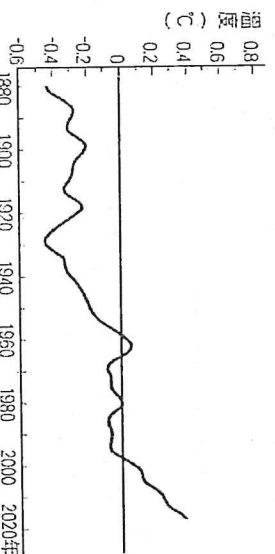
34. () 想自己动手做一个简易直流马达，除了支架、漆包线及电线外，还需要哪些配件？甲：磁铁(永久磁铁) 乙：半圆形集电环 丙：电刷 丁：电磁铁 (A) 甲、乙、丙 (B) 乙、丙、丁 (C) 仅甲、丙 (D) 仅乙、丙。
35. () 温室气团可以维持地表的温度，主要是因为它们直接吸收下列何者？(A) 太阳辐射的紫外线 (B) 地表辐射的红外线 (C) 太阳辐射的红外线 (D) 地表辐射的紫外线。
36. () 马达和发电机电都是应用电流和磁场的交互作用而达到工作目的的装置，然而下列哪一项不是两者内部皆需要使用的零件？(A) 集电环 (B) 电刷 (C) 磁场 (D) 电源。

三、題組(每題 2 分，共 12 分)

1. 如附圖所示，電流射入兩對磁極之間，且射入之方向與磁場方向垂直，則其運動方向應為何？



37. () (A) 先下再右 (B) 先下再左 (C) 先上再右 (D) 先上再左。
38. () 承上題，若改為電子流射入兩對磁極之間，且射入之方向與磁場方向垂直，則其運動方向應為何？ (A) 先下再右 (B) 先下再左 (C) 先上再右 (D) 先上再左。
2. 附圖為西元 1860 年至今，地表平均溫度長期變化趨勢。試根據此圖，回答下列問題：



39. () 此圖所呈現之趨勢，其成因與人類經濟活動使大氣中何種成分之增加最相關？
(A) 氧氣 (B) 一氧化碳 (C) 二氧化碳 (D) 二氧化硫。
40. () 此圖所呈現之趨勢對地球環境將造成下列何種影響？
(A) 沙漠化現象加劇 (B) 水分蒸發速率減緩 (C) 平均海平面下降 (D) 寒帶的生物棲地往緯度更低處遷移。

3. 曉明想要了解封閉線圈內磁場發生變化時是否會產生電流。他將一個螺線管以導線和檢流計相連接，並且準備了一個棒形磁鐵，請回答下列問題

41. () 在何種狀況之下檢流計的指針會發生偏轉？
(A) 將棒形磁鐵放置於線圈的一端 (B) 將棒形磁鐵放置於線圈內 (C) 將棒形磁鐵放置於線圈的四周 (D) 使棒形磁鐵進出線圈。
42. () 若是想要增加檢流計指針偏轉的角度，則不應考慮下列何種做法？
(A) 增加相同長度螺線管的線圈圈數 (B) 使磁鐵進出線圈的速率加快 (C) 使線圈靠近或遠離線圈的速率加快 (D) 使檢流計更接近線圈和磁鐵裝置。

高雄市立鼓山高中(國中)114 學年度第二學期第二次段考《國三》歷史科試題卷


考試範圍:L3~L4

電腦讀卡代碼：04

三年____班____號 姓名_____

一、選擇：(每個答案 4 分，共 68 分)

- () 美國羅斯福總統在任期間曾經推動「新政」，對當時的社會狀況帶來正面影響。對於羅斯福總統新政推動的背景，下列敘述何者正確？ (A) 因為美國投入過多的戰爭資源，導致國家內部反對意見不斷，因此羅斯福總統透過新政加以挽救 (B) 歐洲大量傾銷廉價產品到美國，導致美國自產的貨物滯銷，造成經濟問題 (C) 由於美國帶頭施行貿易的孤立主義，使得各國同樣以高關稅回應，最終造成世界性的經濟問題 (D) 因為亞洲與非洲殖民地紛紛獨立，造成美國貨物缺乏傾銷管道。
- () 雖為第一次世界大戰的戰勝國，但在和會中卻未取得好處，戰後國家內部千瘡百孔，社會動盪不安。因此，在第二次世界大戰時， 搖身一變，成為了侵略國家。請問：關於上述的說法，何者最符合真實狀況？ (A) 指的應該是德國 (B) 和會是在維也納召開 (C) 該國在第一次世界大戰後崛起的人物為希特勒 (D) 社會動盪不安，包括共產黨人的活動。
- () 這個國家在近現代以來在中亞、東亞大肆擴張領土，甚至利用兩次英法聯軍的機會，併吞一半的中國東北。但其外強中乾的事實，都在第一次世界大戰中暴露出來，該國後勤不足，資源也非常有限，最後不得不斷尾求生。請問：下列哪一個敘述最符合該國的「斷尾求生」？ (A) 成立民主臨時政府 (B) 全力發展國防工業 (C) 成立社會主義國家 (D) 推新政度過大恐慌。
- () 「對於戰後新生的德國威瑪政權來說，《凡爾賽條約》是個可怕的魔咒——它把全部的戰爭責任都歸於德國及其盟國，於是這份恥辱永遠與共和國的誕生聯繫在一起，侵蝕著民主的合法基石，進一步為希特勒的崛起提供沃土。」請問：引文中的「戰後」是指哪一場戰爭之後？ (A) 德法戰爭 (B) 反法戰爭 (C) 第一次世界大戰 (D) 第二次世界大戰。
- () 九一八事變發生後，蔣中正發表文章〈敵乎？友乎？中日關係的檢討〉解釋為何不與日本交涉，而選擇訴諸國際公論。文中提及雖然在日本發動侵襲時，英美忙於應付致災性危機，蘇聯則積極推動經濟計畫，因此不予回應。但一旦列強完成經濟建設，將會協助中國。下列關於當時局勢的敘述，何者正確？ (A) 蔣中正所謂的訴諸國際公論是向國際聯盟抗議 (B) 英美處理的危機是塞拉耶佛事件引發奧塞衝突 (C) 蘇聯推動的經濟計畫源於墨索里尼的五年計畫 (D) 九一八事變的發生導致一次大戰亞洲戰場引爆。
- () 附圖是一名英國失業的勞工背著板子，板子上寫著：「我只需要一個工作。」從板子的內容判斷當時的時代背景為何？ (A) 法國大革命 (B) 第一次世界大戰 (C) 蘇聯共產政權的擴張 (D) 經濟大恐慌。



- () 老師要同學討論「墨索里尼和希特勒兩人作風的相同之處」：
妮妮：均因遭受經濟大恐慌衝擊而組織政黨。
正男：皆以恢復國家古代的光榮為號召。
風間：均以打擊共產黨為號召。
阿呆：均於選舉中贏得國會大選，合法取得政權。
以上哪幾位說法正確？ (A) 妮妮、正男 (B) 正男、風間 (C) 風間、阿呆 (D) 妮妮、風間。
- () 希特勒掌握德國的政權後，推動各項政策，包含興建大型建設解決失業問題，建立極權統治，整頓軍備，積極對外擴張等。然而，他也剝奪某一種族的人權，甚至大量迫害該族，使得該族不是遭到屠殺就是遠走他鄉。請問：這是哪一民族？ (A) 華人 (B) 印第安人 (C) 猶太人 (D) 印度人。
- () 希特勒被稱為是「大毀約家」，他的一生中曾經撕毀過許多重要的條約，最終樹立了他與眾人的敵對局面。請問：下列關於希特勒撕毀條約的敘述，何者說法正確？ (A) 希特勒違反無限制潛艇政策，引起美國的反感 (B) 希特勒最初興起的口號即是撕毀《凡爾賽條約》 (C) 《德蘇互不侵犯條約》並未遭到希特勒毀約 (D) 撕毀《慕尼黑協定》後，德國侵占蘇臺德區。
- () 中國在八年對日戰爭可以分為兩個部分，前四年(西元 1937~1941 年)為抗戰，後四年(西元 1941~1945 年)為宣戰，可見西元 1941 年為關鍵的轉捩點。請問：西元 1941 年戰爭的轉捩點為何？ (A) 日本無法支撐戰爭 (B) 中國終於開始抵抗 (C) 德國敗相已經顯露 (D) 美國放棄孤立主義。
- () 第二次世界大戰結束之後，各國鑒於兩次世界大戰造成史無前例的人員傷亡，以及對各國社會、經濟發展造成巨大的破壞與損失，因此推動戰後和平組織的成立，為聯合國誕生的契機，聯合國也成為現今重要的國際組織之一。請問：下列關於聯合國的敘述，何者正確？ (A) 聯合國總部設立於紐約，並設有安全理事會及管理各種國際事務的小組，致力解決國際紛爭 (B) 聯合國並不允許組織維和部隊，只能透過外交會議的方式解決紛爭 (C) 聯合國的安全理事會有五個常任理事國，分別為日本、中國、美國、英國、法國，常任理事國對於提案擁有否決權 (D) 第一次世界大戰結束後所成立的國際聯盟與聯合國之間可視為一種繼承關係，兩個組織的發展型態與權力大致相同。

12. () 老師在黑板上整理某個事件的重點，如附圖所示。根據圖中內容判斷，老師正在講解下列哪一個主題？ (A)蘇聯的共產革命 (B)德意志帝國的建立 (C)第一次世界大戰 (D)第二次世界大戰。

時間：西元 1939 年～1945 年
導火線：德國侵略波蘭
轉捩點：珍珠港事變爆發
結束：美國在廣島和長崎投下原子彈，日本宣布無條件投降。

13. () 西元 1938 年，德國總理說：「日耳曼人都團結起來吧！你們不該受捷克統治，而應享有獨立的地位。」英國首相說：「捷克就將蘇臺德區割給德國吧！這樣他們就會滿足，歐洲也不會再捲入戰火中。」請問：英國首相的說法，是基於當時西歐盛行的什麼理念？ (A)孤立主義 (B)睦鄰政策 (C)姑息政策 (D)門羅主義。
14. () 原子彈引爆時能在極短的時間內，使溫度攀升到極高，也許有千百萬度，感覺像將太陽置於大氣中，能使人瞬間斃命。關於原子彈在歷史上的使用，下列說法何者有誤？ (A)原子彈出現在第二次世界大戰末期 (B)美國是第一個擁有製造原子彈能力的國家 (C)日本東京是第一個遭投擲原子彈的都市 (D)原子彈的出現結束了第二次世界大戰。
15. () 西元 1991 年 8 月 19 日，一些保守派政治家和一部分軍人發動了「八一九事件」，軟禁○○，雖然在三天後釋放，但○○發現他的聲望已被當任俄羅斯加盟共和國總統蓋過，這位加盟共和國總統實質取代他成為全國的領袖。西元 1991 年 12 月 25 日，他為了避免蘇聯境內爆發內戰，被迫宣布辭職，蘇聯隨之瓦解。請問：上文中的「○○」是指何人？ (A)尼古拉二世 (B)戈巴契夫 (C)列寧 (D)史達林。
16. () 第二次世界大戰結束後，出現許多脫離殖民母國而獨立的新興國家，他們不願加入蘇、美兩大陣營，在國際事務上相互合作，形成第三種勢力，被稱為「第三世界」。請問：關於「第三世界」的敘述，下列何者錯誤？ (A)大多數是脫離歐洲殖民而獨立的亞洲、非洲國家 (B)「第三世界」的主要目標是反殖民與反帝國主義 (C)由於成員國較落後，對世界局勢沒有影響力 (D)西元 1955 年的萬隆會議，首次出現「第三世界」的概念。
17. () 有人說德國的統一是一早晚的事，但就是缺少了一個時機點。一九八〇年代是政治動盪的時代，蘇聯對共產世界的控制逐漸弱化，也促使東歐各國出現民主化運動。請問：下列事件何者與蘇聯的政治改革較無關聯？ (A)東、西德的統一 (B)美蘇冷戰的終結 (C)獨立國家國協的成立 (D)中華民國臺灣地區解嚴。

二、配合題：(每個答案 4 分，共 16 分)

1. 下列是有關冷戰時期的區域衝突，請依照事件說明填入與相對應的答案。

- A. 柏林危機
B. 以阿衝突
C. 古巴危機
D. 柏林圍牆

18. () 因占領德國西側的英、美、法等國企圖建立西德，導致蘇聯報復，封鎖柏林地區，迫使美國僅能運用空投方式運送物資。

19. () 美、蘇兩方分別在鄰國建立飛彈發射基地，導致雙方發生軍事糾紛，經斡旋後，雙方領導人開啟對話契機。

20. () 因以色列建國，導致地中海東岸周遭國家版圖重新洗牌，使得「挺以派」的美國與「挺阿派」的蘇聯相互對立，冷戰衝擊也影響至此地。

21. () 為防止東柏林的民眾因經濟受困、自由受損等因素，企圖逃往西柏林，於西元 1961 年建立屏障，區隔兩處。

三、題組：(每個答案 4 分，共 16 分)

1. 曉華在整理歷史課的筆記(如附表)，但有些部分有所缺漏。請依據表格回答下列問題。

(甲)

思想理念	資本主義	乙
為首國家	美國	蘇聯
附屬組織	丙	丁
區域衝突	韓戰、越戰、柏林危機、古巴危機等	
和緩契機	戊	

22. () 表格中的甲應填入下列何者？ (A)第一次世界大戰 (B)戰間期的勢力發展 (C)第二次世界大戰 (D)冷戰勢力概況。

23. () 表格中的乙最適合填入下列何者？ (A)軍國主義 (B)社會主義 (C)共產主義 (D)帝國主義。

24. () 表格中的丙、丁應填入下列何者？ (A)第一世界組織；第二世界組織 (B)北大西洋公約組織；第三世界組織 (C)第一世界組織；華沙公約組織 (D)北大西洋公約組織；華沙公約組織。

25. () 表格中的戊應填入下列何者？ (A)臺海危機 (B)越戰 (C)古巴危機 (D)韓戰。

高雄市立鼓山高中 114 學年度第二學期第二次段考《國三》地理科試題卷

考試範圍：六冊全

電腦讀卡代碼：05

年 班 號 姓名

【注意：若為畫卡作答之考科，經閱卷讀卡發現畫記錯誤，該科扣 5 分，未畫卡者該科以 0 分計。】
選擇題：1-50 題每題 2 分

1. 耶路撒冷是世界三大宗教的聖地，該地是哪一國所主張的首都？(A)敘利亞(B)以色列(C)伊拉克(D)土耳其
2. 下列哪一個中南美洲國家的咖啡產量常居世界之冠，是全球重要的咖啡輸出國？(A)巴拉圭(B)智利(C)巴西(D)阿根廷
3. 南美洲有不少大城市分布在山地或高原等高地上，如印加古文明的馬丘比丘，以及秘魯、智利等國的重要都市多位在安地斯山上，主要原因為何？(A)高地上資源豐富，為經濟發展提供有利條件(B)高地上的氣候比平地涼爽(C)高地上的水陸運輸較為便利(D)高地上的溫度較高，熱量更充足
4. 拉丁音樂是融合眾多不同的文化特色，最後形成充滿活力的動感音樂。請問：下列哪一種文化特色並非拉丁音樂所內含的元素？(A)歐洲白人音樂(B)中國古典音樂(C)印第安文化(D)非洲黑人文化
5. 近年來，俄羅斯大力改善國內投資環境，並以其優勢吸引各國企業前往設廠。請問：上述提及的優勢條件最不可能包括下列何者？(A)豐富的礦產(B)廣大的市場(C)優惠的政策(D)溫和的氣候。
6. 分隔兩條河川的分界線，稱為下列何者？(A)水系(B)流域(C)分水嶺(D)集水區
7. 請問：LINE 的使用，是屬於通訊中的何種方式？(A)郵政(B)傳真(C)大眾傳播(D)網際網路
8. 有關臺灣人口問題的敘述，下列何者錯誤？(A)人口分布平均(B)人口呈現少子化(C)出生率逐年下降(D)已進入超高齡社會
9. 日本 5 月 5 日男孩節。每逢 5 月初，有男孩的家庭便會在家門外懸掛鯉魚旗，除了祈求平安成長外，也有期望男孩未來「魚躍龍門」之意。請問：下列何者是日本夏季的主要風向？(A)↙(B)↘(C)↗(D)↖
10. 海岸主要可劃分為「岩岸」與「沙岸」兩種類型。請問：海岸分類的主要依據是下列何者？(A)沿岸土地利用(B)海洋水溫高低(C)海岸構成物質(D)海岸曲直形態
11. 竹山在早期以某種產業聞名，而後因產業成本提高等問題，該產業逐漸沒落。竹山透過以傳統客運站作為創生基地，除致力恢復原生產業，還達到活化空間、凝聚居民意識等功能。請問：上文中的某種產業最有可能是下列何者？
(A)陶瓷工業(B)竹藝工業(C)溫室農業(D)觀光產業
12. 哪一個地名的命名來源與當地的環境特色較無相關？(A)冬山(B)烏來(C)復興區(D)芎林下列
13. 下列哪一種方式最有助於增加糧食產量？(A)鼓勵農民輪流休耕(B)大量噴灑農藥(C)發展基因改造作物(D)田間多種作物混雜栽種
14. 臺灣早期的畜牧方式多為欄牧，且為農家副業。採用此種畜牧方式的原因應為下列何者？(A)工資昂貴(B)技術限制(C)土地狹小(D)氣候乾燥
15. 美國拉斯維加斯為世界著名的賭城，當地附近地區盡是一片黃澄澄的沙漠，以及遍布的仙人掌。請問：影響此地景色的主要原因為何？(A)位居高緯(B)寒流流經(C)涼流流經(D)居背風側。
16. 中國有「世界工廠」之稱。以下哪些是中國吸引外資前往設廠製造的有利條件？(甲)原料充足(乙)工資低廉(丙)技術進步(丁)市場廣大(A)甲乙(B)甲丙(C)乙丁(D)丙丁
17. 請問：「極圈」是指緯度多少度？(A)23.5 度(B)44.5 度(C)66.5 度(D)77.5 度。
18. 犛牛在全世界有 85% 分布於中國境內，對當地居民來說全身是寶，主要分布於哪一地形區？(A)青藏高原(B)黃土高原(C)雲貴高原(D)內蒙古高原
19. 上海能夠成為中國重要的國際都市，其主要發展優勢條件為何？(A)港闊水深(B)地形崎嶇(C)氣候良好(D)位置優越
20. 東南亞國家中，哪一個國家可以看到許多中國式的建築和道教信仰，並保留完整「儒釋道」精神？(A)越南(B)泰國(C)緬甸(D)菲律賓
21. 美國為了抗衡中國「一帶一路」的經濟倡議，而提出了「印太戰略」的構想。請問：下列哪一個國家是中國通往印度洋貿易航線必經的國家，也是美國戰略構想的重要夥伴？(A)日本(B)南韓(C)紐西蘭(D)印度
22. 臺灣冬季時，常有候鳥來臺避寒，或者成為避暑北移的休息站。請問：造成此種現象的主要因素為何？(A)臺灣冬季降水量較少(B)臺灣環境汙染較少(C)臺灣夏季的降水量較為豐沛(D)臺灣位居溫帶與熱帶氣候過渡的位置。
23. 下列關於中國季風氣候區的特徵說明，何者錯誤？(A)夏季季風主要由海洋吹向陸地(B)冬夏季節風向相反(C)夏季季風通常溫暖乾燥(D)冬季季風通常寒冷乾燥
24. 中國南方福建、廣東一帶，早期有大批居民移向海外謀生，因此被稱為「僑鄉」。造成此地區人口大量向外移動的原因，不包括下列何者？(A)山多田少(B)人口稠密(C)出海便利(D)政府鼓勵
25. 中央山脈南北縱貫臺灣本島，使臺灣河川多呈東西流向。請問：下列哪一條河川向東流，注入太平洋？
(A)大肚溪(B)蘭陽溪(C)高屏溪(D)濁水溪
26. 「氣壓是指空氣重量造成的壓力，我們通常以哪一種單位表示？」下列哪一個同學的說法正確？(A)「應該是攝氏。」(B)「不對！是百帕。」(C)「好像是華氏吧！」(D)「我覺得是毫米耶！」
27. 中國政府為控制人口成長與人口數量，曾實施「一胎化政策」。這種政策主要是利用人為的方式改變下列哪一項人口現象？(A)死亡率(B)出生率(C)移入率(D)社會增加率

28. 民國 55 年，臺灣第一座加工出口區——高雄加工出口區(現更名「科技產業園區」)成立，究其成立的背景條件與目的，下列何者正確？(甲)國內市場有限，需發展外銷產業(乙)這時期臺灣有大量且便宜的勞力(丙)高科技工業為此時期的發展主軸(丁)希望能吸引外資投入與技術合作(A)甲乙丙(B)甲乙丁(C)乙丙丁(D)甲丙丁

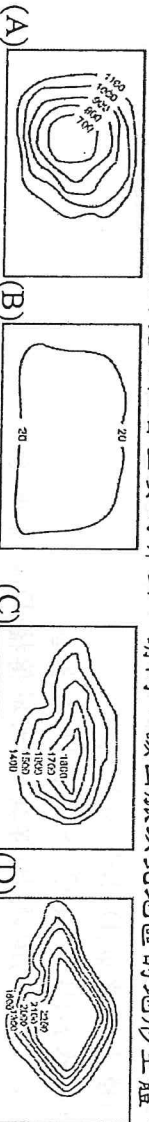
29. 一般而言，下列三種不同的運輸方式，運費由高而低排列，正確者為何？(甲)陸運(乙)空運(丙)水運(A)甲乙丙(B)甲丙乙(C)乙甲丙(D)丙乙甲

30. 攀登臺灣第一高峰，站在山頂上大叫：「我是全臺灣最高的人！」請問：當時所在的海拔高度大約為何？(A)952 公尺(B)1,952 公尺(C)2,952 公尺(D)3,952 公尺。

31. 西元 2018 年，臺灣的海軍敦睦遠航訓練艦隊歷經 105 天、2 萬多哩的國外航行訓練後返國，期間為了有效節約航程、油料，首次兩度通過人工運河往返大西洋、太平洋。請問：此一海運捷徑的運河通道位於下列哪一個國家內？(A)巴拿馬(B)巴哈馬(C)巴拉圭(D)厄瓜多

32. 全臺最早的天后宮。這座天后宮俗稱媽祖宮，簡稱為媽宮。」根據這段文字介紹，請判斷這間天后宮所在地最有可能位在下列何處？(A)澎湖縣(B)宜蘭縣(C)臺南市(D)臺北市

33. 阿爾卑斯山是歐洲境內相當重要的界山。請問：該山脈以北地區的地形主體，與下列哪一張等高線圖所呈現的最相符？



34. 上圖哪幅等高線地形圖最能代表西亞地區的地形主體？(A) (B) (C) (D)

35. 33 題等高線地形圖中，何者最有可能出現二重埔的地名？(A) (B) (C) (D)

36. 33 題等高線地形圖中，何者最有可能出現大湖的地名？(A) (B) (C) (D)

37. 電影《世界是平的》為美國總公司將客服部門設立在印度所發生的故事。其中，有一幕臺詞：「明天是星期日，美國客服不上班，你(印度)星期一客服準備爆單吧！」請問：會發生上述情節，是因兩國之間的何項因素所致？

(A)美、印之間約有半天的時差(B)印度人不喜歡星期日上午(C)兩國分別位在南、北半球(D)兩國人口數量非常懸殊

38. 中國的農業種植方式多採集約方式耕種，而平原廣大的東北地區卻是以機械式耕種。這種現象與下列哪一項因素可能最為相關？(A)夏季溫度較低(B)人口密度較低(C)年降水量不多(D)重工業較發達

39. 臺灣的河川具有沖刷力強，輸砂量高的特色，下列哪些是主要原因？(甲)地勢相對高度大(乙)多豪雨，降水強度大(丙)山脈南北走向(丁)多地震，土壤疏鬆(戊)降雨季節分布平均(A)甲乙丁(B)甲丙戊(C)甲丁戊(D)乙丙丁

40. 「此國跨越歐亞兩洲，當我旅行到高原上的首都時，剛好遇到地震。晚間在飯店裡，禮拜的時間一到，便將房間衣櫃裡的跪拜毯鋪在地上，向南方參加方向進行禮拜。」此國最可能為下列何者？(A)伊朗(B)阿富汗(C)土耳其(D)伊拉克

41. 「此國位於地中海進入大西洋的通道，也扮演西方文明由地中海文明轉移到大西洋文明的關鍵角色，開啟『大航海時代』的來臨。」符合上述介紹的是下列哪一個國家？(A)位於大不列顛島的英國(B)位於巴爾幹半島的希臘(C)位於義大利半島的義大利(D)位於伊比利半島的西班牙。

42. 集約農業發展具有下列何種特徵？(A)每人平均耕地面積大(B)農民逐漸高齡化(C)農業機械化程度高(D)單位面積產量高

43. 「冷链物流」是指利用控制溫度的供應鏈體系，從原物料供應、運送、配送至零售皆以保鮮為目的，減少食品安全的風險。若臺灣農業能加強冷链物流體系，對農民而言可增加下列何種效益？(A)減少農藥使用(B)擴大銷售範圍(C)增加種植面積(D)減少勞力投入

44. 每年 2、3 月時，強勁的冬季季風經常挾帶來自內蒙古的沙塵暴侵襲臺灣，對臺灣的空氣品質造成莫大的威脅。請問：此時的臺灣大多吹哪一種風向的盛行風？(A)東北風(B)東南風(C)西北風(D)西南風


45. 西亞地區全境多為乾燥的氣候，唯獨下列哪一個地區有出現「夏乾冬雨」的氣候特徵？(A)紅海沿岸(B)地中海沿岸(C)波斯灣沿岸(D)阿拉伯海沿岸

46. 圖坦卡門法老王的黃金寶藏特展於臺灣展出時，展場海報說明了埃及迷人的神話與信仰。海報中有一標題寫著：「埃及古文明的孕育受到□□□影響最大」，上述空格中的文字應為下列何者？(A)尼羅河(B)約旦河(C)地中海(D)印度洋

47. 尼羅河過去每年夏季固定氾濫，帶來肥沃土壤與水源，提供農業發展，但現今其下游土地逐漸失去昔日的肥沃特質。造成此現象的主因為何？(A)全球暖化影響(B)戰爭阻斷水源(C)中游興建水壩(D)河水供工業使用

48. 美索不達米亞平原是西亞主要的平原區，此地形區的形成原因為何？(A)河川沖積(B)風力堆積(C)冰河侵蝕(D)火山活動

49. 附圖為西亞伊朗地區的某種水利設施示意圖。此項水利設施所運用的水資源主要為何？(A)雨水(B)海水(C)河水(D)地下水



50. 國際貿易中的「出超」，其意義為何？(A)將國外貨品賣到國內(B)國家與國家之間的談判行為(C)貿易的出口總值大於進口總值(D)貿易的進口總值大於出口總值

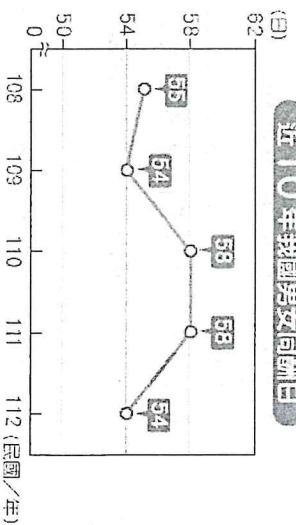
鼓山高中中國中部114學年度第二學期三年級公民科第二次月考

作答: <input type="checkbox"/> 劃記答案卡 科目代號: 06	範圍: 會考範圍 第一冊~第六冊	試卷頁數: 共6頁3張 題號: 1-35, 共35題	____年____班 座號: ____ 姓名: _____
--	---------------------	-------------------------------	----------------------------------

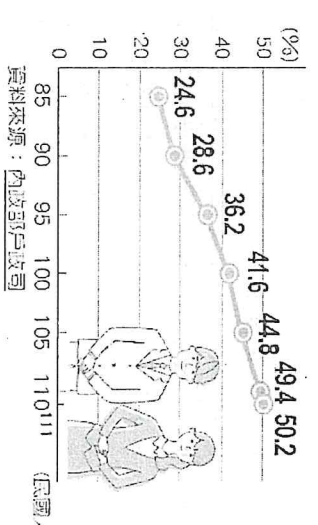
一、選擇題：1-5每題2分，其餘3分

第一、二冊重要概念：
性別平權、性平三法、多樣化的家庭型態、親屬關係、權宜問題、秩序問題、原住民部落、文化位階、社會變遷、社會福利、公民參與。

- () 許多專家建議，家長應多與孩子進行「餐桌對話」，在用餐時討論當天發生的新聞或是學校的生活點滴，這不僅能增進親子感情，更能引導孩子建立正確的價值觀與思考能力。請問，這種透過日常生活互動引導孩子學習與成長的過程，最能體現家庭的哪一項功能？
(A) 生育功能 (B) 教育功能 (C) 經濟功能 (D) 保護與照顧功能
 - () 1989年(民國78年)聯合國通過「兒童權利公約」(Convention on the Rights of the Child)，是國際兒童人權保障的基本規範，也是目前最多國家簽署、共識度最高的國際公約。為將兒童權利公約國內法化，強化我國兒童少權益保障與國際接軌，103年6月4日公布「兒童權利公約施行法」，並自103年11月20日起施行。下列何者不是我國「兒童權利公約施行法」的內容？
(A) 禁止任何人虐待或歧視兒童與少年 (B) 尊重每個兒少都是獨立的個體 (C) 維護其表達意見的權利 (D) 若兒童發生被性騷擾的事件，受害兒童或其法定代理人及檢舉人，可向學校提出申請調查並尋求協助。
 - () 同酬日是要賺到男性工作一整年的薪資，女性需要額外工作的天數。右圖是我國近10年來同酬日的差距統計，根據圖中資料判斷，下列敘述何者錯誤？
(A) 此圖呈現出女性工作能力普遍較男性差 (B) 資料顯示我國在薪資上對女性的不公平待遇 (C) 由圖可知女性付出的努力沒有受到跟男性一樣的肯定 (D) 圖中薪資差異反映性別平權觀念待加強
- (甲) **近10年我國男女同酬日**



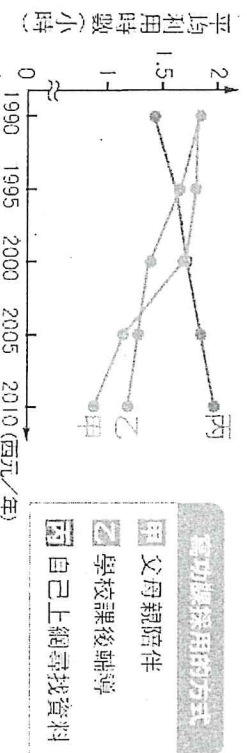
民國/年	同酬日 (天)
108	58
109	58
110	58
111	54
112	54
- () 右圖為我國內政部戶政司針對 25 至 44 歲適婚年齡人口之「未婚比例」統計趨勢圖。請根據圖中數據變化，選出最符合該趨勢的敘述：
(A) 從民國 85 年到 111 年，我國該年齡層人口總數持續穩定減少
(B) 民國 111 年時，該年齡層中每兩個人就有一位以上處於未婚狀態
(C) 近三十年來，國人適婚年齡的未婚比例呈現先升後降的波動起伏
(D) 民國 100 年至 110 年間，未婚比例的成長幅度比民國 85 年至 95 年間高
- (乙) **25~44歲適婚年齡未婚比例**



民國/年	未婚比例 (%)
85	24.6
90	28.6
95	36.2
100	41.6
105	44.8
110	49.4
111	50.2


資料來源：內政部戶政司
- () 媒體廣告與戲劇內容常在無形中影響大眾的價值觀。若某公司計畫推出一系列新產品廣告，下列哪一項廣告腳本的設計最能打破「性別刻板印象」，實踐性別平等的素養？
(A) 汽車廣告：強調男性應具備掌控方向盤的霸氣，才能守護全家人的安全
(B) 奶粉廣告：畫面中呈現爸爸熟練地幫嬰兒換尿布、餵奶，分享育兒經驗
(C) 清潔劑廣告：台詞設計為「為了體貼辛勞的家庭主婦，這瓶讓你輕鬆做家事」
(D) 玩具廣告：將機器人與賽車包裝為藍色系「男孩限定」，洋娃娃包裝為粉紅色系

6. () 下圖為幸福國統計該國小學童完成回家功課的「所採用的方式」與「平均利用時數」之歷年變化。根據圖中「甲：父母親陪伴」時數大幅下降，「丙：自己上網尋找資料」時數穩定上升的趨勢判斷，這最可能反映了現代社會中家庭功能的何種轉變？



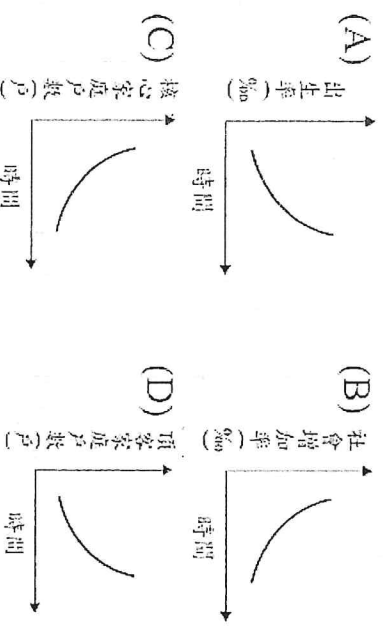
- (A)家庭的經濟功能已完全被科技取代 (B)家庭的生育功能受少子化影響而喪失
(C)家庭的教育與社會化功能發生轉移 (D)家庭對成員的保護與照顧功能已消失

7. () 下圖為甲、乙、丙三個國家在 1990 年至 2010 年間「婦女總生育率」的變化趨勢。觀察圖中資訊，丙國的生育率在 2000 年後不減反增，明顯優於甲、乙兩國。若從「人口政策」的角度分析，丙國最可能實施了下列哪一項措施？



- (A)建構友善育兒環境，落實育嬰假與津貼制度
(B)放寬移民法規，吸引大量外籍勞工彌補缺口
(C)推動長照十年計畫，減輕家庭照顧長者壓力
(D)落實法律平權，開放成年人可自主更改姓氏

8. () 右圖為某已開發國家在過去三十年間，針對國內社會現象所做的四項統計趨勢圖。請根據該國「少子化」與「家庭結構小型化」的普遍社會現象判斷，下列哪一個圖表的呈現最不符合該國真實的變動趨勢？(A)圖A (B)圖B (C)圖C (D)圖D



9. () 幸福國的政府官員發現，該國首都「繁榮市」擁有全國最優質的醫療資源與工作機會，吸引了大量外縣市人口移入。然而，鄰近的「偏鄉鎮」卻因為產業凋零，年輕人紛紛離家前往城市發展，導致該鎮人口總數持續負成長。若小明想用右圖表來呈現「偏鄉鎮」過去二十年來的人口遷移現象，下列哪一個統計圖最能反映該鎮「人口遷入數遠小於遷出數」的趨勢？(A)圖A (B)圖B (C)圖C (D)圖D

第三冊重要概念：

國家組成要素、中央政府職權與制衡關係、地方政府組織與運作、政黨型態、政治參與、選舉制度(單一選區兩票制、複數選區)、公共意見

10. () 外交部網站提供我國邦交國的詳細簡介。以下是關於「巴拉圭共和國」的描述，請根據政治學中關於「國家組成要素」的定義，選出敘述內容屬於組成國家要素之一的選項：

(A)巴拉圭為內陸國家，國土介於巴西、阿根廷及玻利維亞之間，全國總面積共 40 萬 6,752 平方公里(B)巴拉圭國旗正面中心為國徽，國徽由棕櫚枝與橄欖枝環繞，中間有一顆金黃色的五角星象徵獨立與自由(C)巴拉圭主要出口產品包括黃豆、電力、牛肉及黃豆粉等，是我國在南美洲地區極具發展潛力的夥伴(D)巴拉圭氣候屬於亞熱帶氣候，夏季平均氣溫約 33°C，而冬季平均氣溫約 18°C，降雨量則分布相當均勻

11. () 右表是我國某一項公職人員選舉的開票結果。根據表中內容判斷，此項選舉所選出的公職人員應具有下列何項職權？

○○市第二選區第59號投開票所開票結果				
候選人得票數				
候選人	①王大銘	②趙小虹	③康自強	
得票數	203 票	1046 票	344 票	
政黨得票數				
政黨	甲黨	乙黨	丙黨	丁黨
得票數	1039 票	89 票	326 票	159 票

- (A)制定全國政策發展經濟
(B)對總統提名的大法官行使人事同意權
(C)質詢地方政府的行政官員
(D)修改中央的行政命令

行程	借宿地點	親戚稱謂
第一天	新北市	姨丈
第二天	高雄市	舅舅
第三天	屏東市	姑姑
第四天	台南市	伯母

12. () 小惠在旅行的過程，曾借宿右表四位親戚家，其中一位姻親參選當地的區民代表，因此在借宿的那天晚上，他也參與了掃街拜票。根據上述內容判斷，參選者最可能是表中何者？
 (A)姨丈 (B)舅舅 (C)姑姑 (D)伯母

13. () 台灣歷任總統如下，請問：行憲至今，台灣總共歷經幾次政黨輪替？ (A)一次 (B)二次 (C)三次 (D)四次

總統姓名	蔣中正	嚴家淦	蔣經國	李登輝	陳水扁	馬英九	蔡英文	賴清德
第幾任	1-5任	5任	6-7任	7-9任	10-11任	12-13任	14-15任	16任
民國/年	37-64	64-67	67-77	77-89	89-97	97-105	105-113	113-
黨派	國民黨			民進黨		國民黨		民進黨

14. () 經常旅遊的馬克老師正在規畫了鼓山高中國中部三年級學生的畢業環台古蹟之旅：
 第一站：台南市安平古堡→第二站：嘉義縣王得祿墓→第三站：新竹市竹塹城迎曦門→第四站：苗栗縣勝興火車站
 →第五站：宜蘭縣碧霞宮→第六站：花蓮縣美崙溪畔日式宿舍→第七站：屏東縣恆春古城
 請問：哪一站的地方層級與其他不同？
 (A)第一站 (B)第二站 (C)第三站 (D)第四站。

15. () 在某次中央政府會議中，立委大華針對「校園食品安全」議題，向行政院長及教育部部長提出質詢。大華指出，雖然現行法規已嚴格限制含糖飲料進入校園，但部分地區的查核紀錄卻顯示執行成效不彰，政府應檢討相關督導機制，並編列更多預算進行專案抽查。關於「大華」所擔任的公職身分及其職權，下列敘述何者正確？
 (A)該公職人員由總統提名，經立法院同意後任命
 (B)主要職權包含審理政黨違憲解散及法律違憲審查
 (C)負責審核中央政府總預算，並有權質詢行政官員
 (D)是由地方縣市首長指派，專門負責地方性事務法制

16. () 今年 11 月底台灣將舉行地方九合一選舉，請問：在這些選舉中，哪一個公民所領到的選票張數是錯誤的？
- | 選項 | 有投票權的公民 | 戶籍所在地 | 選票張數 |
|-----|---------|-----------|------|
| (A) | 陳小漢 | 台南市新營區的區民 | 3 |
| (B) | 褚小榕 | 新北市土城區區民 | 3 |
| (C) | 程小苑 | 台東縣大麻里鄉鄉民 | 5 |
| (D) | 焦小玲 | 嘉義市東區區民 | 5 |

第四冊重要概念：

法律概念（法律位階、效力、制定與修改機關與程序）、依法行政、人民的權利與權利限制、民法、刑法與行政法、法律責任、權利救濟、罪刑法定主義、無罪推定原則、罰金、罰鍰、告發、告訴、公訴、自訴、上訴、告訴乃論、非告訴乃論；請願、訴願、訴訟；律師、法官、檢察官的職權，少年事件處理法、保護處分

17. () 右圖是關於我國《憲法》中人民基本權利的分類，阿偉聽完老師的講解後，在課本上加了甲、乙、丙、丁四個註解，下列何者最適合作為「乙」註解的內容？



- (A)參與公民投票表達意見
 (B)保障人民生存權利，維護基本生活
 (C)有信仰宗教或不信仰宗教的權利
 (D)禁止因性別差異而同工不同酬
18. () 剛上國一的宥廷（12歲）存了一筆壓歲錢，獨自前往通訊行想購買一支最新款的旗艦手機。店員委婉地拒絕說：「這支手機價格很高，你還未成年，我現在不能直接賣給你，建議你請爸爸或媽媽陪同前來。」根據《民法》規定，店員之所以這樣回答，最可能是因為宥廷具備何種法律身分？
 (A)宥廷不具有責任能力 (B)該買賣契約違反誠實信用原則 (C)宥廷屬於限制行為能力人 (D)宥廷為受監護宣告之人，無行為能力

19. () 知名網紅阿傑捲入一起詐欺疑雲，警方隨即將其帶回偵訊。雖然案件目前僅由檢察官進行偵查，法院尚未開庭審理，但網路上也出現大量留言抨擊他是「詐騙首惡」，甚至發起抵制其代言產品的行動。阿傑對此感到無奈，認為許多網友缺乏應有的法治素養。請問阿傑所指的「法治素養」最可能是下列何者？

(A) 告訴乃論之罪，非經受害者起訴司法機關不得追究 (B) 凡法律未明文規定為犯罪之行為，皆不受法律處罰 (C) 犯罪行為不分身分地位，皆須受到法律平等的制裁 (D) 被告在未經法院審理並判決有罪確定前，應推定其無罪

20. () 公民老師請同學蒐集社會新聞，並利用課堂所學的法治概念對新聞內容進行「法律觀點校正」。請根據我國法律制度判斷，下列哪一位同學對於新聞內容的解讀正確？

(A) 小淳	媒體報導十四歲少年犯下竊盜案，小淳認為該少年應交由「內政部警察署」直接進行最終判決。
(B) 小穎	針對食品廠商添加非法化學物質，小穎指出應由「行政院衛生福利部」依《食品安全衛生管理法》處以罰鍰。
(C) 小絃	震驚全國的重大命案進行偵辦，小絃認為「檢察官」在調查完畢後，應直接在法庭上作出終身監禁的判決。
(D) 小陽	對於政府部門執行不力、行政效率低落之處，小陽主張應由「立法院」提出「糾正案」促使其改善。

21. () 家住幸福里的阿強因鄰居施工不慎導致牆面龜裂，雙方對賠償金額遲遲無法達成共識。若阿強希望採取一種「不經過法院審理，但解決後的結果與法院判決具有同等法律效力」的方式來處理，下列哪一種做法最符合需求？

(A) 向該區公所的「調解委員會」聲請調解 (B) 因不滿鄰居態度，阿強決定向警方報案控告對方損毀 (C) 經由里長出面溝通，雙方口頭約定私下和解賠償金額 (D) 阿強向市政府提起行政訴願，請求政府強制鄰居賠償

22. () 某社區發生一起高齡長者因精神障礙，在意識不清的情況下簽署了多份高額信用貸款契約，導致晚年積蓄幾乎被扣押殆盡。小華擔心家中患有重度失智症的祖母也可能面臨類似的法律風險，被不法人士誘騙進行財產處分，因而尋求法律專家的意見。專家建議家屬應盡快向法院聲請「監護宣告」。請問，此項法律建議的主要目的，是希望讓祖母在法律上達成何種狀態？

(A) 成為限制行為能力人，以保障其契約自由 (B) 成為限制行為能力人，以保障其名下財產 (C) 成為無行為能力人，以保障其契約自由 (D) 成為無行為能力人，以保障其名下財產

23. () 下表為鼓山律師事務所的行事曆，其中哪一位的委託案不屬於民事案件？

(A) 小丸子 (B) 花輪 (C) 小玉 (D) 丸尾。

【2023.05.01 重要紀事】

- ◎ 委託人小丸子：追討一年的店面租金100萬元。
- ◎ 委託人花輪：與房屋仲介公司的房屋買賣糾紛。
- ◎ 委託人小玉：控告朋友在fb誹謗，傷及個人名譽。
- ◎ 委託人丸尾：與兄弟陷入父親遺產繼承之爭。

24. () 小欣在電視上看到一則新聞：「小森與朋友聚餐在海產店喝酒，一言不合情緒失控毆打朋友，雙方在法庭上以20萬元和解」。關於新聞中的解決方式，下列說明何者正確？ (A) 僅具有契約效力，事後可以反悔 (B) 與法院判決具有相同效力 (C) 屬於訴訟外的和解 (D) 須將調解書送交法院核定。

25. () 右表中的(甲)是某種合法的民事紛爭處理方式，其最可能為下列何者？

(A) 訴訟	(B) 訴訟外和解	(C) 調解	(D) 訴訟上和解
(甲)			
由公正的第三方協助進行	處理結果效力等同法院判決	程序簡便、省時省錢	

第五冊重要概念：

機會成本、行為的誘因、消費與生產、利潤的計算、交易與市場、國際貿易、升值貶值與進出口的關係

26. () 303同學相約去看電影，她們想去看新上映電影《陽光女子合唱團》，她們發現早場與平日、午夜場次的票價更便宜，如附表所示，這種價格差異的情形，可以用經濟學的哪一項概念說明？

(A) 外部效益 (B) 供給法則 (C) 受益原則 (D) 需求法則。

票類	價格(元)
全票	290
早場優待票	230
平日午夜場	250

時間	1 美金可兌換的台幣
去年	33.2
今年	32.6

27. () 右表是去年到今年美國與台灣匯率變動的情形，根據表中內容判斷，排除疫情的因素，只看匯率因素，下列何者可能產生的影響？
 (A) 台幣相對於美金呈現升值趨勢，對於台灣的進口廠商較為有利 (B) 台幣相對於美金呈現貶值趨勢，有利於台灣產品外銷至美國 (C) 美國旅客來台旅遊時，同樣的美金可兌換更多台幣，提高其來台意願 (D) 台灣民眾前往美國留學或旅遊時，必須支付更多的台幣才能兌換等額美金

品項	成本 (個)	售價 (個)	銷售量
鹽可頌	10	?	120
生吐司	20	80	60

28. () 下表是台東某家知名麵包店的鹽可頌和生吐司售價與銷售量，若鹽可頌和生吐司的利潤一樣的話，請問鹽可頌的售價是多少？
 (A) 35 (B) 40 (C) 45 (D) 50

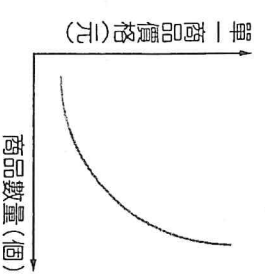
29. () Jill 是一家美妝公司的老闆，她想從下面四項產品中選擇一項能夠獲取最大利潤從事生產，以增加公司的銷貨利潤。若四項產品的各別銷貨收入皆為 700 萬元，在不考慮其他條件因素下，Jill 會選擇哪一項產品進行生產？
 (A) 口紅 (B) 粉餅 (C) 睫毛膏 (D) 遮瑕膏

商品	口紅	粉餅	睫毛膏	遮瑕膏
生產成本	200 萬	350 萬	320 萬	180 萬

30. () 小美是甲國的果農，她的果園生產高品質的高山蘋果，並長期外銷出口至乙國販售。在看到匯率的變化後，小美憂心忡忡，擔心今年的出口訂單會大幅流失。請問小美的擔憂主要是基於何種原因？
 (A) 甲幣相對於乙幣呈現升值，導致甲國產品在乙國市場的售價變貴
 (B) 乙幣相對於甲幣呈現升值，使得乙國消費者對甲國產品購買力增強
 (C) 甲幣呈現貶值趨勢，雖然有利於甲國出口，但會導致國內生產成本提高
 (D) 乙幣呈現貶值趨勢，代表乙國經濟崩盤，甲國農產品將因此全面遭到禁運

時間	1 甲幣可兌換的乙幣
去年	10
今年	15

31. () 右圖為某一經濟學概念的圖示，根據其內容判斷，何者最符合該圖的意涵？
 (A) 年底快到，蝦皮推出光棍節大特價，100 元就免運。
 (B) 高麗菜需求降低，價格下跌。
 (C) 愛馬仕推出全球限量鱷魚皮柏金包，價格高漲，訂單卻增加。
 (D) 美國總統大選即將來臨，股市一片看漲。




32. () Mark 晚上十點肚子餓打算來份宵夜，有下列三個選項。根據表中資料判斷，若 Mark 最後選擇滿足程度最高的炸雞，則表中甲、乙、丙三處最可能為下列何者？
 (A) 甲：100、乙：100、丙：80 (B) 甲：80、乙：80、丙：100
 (C) 甲：100、乙：90、丙：80 (D) 甲：80、乙：90、丙：80。

店	家	滿足程度	機會成本
	炸雞	甲	
	烤肉	90	乙
	滷味	丙	

第六冊重要概念：
 全球化、媒體識讀、媒體接近使用權、資訊科技、國際組織、國際移工

33. () 2003 年，SARS 疫情肆虐全臺，當時受到居家隔離的鼓山高中中部的學生只能在家自習。2021 年，新型冠狀病毒疫情嚴重，政府宣布三級警戒，但現在鼓山的師生可透過各式線上平臺學習。下列何者最適合用來說明 2003~2021 年學習方式所產生的變化？
 (A) 網路的普及使得溝通更即時，也提升學生媒體識讀的能力
 (B) 教師能透過通訊科技監控學生的生活、掌握學生的學習狀況
 (C) 科技運用於電腦輔助教學與學習平臺，使學習不受時空限制
 (D) 透過社群媒體，可號召學生組成社團，並實際參與公共事務

34. () 課堂上，同學們針對「全球化」的議題進行討論，下列哪位同學的發言錯誤？
- (A)睿平：經濟、政治、文化...各面向快速流動，每種面向相互重疊、交互影響，世界成為地球村
- (B)又成：「全球化」有助於國際交流與國際了解
- (C)雨勤：全球化會透過有形的跨國企業擴張，但不會傳遞無形的文化
- (D)以軒：雖然有助於經濟發展，但也擴大各國貧富差距，影響勞工權益
35. () 近年來由於網路通訊軟體發達，大量訊息在手機的聯繫群組間快速流傳。右圖是儀茜家族群組裡的對話，根據圖中內容判斷，在網路科技發達的時代，下列何者更應受到重視？
- (A)媒體識讀的素養 (B)醫療技術的提升
- (C)資訊科技的設備 (D)個人隱私的保障



* * * * * 以 下 考 完 再 看 ， 先 寫 考 卷 * * * * *

同學們：當你看到考卷的當下，距離會考已經剩十天左右了，你是信心滿滿，充滿期待？還是擔心到睡不著，吃不下？來，來，來，公民老師給你打一支考前強心針，讓你頭好壯壯，信心滿滿去應試：

準備方向	注意事項
關鍵字詞	<ol style="list-style-type: none"> 務必掌握歷屆會考社會科考題(考古題)的概念，寫錯的地方為什麼錯要弄清楚。 掌握各冊重要概念，每個專有名詞要弄清楚，記清細微的差異，例如：什麼是機會成本？請願、訴願、訴訟的異同，什麼情況下會用到「比較利益法則」？ 社會科命題常出現主題式命題，融合了歷史、地理和公民三科的知識(跨時間、空間的整合)，同學們要會思考事件因果、彼此的影響。 答題時務必耐心仔細閱讀題目，圈出關鍵字，答案往往在題目中！ 看到有圖表的題目，不要緊張，要內心大喜，這種看圖表判斷的題目一定有數據和題示，圖表旁的文字和符號是得分的關鍵，題目和選項要搭配解讀，容易拿到分數！ 遇到不會的題目就先跳過，不要一直想要解開，執著在一個題目，花越多時間越擔心，越容易被打擊，跳過不會的題目，先專注於會的題目給自己信心！ 會考前三天的睡眠一定要充足，尤其是前一天。公民老師曾經在考大學前一天熬夜，結果精神不濟，差一點考不上心儀的學校。 會考當天的早餐盡量清淡，牛奶、豆漿、冰奶茶之類的東西盡量避免，這些奶製品、豆飲加上緊張，很容易拉肚子。考試中間空檔可以適度喝一些提神飲料，例如蠻牛。 中午吃完學校準備的午餐就好好休息，天氣熱，人很多，出去趴趴走會讓自己體力喪失，下午考試就GG了！
身心準備	吃清淡、睡飽飽、增信心
考前一天	吃清淡、睡飽飽、增信心

會考順利，金榜題名，寫的都會、猜的都對、運氣也站你這隊！

願你們在考場如神助，腦袋清晰、手速飛快、分數漂亮！

不只實力在線，連運氣都幫你加分！

靜怡老師

高雄市立鼓山高中 114 學年度第二學期第二次段考《國三》健教科試題卷

考試範圍：第六冊第二單元

電腦讀卡代碼：14

班

號

姓名

【注意：若為畫卡作答之考科，經閱卷讀卡發現畫記錯誤，該科扣 5 分，未畫卡者該科以 0 分計。】

一、選擇題：每題 4 分，共 100 分

1. 新婚夫妻若要做完整的孕前健康檢查，下列哪項疾病不是需要加強篩檢的項目？
(A)梅毒 (B)愛滋 (C)地中海型貧血 (D)流行性感冒
2. 小芸幫阿姨看驗孕棒，發現驗孕棒上呈現兩條線。小芸的阿姨下一步應該做什麼？
(A)立刻開始補鈣 (B)多運動觀察一週 (C)到婦產科進一步確認 (D)下載育兒App紀錄
3. 歡歡最近時常感覺疲累，還特別喜歡吃酸酸的食物，聞到一些特別的味道會有想吐的感覺，且這個月的月經還沒到，請問歡歡可能怎麼了？
(A)懷孕 (B)流感 (C)腸胃炎 (D)中暑
4. 孕育胎兒的地方是在母體中哪一個部位？
(A)子宮頸 (B)子宮 (C)輸卵管 (D)卵巢
5. 孕婦的照護攸關下一代的健康，行政院公告至110年7月起，將現行孕婦免費產檢從原本的10次調升到14次，而这也提升孕期間的照護力。請問上述政策執行單位是衛生福利部所屬的哪一個機關？
(A)疾病管制署 (B)國民健康署 (C)食品藥物管理署 (D)社會及家庭署
6. 阿欣很開心自己終於懷孕了，但同時也有點擔心孕期可能發生的變化，請問孕期大約分幾期呢？
(A)一期 (B)二期 (C)三期 (D)四期
7. 健康教育週，志工分享孕期不同階段的情況。下列哪一項對應比較合理？
(A)懷孕1~12週：常見頻尿與噁心嘔吐症狀 (B)懷孕1~12週：能感受到胎動
(C)懷孕28~40週：食慾通常轉差、體重驟降 (D)懷孕13~27週：多半出現規則陣痛
8. 高齡產婦在懷孕早期需特別注意胎兒有無異常情況，請問幾歲稱為高齡產婦？
(A)28歲 (B)30歲 (C)32歲 (D)35歲
9. 丹丹的表姊目前懷孕16週，醫師建議如果唐氏症篩檢風險較高，可以考慮某項侵入性確診檢查。這項檢查最可能是下列何者？
(A)抽血驗HbA1c (B)X光胸腔攝影 (C)腦部核磁共振 (D)羊膜穿刺
10. 孕晚期的雅雯經常雙腿抽筋、水腫，偶爾還會感覺膀胱無力。她想靠日常習慣來改善這些症狀，她可以怎麼做？
(A)自行增加止痛藥的劑量 (B)穿著過緊的褲子增加壓力
(C)適度抬高下肢與溫和伸展緩解不適 (D)刻意減少飲水避免排尿
11. 小芷懷孕已38週，接近生產期前開始有點焦慮緊張，下列可以給小芷心理準備的建議，何者錯誤？
(A)會出現落紅、陣痛、破水等徵兆 (B)平均第一胎生產所需約14~16小時
(C)生產過程會從規則的陣痛或腰痠開始 (D)胎兒產出後就結束整個產程
12. 新生兒出生後48小時一定要做的例行性採血，主要目的為何？
(A)檢測智商 (B)篩檢常見先天代謝異常
(C)預測未來身高 (D)檢測是否近視
13. 小辰爸爸的公司近期想提升職場友善程度，以下哪項措施較符合支持孕期與新生兒照護的作法？
(A)規定孕婦加班到深夜 (B)設置哺(集)乳室並配合請假制度
(C)禁止同事讓座 (D)只提供含咖啡因飲品
14. 熙熙在今天中午順利生下一名女兒，她應該會拿到一本介紹各種異常疾病，且有疫苗注射紀錄的手冊，請問是下列何者？
(A)孕婦健康手冊 (B)兒童健康手冊 (C)兒童觀察手冊 (D)疫苗記錄手冊

15. 小傑翻看自己的成長紀錄簿，發現每次接種疫苗後都有相關注意事項。這些紀錄的作用為何？
- (A) 評估父母的教育程度
(B) 計算就醫花費總額
(C) 追蹤預防接種與健康發展
(D) 測試寫字能力
16. 下列哪個發展任務，是青少年時期必須建立完成的？
- (A) 開始學習大量生活技能
(B) 學習接納夢想與實際成就的落差
(C) 學習以超然的態度面對人生
(D) 思索自己要成為怎樣的人，進而建立自我認同
17. 小瑜身體從最佳狀態，慢慢下降。生活上，要負起養育子女的責任，工作上要承擔許多責任與壓力，更希望能貢獻所學於社會。請問：小瑜現在最可能處於人生哪個時期？
- (A) 學齡期
(B) 青少年期
(C) 成年期
(D) 老年期
18. 人在一生中隨著時間的更迭，不斷生長發育直到身體功能成熟，再逐漸衰退的緩慢且連續之過程，我們稱為什麼？
- (A) 老化
(B) 退化
(C) 演化
(D) 死亡
19. 根據研究結果，人體老化主要原因之一是因為何者破壞人體組織，長時間累積下來，使細胞逐漸失去復原功能，進而引發各種退化性疾病？
- (A) 自由基
(B) 核苷酸
(C) 氧化鎂
(D) 三酸甘油酯
20. 人體各器官功能的老化進程，下列敘述何者錯誤？
- (A) 發育中的嬰兒到青少年，器官不會老化，不需採健康行為
(B) 肺部約在30歲開始老化，須遠離菸害、空氣汙染
(C) 40歲以後，出現老花眼現象，應適度用眼
(D) 45歲以後，心血管彈性變差，應均衡飲食、規律運動
21. 想要達到健康老化，不僅依賴政府作為，還要積極的態度與良好的生活習慣，下列哪一項不是健康老化的關鍵策略？
- (A) 活到老學到老，不斷學習減緩大腦認知功能的退化
(B) 適度的健行運動，維持正確站姿，強化骨關節維持肌肉量
(C) 三餐定時定量，控制飲食熱量攝取，提升心血管健康
(D) 待在家裡等待孫子和孩子回家探望
22. 自由基可以幫助人體抵禦外來病原，但也會破壞組織進而造成功能衰退，下列何者不是減少自由基產生的方法？
- (A) 多吃蔬果
(B) 多去醫院
(C) 適當運動
(D) 少吃油炸食物
23. 簽署《放棄急救同意書》後，不施予的救治行為不包含哪個項目？
- (A) 心肺復甦術
(B) 人工呼吸
(C) 氣管內插管
(D) 提供安樂死藥物
24. 當自己處於無法治癒、嚴重影響生活品質與生命尊嚴的病症時，可以由自己決定採取哪些醫療照護措施，這是受到哪一個法律的保障？
- (A) 病人自主權利法
(B) 放棄急救自主法
(C) 兒童及社會福利法
(D) 民法
25. 當自己遇到身邊好朋友正面對親人過世的悲傷時，我們應給予陪伴和心靈上的扶持，下列哪種安慰和同理表達的方式較不恰當？
- (A) 我看見妳這陣子很努力幫忙家裡，勇敢面對阿嬤的離開，我想她在天上應該會很欣慰的。
(B) 我能感受到你現在一定很悲傷，看見你難過，我也會覺得很難過。
(C) 可以成熟一點嗎？你再怎麼哭媽媽就是離開了！難過有什麼用！
(D) 我喜歡之前開朗的妳，如果明天妳願意，我們出去散散心聊聊天好嗎？