

高雄市立鼓山高中 114 學年度第二學期第二次段考《高一》歷史科試題卷

考試範圍：C3~C4 總分：103

電腦讀卡代碼：09

請正確畫卡：年級、班級與座號(個位、十位)、科目[歷史:09]、組別:401-407[1]；並且在卡上字體書寫完整；會有扣 5 分
#手寫部分請正確書寫於手寫答案區

_____年_____班_____號 姓名_____

【第一部分單選題：每題 2 分，1-26 題，總共 52 分】

- () 當時，報紙、海報、政府公告等都把夏威夷描繪成天堂，說那裡「每棵灌木裡都盛開著金色的美元」。朝鮮移民也說：「夏威夷……答應為我們提供工作、免費住房和充足的報酬」。上述情景最可能為何時？ (A)1840 年代 (B)1870 年代 (C)1900 年代 (D)1930 年代
- () 某朝代，來自北方的移民被政府要求依照實際居住地編入南方戶籍，由於戶籍的改動，使其原本享有的賦稅減免也遭到取消。請問此朝代及其實施的政策為何？ (A)唐朝的薩保府 (B)西晉的徙戎論 (C)東晉的土斷制 (D)北魏的漢化政策
- () 早期移居此地的中國男性移民為了傳宗接代，與當地的伊斯蘭教婦女通婚。他們所生的子女，被稱為峇峇與娘惹。在英國殖民統治下，峇峇也接受英語教育，因此懂得中文、英文與土語。請問此地是何處？ (A)越南 (B)印尼 (C)菲律賓 (D)馬來亞
- () 以下為唐代杜甫的兩首詩。(憶昔)：「憶昔開元全盛日，小邑猶藏萬家室……。」(垂老別)：「積屍草木腥，流血川原丹……。」從〈憶昔〉的榮景到〈垂老別〉的慘狀，是哪個事件造成的影響？ (A)安史之亂 (B)永嘉之禍 (C)五胡亂華 (D)北魏分裂
- () 「自明治政府以來，我們被迫接受日本國籍，官員時常安排我們上京拜見皇居、至學校修習日文及農牧技術。我們被迫『教化』，禁止原有漁獵生活，土地被海峽另一端的移民霸占，在自己的家鄉竟成了少數民族！」請問這段話可能出自於哪個民族？ (A)朝鮮半島-朝鮮族 (B)北海道-阿伊努族 (C)中國東北-滿族 (D)台灣中北-賽德克族
- () 唐中葉以前，對外交通貿易以西北絲綢之路為主；中葉以後，則轉為以東南海路貿易為主。造成如此明顯的轉變，原因為何？ (A)大航海時代新航路的發現 (B)粟特族的叛亂，使唐朝關閉陸上絲綢之路 (C)鄭和下西洋開拓新航路 (D)北方動亂頻仍，南方相對安定
- () 魏晉南北朝是由族群間相互衝突所構築而成的時代，也因為各族群的互動頻繁，加速民族的融合，為隋唐盛世提供有利的條件。有關族群融合的敘述，下列何者正確？ (A)北魏孝文帝遷都洛陽，加強與漢族高門的合作 (B)東晉將北方世族安置在特定州郡，免除賦稅特權 (C)南朝廢除土斷制，強化對地方的控制 (D)晉惠帝將居住在內地的漢人移至塞外或邊境
- () 「胡人統治者招募當地豪強加入軍隊，更改將領的郡望與姓氏，規定所有軍士從將領之姓，最後賜予土地，把將領和土地結合在一起，藉此維繫當地胡漢民族的人心，這個集團也成為一個全新的政治共同體。」有關此集團的敘述，下列何者正確？ (A)引發北方軍鎮不滿，導致政權分裂 (B)當地是指「關中地區」，為南方政治與經濟中心 (C)胡人將領成為唐朝皇室的不安定因素，最終引發安史之亂 (D)首創於西魏宇文泰，成為北方的新興士族集團
- () 資料一：錢塘大寒屢雪，冰厚數寸。資料二：自春夏之交……壇溢堤防，河北之民尤罹弊苦，粒食罄缺，廬室盪空。資料三：黃河調發人夫修築埽岸，每歲春首，驟動數路，常至敗家破產……河北人戶轉徙者多。
【譯文】資料一：錢塘江遭遇雪災；資料二：春夏之交河水決溢，沿岸居民飽受饑荒；資料三：每年春天政府徵調人力修築河堤，帶給沿岸居民更沉重的負擔，遷徙至外地者日漸增多]請問我們應該如何理解這三則北宋的文獻資料？ (A)資料一顯示中國南方氣候寒冷，可推知北方游牧民族不可能南下尋找資源 (B)資料二可知河北遭長江的水患衝擊，使農田無法耕作，造成饑荒 (C)資料三顯示北宋衰落之因與勞動力不足有關 (D)資料二、三可知，河北人民向外遷徙與躲避水災和沉重勞役有關
- () 明末清初，許多山西人透過「走西口」的方式向外移居，請問下列敘述何者正確？ (A)屬於自願移民 (B)目的地為東北 (C)均為商業移民 (D)屬於合法移民
- () 17 世紀，有位歐洲人記錄在東南亞看到的情景：「……他們在巴達維亞附近的工廠裡製糖，出售所有的產品……當地所有手工業的勞動力都須依賴他們……」請問「他們」是誰？ (A)荷蘭人 (B)西班牙人 (C)倭寇 (D)華人
- () 若你生活在 20 世紀初的日本，在生活中可能會遇到下列哪個情景？ (A)響應政府號召，移居北海道拓墾 (B)政府激查土地所有權，多數農民淪為佃農 (C)前往臺灣參加義勇軍開拓團，參與平定霧社事件 (D)美洲勞力短缺，政府擬訂百萬戶移民計畫
- () 某城市的一座廟宇中，正殿供奉的是中國明朝的歷代皇帝、關公和諸位已故將軍。而其中一位將軍的牌位旁有副對聯寫著：「恥作北朝臣、綱常鄭重；寧為南國客、竹帛昭垂」。請問這座城市可能為何？ (A)越南胡志明市 (B)日本沖神那霸市 (C)日本九州長崎市 (D)臺灣臺南市


14、() 「奴隸制度是古老且廣泛運作的制度，存在於各大文明之中。直到西方的啟蒙時代開始，從社會和經濟上否定奴隸制度的正常性，至 19 世紀歐美各國才陸續廢除奴隸制度。」請問奴隸制度廢除之後，造成何種影響？(A) 奴隸從此自由，引發 19 世紀歐洲的革命運動 (B) 勞力大幅短缺，帶動 19 世紀華人的移民風潮 (C) 人權思想興盛，影響 20 世紀中國的啟蒙運動 (D) 人人生而平等，促進 20 世紀非洲的獨立風潮

15、() 附圖描繪 19 世紀美國政客和新聞記者大力譴責中國移民，呼籲封閉邊界將其拒之門外。請問此圖的情景可能與何事件有關？(A) 鴉片戰爭 (B) 孫中山革命 (C) 黑奴貿易 (D) 《排華法案》

16、() 附表為 20 世紀初，美國的華人與日人口統計表，請問造成表中人口變化的可能原因為何？(A) 美國國會通過《排華法案》 (B) 中國禁止苦力移居美國 (C) 響應辛亥革命，華人大舉返鄉 (D) 太平洋戰爭爆發，日軍入侵美國

【資料來源：王秀惠，〈二十世紀初華日移民美國對華人之衝擊〉，《臺灣師大歷史學報》第 29 期，2001 年 6 月，頁 175-4。】

年	人口數	華人	日人
1890	107,488	2,039	
1900	89,863	24,326	
1910	71,531	72,157	
1920	61,639	111,010	



17、() 某人回憶道：「我生於 1907 年，3 歲那年國家遭甲國併吞，父母帶我逃亡至乙國避難。成年後，甲國又入侵乙國，並在乙國土地上建立新政權，因此我又開始逃亡，我的一生幾乎是被甲國追著跑的。」請問某人的出生地可能是哪裡？(A) 上海 (B) 東京 (C) 首爾(舊稱漢城) (D) 臺北

18、() 日治時期，部分臺灣人前往中國謀生，他們在當地可能會有何種境遇？(A) 在街頭鬥毆的臺灣人，被送至日本領事館接受審判 (B) 在北京拍電影的臺灣導演，倡導自由主義而被中國政府拘禁 (C) 臺灣知識分子參與共產黨，被中國政府判處漢奸罪 (D) 在天津販售日貨的臺商，被中國政府驅逐出境

19、() 「這新天地以地廣人稀所造成的真空，大量吸引著日本帝國的臣民，想發大財和做大官的野心家，都想到那裡去顯顯身手。移民的怒潮透過那條連結著日本、朝鮮，和南滿鐵路的大動脈，以排山倒海之勢直向那裡猛撲。每班船和每班火車，都堆積得幾無立錐之地。」請問所指為何？【資料來源：鍾理和，〈奔逃〉，《新報鍾理和全集：短篇小說卷（下）》（高雄：高雄縣政府文化局，2009 年），頁 17。】

20、() 「有糖王之稱的華人郭春秧（1860~1935），同時擁有日本、中國及荷蘭國籍。多重國籍對郭春秧的事業發展頗有助益，與他對國家的認同則無太大關聯。日本政府因他推動南洋貿易有所貢獻，曾賜予他不少勳章。」根據上述內容，下列說明何者較為合理？(A) 他選擇國籍的主因是對血緣與鄉里的認同 (B) 郭春秧拓展商業版圖是為了榮耀日本帝國 (C) 華人的經濟網絡通常是以跨越國境為基礎 (D) 第二次世界大戰初期他的事業因臺灣國籍而擴大

21、() 某國在第二次世界大戰後，擔心華人入籍後會影響當地人民的生計，故多方刁難華人，除了提高入籍條件，還限制華人經商範圍。軍方也以保護土著居民為藉口，開始各項排華行動，如 1960 年代的九三〇事件。請問某國最可能是哪一個國家？(A) 印尼 (B) 泰國 (C) 菲律賓 (D) 新加坡

22、() 1762 年，菲律賓發生「紅色聖誕節」慘案，西班牙政府將每 10 個華人的辮子相連成串，繫上石頭後投入海河，活活淹死。從 12 月 20 日到 25 日間，約 6 千華人遇害。慘案發生後，卻不見清朝政府出面干涉，最可能的原因為何？(A) 清朝的國勢衰微，無力保護海外僑民 (B) 西班牙刻意隱瞞，清政府完全不知情 (C) 視華人為棄民，雖然知情卻置之不理 (D) 欲拓展海外貿易，不願與西班牙衝突

23、() 臺灣人李謹慎曾在滿洲國待遇，他自述：「我姊夫是醫學博士，但因為參加過文化協會，日本特務盯得很緊，所以帶我們去大連醫院外科工作。」根據上文，他們前去滿洲國的主要動機為何？(A) 欲擺脫臺灣殖民政府的監督 (B) 響應日本以華制華政策 (C) 工作的待遇比臺灣更好 (D) 可以享有治外法權保護

24、() 世襲「土司」由少數民族首領擔任，是管理地方的行政長官。有些土司割據一方，反抗朝廷；各土司之間也經常發生紛爭。這種情況並不符合國家統一的要求。為解決此問題，何時開始實施「改土歸流」政策？(A) 康熙年間 (B) 雍正年間 (C) 乾隆年間 (D) 嘉慶年間

25、() 朝鮮總督府從 1920 年開始推行「土地農事改良計畫」與「產米增值計畫」。臺灣總督府也幾乎同時積極投入稻米品種的改良，隨著蓬萊米研發成功，臺米產量大增。請問兩者的共同目標為何？(A) 藉由外銷增加國庫收入 (B) 期望以農業來培養工業 (C) 補給軍隊作戰所需糧食 (D) 解決日本米穀不足問題

26、() 紀錄片《臺灣人在滿洲國》描述日治時期臺灣人「過滿洲」的故事。請問片中的時代背景應為何時？(A) 1890 年代 (B) 1910 年代 (C) 1930 年代 (D) 1950 年代

【第二部分 多重選擇題：每題 3 分，27-29 題，總共 9 分，錯一則倒扣 1/5 題分，以此類推，錯三以上該題零分】

27、() 游牧民族在中原建立政權之初，常採胡漢分治進行管理。請問歷史上有哪些實例屬之？(A) 東晉將北方移民劃分在特定州郡，與南方世族分而治之 (B) 元朝以推行漢法為名，實則將境內人民分而治之 (C) 南宋以北人掌軍，南人主政 (D) 金朝以猛安、謀克治理女真人，以州縣治理漢人 (E) 遼國以北面官管理契丹與其他游牧民族事務，另設南面官治理境內漢人

- 28、() 唐《教坊記》：長安城教坊一位伎人生來高鼻深目，長期用化妝使臉容不凸出，所以一般人都不知道。直到某日因喪子而淚流滿面，露出她原本面目，其婢女見狀驚呼：「娘子眼破矣！」請問這段故事反映哪些現象？(A)唐代有嚴謹的夷夏之防，胡人不得拋頭露面 (B)伎人喜化妝喬裝胡人，以迎合觀眾喜愛 (C)這位伎人可能是從日本渡海而來 (D)婢女有文化本位主義，對胡人面貌帶有種族歧視 (E)即便唐代對外來文化的態度開放，胡人女子可能仍須迎合唐人的審美觀
- 29、() 明治維新以來，日本在國內人口壓力及擴張野心的驅使下，許多人向境內與海外移民。請問日人選擇移民的地區中，哪些屬於日本的殖民地或託管地？(A)1895年的巴西 (B)1905年的中國東北 (C)1915年的臺灣 (D)1925年的朝鮮 (E)1935年的帛琉

【第三部分單選題：每題1分，30-38題，總共9分】

- 30、() 原是女真族部落聯盟組織，完顏阿骨打將其變為一種兼具軍事和地方行政性質的組織。金統一北方後，將口帶到中原，一方面監控漢人，一方面實施屯田制度。請問 所指為何？(A)北府兵制 (B)北面官制 (C)八旗制 (D)猛安謀克制
- 31、() 日治時期，某篇小說寫到，主人翁在內地時，被問到來自何處，總是謊稱來自四國或九州，也只敢以日本姓名與朋友交往，深怕被人認出真實的出身。主人翁表示，在內地時，他對於內地人、本島人、半島人、還是中國人，看一眼總能辨認出來。主人翁的時代背景和身分最可能是：(A)1900年代前往日本工作的朝鮮學者 (B)1930年代在滿洲國任教的日本教師 (C)1940年代前往日本求學的臺灣學生 (D)1950年代回歸日本的前殖民地官員
- 32、() 元代〈重建海道都漕運萬戶府碑〉提及：海漕(以海運運漕糧)，古未有也。漢仰漕山東，唐仰漕江淮，皆無路途遙遠之阻。今京師與江南相去數千里，而政府所需皆仰賴南方，欲朝夕供給，如取諸左右，若無良法則民勞國弊。根據上述，元代增闢海運的最可能原因為何？(A)建立迅速取得大量物資的方式 (B)將京師的農產物資調往各地區 (C)原有的運河因淤積而無法運輸 (D)避免北方漢人抗元勢力的干擾
- 33、() 資料一：1727年，雍正談論到僑民回籍時，認為「在外已久，蹤跡莫可端倪，倘有與外夷勾連，不可不患預防爾」。資料二：1740年，巴達維亞發生萬名華人遭殺的紅河事件。乾隆聽聞後表示：「天朝棄民不惜背棄祖宗廬墓，出洋謀利，朝廷概不聞問」。請問清廷看待僑民的態度為何？(A)以外交關係為重心，持正面看法 (B)以國家安全為理由，持正面看法 (C)以商業利益為考量，持負面看法 (D)以儒家倫理為標準，持負面看法
- 34、() 「(晉)元帝、王導過江之初，吳人不附，居月餘，士庶莫有至者。主導因此進計：『願榮、賀循，此士之望，未若引之，以結人心。二子既至，則無不來矣。』」請問資料反映出晉朝存續的關鍵為何？(A)如何將當地寒門引進官僚體系內 (B)如何建置能抵擋胡人南下的軍隊 (C)如何安置大批的南渡世族與流民 (D)如何使江東世族認同司馬氏政權
- 35、() 某政策之下，經官員盤查，留下紀錄：「晉宗室司馬玄暉五戶，桓溫表(上奏彈劾)玄犯禁，收付廷尉；餘姚高門虞亮復匿千餘人，公誅亮，並罷免包庇虞亮之人。於是豪強肅然，遠近知禁」請問此紀錄是反映哪一制度的情況？(A)占田法 (B)均田制 (C)土斷制 (D)衛所制
- 36、() 十六世紀末期，駐菲律賓的西班牙總督向國王報告，在菲律賓和華人貿易有害而無益，因為華人運來了大量棉布、粗糙廉價的絹疋，還有生絲或紡絲等在此貿易。而最令人憂慮的是它們還超過從西班牙運來的輸入量，這將會導致格拉那達、瓦倫西亞等地繳納給王室的稅收減少。依據題文，總督最擔憂的是：(A)菲律賓當地紡織品產量降低，人民將缺乏布料 (B)華人已逐步取得西班牙貿易代理權並壟斷貿易 (C)若是進口中國大量廉價貨物，本土產業將毀滅 (D)西班牙出口至菲律賓的紡織品數量將日益減少
- 37、() 電視劇《南僑機工英雄傳》播出後頗受歡迎，「南僑」指南洋華僑，「機工」指司機與技工。劇中講述機工組成的服務團返回中國，前往高風險的滇緬公路協助運輸軍需品與補給品。請問上述情景應發生於何時？(A)1880年代初 (B)1910年代初 (C)1940年代初 (D)1970年代初技能
- 38、() 老師在課堂中提到：「1833年，英國議會通過廢奴法案，將於翌年解放西印度群島奴隸；1年，英國宣布所轄殖民地都廢除奴隸制度；美國也於1870年通過修正案，賦予黑人男性公權。以上是19世紀國際移民風潮再現的原因之一。」請問老師如此說明的依據為何？(A)英美兩國「重視人權、社會平等」，吸引世界各地移民前往，追求大同世界理想 (B)解放奴隸成勞力短缺，因此亟需引進移民，補充勞動力 (C)廢奴法案通過後，英、美政府鼓勵黑人到非洲，因此出現移民潮 (D)廢奴是時代趨勢，英、美兩國傳教士到世界各地傳播種族平等的觀念，促使移民潮蓬勃發展

【第四部分單選題：39-58題，每題1.2分，總共24分】

- 39、() 一些環境史家根據長期氣候變遷的觀察與史料分析，發現宋朝時曾經有過一段類似小冰河時期的異常氣候，這對中國歷史造成什麼影響？(A)導致中國大量人口急速銳減，生產力大幅度下降 (B)大批人口移往南方，北方陷入勞動力缺乏的狀況 (C)北方人們為了躲避災難，出現向海外拓殖的現象 (D)草原民族無法維生，頻繁南下侵擾中原農業民族

- 40、()新加坡重要的觀光地點「牛車水」，是當地非常知名的「唐人街、中國城」。其實，在世界許多地方，也有類似的華人群聚社區。試問這些「唐人街、中國城」產生的最主要原因為何？(A)代表中國人喜歡自己建立街道或是城市居住 (B)中國移民常與當地文化有所衝突，因此自立一區 (C)中國人喜歡建立屬於自己的政權，拒絕融入當地 (D)這屬於中國在國外的租借區域，享有治外法權
- 41、()李白曾有詩作提到唐代一場亂事的狀況：「三川北虜亂如麻，四海南奔似永嘉」，此場亂事讓唐代由盛轉衰，原本華夷一家的盛況也趨於沒落。請問下列何者為此亂事的影响？(A)大量人口向南方遷徙，加速南方經濟開發 (B)政府推動漢化政策，並將首都向南方搬遷 (C)皇室逃往南方建立政權，北方由外族占據 (D)政府實施二元統治，以北面官來管理胡人

- 42、()生活在中國東北的李先生說，他的祖先來自朝鮮，在1880年代與大批同鄉的人一起移民到中國東北，靠著種植水稻維生。經歷了萬分艱苦的日子後，最終在此地定居下來。結合你對當時的了解，你覺得李先生對於祖先從朝鮮到中國的說法是否合理？(A)合理，日本併吞朝鮮後，大批朝鮮難民跨境移居到中國東北，李先生的祖先應屬其中之一 (B)合理，19世紀中期後，朝鮮北部水旱災頻繁，李先生的祖先應是在該背景下前往中國東北 (C)不合理，當時中國實施禁制政策，應該少有朝鮮人能移民到中國東北 (D)不合理，應該要到20世紀初，才開始有朝鮮移民因政治或經濟因素，移往中國東北

- 43、()今日新加坡為一以華人為主體的國家，馬來西亞也有近三成的華人口，但是在這些國家中，華人在政治上對「中國」的國族認同遠低於在血緣文化上對「中國」的認同，關於此一現象的解釋，以下何者為真？(A)此為19世紀中葉以來的現象，反映了當時清廷對海外華人的漠視與排斥 (B)此為第一次世界大戰後的現象，華人在意識型態上的轉變主要受民族自決主張的影響 (C)此為第二次世界大戰後的現象，新興國家的發展強化了華僑對僑居地的國家認同 (D)此為1980年代以後的現象，由於中國的崛起使東南亞華僑的經濟優勢受到挑戰

44、()1872年的一則報導，當時從澳門前往秘魯的船隻，船上人員死亡情況如右：請依據所學合理推論，造成上述情況的主要原因為何？(A)船上管理不佳，衛生條件差且待遇惡劣 (B)太平洋海況不佳，船隻翻覆事件頻傳 (C)華工本就身體虛弱，無法克服航程之苦 (D)船隻紀錄不詳實，失蹤人口多列入死亡名單	船班抵達秘魯日期	船上人員
	九月十日	320人，死23人
	九月十六日	488人，死12人
	九月十六日	408人，死45人

- 45、()17至18世紀，東南亞殖民地早期的華人社會結構主要受兩大因素制約：「殖民統治的性質」以及「與當地住民的關係」。由於殖民政府資源與人力匱乏，又缺乏當地文化的了解，因此產生了由華人甲必丹構成的特殊「包稅制」，以獲得經濟利益。甲必丹受到當地政府賦予準官員的身分，主管華人相關事務。在地方上，甲必丹也扮演著文化仲介的角色，滿足華人社群在異鄉對於自身傳統文化上的需求。根據上文，下列何者**並非**當時甲必丹所屬的事務？(A)協助殖民政府向華人社群宣達事項 (B)定期向中國政府報告海外華人狀況 (C)在清明、春節時主持祭祖儀式活動 (D)受到殖民政府委派向當地華人徵稅

- 46、()第二次世界大戰以後，許多東南亞華僑紛紛選擇加速融入僑居地的主流社會，致力於「當地化」，其根本原因為何？(A)殖民主義衰退，東南亞國家獨立成功 (B)冷戰結束，國際對立局勢和緩 (C)西方文化入侵，華人文化受到打擊 (D)華人社團沒落，影響了華人的政治發展

- 47、()《元史·刑法志》「殺傷」一條記載：「諸殺人者死，仍於家屬徵燒埋銀（由罪犯償付一定數額的金錢給受害者親屬，以作喪事之用）50兩給苦主。……諸蒙古人因爭及乘醉毆死漢人者，斷罰出征，並全徵燒埋銀。」關於此段文獻內容，下列解釋何者正確？(A)蒙古人以罰錢作為犯罪懲罰 (B)蒙古人的法律是以眼還眼 (C)法律嚴禁蒙古人傷害漢人 (D)漢人的社會地位低於蒙古人

題組題：48-50

2019年日韓貿易戰源於「徵用工訴訟」爭執。自1952年兩國關係正常化以來，南韓要求日本賠償殖民時期強徵的十萬多名勞工。1965年雙方簽署《日韓請求權與經濟合作協定》，由日本支付賠償金，並規定兩國政府與人民不得再向對方求償，否定了韓國人的「個人請求權」。然而，過去的徵用工對此提起訴訟，2018年南韓最高法院認定該協定並未包含對違法殖民統治的賠償，受害者仍保有「個人請求權」。此判決引發外交風波，日本因不滿判決，於2019年將南韓剔除貿易優惠白名單，並管制半導體材料出口。南韓則以投標串通為由，對四家日本企業處以共92億韓圓罰款作為反制。

- 48、()如上文所述，日本殖民朝鮮時期，曾強制徵用朝鮮勞工，遭到徵用者多集中於1944年到1945年間，請問：當時日本大量地強制徵用這些朝鮮人民，主要的目的為何？(A)強制移民至滿洲國開墾，增加米糧產量 (B)派至日本主導的企業工作，以補充軍需工業的勞動力 (C)因應中日戰爭爆發，派至中國戰場替日本作戰 (D)派遣至南洋地區，接收並管理日本在該地拓殖的產業

- 49、()日本在2019年將韓國剔除出貿易優惠白名單，並管制半導體材料出口至韓國。市場預估韓國的半導體原料備存量僅能維持2.5個月，之後將開始影響產能。請問韓國的半導體原料備存量少，與該工業的哪些特徵最相關？(甲)產品生命週期短；(乙)產品標準化；(丙)產品屬於特殊規格；(丁)即時性生產策略。(A)甲乙 (B)甲丁 (C)乙丙 (D)丙丁

- 50、() 日本所採取的貿易行動，對韓國最可能造成的影響為？ (A) 有利於廠商，因貿易量擴大而獲得巨額利潤 (B) 不利於廠商，成本將會大幅增加而侵蝕獲利 (C) 有利消費者，可以買到價格更為合理的商品 (D) 不利消費者，在環境破壞下使健康遭受威脅

題組題：51-52

絲路，絕不是「線」而是「面」的存在。實際上，大部分的絲路在沙漠、草原上並沒有固定的路徑，除了狹窄的峽谷、嶺口這些地方之外，其他地方都可以行走；若因為自然或人為因素而導致通行困難的話，人們也會立刻迂迴通過其他峽谷或山嶺。另外，絲路也很容易被誤解為東西交易的網路線，實際上絲路是包含各個方向延伸，以及許多支線結合起來的密密麻麻狀路線；在這無數交錯的交叉口，有很多地方成為交通要地，因而出現大大小小的城市。不同時期，各地有價值的特產品，在這複雜的途徑中紛至沓來。像是絹織物、金銀器、玻璃、香料、藥品，以及高級毛皮等。本來「絲綢之路」只是稱呼之一，不過這樣的術語已經逐漸普遍化，但我們應該要認知到「絲路」始終只是東西北交易網路的代名詞而已。

- 51、() 根據上述文章，作者認為絲路實際上是因為何種概念而形成的名稱？ (A) 文化的交流融合 (B) 政治的結合對立 (C) 貿易金額的多寡 (D) 貨物流通的方向

- 52、() 榷榷在寫作小論文時，決定引用此段資料，下列何者最可能是他的小論文題目？ (A) 「陸上絲路」性質的再確立 (B) 「海上絲路」的貿易網絡 (C) 「陸上絲路」及天可汗制度的形成 (D) 「海上絲路」及阿拉伯人的崛起

題組題：53-55

資料一：明中葉社會變遷與民間慈善

明中葉商品經濟興起，奢靡風氣引發財富焦慮，促使世人轉向「散財行善」以求心安。當時因政府腐敗、荒災嚴重，大量流民湧向城市，官府救濟卻失能。為此，地方菁英籌組民間慈善組織，如「養濟院」提供食宿維生、「同仁堂」負責施棺掩埋，不僅安定社會秩序，亦改善環境衛生與防疫。

資料二：明清長江下游的都市化與市鎮興衰

明清長江下游因城鄉遷移加速都市化，湧現許多棉、絲、米糧等專業市鎮。這些市鎮的衰旺受地理與交通影響：如太湖的鶴王市因港口淤塞、貿易中斷而於 19 世紀末沒落；上海周邊市鎮則受益於開港與鐵路運輸，在同期發展更趨繁榮。

- 53、() 明朝中後期的種種發展，導致遠走他鄉的流民增加，請問當流民與貧民增加，而政府處置的能力不足時，會對明清時期的社會造成何種影響？ (A) 地方政府的腐敗 (B) 商品經濟的停擺 (C) 人均耕地的不足 (D) 秘密會社的盛行

- 54、() 從上述資料一的題文可知，明中葉出現的現象與目前何種社會安全制度的設立精神類似？ (A) 政府規定無業且滿 25 歲的我國國民強制繳納國民年金 (B) 居於學區並持有學區內同址房屋權狀證明者可優先入學 (C) 政府列冊低收入戶者可請領 2 歲以下嬰兒營養品補助費用 (D) 具有我國國籍且連續居住超過 183 天的長輩可領敬老禮金
- 55、() 綜合資料一與資料二的敘述，關於明清時期長江下游地區的都市化現象，下列何者正確？ (A) 此時期都市環境負載力與社會安全制度的實施呈負相關 (B) 此時期市鎮機能專業化與社會安全制度的實施呈正相關 (C) 此時期市鎮之間依賴程度增加是受交通革新因素影響 (D) 此時期市鎮都市化加速現象使各市鎮自然增加率增加

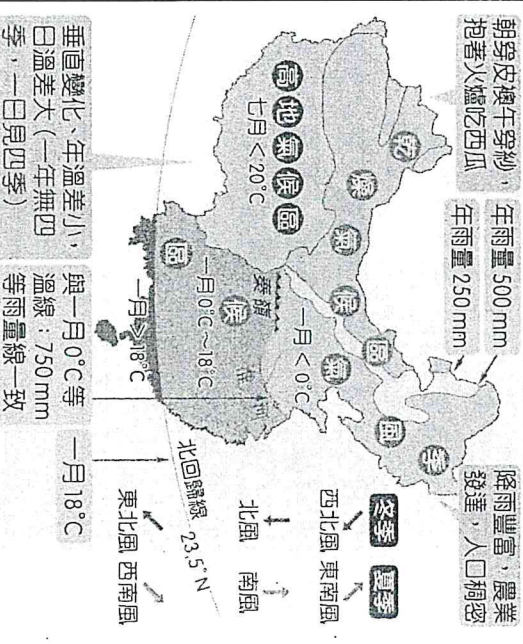
- 56、() 自三國兩晉南北朝以來，東亞大陸政局動盪，從西晉末年的「永嘉之亂」到唐朝中期的「安史之亂」，北方中原地區因飽受戰亂與異族入侵，導致大量世族與農民被迫集體南遷，史稱「衣冠南渡」。這類由北向南的大規模人口流動，不僅改變了當時的人口分布，也對東亞區域的長期發展產生了關鍵性的轉型。請根據歷史脈絡與地理空間特徵，判斷這類人口移動最深遠的影響為何？ (A) 使北方農業技術完全斷絕，導致黃河流域從此荒廢而無法開發 (B) 促使經濟與文化中心南移，讓長江流域逐漸取代黃河流域地位 (C) 引發南方本土政權全面崛起，並與北方游牧政權長期隔海對峙 (D) 迫使南方全面放棄水稻耕作，轉向發展北方盛行的麥作農業區。

題組題：57-58

在東亞大陸的歷史發展中，「400 毫米等降水量線」不僅區分半濕潤氣候與半乾旱氣候的自然指標，更是攸關農業民族生存與游牧民族移動的「生態邊界」。這條界線的變動往往觸發大規模的族群遷徙、資源爭奪與文化交流。

- 57、() 關於這條界線在歷史人口移動中的意義，下列敘述何者最為正確？ (A) 氣候寒冷乾燥時，北方民族常為生存南下遷徙 (B) 農業民族具技術優勢，能長期將邊界穩定於長城附近 (C) 兩側居民生活迥異，在歷史上長期處於隔絕狀態 (D) 近代海路貿易興起，是導致此線人口流動的主因。

- 58、() 從魏晉南北朝到元代，族群的互動模式隨著統治者的政策與軍事擴張而演變。因朝代變遷所導致的人口與社會影響，下列敘述何者最正確？ (A) 清初實施海禁並強迫沿海人民內遷，徹底杜絕了東南亞移民活動 (B) 元代建立後實施嚴格的四等人民制，保障南人享有最高法律權利 (C) 唐代安史之亂引發北方人口逃難，導致長江流域的農業技術失傳 (D) 北魏孝文帝遷都洛陽並推行漢化，促成鮮卑與漢人的社會融合。



雨量：受季風影響，夏雨冬乾；受距海遠近影響、東半部山脈阻擋夏季季風，年雨量由東南向西北遞減；年雨量 750mm 等雨量線以秦嶺—淮河為界。

【第五部分非選題：依每題計分，總共_9_分。務必填寫答案於作答區】另，班級、姓名、座號務必寫，三項各另扣1分】

一、明朝海外政策

資料一：唐宋以來官方鼓勵國人向海外發展的趨勢在明朝時中斷。不僅朝貢貿易有各種限制，使南海物資供不應求；濱海人民更在□□政策下，迫於生活所需，私越巡防，下海通番。然而禁令苛嚴，終於迫使這些商人鋌而走險，形成海盜。資料二：嘉靖年間，倭寇時常劫掠沿海，然而「動以倭寇為名，其實真倭無幾。」蓋閩粵山多田少，在明朝□□政策屬行下，冒險出海者不在少數。更有中、小商人勾結倭人，寇掠沿海，由海商演變成海盜，並引豪紳之家為奧援，掩護其非法貿易行為，公然挑戰朝廷禁令。

- (1)請問兩段資料中的□□政策為何？ (A)土斷 (B)朝貢 (C)海禁 (D)鎖國
- (2)依據資料，明朝的海外貿易發展有何趨勢？ (A)合法貿易成長，非法貿易衰退 (B)合法貿易衰退，非法貿易成長 (C)合法貿易與非法貿易均大幅成長 (D)合法貿易與非法貿易均大幅衰退
- (3)如依資料所言，明朝倭亂性質是兩者兼具，請用文字說明之。

二、以下三則資料為同一時期華人的海外移動相關資料：

資料一：許多中國人移民至北美婆羅洲，從事各種農業、商業等活動。當時，當地的管理政權為英屬北婆羅渣打公司，為了穩定社會、利於經濟發展，必須利用當地的社群領袖來管理中國人，以代替不足的行政人員。在這種情形下，山打根的華僑彭鳴山被任命為第一任甲必丹，並被賦予經營鴉片廠及酒類出入口的稅收權。

資料二：早期美國華人社會為了聯繫同鄉情誼而組成會館，後來由這些會館所組成的「六公司」，是與美國官方交涉的重要媒介。但是，不同於東南亞出現的華人社群領袖甲必丹，「六公司」從未享有統治當局認可的正式地位，也未掌握任何經濟特權。

資料三：前往東南亞與北美的華人移民，相同之處在於：他們都是以男性為移民的主體，並以華商作為社群之間的聯絡保護站。不同之處在於：北美的華商與當地白人社會之間關係脆弱，而政府也沒有動機需要去保護他們。

- (1)資料一與資料二所描寫的情況同時出現，會是以下哪一世紀？ (A)16世紀 (B)17世紀 (C)18世紀 (D)19世紀
- (2)根據這些資料，美國與東南亞華人地位上的差異來自 (A)華商能否聯結原鄉力量 (B)華商是否具社會影響力 (C)華人能否得到政府任用 (D)華人是否具有經濟實力
- (3)依據這些資料，東南亞地區對華商較友善，請用文字說明之。

三、以下三則資料為同一時期日本人民移動的相關資料：

資料一：日本控制地區日本人民移動的人數初估資料

地點	滿洲	中國 (包括香港)	朝鮮半島	臺灣	千島與樺太
人口數	155 萬	50 萬 4 千	72 萬 1 千	3 萬 5 千	39 萬

資料二：我第一次聽到「引揚者」這個詞，是在我們抵達日本佐世保港的時候。在港口歡迎我們的人說：「歡迎回家，我們的引揚同胞。」我覺得很納悶的是，他不是說：「歡迎回家，我的日本同胞。」連我的親戚都是稱呼我們為「引揚者」，感覺彷彿我們是另一個種族，而非日本人。

資料三：引揚者到達日本後，進入營區之前必須在入口處進行消毒，過程中會有一群穿著白色外衣的衛生人員，什麼都沒解釋就強行拉開我們的衣領，朝裡面噴灑刺鼻的 DDT 粉末。消毒人員對我們說：「我也沒辦法，這是占領軍的命令。」我心中覺得，占領軍一定認為我們是可悲的蛆，所以可以將這群從共產黨占領的滿洲被丟出來、沒人要的貨物，浸在 DDT 裡。

資料出處：改寫自華樂端，《當帝國回到家：戰後日本的遣返與重整》(臺北：遠流文化，2018)，頁 56~57

- (1)綜合三段資料線索判斷，此時期應是 (A)日俄戰爭之後 (B)甲午戰爭之後 (C)九一八事件後 (D)二次大戰之後
- (2)根據三則資料判斷，「引揚者」最可能是指 (A)從歐洲戰場被遣返的日本軍人 (B)從中國戰場被遣返的臺灣籍民 (C)從日本控制地遣返的日本人民 (D)從美國地區遣返的日本僑胞
- (3)根據資料二與資料三，這些引揚者對日本同胞的心情如何？請依據資料提供的訊息，自行簡短敘述。

一、(1)	一、(2)	一、(3)-說明
二、(1)	二、(2)	二、(3)-說明
三、(1)	三、(2)	三、引揚者對同胞的心情

班級：_____ 姓名：_____ 座號：_____

高雄市立鼓山高中 114 學年度第二學期第二次段考《高二》歷史科

考試範圍：Ch2~3

電腦讀卡代碼：09

____年____班____號 姓名_____

【注意：若為畫卡作答之考科，經閱卷讀卡發現畫記錯誤，該科扣 5 分，未畫卡者該科以 0 分計。】

一、單一選擇題(素養題)(共 100 分,每題 2.5 分)

- () ★小美看到某段描述十四世紀的文字：「後來拜占庭國內發生動亂，羅曼努斯四世被廢黜。……不久，拜占庭失去了東方各省和小亞細亞沿海地區，喪失了『東方帝國』的地位，成為一個局限於希臘半島和愛琴海地區的希臘國家。」請問使得拜占庭帝國成為希臘國家的原因是？ (A)鄂圖曼帝國拿下君士坦丁堡，使拜占庭帝國失去東方的領土 (B)西班牙的奧米雅王朝入侵拜占庭帝國西方的領土 (C)拜占庭帝國內部分裂，導致國土快速萎縮 (D)拜占庭帝國受困於經濟不佳，只好割讓領土
- () ★雕塑家羅丹參觀博物館，面對一些人物塑像時，曾有感而發說：「瞧！伏爾泰對面的盧梭，目光中含有無限精微的氣息，那是十八世紀諸人物的共同性格。他們都是懷疑者，他們批評從古代以來認為天經地義的『道理』，他們都有監視的目光。」依你的理論，羅丹所謂的「十八世紀諸人物的共同性格」指的是什麼？ (A)以理性的方法，思考人類社會的現象，不輕易接受各種教條 (B)提倡歸納或實驗的方法，推翻古代以來各種定律及學說 (C)尊崇人文主義，否定各種宗教迷信，尤其是天主教的教規 (D)傾向自由、平等、民主、憲政和民族主義，反對君主政體
- () ★工業革命以來，許多工廠主人大量僱用廉價的女工與童工。這些女工與童工待遇微薄，生活困苦，引起英國政府的重視。十九世紀前期，英國政府計畫頒布禁令，禁止僱用女工與童工，但這項政策卻遭到女工們的反對，其理由可能為何？ (A)當時英國民族主義高漲，女工們希望能為國家建設盡一分心力 (B)在工廠工作是當時許多女性的唯一收入來源 (C)當時共產主義在歐洲盛行，女工們要求與男性同工同酬 (D)女工一旦失去工作，將無法繼續支持中產階級家庭的休閒生活
- () ★歷史學家對歐洲中世紀某一場戰爭的描述是「許多主教、貴族、農民為了信仰，拿出窖藏多年甚至百年的貨幣，法蘭克王國瓦解和早期封建割據的局面可見一斑。不少貴族、自由人為踏上征途而千方百計獲取裝備、物資和現款，包括出售不動產、掠奪猶太人等……」請問這場戰爭的對象是 (A)土耳其人 (B)波斯人 (C)蒙古人 (D)日耳曼人
- () ★有一位神學家曾說：「我完全不同意某些人的觀點。他們反對將神聖的聖經譯成地方語言，排斥讓沒有學問的人也能閱讀。他們認為基督教誨的細微之處，甚至連少數的神學家也很少理解，似乎基督教的力量就存在於人們對他高深莫測。……我希望：哪怕是最軟弱的婦女，也應該讀福音書。」這位神學家的理論與下列哪一歷史事件與之關係密切？ (A)亞威農之囚 (B)宗教改革 (C)查理曼受封羅馬皇帝稱號 (D)耶穌會成立
- () ★丹麥日德蘭郵報於 2005 年 9 月 30 日刊登了十二幅諷刺伊斯蘭教先知穆罕默德的漫畫，其人物形象鮮明、樣貌多變，甚至將穆罕默德的頭巾包裝成炸彈，遂引起伊斯蘭世界的強烈不滿。請問丹麥日德蘭郵報最有可能因何種原因招致如此衝突？ (A)漫畫內容將聖戰曲解為努力、奮鬥之意，未符合原本的意涵 (B)漫畫內容以炸彈形式嘲諷西方歷年來針對伊斯蘭國家的恐怖攻擊 (C)伊斯蘭教禁止偶像崇拜，故也嚴禁描繪先知穆罕默德的形象 (D)古蘭經皆以希伯來文寫成，且不得將其公開轉譯為其他語言
- () ★這座寺廟的內部除了一個壁龕外，沒有任何神祇偶像的擺設，大殿上不設桌椅，而是以地毯鋪滿整個地面，加上講道臺，再綴有花草、幾何圖形的裝飾、設計。有關這座寺廟的認知何者為是？ (A)在西班牙的哥多華旅遊時，可以看到此類寺廟 (B)因為「沒有任何神祇偶像的擺設」，所以並不具禮拜功用，僅用於聚會 (C)地毯的設計是為了提供信徒進行齋功 (D)「花草、幾何圖形的裝飾」顯示出對自然的崇拜，可見此寺廟屬於多神信仰
- () ★資料一：北宋哲宗在位的時候，接到一份廣州市船司的奏章：「近日有多起夷商以及大食商人要求儘速返國的消息，根據了解，主要是大食爆發了一場大規模的戰爭，這些夷商是希望能夠儘速返國，以免錯失參與此場聖戰的機會……」
資料二：「這場戰爭導致了東西方貿易中斷。在戰爭期間，他們甚至入侵了同陣營的城市，他們難以容忍東方的富庶與繁華，因為他們的國家正面臨停滯的困境。」
請問這場戰爭有可能為何？ (A)穆罕默德征服阿拉伯半島 (B)奧米雅王朝遠征伊比利半島 (C)十字軍攻打耶路撒冷 (D)鄂圖曼帝國與帖木兒爆發戰爭
- () ★「永生與永罰、成功與失敗，甚至貧富榮辱，都是上帝先定的，人的意志無法改變」，這是哪一位改革者的核心思想？ (A)伏爾泰 (B)喀爾文 (C)馬丁·路德 (D)羅耀拉

10. () ★伊斯蘭曆法的一年只有 354 天，並分成 12 個月。其中九月是為「斷食月」，人民於此月需在白天禁食；十二月則是「巡禮月」，人民要依規定進行朝聖。從伊斯蘭曆的設計，可以看出 (A)伊斯蘭曆的制定受到西曆的影響 (B)伊斯蘭曆的制定受到教徒經濟能力的影響 (C)伊斯蘭曆的制定帶有政治目的 (D)伊斯蘭曆的制定受到宗教信仰影響
11. () ★亞當·斯密在國富論中指出：「國民財富是一個國家所生產的商品總量，國家施政的目的在於促進國民財富的增長，同時兼顧個人和社會、生產者的利益，避免犧牲某一方面的利益。」請問下列對於引文的解讀，何者正確？ (A)國家財富專指政府所生產的商品總量 (B)國家財富必定會犧牲個人的利益 (C)國家財富並非政府施政的目的 (D)政府有義務避免犧牲任何一方的利益
12. () ★「第一條規則，小心地避免落入偏見與預設立場，並且在真理不證自明之前，我不會做出任何結論。第二條規則，盡可能將遭遇到的難題細分成許多部分，以便於個別探討。第三條規則，有條理地思考，一開始以最簡單的方法來理解事物，而後逐步思考更為複雜的事物。最後一條原則是，全面性的檢視以確保不遺漏任何細節。」請問以上科學方法具有何種特色？ (A)由零入整、由簡單推向複雜，並逐步統合 (B)積極觀察、由複雜推向簡單，並逐步分析 (C)無條件相信再藉由實驗驗證，並歸納大綱 (D)客觀認定結論、再邏輯推論，並得出結論
13. () ★一切先知都是人，絕無神性；他們僅僅是接受真主的啟示。穆罕默德是最後的、最大的先知，因為過去一切先知所傳的信息到了穆罕默德乃臻完善。根據教義，世界末日死者復活，每人都按照自己的行為受審。解除他人痛苦，救濟貧窮這樣的社會服務，是教義的重要內容。聚斂財富而否認窮人權利，是今世社會腐敗的主要原因，將在後世受到嚴懲。放高利貸是被禁止的，這種社會經濟理論加強教內的團結，由此而產生一種觀念：信士彼此皆為兄弟，共同生活在緊密的集體之中。關於題幹的解讀，何者正確？ (A)穆罕默德認為自己是世界上唯一的先知 (B)此信仰的教義內容包括了建立信徒的道德觀念 (C)此宗教主張分散式，而非集中式的共同生活 (D)信徒可積極從事商業活動，例如高利貸等等
14. () ★一位法國人提到他所生存的時代：「我感覺到我已盡失追尋這些回憶的決心，我國家的悲慘境況折磨著我；一種不知不覺的意氣消沉刺穿我的心靈，凍結我的想象力。法國已變成一屠宰的墳場、恐怖的競技場、與她的子孫彼此爭奪及破壞的處所……歷史絕不能掩飾這可怕的時期，或這些窮兇惡極的野蠻行為……這是否就是羅馬或巴比倫比得上巴黎之處？」請問他所講的是 (A)三級會議時期 (B)恐怖統治時期 (C)拿破崙稱帝時 (D)第二共和時期
15. () ★宗教自由是指一個人可以在社會中自由選擇其宗教信仰，和在這個社會中公開發加該宗教信仰的儀式，而不必擔心受社會的迫害或歧視。宗教自由也包括根據自己的判斷放棄或改變自己宗教信仰的自由。請問下列哪一時期擁有宗教自由？ (A)一世紀初的羅馬 (B)六世紀初的君士坦丁堡 (C)十三世紀末的巴黎 (D)十七世紀末的神聖羅馬帝國
16. () ★洛克：「我們都是上帝的兒女，應當擁有一樣的生存與自由行動的權利，沒有人可以對此限制，故所有人都是平等的，權利是上帝賦予的。」請問該如何解讀這一句話？ (A)洛克強調人皆為上帝所創造 (B)人之權利為上帝給予，故應當信奉上帝 (C)政府不具有侵害他人生存權利的正當性 (D)國王的生存權利較平民高一等
17. () ★伊斯蘭帝國興起於七世紀，快速擴張的伊斯蘭帝國給予歐洲基督教世界莫大的壓力，壓縮了基督教世界的領域。若非法蘭克王國與拜占庭帝國擋住了伊斯蘭戰士，西歐中古晚期可能已非基督教的世界。請問到何國旅行看到中古時代清真寺的機率最大？ (A)德國 (B)法國 (C)西班牙 (D)英國
18. () ★資料一：首先觀察已知事實中所發生的特定現象，接著實驗此事實的特定現象是否發生，而後分析此特定現象於不同事件中的差異，最終總結找出一個通則。
資料二：首先運用一個已知的定理進行假設，接著分析此假設在不同事件中是否出現差異，最終以此定理分析出的假設得出結論。請從上述資料判斷下列何者正確？
(A)資料一為文藝復興時期學者提出，資料二為啟蒙運動時代學者提出 (B)資料二學者開啟宗教改革 (C)資料一學者的發現開啟科學革命 (D)兩位學者的理論皆展現科學革命的時代特色
19. () ★這是一段有關某位科學家的小傳：「……托勒密的『地球中心說』理論太過複雜。根據托勒密的計算，所有的天體大約固定在八十餘個相互牽連的球形軌道上，繞著地球旋轉。這位科學家認為，太陽才是宇宙的中心，行星以正圓形的軌道繞著太陽旋轉，地球轉動造成日夜交替，輕的物體會朝重的物體運動，最重的物體就是太陽。」請問這位科學家是 (A)牛頓 (B)笛卡兒 (C)克卜勒 (D)哥白尼
20. () ★十二世紀，有一些人正在聊天，甲說：「看看那些商人，也沒什麼地位，但好有錢！」乙說：「他們真的東西很好！尤其茶葉和布料。」丙說：「我也常去商品聚集的城市逛逛，那裡交通很方便！」丁說：「要不是因為□□的發生，東方的貨物會更貴！」綜合以上數人的說詞，丁先生所說的□□應係指下列何者？ (A)蒙

- 古西征 (B)波希戰爭 (C)亞歷山大東征 (D)十字軍運動
21. ()★馬丁·路德發動宗教改革，建立新的教會，他的神學思想主張「因信得救」，應是受到下列哪一段文字的啟發？ (A)「太初，上帝創造宇宙，大地混沌，沒有秩序。……上帝命令：『要有光。』光就出現。」(《舊約創世紀》) (B)「我告訴你，你是彼得，是磐石；在這磐石上，我要建立我的教會。……我要給你天國的鑰匙……。」(新約馬太福音) (C)「福音顯示上帝使人跟祂和好的道路，這道路是起於信而止於信。正如聖經所說的：『藉著信而跟上帝和好的人，一定得到真性命。』」(新約羅馬人書) (D)「虛心的人有福了，因為天國是他們的。哀痛的人有福了，因為他們必得安慰。」(新約馬太福音)
22. ()★維爾布日村的人民向國王上陳情書：「取消和廢除向來破壞平等的特權。……但願國王陛下同意建立統一和單一的土地稅，毫無例外推行全國。……本教區所負擔軍役稅過於沉重，以致約有一半居民陷於赤貧。」下列陳述何者符合陳情書的內容？ (A)此時期已建立統一的賦稅標準 (B)人民認為統一的土地稅破壞平等的特權 (C)維爾布日村是美國境內的一個小村鎮 (D)不平等的稅賦造成居民陷於赤貧
23. ()★荷蘭經濟學家柏納德在蜜蜂的預言中評論當時的社會情況：「我們擁有大自然的餽贈，其範圍越廣闊，數量越豐富，我們就越能省去自己的勞動。而需求、貪婪、嫉妒、野心，以及私有財產的捍衛，無一不是造就偉業的大師，它能使社會成員去從事各自的勞動，能使所有社會成員都屈從各自行業的苦役，甚至使其中多數人樂此不疲。」請問下列關於學者的描述何者正確？ (A)這位學者在評論法國大革命的狀況 (B)這位學者指出資本主義造成的問題 (C)這篇評論讚賞了自由主義經濟思維 (D)這位學者的立場為馬克思社會主義者
24. ()★學者說：「三十年戰爭(1618~1648年)是羅馬教會對抗改革的最後行動，也是影響近代歐洲甚大的一場戰爭，它的原因甚為複雜，有宗教的爭端、國際利益的衝突、領土的野心、經濟的貪婪，也有政治上的仇恨。最終，統一的理想幻滅，領土的邊界更為清楚，宗教信仰成為了他國內政不容干涉。」根據引文，可以如何解釋三十年戰爭？ (A)結束了一統教會的理想，各國並立與宗教分歧成為並存的現象 (B)抗議教派成為歐洲普世性的信仰派系，羅馬公教地位一落千丈 (C)由於法國獲得最後勝利，羅馬教會獲得支持而重新宰制歐洲 (D)宗教問題並未獲得完全解決，各邦國統治者仍須依照羅馬教會規定決定其信仰
25. ()★大航海時代以後，英國對外貿易迅速增長，進一步刺激了英國羊毛出口業和毛織業的發展。羊毛價格不斷上升，養羊成為獲利豐厚的事業。往往十英畝牧場的收益超過了二十英畝的耕地。為發展羊毛及毛紡織業，英國開始盛行大規模的放牧。上述英國畜牧業的發展反映英國當時何種情況？ (A)畜牧業走向資本化 (B)商業逐漸復甦 (C)企業家操縱物價 (D)大量農奴出現
26. ()★在1630年，笛卡兒曾說：「神將最美好的賜給人們，人應當以此認識自己。我著手研究並且深信，人可以用比幾何學的論證更有啟發性的方法來論證形而上學的真理，神創造自然的規律就像一位國王在本國建立法律一樣理所當然。」請問：笛卡兒認為神賜給人們最美好的是下列何者？ (A)愛情 (B)感性 (C)理性 (D)同情
27. ()★培根曾說：「歷史使人明智。」試根據培根的學說，解讀培根這句話的意思為何？ (A)歷史就是過去的經驗，培根認為經驗是人類獲取知識的重要來源 (B)培根強調邏輯推演，人類可以從歷史教訓中推演未來的發展趨勢 (C)培根認為先有理論才有實作，因此我們必須從歷史中歸納出理論 (D)培根受到牛頓等人的影響，主張治學應該從前人的研究成果出發
28. ()★1850年，英國某報社在評論本國的工業成就時表示：「只要英國的出口貿易增加50%，這個國家的貧困現象就會消失。」關於此說法，以下理解何者最為恰當？ (A)有可能，因為工業化使大多數的英國人成為中產階級 (B)不可能，因為當時英國並不比其他國家富有 (C)有可能，因為當時英國政府已接受社會主義理念 (D)不一定，貧富差距可能因工業革命而更大
29. ()★有一個社會，主要分成三個階級：第一階級是教士，第二階級是貴族，第三階級是平民。第一、二階級是統治階級，他們人數僅占全國人口的2%，卻擁有大半的耕地，享有政治、經濟等方面的特權；98%的人口屬於被統治的第三階級。其中境況最悲慘的是農民，他們約占全國人口的80%，但只占有耕地的30~40%，大多數人無地或少地可耕。農民不但要向領主繳納沉重的賦稅，向教會繳納什一稅，而且須承擔種種封建義務，受各色名目的敲詐勒索。請問下列敘述哪一選項與此社會有關？ (A)這是美國獨立前的社會景象 (B)這是法國大革命前的社會景象 (C)這是1830年七月革命前的社會景象 (D)這是1848年二月革命前的社會景象
30. ()★「阿拉伯人終於建立起橫跨歐、亞、非的大帝國，自印度河以西，遠迄伊比利半島，一個廣袤的伊斯蘭世界於焉形成。」前文所述最早應發生於何時？此時期的阿拉伯人又有何擴張行動？ (A)四大哈里發時期；此時阿拉伯人攻陷君士坦丁堡，將勢力延伸至歐洲 (B)奧米雅王朝時期；此時阿拉伯人沿北非入侵南歐，與法蘭克王國對峙 (C)阿拔斯王朝時期；此時阿拉伯人擊敗唐軍，將勢力延伸至印度河流域 (D)法提馬王朝時期；此時阿拉伯人攻占埃及，疆域擴張至非洲

31. () ★「在東方，它征服了絲路上的綠洲都市撒馬爾罕，確保了交易路徑。在西方，它經由北非進攻現在的葡萄牙、西班牙，消滅了西哥德王國，甚至入侵當時規模最大的日耳曼國家——法蘭克王國。」資料所敘述的是哪一政權？ (A)六世紀的拜占庭帝國 (B)八世紀的阿拉伯帝國 (C)十一世紀的神聖羅馬帝國 (D)十六世紀的鄂圖曼帝國
32. () ★「阿拉伯人終於建立起橫跨歐、亞、非的大帝國，自印度河以西，遠迄伊比利半島，一個廣袤的伊斯蘭世界於焉形成。」前文所述最早應發生於何時？此時期的阿拉伯人又有何擴張行動？ (A)四大哈里發時期；此時阿拉伯人攻陷君士坦丁堡，將勢力延伸至歐洲 (B)奧米雅王朝時期；此時阿拉伯人沿北非入侵南歐，與法蘭克王國對峙 (C)阿拔斯王朝時期；此時阿拉伯人擊敗唐軍，將勢力延伸至印度河流域 (D)法提馬王朝時期；此時阿拉伯人攻占埃及，疆域擴張至非洲
33. () ★1789年8月26日，法國頒布人權與公民權宣言，其內容反映了啟蒙運動的思想觀念，以下是人權與公民權宣言的節錄，請根據內容判斷出正確選項。第一條：「人生來本是自由的，在權利上是平等的。」第六條：「法律是公共意志的表現。」第十三條：「為了武裝力量的維持和行政管理的支出，公共賦稅就成為必不可少的，這種力量在全體公民之間按其能力做平等的分攤。」 (A)「人生來本是自由的」，因此人民可行使一切權力不受國家規範 (B)「法律是公共意志的表現」表明國家權力與法律的基礎來自於人民 (C)強調公共賦稅與公平分擔的責任，因此所有國民繳交的稅金應相同 (D)人不分階級、財富都須履行義務，且義務的承擔份量也應是相同的
34. () ★吉朋在其著作羅馬帝國衰亡史當中，以「一手拿劍、一手拿經」簡評穆罕默德的事業，並稱其將王國建立在基督教與羅馬的廢墟上，以宗教真理合理化自己的行為。請問關於吉朋對穆罕默德的敘述我們可以如何理解？ (A)以客觀的角度完整詮釋伊斯蘭歷史的開展 (B)穆罕默德除武力征伐，更編寫古蘭經以教化社會 (C)伊斯蘭政權取代拜占庭帝國，成為基督世界的正統 (D)其論述以強烈的西方史觀評論伊斯蘭文明
35. () ★八世紀安史之亂前夕的唐長安城，戶口殷盛，號稱百萬，都市繁華，中外商旅熙來攘往，不絕於途，且胡漢兼容，各國各族文化薈萃並存。試問與唐長安城約莫同時的世界上，在戶口數、商業繁榮、文化創造等方面，哪一城市最有資格與唐長安城比擬，兩相輝映？ (A)巴黎 (B)倫敦 (C)羅馬 (D)巴格達
36. () ★某電影有一段旁白：「假定一塊大陸永遠要由一個島嶼來支配，那是件荒謬的事。大自然在任何情況下都不會使衛星大於其主要的行星；由於英國和美洲就彼此間的關係而言，顛倒了大自然的通常秩序，所以它們屬於不同的體系，是很明顯的。英國屬於歐洲；美洲屬於她本身。……讓我們每一個人向鄰人伸出熱情的友誼之手……讓惠格黨和托利黨的名字滅絕；讓我們不是聽別人，而是聽誠實公民的話；他們是坦率、堅定的朋友，是人類權利和美洲自由、獨立的國家勇敢的擁護者。」請問這部電影的時空應是 (A)1517年宗教改革期間 (B)1776年鼓吹殖民地拋棄舊勢力 (C)1810年拿破崙戰爭期間 (D)1815年維也納會議
37. () ★英國哲學家柏克是保守主義的代表人物，他曾發表法國大革命的反思，批判法國大革命。當時的主流思想強調個人自由與權利，但柏克卻認為應當注重個人的社會義務與責任，主張改革應採取漸進方式，以過去的制度為基礎，建立未來的規範，而革命對於人類文明的毀壞過於迅速，則應避免。根據上文判斷，請問下列敘述何者正確？ (A)柏克批評法國大革命過於保守，無法達成政治訴求 (B)保守主義主張延續過往的經驗，期望能維持社會的穩定 (C)柏克支持法國大革命，認為英國政府應當將其作為借鑑 (D)保守主義甫出現便取代自由主義成為時代潮流
38. () ★一位十字軍戰士紀錄他們剛占領的城市：「看到周圍環繞著高牆與尖塔，富麗的宮室與聳立的教堂，……他們發現這座城市的長、寬遠超過世上其他城市，……從創世以來，沒有任何民族能營造如此壯觀的事業。」請問下列有關前文的解釋何者最為合理？ (A)這座城市很可能是君士坦丁堡 (B)這位十字軍戰士可能是斯拉夫人 (C)這份戰士記錄可能源自舊約聖經 (D)營造這座城市的民族是阿拉伯人
39. () ★一本書記載了如下的事件：「拉丁人本應繼續向聖城耶路撒冷前進，然而他們卻選擇留在這座城市劫掠財物。拉丁軍隊在街頭肆虐、摧毀聖物，甚至在教堂的祭壇上跳舞。他們將奪得的財寶帶回家鄉，並成為威尼斯、熱那亞、佛羅倫斯等義大利城市的發展助力。這場劫掠後的歐洲不再以信仰為原動力，而是以經濟及商貿利益取而代之。」請問這段記錄應是描述下列哪一事件？ (A)十字軍占領耶路撒冷 (B)蒙古軍隊劫掠巴格達 (C)十字軍洗劫君士坦丁堡 (D)鄂圖曼帝國消滅拜占庭帝國
40. () ★伽利略曾說：「上帝在聖經中所欲啟示人類的，是如何上天堂，不是天體如何運行。」下列對於這段話的解讀，何者最為合理？ (A)伽利略認為如何上天堂遠比天體運行重要 (B)伽利略認為聖經中的錯誤必須以科學來修正 (C)伽利略認為宗教與科學研究不該混為一談 (D)伽利略認為宗教是一種反科學的迷信

高雄市立鼓山高級中學 114 學年度第二學期期末考高三歷史科試題

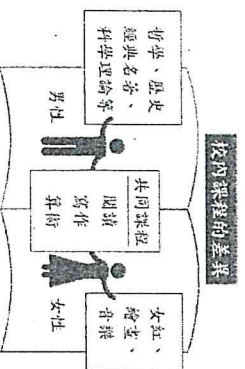
科目代碼：09

★基本資料填畫有誤致無法讀卡者，一律扣總分 5 分!!

一、單選題：(27 題，每題 3 分，共 81 分)

六年 班 號

1. 1920 年代，一位臺灣女性在喜帖上申明：不用聘金、不用賀禮、不注重一切形式。《臺灣民報》推崇這是「前所未有的聲明」、「新時代男女結婚的參考」。這位女性的作法反映：
(A)總督府實施「內地延長主義」，要求婚禮符合日本習俗 (B)一次大戰後，臺灣生活清苦，結婚不用聘金、不收賀禮 (C)受到時代思潮的影響，臺灣女性開始實踐婦女解放主張 (D)戰爭導致人口減少，鼓勵女性結婚生子，增進人口成長
2. 從今日的西亞狀況來看，幾乎所有的國家均以伊斯蘭信仰為主。若以伊朗為例，下列哪一個帝國對當地伊斯蘭的信仰影響最為深遠？
(A)鄂圖曼帝國 (B)塞爾柱帝國 (C)薩法維帝國 (D)蒙兀兒帝國
3. 現今印度半島上約有三分之一的人口信仰伊斯蘭教，崇拜阿拉，請問其歷史淵源為何？
(A)8 世紀建立的阿拉伯帝國曾長期統治印度 (B)曾被信仰伊斯蘭教的塞爾柱突厥統治 (C)信仰伊斯蘭教的帖木兒後裔曾在此建蒙兀兒帝國 (D)19 世紀中葉為法國殖民地
4. 請問第一波女權運動的主要訴求在於？
(A)政治參與權 (B)婚姻自主權 (C)獨立財產權 (D)職業平等權
5. 在維多利亞時代 (1837~1901) 的英國，妻子的職責是愛丈夫、給丈夫以榮譽、服從丈夫。妻子在家庭當中的地位，僅次於丈夫，並非不重要的角色。妻子要服侍丈夫，以適當方法養育兒女，是維持社會穩定的基石。請問對於上文敘述，下列何者正確？
(A)工業革命促使婦女在家庭中地位提升 (B)鼓勵女性外出工作獲得經濟上的獨立 (C)女性應以家庭為中心，扮演賢妻良母角色 (D)女性地位低下，為家中的附屬物品
6. 十九世紀後期，有愈來愈多的美國婦女在著裝上追求時髦。過去，美國婦女的服裝樣式總是唯巴黎馬首是瞻；現在，她們率先修改舊式的笨重時裝。將高領緊扣的緊身上衣以及拖地長裙丟棄，改以正面扣鈕扣的寬鬆上衣，裙子也因為自行車的發明而修改成離地面至少有 1 英吋了。請問根據題幹敘述下列何者正確？
(A)服裝的演變往往與經濟生活、社會時尚無關 (B)女性的裙子修改愈短，並不能看出社會風氣愈開放 (C)女性追求服裝行動的便利，顯示出愈來愈多女性喜愛戶外活動 (D)追求時髦是中產階級女性的樂趣，勞動階級的婦女則更喜歡將薪水奉獻於家庭
7. 人類文明發展的開端，男性與女性幾乎都必須擔負著獵捕或採集行為來維持生計，因此最早是母系社會？平權社會？或父系社會？學界都有不同看法，但至何時開始，父權社會幾乎成為多數文明的常態？
(A)農業革命後 (B)文藝復興後 (C)宗教改革後 (D)工業革命後
8. 下面兩段資料為在工業革命的推動下，美國的婚姻家庭呈現一些新的發展趨勢：
資料一：美國各州對於離婚的法律不盡相同，一般來說，大西北地區新加入聯邦的各州比較開放，而東部沿海各州則限制較嚴。於是許多東部怨偶向西跑到離婚限制寬鬆的各州去尋求婚姻自由。
資料二：離婚率上升的原因，表面看來是通姦、拋棄、酗酒、虐待或不承擔責任，然而根本的原因是經濟生活的迅速發展帶來思想觀念的更新。
請問關於這兩段資料的解讀何者正確？
(A)工業革命後，美國東部經濟發展比西部好 (B)工業社會下，美國西部的女性個人自主意識較高 (C)社會風氣進步，男女交往愈趨開放導致離婚率高漲 (D)維繫婚姻的紐帶不再是神聖的責任，而是雙方是否合適
9. 武則天從登上后位到稱帝的過程中，陸續實施諸多政策，如：參與「封禪」，主張女性應參與祭祀；取消父母親服喪期的差異；鼓勵女性參與社會活動、學習書畫等。請問武則天實施這些政策的主要目的為何？
(A)將中國改造為女權社會，打壓男性 (B)試圖提高女性的社會及參政地位 (C)強化儒家的性別尊卑與社會秩序 (D)消除李氏關隴集團的影響力
10. 比較傳統歐洲與中國的女性角色發展，下列敘述何者正確？
(A)前者以女性為主導，後者以男性為主導 (B)中國女性相對於西方女性有較多自主權 (C)中國由於佛教重視眾生平等，所以女權較西方高 (D)若以法律角度視之，西方女性能透過法律，合法取得王位的繼承權
11. 根據一項法國十八世紀末的調查，當時在教育最發達的地區，結婚時能寫出自己姓名的女性只有 29%；在教育不發達區域則有 6~9%。許多能寫自己名字的女性不知道怎麼讀。請問上述文字在呈現下列何種女性權利的必要性？
(A)繼承權 (B)受教權 (C)參政權 (D)離婚權
12. 附圖呈現出西方十九世紀中葉以前的男女教育差異。請問下列相關敘述，何者正確？



(A)兩性之教育均強調愛國心的培養 (B)兩性之教育均強調強身健體 (C)女性教育重視淑女的培養 (D)男性教育重視軍事作戰的培養

13. 清代臺灣是一個以漢人為主體的移墾社會，在其發展過程中，父權主義的禮教傳統也成為民間社會的主流價值。某生走訪各地，欲尋找一個符合前述特質的古蹟景點，請問以下何者最恰當？ (A)板橋林本源園邸 (B)澎湖天后宮 (C)金廣福公館 (D)大甲林氏貞孝坊

14. 中國古代有許多觀念，例如「生男生才能傳宗接代」、「嫁出去的女兒，潑出去的水」、「女生要遵守三從四德」、「女性不能繼承王位」等等。請問上述觀念反映中國傳統社會的何種特色？ (A)重視生產 (B)敬天法祖 (C)男尊女卑 (D)順應自然

15. 以下資料與基督教的女性議題有關：

資料甲：《聖經》形容女性：「她們若要學什麼可以在家裡問自己的丈夫，因為婦女在教會中說話是可恥的。」

資料乙：〈創世紀〉中，夏娃聽了蛇的蠱惑，誘使亞當吃了神不准吃的果實，而被雙雙逐出伊甸園。

分析資料，以下敘述何者正確？ (A)資料甲貶抑女性，資料乙歌頌女性 (B)資料甲歌頌女性，資料乙貶抑女性 (C)兩則資料都歌頌女性 (D)兩則資料都貶抑女性

16. 小敏整理出幾位歐洲與中國歷史上的著名女性政治人物，並製作成下表。

歐洲	中國
卡斯提爾伊莎貝拉一世	西漢呂太后
英格蘭瑪麗一世	西漢竇太后
英格蘭伊莉莎白一世	武周則天大聖皇帝
俄羅斯凱薩琳一世	唐朝韋后
英國維多利亞女王	北宋高太后
	清朝慈禧太后

小敏認為可以透過此表推論歐洲與中國的差異，請問此差異最有可能為何？ (A)中國的女性國君較歐洲普遍 (B)中國的女性地位較歐洲高 (C)歐洲較能接受女性擔任國君 (D)歐洲女性政治領袖的能力較強

17. 歐洲在 15 世紀末到 18 世紀初的這段期間，曾進行過非常多的「獵巫」行動，許多被指控的對象多為寡婦、獨居老婦或單身女性，會有如此針對主要是因為哪一思維的影響？ (A)經濟層面 (B)政治氛圍 (C)宗教思維 (D)理性啟蒙

18. 附圖描繪法國大革命中，遊行的婦女正往凡爾賽宮的方向前進，路上受到許多圍觀者的歡呼。請問下列哪一個理解最為恰當？



(A)繪畫描述的史實有誤，女性並未參加法國大革命 (B)女性參加法國大革命，顯示革命並非男性的專利 (C)法國大革命後，歐洲女性獲得普選權，成為西方女權之始 (D)法國大革命的推動者主要是女性，為重要的女權運動

19. 十七世紀的英國女性幾乎不可能主動提出離婚，僅國會通過特別法，准許因通姦而提出離婚，但每一個離婚案件都須經過議會討論。在 1857 年的前 100 年間，英國只有 4 例離婚的案例，而且過程會因性別而有所不同：男性可因女子通姦而申請離婚，但女性只能在男性通姦且將對象帶回家中共同生活時，才可申請離婚，而且就算因此離婚，陪嫁的財產也不可以帶走。請問文中凸顯女性的何種困境？ (A)天主教會不允許離婚 (B)女性缺乏獨立的經濟權導致離婚困難 (C)男女法律權利的不對等 (D)女性沒有接受教育導致謀生困難

20. 《拿破崙法典》有一條文規定：「已婚婦女置於丈夫從屬地位。丈夫負責保護妻子，妻子應當服從丈夫；未經丈夫同意，妻子不能起訴，沒有丈夫參與或書面同意，妻子不能給予、傳遞、抵押或獲得財產。」針對此條文，下列理解何者最恰當？ (A)革命並未使婦女地位顯著提升 (B)法國婦女恪守優良的家庭傳統 (C)革命的成果具體落實於婦女身上 (D)婦女是法國國族主義的代表

21. 「在倫敦，製造火柴的女工也常同時是果醬女工，女工們在兩種行業的工廠間遊走。然而因為工作不穩定，再加上以賺錢為目標的資本家經常使用不合理的制度剝削她們，因此她們總是生活在飢餓邊緣。此外，這些女工的健康受到嚴重威脅，特別是遭到火柴的原料黃磷感染而中毒，被磷感染的工人會皮膚發黃、頭髮掉落，更嚴重者會變成一種骨癌，最終死亡。」請問上述這段文字，主旨是說明工業革命後的什麼現象？ (A)女工在職場遭遇的不公待遇 (B)因工作環境不平等而展開女權運動 (C)資本家的剝削導致社會主義的出現 (D)女性的工作機會增加

22. 不論媽祖在歷史文獻中，成仙時實為「未婚」的年輕女性，也不論歷代對媽祖的敕封為何，臺灣民間仍習慣稱其為「媽祖」、「媽祖婆」、「聖母」等。請問從信眾對媽祖習慣的稱呼，呈現出何種意義？ (A)媽祖的文獻記載未能廣泛流傳，民間誤以為其為已婚的婦女 (B)歷代皇帝對媽祖的敕封僅能用於官方，民間被禁止使用該稱號 (C)由此可見文獻記載是錯誤

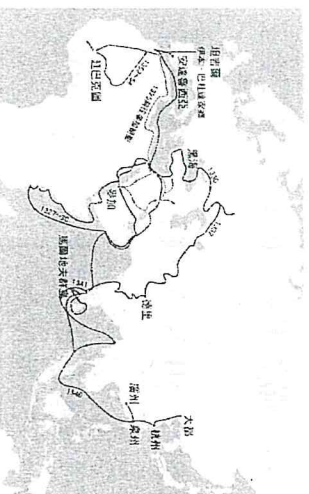
- 的，民間流傳的說法認為媽祖生前已結婚生子 (D)信眾期望媽祖能給予如同母親般慈愛，因而被後世建構成母親的形象
23. 宋代司馬光在家訓中，曾收錄一則五代時的事蹟：「周號州司戶王凝妻李氏，家青齊之間，凝卒於官。家素貧，一子尚幼，李氏攜其子，負其遺骸以歸東，過開封止旅社，主人見其婦人獨攜一子而疑之，不許其宿，李氏顧天已暮，不肯去，主人牽其臂而出之，李氏仰天動曰：『我為婦人，不能守節，而此手為人執耶，不可以一手並巧吾身。』即以斧自斷其臂，路人見者環聚而嗟之，或為之泣。」司馬光收錄此事於家訓中，代表他認為婦女必須遵守何種規範？ (A)婦德 (B)婦言 (C)婦容 (D)婦功

24. 由韓國小說改編的電影《82年生的金智英》，透過女主角金智英的人生，探討韓國女性在生活中受到的各種限制與差別待遇。當這本小說被拍成電影時，引起許多仇女人士的攻擊，不只作者趙南柱遭到眾多網友的辱罵、劇組的宣傳影像遭到大量仇女人士留言洗版，連飾演女主角的演員也遭到網路暴力。甚至還有女大生想邀男友一起去看這部電影，馬上被男友甩了。只要有探討女性議題的作品問世，就會觸動韓國社會的敏感神經、正反雙方的衝突不斷。請問本文的主旨應為下列何者？ (A)黑人權運動對女權運動的影響 (B)女權爭取及其待解決的性別議題 (C)第三性別的法律爭議 (D)第三世界女性主義社會運動

25. 臺灣自 2010 年開始實施《公共場所母乳哺育條例》，婦女在公園、捷運及車站等公共場所餵母乳時，任何人不得制止、驅離或影響哺育，也不得以公共場所已設置哺育乳室為理由，要求婦女前往哺育室哺育母乳，否則將處以罰鍰。2017 年一名臺灣女星在社群軟體上放了一張在火車上親餵母乳的照片，同時寫道：「哺乳是一件健康自然的事，走到哪，餵到哪」，獲得不少粉絲的共鳴。其中有媽媽分享自己在公眾場合餵奶時，遭到異樣眼光與不公待遇。另外也有許多網友批評她只顧餵奶，而在公眾場合毫無遮擋，這樣的行為很自私、有傷風化。請問根據上文所述，其欲表達的議題為何？ (A)法律實施後，社會風氣無法立即產生轉變 (B)法律實施後，所有哺育室一律廢止 (C)法律實施後，使網友轉向支持公開哺乳 (D)法律實施後，社會風氣會立即發生轉變

26. 2007 年的一篇文章如此寫到：根據最新的研究顯示，有一半以上的人相信女性上班族在升職時，會遭遇所謂「玻璃天花板」(glass ceiling) 這類無形的障礙。在西方國家，女性員工占勞動人口的近半數，然而大多從事低層的工作。在公司高層中，女性所占比例少之又少，男性與女性的比例高達 10:1。請問根據題幹敘述，「玻璃天花板」是在指涉女性的何種困境？ (A)生育自主 (B)婚姻自由 (C)職業類別選擇 (D)職場升遷

27. 伊本·巴杜達生於現今摩洛哥吉爾地區的柏柏法律世家，附圖為他在 1325 年開始的旅行路線，行腳遠及俄羅斯、印度與中國，共去過 44 個國家，幾乎走遍了當時的已知世界。僅僅靠著雙腳、驢、馬、駱駝和帆船，伊本·巴杜達竟然旅行了近 12 萬公里，足以環繞地球 3 圈，他很可能是蒸汽機問世前地球上移動距離最長、最見多識廣的人。請問伊本·巴杜達可能最常以何種語言跟當地人溝通？



- (A)希臘語 (B)拉丁語 (C)阿拉伯語 (D)華語

二、題組題(4 小題，28~30 每題 3 分，31~34 每題 2.5 分，共 19 分)

(一)請閱讀下列資料後回答問題：

在德意志帝國時期，工業化和社會生活的現代化，對婚姻構成造成巨大衝擊，其中一個顯著的現象就是離婚率迅速上升，造成離婚率上升的原因主要有兩個：一是人們觀念的改變。隨著向工業社會轉型，個人主義也隨之注入家庭生活。這種「個人主義」意識使人們更常從自己而非「家庭」的角度去作決定。另一個更重要的原因在於，現代工業社會改變了家庭經濟結構，婦女在家庭中的經濟地位發生了變化。在工業化以前，丈夫通常居於一種家長制支配性地位，妻子則是從屬者。她們不敢想像沒有家庭後的那種衣食無著的生活。但在工業社會，舊家庭模式逐漸被打破。在男人走向工廠的同時，愈來愈多的婦女也走出家庭成為職業婦女，經濟上趨於獨立，這就使他們有了在婚姻上說「不」的經濟能力，有了「離婚的經濟可行性」。

28. 根據上文，下列何者為離婚率迅速上升的原因？ (A)個人主義盛行使家庭功能不復存在 (B)工業化社會改變家庭結構，「女主外，男主內」的現象趨於普及 (C)工業革命後家庭不再是女性唯一的經濟依靠 (D)教育程度提高使女性不願再為婚姻奉獻犧牲

29. 關於工業革命對於家庭經濟結構的影響，何者正確？ (A)工業革命以前，家庭兼具社會及經濟功能；工業革命以後，家庭僅剩社會功能 (B)工業革命以前，丈夫擁有家庭支配性地位；工業革命以後，丈夫轉為從屬地位 (C)工業革命以前，丈夫是家中主要經濟支柱者；工業革命以後，女性也有了獨立的經濟能力 (D)工業革命以前，家庭財產歸丈夫所有；工業革命以後，家庭財產為夫妻共有

(二)中國傳統社會中，長期以來受到「男主外，女主內」的觀念影響，教導女性應要遵從三從四德，在家好好相夫教子，不要往外跑。再者，在家務勞動方面，男子成為主要的農業生產者，婦女從事家務勞動，便決定了男女的不平等的地位。財產的所有權屬於男子，婦女的生產物也要歸男子所有。甚至，在人口計算中，女子並不計入戶口中，而新生的嬰兒也是男生是「壯丁」，是勞動力的來源，是傳承家族香火의 來源。最後，以國家領導人為例，中國三千年也僅有西漢的呂后，與唐朝的武則天等少數女性曾掌握權力，其餘的政權仍舊掌握在男性手中。如此可見，中國傳統社會透過政治、文化、經濟規範，將「男尊女卑」深深植入人們的思想中。

請問：

30. 根據上文；中國「男尊女卑」的意識形成，最初主要是因哪一方面的失衡造成？ (A)文化 (B)教育 (C)經濟 (D)政治
31. 承上題，如要扭轉家庭中男女不平等的狀態，下列敘述中何者是最基本的需要？ (A)政府宣傳性別平等 (B)雙方經濟獨立互不從屬 (C)家事應共同分擔 (D)小孩姓氏應經過共同討論

(三)請閱讀下列資料後回答問題：

求子醫方在中古時期大量出現，內容包括以咒符方術或藥草轉胎、調氣養胎，將胎兒性別、品貌優劣加諸於母親，加重母親的辛苦與壓力，但也肯定親生母子身心相連，親密無人能及。能感應母親身心痛痛的兒子會被推崇為孝子，身體感應成為親生母子間的特殊互動。

時人眼中的母儀典範，強調教子以方，能為家國教養賢德之子的母親，受到史傳最多稱揚，無形中加強母親的威嚴與權力。士族門第的維持仰賴高水準的母教，知書達禮、嚴正有則，是此時模範母親的形象。透過母子互動隨機教導，母親的影響力透過兒子，由家庭擴展到社會國家，母親的成就與兒子的成就緊密相連。透過兒子的功名追求，藉由命婦制度來報答母親養育之恩。

儒家強調教子，佛教則是透過常民生活經驗來體現母子關係，全力著墨母親生養子嗣的辛苦。從受孕初期到兒子成人、起家、立業，母親必定經歷過無數生理痛楚與心理牽掛。每個生命從中陰狀態，經由輪迴進入母胎起，便注定負欠母恩，必須回報。佛教以母子關係為核心建構孝道論述，彌補儒家貶抑母子私情、強調父子一體的價值傾向，穩固佛教的社會基礎，強化人子對母親的責任心，並提供抒發情感、回報母恩的管道。

※中陰：佛教用語，生命死亡後到輪迴形成生命之間的過渡型態。

資料出處：鄭雅如，〈中古時期的母子關係—性別與漢唐之間的家庭史研究〉，李貞德主編，《中國史新論：性別史分冊》(臺北：聯經，2009)

32. 整段資料最核心的主旨應為下列何者？ (A)醫藥方術對胎兒性別的轉變 (B)懷孕對於母親身體的影響 (C)母親身教對子嗣人格的培育 (D)母子關係之間的相互連結
33. 依據資料所述，中國中古時期的母親在心理狀態上，可能具有何種共同特徵？ (A)多有貪痴 (B)具成就感 (C)充滿壓力 (D)極富自信
34. 就作者的觀點而論，佛教是以何種方式連結母子關係，並與儒家思想區別？ (A)帶入印度傳統故事用來連結母子 (B)援引西域醫方協助女性成功懷孕 (C)發展寺院形成養育經驗分享場域 (D)藉中陰輪迴強化負欠母恩的概念