

高雄市立鼓山高中 111 學年度第二學期第三次段考《國一》國文科答案卷

1. D
2. D
3. A
4. C
5. B
6. B
7. A
8. C
9. A
10. C
11. D
12. A
13. B
14. C
15. B
16. A
17. B
18. D
19. C
20. C
21. A
22. B
23. D
24. D
25. B
26. D
27. A
28. B
29. A
30. D
31. D
32. C
33. B
34. C

國二國文第三次段考									
1. B	2. A	3. A	4. B	5. B	6. A	7. A	8. A	9. B	10. A
11. A	12. A	13. B	14. A	15. A	16. B	17. D	18. B	19. D	20. C
21. D	22. A	23. D	24. A	25. D	26. A	27. C	28. D	29. B	30. B
31. A	32. A	33. C	34. D	35. C	36. A	37. B	38. A	39. C	40. D
41. C	42. A	43. B	44. D	45. A					

國二國文第三次段考									
1. B	2. A	3. A	4. B	5. B	6. A	7. A	8. A	9. B	10. A
11. A	12. A	13. B	14. A	15. A	16. B	17. D	18. B	19. D	20. C
21. D	22. A	23. D	24. A	25. D	26. A	27. C	28. D	29. B	30. B
31. A	32. A	33. C	34. D	35. C	36. A	37. B	38. A	39. C	40. D
41. C	42. A	43. B	44. D	45. A					

國二國文第三次段考									
1. B	2. A	3. A	4. B	5. B	6. A	7. A	8. A	9. B	10. A
11. A	12. A	13. B	14. A	15. A	16. B	17. D	18. B	19. D	20. C
21. D	22. A	23. D	24. A	25. D	26. A	27. C	28. D	29. B	30. B
31. A	32. A	33. C	34. D	35. C	36. A	37. B	38. A	39. C	40. D
41. C	42. A	43. B	44. D	45. A					

高雄市立鼓山高中 111 學年度第 2 學期第三次段考《國一》英語科閱讀解答

範圍：南一版英語 B2 L5~Review 3 (課本+習作)

(A) 基礎題 (60%)

一、根據文意，填入適當的字詞：12 % (每題 2 分)

1	2	3	4	5	6
map	homework	wait	wrong	dangerous	life

二、圈選出正確的答案：12 % (每個答案 2 分)

1. Karen loves the color red. She <u>always</u> / seldom wears red clothes.
2. Is the hotel across / <u>between</u> the bank and the movie theater?
3. Gina <u>seldom</u> / usually cooks for her family. She does it once in a blue moon.
4. Go <u>straight</u> / fast along the road, and you can see the fish shop near the river.
5. Hank doesn't eat meat. He sometimes / <u>never</u> eats chicken or pork.
6. Bella goes to the night market <u>by</u> / with metro.

三、看圖選單字：16% (每題 2 分)

1	2	3	4	5	6	7	8
A	C	C	B	A	B	B	C

四、看圖完成句子：20 % (每格 2 分)

①	②	③	④	⑤
rides	horse	How	often	times
⑥	⑦	⑧	⑨	⑩
She	walks	once	a	month

(B) 挑戰題 (40%)

五、克漏字選擇測驗：10% (每題 2 分)

1	2	3	4	5
D	C	B	C	D

六、閱讀測驗：30% (每題 3 分)

1	2	3	4	5	6	7	8	9	10
D	C	B	D	C	C	D	B	C	D

高雄市立鼓山高中 111 學年度第 2 學期第三次段考《國二》英語科答案

範圍：康軒版英語 B4 L5~Review 3 (課本+習作)

一、文意字彙 (20% 每題 2 分)

1 fork	2 point	3 covered	4 arms	5 lights
6 abroad	7 dangerous	8 correct	9 entered	10 deep

二、文法選擇 (20% 每題 2 分)

1 B	2 D	3 B	4 A	5 A
6 D	7 C	8 C	9 B	10 D

三、對話選擇 (15% 每題 3 分)

1 A	2 D	3 B	4 C	5 D
-----	-----	-----	-----	-----

四、引導式翻譯及合併改寫句子(15% ①~⑤每格 2 分、第 3 題 2 分、第 4 題 3 分)

1① ended	② up	
2③ fewer	④ break	⑤ down
3 Not only I but also my brother plays soccer well.		
4 Jenny still eats a lot of fast food although it is bad for her health.		

五、閱讀題組 (30% 每題 3 分)

1 A	2 C	3 D	4 C	5 A
6 B	7 B	8 C	9 D	10 A

高雄市立鼓山高中 111 學年度第 2 學期第三次段考《國一》英語科聽力解答卷

【聽力共 100 分。配分：1~10 → 每題 4 分；11~30 → 每題 3 分】

1	2	3	4	5	6	7	8	9	10
A	C	C	B	A	B	A	A	C	B
11	12	13	14	15	16	17	18	19	20
C	A	A	C	B	B	C	C	C	C
21	22	23	24	25	26	27	28	29	30
B	C	B	A	C	B	A	C	C	B

高雄市立鼓山高中 111 學年度第二學期第三次段考《國一》數學科答案卷

考試範圍：第二冊 4-1~5-2

答案請寫在答案卷上

班 號 姓名

一、選擇題：每題 5 分，共 40 分

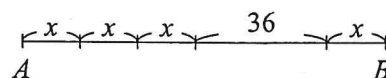
1	2	3	4	5	6	7	8
C	D	A	C	B	D	B	D

二、填充題：每格 5 分，共 50 分

1.	2.	3.	4.
$x > -2$	$x \geq 4$	$x \leq 6$	7
5.	6.	7.	8.
2	50	160	10
9.	10.		
100	17		

三、計算題：每題 5 分，共 10 分(需寫出計算過程)

1. 如圖，已知 $\overline{AB} > 100$ ，則 x 的範圍為何？



答： $x > 16$

2. 公園裡有一群遊客，以他們的年齡由左而右、由小而大做成次數分配表如右表，若又知他們的平均年齡是 15 歲，年齡的中位數是 13 歲，眾數是 10 歲，則 $a+b+c = ?$

年齡(歲)	a	12	b	15	16	c
次數(人)	3	1	1	1	2	1

答：56

高雄市立鼓山高中 111 學年度第二學期第三次段考《國二》數學科作答卷

考試範圍：第四冊 3-4-4-3

____年____班____號 姓名_____

一、單選題：（每題 4 分，共 40 分）

1	2	3	4	5	6	7	8	9	10
A	C	D	B	A	C	B	D	D	C

二、填充題：（每格 4 分，共 40 分）

(1)	(2)	(3)	(4)	(5)
10	$\frac{120}{17}$	70	$\overline{AD} > \overline{CD} > \overline{AC} > \overline{BC} > \overline{AB}$	≥ 7
(6)	(7)	(8)	(9)	(10)
20	72	$10\sqrt{2} + 26$	≥ 6	50

三、計算題：（共 20 分，需有說明或計算過程）

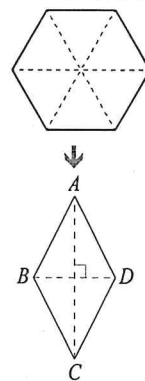
1. 在進行家政課程的「花布拼貼」單元時，小惠發現 6 個全等的正三角形布料可拼貼成 1 個大的正六邊形，

取 2 個布料則可拼貼成 1 個菱形 ABCD 如右圖。若 \overline{AB} 長為 8 公分，則：

(1) $\angle A$ 為幾度？（4 分）

(2) 菱形 ABCD 的面積為多少平方公分？（4 分）

(1) 60° (2) $32\sqrt{3} \text{ cm}^2$

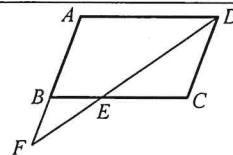


2. 右圖的 ABCD 為平行四邊形， \overline{DF} 平分 $\angle ADC$ ， $\overline{AF} = 14$ ， $\overline{CD} = 9$ ， $\angle AFD = 35^\circ$ ，則：

(1) $\angle C$ 幾度？（4 分）

(2) $\square ABCD$ 周長是多少？（4 分）

(1) 110° (2) 46



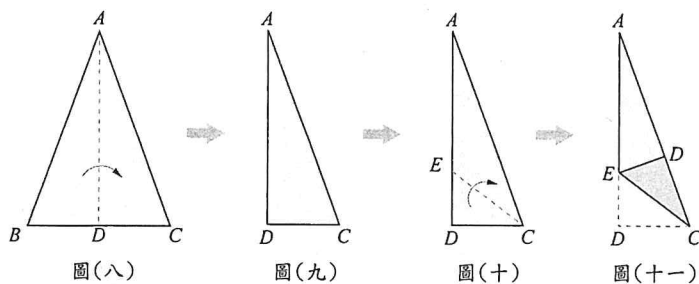
3. 如圖(八)， $\triangle ABC$ 為等腰三角形， $\overline{AB} = \overline{AC} = 13$ ， $\overline{BC} = 10$ ，

(1) 將 \overline{AB} 向 \overline{AC} 方向摺過去，使得 \overline{AB} 與 \overline{AC} 重合，出現摺線 \overline{AD} ，如圖(九)，

(2) 將 \overline{CD} 向 \overline{AC} 方向摺過去，如圖(十)，使得 \overline{CD} 完全疊合在 \overline{AC} 上，出現摺線

\overline{CE} ，如圖(十一)，則 $\triangle AEC$ 的面積為何？（4 分）

$\frac{65}{3}$



國一地理月考答案

1D	2B	3B	4D	5A
6D	7B	8C	9D	10B
11D	12D	13D	14B	15C
16C	17A	18D	19D	20D
21A	22D	23D	24B	25B
26C	27B	28D	29C	30C
31A	32D	33C	34A	35B
36A	37D	38C	39B	40A

國二地理月考答案

1D	2C	3A	4B	5D
6C	7A	8D	9B	10B
11C	12C	13B	14C	15C
16D	17B	18D	19C	20A
21D	22A	23C	24C	25B
26C	27D	28B	29C	30A
31D	32B	33B	34D	35D
36A	37A	38C	39C	40B

高雄市立鼓山高中 111 年度第二學期第三次段考《國一》歷史科試題卷

考試範圍：第 2 冊第 5.6 課 p.103-117

電腦讀卡代碼：04

____年____班____號 姓名_____

答案欄

選擇題：每題 2.5 分，共 100 分

1 A	2 A	3 B	4 C	5 A	6 B	7 D	8 C	9 B	10 A
11 D	12 B	13 D	14 C	15 D	16 A	17 D	18 C	19 D	20 A
21 C	22 D	23 A	24 D	25 B	26 A	27 B	28 C	29 B	30 C
31 C	32 A	33 B	34 D	35 C	36 A	37 B	38 B	39 C	40 D

高雄市立鼓山高中(國中部)111 學年度第二學期第三次段考《國二》歷史科答案卷

一、選擇：(每題 4 分，共 88 分)：

1.C 2.B 3.B 4.B 5.D

6.C 7.D 8.B 9.B 10.A

11.C 12.B 13.A 14.C 15.B

16.A 17.B 18.A 19.C 20.D

21.C 22.C 23.D 24.B 25.B

鼓山高中國中部 111 學年度第二學期一年級公民科第三次月考解答

1. C	2. C	3. A	4. D	5. A	6. D	7. D	8. C	9. D	10. A
11. A	12. A	13. D	14. D	15. B	16. B	17. A	18. B	19. D	20. C
21. A	22. D	23. B	24. A	25. C	26. B	27. A	28. B	29. B	30. C
31. A	32. B	33. D							

鼓山高中國中部 111 學年度第二學期二年級公民科第三次月考解答

1. B	2. A	3. A	4. B	5. A	6. A	7. B	8. B	9. B	10. A
11. D	12. B	13. D	14. D	15. D	16. B	17. B	18. B	19. D	20. B
21. C	22. D	23. B	24. A	25. D	26. C	27. B	28. B	29. C	30. B

高雄市立鼓山高中 111 學年度第二學期第三次段考《國一》自然科解答卷

考試範圍：4-1~5-3

電腦讀卡代碼：12

____年____班____號 姓名_____

一、選擇題（每題 2 分，共 80 分）

1-10. DAABB ADACA

11-20. DBCCA CBCBC

21-30. BADDD ACABB

31-40. DCCCD ACCCB

二、題組題（每題 2 分，共 20 分）

41-44. ACDD

45-50. CCBBD C

鼓山中學 110 學年度第二學期第三次段考(國二)自然科解答卷

一、基本題(每題 2 分，共 40 分)

- | | |
|-------|-------|
| 1. D | 11. D |
| 2. A | 12. B |
| 3. C | 13. B |
| 4. A | 14. C |
| 5. B | 15. B |
| 6. A | 16. C |
| 7. A | 17. D |
| 8. D | 18. A |
| 9. D | 19. D |
| 10. C | 20. D |

二、進階題(每題 3 分，共 48 分)

- | | |
|-------|-------|
| 21. A | 31. D |
| 22. D | 32. D |
| 23. A | 33. B |
| 24. D | 34. B |
| 25. B | 35. A |
| 26. B | 36. C |
| 27. B | |
| 28. B | |
| 29. A | |
| 30. B | |

三、題組(每題 2 分，共 12 分)

37. B
38. A
39. D
40. D
41. C
42. D

高雄市立鼓山高中 111 學年度第二學期第三次段考《國一》健教科答案卷

考試範圍：p72-p91

電腦讀卡代碼：14

班級： 座號：

姓名：

一、單選題 25 題每題 4 分共 100 分

1. (C) 家暴受害者應有下列哪一個觀念才正確？ (A)繼續隱忍 (B)全都是我的錯 (C)站出來勇於求助 (D)施暴者不是故意的。
2. (C) 「問了就要認真聽，這是尊重對方的表現，要確實聽進心裡，以了解對方想法。」上述屬於下列哪一個溝通技巧？ (A)了解需求 (B)詢問了解 (C)認真傾聽 (D)選對時機。
3. (B) 許多家暴受害者選擇委曲求全，是因為下列哪一個原因？ (A)害怕丟臉 (B)維護家庭完整 (C)缺乏獨立自主的能力 (D)施暴者以其他家人的安危威脅受害者。
4. (D) 遇到同學被霸凌，下列哪一個行為正確？ (A)裝不知道 (B)漠不關心 (C)一起加入霸凌行為 (D)向學校師長或家人反映。
5. (B) 「盡量客觀，不預設立場，了解對方的狀況、情緒與需求。」上述屬於下列哪一個溝通技巧？ (A)了解需求 (B)詢問了解 (C)認真傾聽 (D)選對時機。
6. (C) 家人衝突時，不願意說出自己真正的想法。請問這屬於家庭衝突中，哪一種溝通問題？ (A)自我中心 (B)先入為主翻舊帳 (C)逃避溝通 (D)間接溝通。
7. (B) 「彼此各退一步以達成共識，找到雙方都能接受的方案。」上述屬於下列哪一個溝通技巧？ (A)了解需求 (B)雙贏方案 (C)認真傾聽 (D)選對時機。
8. (B) 妮妮想讓自己在他人面前表現得很得體，應當做到以下何者？ (A)堅持個人特色，絕不妥協 (B)注意並尊重他人感受 (C)把他人的批評奉為聖旨 (D)隱藏自己的真實感受。
9. (A) 和家人產生衝突時，選擇氣氛輕鬆或彼此情緒穩定的時間溝通。請問這屬於解決家庭衝突中，哪一種溝通祕訣？ (A)選對時機 (B)詢問了解 (C)認真傾聽 (D)了解需求。
10. (C) 當自己因疏忽犯錯而受媽媽責罵時，應如何處理較為恰當？ (A)進房用力甩門 (B)發脾氣遷怒爸爸 (C)冷靜思考自我反省 (D)賭氣不跟媽媽說話。
11. (B) 小小在班上身高最矮，常被同學取笑而感到沮喪，我可以怎麼做讓他的心情變好？ (A)跟著其他同學一起取笑他 (B)安慰他，誇獎他其他優點 (C)當作沒聽到，不關我的事 (D)除了身高，還拿其他的缺點來嘲笑他。
12. (C) 遇到事情冷靜，不發脾氣，有一定自我控制的能力，這屬於下列哪種面對衝突的方式？ (A)延後處理 (B)針對問題討論 (C)冷靜下來 (D)真正溝通。
13. (D) (甲)不打不成器 (乙)受害者必然有錯在先，才會受害 (丙)受害者不只有女性，男性也可能是受害者 (丁)勇於報警才可終止暴力的發生 以上對於家庭暴力之敘述何者正確？ (A)甲乙 (B)乙丙 (C)乙丁 (D)丙丁。
14. (C) 曉鈴：「每當我的弟弟、妹妹遇到挫折，我會陪伴、安慰他們以表示支持。」請問：曉鈴的行為最符合哪種促進家庭和諧的方法？ (A)遵守家庭規範 (B)面對衝突願意溝通 (C)陪伴家人 (D)共同分擔家務。
15. (D) 少韋每天早上起床後，會將自己的棉被摺好；也會幫忙將摺好的衣服歸位。請問：少韋的行為最符合哪種促進家庭和諧的方法？ (A)遵守家庭規範 (B)面對衝突願意溝通 (C)陪伴家人 (D)共同分擔家務。
16. (D) 曉鈴對小騰擅自決定表演內容的舉動相當氣惱，說了一些難聽的話，此時小騰應該怎麼回應較為適當？ (A)充耳不聞不予理會 (B)反唇相譏施以反擊 (C)馬上轉身離開 (D)深呼吸並等待對方情緒平緩後再談。
17. (C) 在家人有好表現與成果時，應採取下列哪一個行為才正確？ (A)諷刺 (B)不滿 (C)讚美 (D)潑冷水。
18. (A) 下列哪種行為可以增進人際關係？ (A)對於朋友能做善意的提醒，幫助其改過向善 (B)凡事唯唯諾諾聽從別人意見 (C)對任何事情都要講贏別人 (D)對於別人的想法不願意接納理解。
19. (A) 大米對於班上活動都能百分百投入，並且積極和同學討論班級事務，他的表現符合下列何種增進人際關係的策略？ (A)積極參與班上活動 (B)尊重他人 (C)主動關懷他人 (D)自我肯定拒絕。
20. (B) 下列何者是網路霸凌的特色？ (A)速度慢 (B)管道多 (C)殺傷力小 (D)網路警察無法追查 IP。
21. (A) 下列何者是增進人際關係最恰當的方法？ (A)發自內心，誠心的讚美他人 (B)多批評別人的缺點，顯示自己的才能 (C)同學生日送貴重禮物 (D)打扮怪異，吸引目光。
22. (A) 小空的哪種行為可以表達對家人的關懷？ (A)送給媽媽母親節卡片 (B)哥哥感冒倒冰水給他喝 (C)爸爸問話當沒聽到的離開 (D)總是抱怨阿公走路慢。
23. (C) 小華因為明華撞壞他喜愛的鉛筆盒而生氣，他可以利用哪幾項方式來控制情緒？ (甲)倒杯水，喝水緩和一下 (乙)將明華的鉛筆盒摔壞來發洩情緒 (丙)徵求明華同意，離開一下，到室外動一動轉移一下注意力 (丁)深呼吸 (戊)跟老師告狀 (A)五項 (B)四項 (C)三項 (D)兩項。
24. (C) 小芷：「我和家人發生衝突時，願意找方法和他們溝通。」請問：小芷的行為最符合哪種促進家庭和諧的方法？ (A)家人一起從事活動 (B)表達對家人的關懷 (C)適當處理家庭衝突 (D)勇於表達感情。
25. (D) 小湘：「我記得家中每個人的生日，並在他們生日當天準備卡片慶祝。」請問：小湘的行為最符合哪種促進家庭和諧的方法？ (A)家人一起從事活動 (B)和家人理性溝通 (C)適當處理家庭衝突 (D)勇於表達感情。

國二健教月考答案

1B	2A	3C	4A	5C
6D	7B	8A	9C	10D
11C	12A	13C	14D	15A
16C	17C	18D	19D	20B
21C	22A	23A	24B	25A
26B	27D	28A	29D	30D
31C	32A	33C	34D	35C
36B	37C	38B	39A	40B
41○	42✕	43✕	44○	45✕
46○	47○	48✕	49○	50✕