

高雄市立鼓山高中(國中部)113學年度第二學期第一次段考《國一》

歷史科答案卷

考試範圍:L1~L2

電腦讀卡代碼:04

一、選擇:(每題4分,共76分):

- 1.D 2.D 3.B 4.D 5.A
6.C 7.D 8.C 9.C 10.C
11.B 12.B 13.B 14.C 15.D
16.D 17.C 18.D 19.B

二、題組:(每個答案4分,共24分):

- 20.D 21.C 22.C
23.B 24.A 25.B

高雄市立鼓山高中(國中部)113學年度第二學期第一次段考《國二》

歷史科答案卷

考試範圍:L1~L2

電腦讀卡代碼:04

一、選擇:(每題4分,共100分):

- 1.D 2.D 3.B 4.A 5.B
6.B 7.B 8.B 9.C 10.B
11.A 12.D 13.C 14.C 15.A
16.D 17.A 18.D 19.D 20.D
21.B 22.A 23.C 24.D 25.C

高雄市立鼓山高中(國中部)113學年度第二學期第一次段考《國三》歷史科答案卷

考試範圍:L1~L2

電腦讀卡代碼:04

- 1.(A) 2.(A) 3.(A) 4.(B) 5.(C) 6.(A) 7.(B) 8.(A) 9.(C) 10.(D)
11.(B) 12.(C) 13.(C) 14.(C) 15.(B) 16.(B) 17.(C) 18.(B) 19.(D) 20.(D)
21.(D) 22.(D) 23.(A) 24.(B) 25.(A) 26.(B) 27.(B) 28.(C) 29.(C) 30.(A)
31.(A) 32.(C) 33.(B) 34.(B) 35.(B) 36.(C) 37.(B) 38.(B) 39.(D) 40.(D)
41.(C) 42.(D) 43.(C) 44.(C) 45.(D) 46.(A) 47.(B) 48.(B) 49.(A) 50.(D)

高雄市立鼓山高中113學年度第二學期第一次段考《國三》自然科解答卷

考試範圍：1、2章

電腦讀卡代碼：12

年 班 號 姓名

一、選擇題：（每題2分，共100分）

- 01-10. BDCBD AABAB
11-20. BCDCA BD added
21-30. CCDA B added
31-40. ABBCD BCACA
41-50. ADBBC ACAAB

高雄市立鼓山高中 113 學年度第二學期第一次段考《國一》自然科解答卷

考試範圍：1、2章

電腦讀卡代碼：12

年 班 號 姓名

一、選擇題：（每題2分，共100分）

- 01-10. DACCC ADDCD
11-20. CDCBB CDBDB
21-30. DBCDA BBABD
31-40. ABAAA DDACB
41-50. CBABA BDADB

鼓山中學 113 學年度第二學期第一次段考(國二)自然科解答卷

一、基本題(每題 2 分，共 40 分)

1. B 11. C
2. C 12. A
3. B 13. B
4. D 14. B
5. A 15. C
6. D 16. A
7. B 17. D
8. B 18. D
9. B 19. B
10. A 20. C

二、進階題(每題 3 分，共 48 分)

21. B 31. A
22. C 32. C
23. C 33. B
24. D 34. B
25. A 35. A
26. A 36. A
27. D
28. B
29. C
30. D

三、題組(每題 2 分，共 12 分)

37. B
38. B
39. C
40. B
41. A
42. A

高雄市立鼓山高級中學中國中部113學年度第2學期第1次段考一年級地理科試題

考試範圍：第二冊1、2章

班級：

座號：

姓名：

科目代碼：05

一、單選題（每題4分，共100分）

1. (D)地理老師的先生是台北市老松國小的畢業生，這所學校發生了什麼事？(A)曾經創下世界紀錄多達11000多人(B)50年代時因為教室不夠用，須分上午、下午時段上課(C)現在只剩500多人(D)以上皆是
2. (B)鼓山國總人口1000萬人，今年有5萬位新生兒。請問出生率(A)2.5‰(B)5‰(C)10‰(D)15‰
3. (B)鼓山國總人口1000萬人，今年有6萬人過世。請問死亡率為(A)3‰(B)6‰(C)12‰(D)16‰。
4. (A)承2、3題，請問鼓山國自然增加率為(A)-1‰(B)1‰(C)-11‰(D)11‰。
5. (B)鼓山國總人口1000萬人，今年有1萬人移入。請問移入率為(A)-1‰(B)1‰(C)-10‰(D)10‰
6. (B)鼓山國總人口1000萬人，今年有5000人移出。請問移出率為(A)-0.5‰(B)0.5‰(C)-1‰(D)1‰
7. (A)承5、6題，請問鼓山國社會增加率為(A)0.5‰(B)-0.5‰(C)1‰(D)-1‰。
8. (B)承2-7題，請問鼓山國人口增加率為(A)0.5‰(B)-0.5‰(C)1‰(D)-1‰。
9. (A)如果用附圖中水池裡進水與出水的情形，來比喻一個地區人口數量的變化，下列敘述何者正確？(A)一地人口成長只受到進水量的影響(B)一地人口增加表示排水量大於進水量(C)一地人口減少表示進水量大於排水量(D)一地人口總數不變表示進水量等於排水量。
-
10. (B)臺灣在戰後初期，有為數不少的中國軍民遷移來臺，此對臺灣社會造成下列何種現象？(A)移入率下降(B)移入率上升(C)死亡率上升(D)出生率下降。
11. (B)臺灣社會於一九九〇年代以來，出生率逐漸接近死亡率，甚至低於死亡率。此現象將為臺灣社會帶來什麼影響？(A)出生率降低，減輕社會壓力(B)出生率降低，人口成長漸趨停滯(C)人口成長快速，將抵銷經濟成果(D)人口成長快速，導致人口老化情形嚴重。
12. (C)根據國發會預估，2025年老年人口成長至469萬人，占總人口比率將於2025年超過20%、正式進入(A)高齡化(B)高齡(C)超高齡社會
13. (D)內政部公布的統計資料顯示，2024年新生兒數13萬4856人，比2023年減少715人，創下內政部統計以來新生兒人數的新低。請推估生育率低的原因(A)經濟壓力大(B)晚婚(C)不婚(D)以上皆是
14. (B)臺灣的生育政策在不同的時期有不同的目標，因此生育口號也隨之不同。內政部在西元2010年時曾舉辦「生育口號百萬徵選活動」，經由網路票選第一名者可得一百萬獎金，民眾因此也熱烈投稿迴響。請問：以下在這些口號當中，何者最有可能入圍本次的活動？(甲)有子有女「好」幸福(乙)人生要美好，養兒育女不可少(丙)連續生育不太好，延緩出生是王道(丁)多生寶貝，寶貝臺灣。(A)甲乙丙(B)甲乙丁(C)甲丙丁(D)乙丙丁。
15. (D)世界人口的性別比約為1.04，行政院2024年性別圖像的數據顯示，台灣自2013

年起女性總人口超越男性，請問女性性別數值為 (A)99(B)100(C)101(D)102

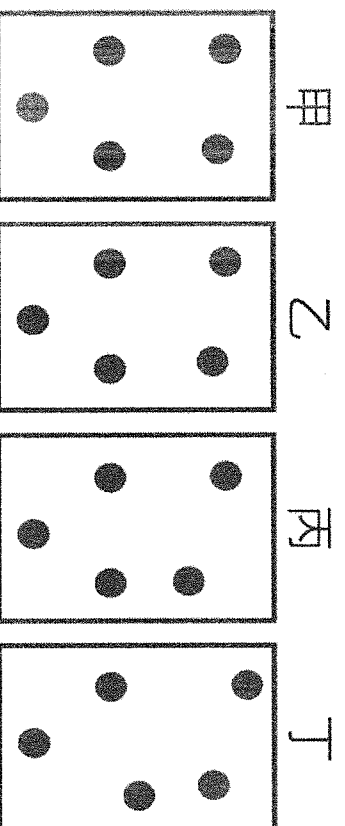
16. (A) 2025 年 1 月，男性人口為 1,152 萬 3,083 人，女性人口則為 1,187 萬 2,966 人，請問性別比約為多少 (A)97(B)99(C)100(D)102

17. (C) 地區的人口分布深受自然環境與產業活動影響，其中哪一大洲因境內無沙漠且地形相對平坦，加上工業發達，使得人口密度高，也是全世界口分布最平均的大洲？ (A)亞洲 (B)非洲 (C)歐洲 (D)大洋洲。

18. (D) 根據中華民國內政部統計，臺灣總人口於 2025 年 2 月的統計數字為 23,384,614 人，台灣面積 36000 平方公里，請算出台灣的人口密度約每平方公里幾人 (A)300 (B)400 (C)500 (D)600。

19. (D) 附圖為四個地區的假想人口分布圖。哪個地區最可能出現住屋不足的問題？ (A)甲 (B)乙 (C)丙 (D)丁。

說明：每點代表 10000 人



20. (D) 為製作「民國 114 年高雄市鼓山區的人口金字塔圖」，需要蒐集到下列哪些資料？ (A)職業別、性別比(B)教育程度比例、性別比(C)自然增加率、社會增加率(D)各年齡層的人口比例與性別比。

21. (A) 在計算一地的扶養比時，會把下列何者視為從事生產的主要人力？ (A)60 歲的男性 (B)70 歲的女性 (C)14 歲的男性 (D)66 歲的女性。

22. (A) 請問從高雄至台北求學屬於哪一種類型遷移(A)國內暫時(B)國內永久(C)國際暫時(D)國際永久

23. (D) 請問從雲林移民加拿大屬於哪一種遷移(A)國內暫時(B)國內永久(C)國際暫時(D)國際永久

24. (D) 請問自越南嫁來台灣屬於哪一種遷移(A)國內暫時(B)國內永久(C)國際暫時(D)國際永久

25. (C) 請問來自菲律賓的移工屬於哪一種遷移(A)國內暫時(B)國內永久(C)國際暫時(D)國際永久

考試範圍：第二冊 1、2 章


班級：座號：

姓名：

科目代碼：05

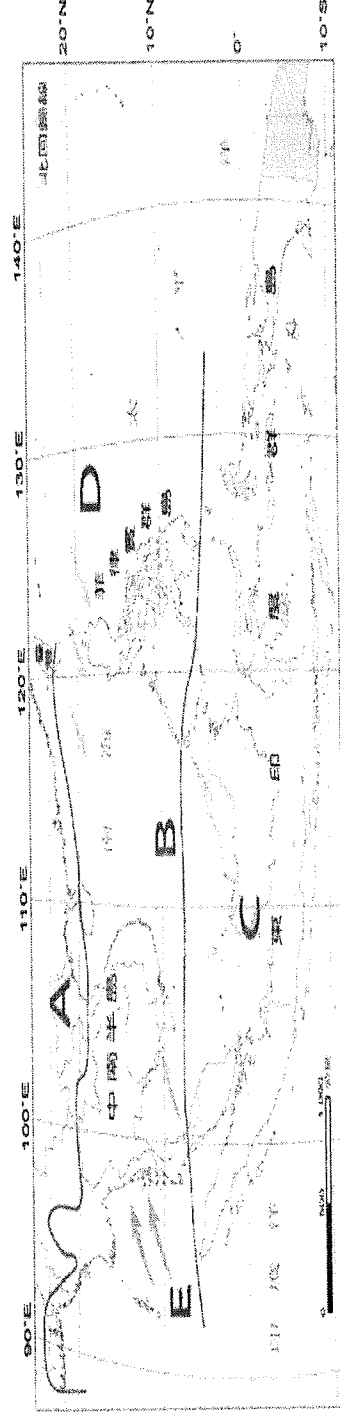
一、填圖題（1-26 題）每題 3 分

(一)有關東南亞國家(甲至子為國家、A 至 B 為海洋)

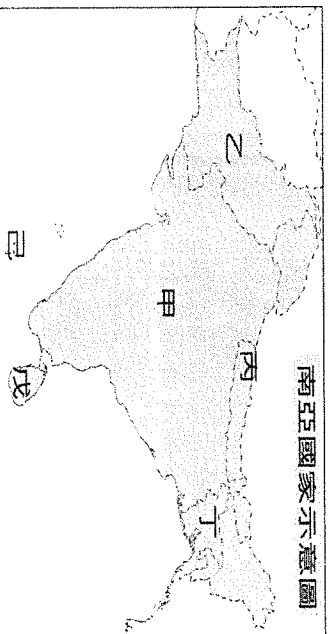


1. (D) 請問中南半島唯一的內陸國戊為 (A) 越南 (B) 寮國 (C) 柬埔寨 (D) 泰國。
2. (D) 請問中南半島和中國為鄰的佛教國家丁為 (A) 越南 (B) 寮國 (C) 柬埔寨 (D) 緬甸。
3. (D) 請問中南半島以佛教為國教的國家丙為 (A) 越南 (B) 寮國 (C) 柬埔寨 (D) 泰國。
4. (C) 請問中南半島以吳哥窟古蹟聞名的國家乙為 (A) 越南 (B) 寮國 (C) 柬埔寨 (D) 泰國。
5. (A) 請問中南半島受中國文化的影響最深的國家甲為 (A) 越南 (B) 寮國 (C) 柬埔寨 (D) 泰國。
6. (A) 請問南洋群島掌握麻六甲海峽的國家辛為 (A) 新加坡 (B) 帝汶 (C) 東帝汶 (D) 菲律賓。
7. (C) 請問南洋群島最年輕的國家子為 (A) 新加坡 (B) 帝汶 (C) 東帝汶 (D) 菲律賓。
8. (D) 請問南洋群島以天主教為國教的國家癸為 (A) 新加坡 (B) 帝汶 (C) 東帝汶 (D) 菲律賓。
9. (B) 請問南洋群島富產石油的小國壬為 (A) 新加坡 (B) 帝汶 (C) 東帝汶 (D) 菲律賓。
10. (A) 請問南洋群島擁有兩萬以上島嶼的國家庚為 (A) 印尼 (B) 帝汶 (C) 東帝汶 (D) 菲律賓。
11. (B) 請問南洋群島錫礦資源豐富的國家己為 (A) 新加坡 (B) 馬來西亞 (C) 東帝汶 (D) 菲律賓。
12. (B) 請問發生於 2004 年亞大海嘯真實故事並改編為電影【浩劫奇蹟】的拍攝場景在 (A) A (B) B
13. (A) 請問東南亞諸國和中國有島嶼之爭的海域在 (A) A (B) B

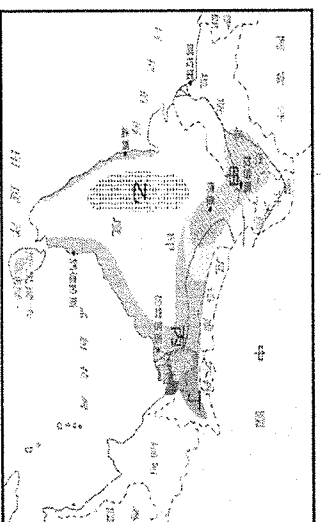
(二)有關東南亞氣候



14. (B) 請問上圖 A 為何種氣候 (A) 熱帶雨林 (B) 副熱帶季風 (C) 熱帶季風 (D) 熱帶莽原。
 15. (C) 請問上圖 B 為何種氣候 (A) 熱帶雨林 (B) 副熱帶季風 (C) 熱帶季風 (D) 熱帶莽原。
 16. (A) 請問上圖 C 為何種氣候 (A) 熱帶雨林 (B) 副熱帶季風 (C) 熱帶季風 (D) 熱帶莽原。
 17. (A) 請問上圖 D 為何種風向 (A) 東北 (B) 西北 (C) 東南 (D) 西南。
 18. (D) 請問上圖 E 為何種風向 (A) 東北 (B) 西北 (C) 東南 (D) 西南
 (三) 附圖一為南亞國家



附圖一



附圖二

19. (A) 為珊瑚礁島，旅遊業與漁業為其經濟重心。(A) ~~B~~ (B) ~~C~~ (C) 丙 (D) 丁
 20. (C) 舊稱錫蘭，紅茶為其特產。(A) ~~甲~~ (B) ~~B~~ (C) 丙 (D) ~~丁~~ ~~C~~
 21. (C) 喜馬拉雅山脈成為該國與中國的天然國界 (A) 甲 (B) 乙 (C) 丙 (D) 丁
 22. (D) 位於恆河出海處，地勢低窪，夏季水患嚴重。(A) 甲 (B) 乙 (C) 丙 (D) 丁
 (四) 附圖二為南亞農業分布圖。甲～丁代表不同作物分布區。請問：
 23. (B) 阿薩姆紅茶產地 (A) 甲 (B) 乙 (C) 丙 (D) 丁
 24. (C) 稻米產地 (A) 甲 (B) 乙 (C) 丙 (D) 丁
 25. (B) 棉花產地 (A) 甲 (B) 乙 (C) 丙 (D) 丁
 26. (B) 小麥、小米產地 (A) 甲 (B) 乙 (C) 丙 (D) 丁
 一、選擇題 (27-34 題) 27-33 每題 3 分，第 34 題 1 分
 27. (A) 東南亞脫離西方殖民帝國統治後，仍以出口農、礦產品等原料作為經濟發展的主力，但貿易利潤微薄，經濟發展陷入困境。請問：產生此現象的主要原因為何？(甲) 缺乏資金與技術，產量難以大幅提升 (乙) 礦產開發技術多操控在東南亞國家本身 (丙) 原料價格受國際市場影響極大 (丁) 勞力薪資提升，成本提高 (A) 甲 乙 (B) 甲 丙 (C) 甲 丁 (D) 丙 丁。
 28. (A) 柬埔寨吳哥窟結合印度教文化、越南河內孔廟以漢字撰寫匾額，上述現象的形成與哪一個因素最相關？(A) 地理位置 (B) 季風風向 (C) 地勢起伏 (D) 河流流向。
 29. (A) 南亞最著名的電影工業基地寶萊塢位於哪一個國家？(A) 印度 (B) 泰國 (C) 汶萊 (D) 新加坡。
 30. (C) 美國的電腦軟體公司和印度分公司合作研發，利用時差縮短研發時間，這和兩地的哪一項特性最有關係？(A) 緯度高低不同 (B) 緯度位置相近 (C) 經度差距較大 (D) 經度位置相同。
 31. (D) 天主教教宗訪視東南亞某國，該國民眾有超過八成信奉天主教，教宗訪視祝福這個多火山、颱風的國家能安然度過每一次的天災。上述這個國家為何？(A) 印尼 (B) 泰國 (C) 新加坡 (D) 菲律賓。
 32. (C) 巴基斯坦與斯里蘭卡，因某一地理優勢而成為中國推動「一帶一路」積極拉攏的對象，此一地理優勢為 (A) 天然資源豐富 (B) 勞動力充沛 (C) 亞、歐的海陸運中繼位置 (D) 糧食資源充足。
 33. (C) 印度半島和臺灣一樣都有北回歸線經過，但臺灣冬季較為寒冷，而印度半島冬季卻較溫暖。請問：造成這種氣候現象的主因為 (A) 陸地面積廣 (B) 沿海暖流調節 (C) 北有高山屏障 (D) 人口數量較多。
 34. (C) 印度半島氣候分為三季，這種季節交替的原因為何？(甲) 洋流流動 (乙) 地形差異 (丙) 季風風向 (丁) 距海遠近 (A) 甲 乙 (B) 甲 丁 (C) 乙 丙 (D) 丙 丁。

科目代碼：05

一、單選題（每題 3 分，第 34 題 1 分，共 100 分）

1. (D) 彰化縣、雲林縣曾經是臺灣傳統水稻、甘蔗的主要分布區域，近年來逐漸轉作花卉蔬果專業區，此種農作物的轉變，與下列何項因素關係最密切？
(A) 農業技術先進 (B) 採取機械耕作 (C) 擴大耕種面積 (D) 市場需求導向。
2. (B) 目前我們對基因改造食品對人體可能產生的影響所知有限，因此其原料須於上市前通過審核，目前衛福部選定下列何種作物作為優先管制？ (A) 燕麥 (B) 玉米 (C) 地瓜 (D) 馬鈴薯。
3. (B) 對於基因改造食品的出現，應採取下列哪一原則，方可保持農業能永續發展？
(A) 大量砍伐森林 (B) 維持生態平衡 (C) 實施糧產改革 (D) 更新生產技術。
4. (B) 民國 100 年塑化劑、民國 102 年毒澱粉、民國 103 年餿水油等事件發生，哪一議題吸引民眾的關心注意？(A) 糧食安全 (B) 食品安全 (C) 國防安全 (D) 交通安全。
5. (A) 「食物里程」是指食物從生產地送到消費者手中的運送距離。某企業的老闆在臺中市舉辦年終尾牙宴時，為響應節能減碳、降低汙染的環保政策，於是考量食物里程來選用水果。若皆以相同款式的貨車運送，選用下列哪一產地直銷的水果，最能符合該老闆的想法？(A) 雲林的柳丁 (B) 屏東的蓮霧 (C) 宜蘭的番茄 (D) 高雄的芭樂。
6. (C) 111 年臺灣蘭花生物科技園區正式成立，希望未來結合專業研發技術、地方產銷量能、外貿協會通路等多方資源，提供生產、檢疫、冷鏈、出口一條龍的服務，栽培出更具國際競爭力的蘭花。根據上述，蘭花產業屬於何種農業類型(A)傳統農業(B)休閒農業(C)精緻農業(D)自給式農業。
7. (D) 若要了解食品的生產、加工、流通、銷售等各階段紀錄，採用下列哪種方式最適合？
(A) 打電話問農業部(B)親自到加工廠訪問(C)網路搜尋生產來源(D)掃描產銷履歷條碼
8. (B) 市面上的香腸、臘肉等紅肉加工食品，經常添加亞硝酸鹽，其主要目的為何？
(A) 節省勞力成本 (B) 延長保存期限 (C) 增加營養價值 (D) 減少環境汙染。
9. (B) 臺灣在加入世界貿易組織(WTO)後，為了因應國際市場的衝擊，臺灣的稻農可以改朝下列哪一方向去做改變？(A)增加產量(B)提升品質(C)降低售價 (D)稻田休耕。
10. (D) 臺灣最有利於農業發展的自然條件為何？ (A) 地形 (B) 面積 (C) 土壤 (D) 氣候。
昔日為有效解決農產品生產過剩和產季限制，以日晒、醃漬等手法延長保鮮期；今日在國際貿易帶動下，各地的生產方式改變，轉以高溫、冷凍或化學方式加工。上文所述的「生產方式改變」，具有下列何種特徵(A)都市化(B)專業化(C)多元化 (D)集約化。
11. (D) 臺灣最有利於農業發展的自然條件為何？ (A) 地形 (B) 面積 (C) 土壤 (D) 氣候。
12. (B) 小銘上地名資訊服務網查詢「厝和屋」的地名，「屋」的地名主要分布在何種族群居住的地方？
(A) 閩南人 (B) 客家人 (C) 平埔族 (D) 高山族。
13. (C) 臺灣有許多地名與甘蔗製糖的舊式製糖廠「糖廍」有關，如「廍子」、「廍後仔」……等。由臺灣甘蔗分布的地理環境來推論，下列哪一地區會出現最多這類的地名？
(A) 臺北盆地 (B) 桃園台地 (C) 嘉南平原 (D) 宜蘭平原。
14. (C) 搭乘臺灣鐵路西部幹線（海線）從新竹到彰化，途中經過崎頂車站，依據其地名判斷，該地區應位於下列哪一地區？(A)山崖之處 (B)山間台地 (C)山坡頂端 (D)河邊沙丘
15. (C) 下列哪一種地名，在閩南語中指物體突出部分？ (A) 窩 (B) 岫 (C) 鼻 (D) 崎。
16. (B) 販賣牛隻交易之處，當地容易形成何種地名？(A)鳥松 (B)牛墟 (C)鹿寮 (D)蚵寮。
17. (D) 哪一個地名與聚落位在茄苳樹下附近而形成？(A)蚵寮(B)牛墟(C)鹿寮 (D)茄苳腳。
18. (B) 清代漢人移民帶入的原鄉地名，原鄉主要是哪兩個省分？(A)江西、福建 (B)福建、廣東 (C)廣東、廣西 (D)江西、廣東。
19. (D) 以地形作為地名命名依據，「埔」字地名（例如：牛埔庄等），應指下列何種地形特徵？

(A)陡峭懸崖 (B)河道彎曲 (C)山間盆地 (D)地勢平坦。

20.(C) 崙通常是形成於濱海或河岸的沙丘，可作為阻擋冬天的強風，容易發展成為聚落。它主要阻擋下列何種強風？ (A)↘ (B)↗ (C)↙ (D)↘。

21.(D) 某縣市政府網站介紹如下：其行政區名由來相傳來此開墾的漢人，見溪水奔海時呈迴旋狀，稱之為河瀾。指的是下列哪個縣市(A)桃園市(B)臺中市(C)嘉義縣(D)花蓮縣。

22.(C) 早期安平港是利用下列何種地形發展而成(A)岬角(B)灣澳 (C)潟湖 (D)珊瑚礁。

23.(D) 1953 年當時歐美國家多稱臺灣為什麼名稱(A)臺灣(B)大員(C) Tayovan(D) Formosa

24.(B) 臺灣某縣市古稱「半線」，源自平埔族「半線社」的語音翻譯。在清代平定朱一貴事件後，因「彰聖天子丕昌海隅之化敷(意指彰顯皇朝教化)」而更名。上述內容最有可能指下列哪個縣市？

(A)桃園市 (B)彰化縣 (C)高雄市 (D)屏東縣。

25.(C) 日治時期某地戶籍內容中的「打貓」應位於今日嘉義縣的哪個行政區？

(A)東石 (B)新港 (C)民雄 (D)布袋。

26.(D) 三百年前「台江內海」如今消失殆盡，安平古堡也遠離海岸，造成此種環境變遷的主因為何？(A)人工填海造陸 (B)海水面下降 (C)興建防波堤 (D)河川的沖積。

27.(D) 臺灣的行政區包括6個直轄市，以及16個縣、市。某個縣以客家族群為主，每年4月至5月是桐花盛開時節，因此舉辦桐花季活動，境內的大湖是著名的「草莓之鄉」。上述「某個縣」的舊名為下列何者？ (A)打狗 (B)洄瀾 (C)雞籠 (D)猫裏。

28.(D) 歷史上的臺灣有許多不同稱呼，不同時期的地名稱呼其涵蓋今日範圍各不相同，下列何者所涉及的空間意涵最大？ (A)17世紀荷蘭人稱占領地區為「Tayovan(大員)」 (B)鄭成功攻下熱蘭遮城後，將該城改為「安平城」 (C)清帝國設立「臺灣府」，以及諸羅縣、鳳山縣等行政區 (D)「臺灣」運動頂尖好手，在東京奧運上大放異彩。

29.(V) ○○舊稱雞籠，其名稱取自原住民民族雞籠社的社名。推測「○○」與下列何族最相關？

(A)泰雅族 (B)噶瑪蘭族 (C)道卡斯族 (D)凱達格蘭族。

30.(B) 古地圖中的「鯤鯨」是指何種海岸地形？(A)岬角 (B)沙洲 (C)沙灘 (D)潟湖。

31.(C) 下列地名何者是從鄭氏政權沿用至今？(A)松山 (B)信義 (C)新營 (D)民雄。

32.(C) 18世紀法國人繪製的臺灣西部與東部出現明顯的繪製差異，其原因最可能為下列何者？(A)當時繪圖技術不完全 (B)東部河川堆積作用強 (C)對東部地區認識尚淺 (D)涉及清帝國管制機密。

33.(A) 臺灣出現許多與在地環境無關的地名，例如：南投縣的「仁愛鄉、信義鄉」，這些名稱出現在臺灣的可能原因為何？(A)以彰顯道德教化 (B)寄託復國的決心 (C)冀求能長治久安 (D)人民能落地生根。

34.(B) 清帝國時期，臺灣一詞作為行政區的名稱，如臺灣縣、臺灣府、臺灣省等，被使用的行政層級愈來愈高，此現象代表的意義為何？

(A)政權更迭頻繁 (B)戰略位置提升 (C)地名慣性沿用 (D)為求交流方便。

高雄市立鼓山高中 113 學年度第二學期第一次段考《國三》國文科解答

考試範圍：康軒版(六)四~六課、自學一~自學三

一、單題（1-5 題每題 2 分，6-25 題每題 3 分，共 70 分）

1-5	6-10	11-15	16-20	21-25
CDCAB	ACADB	ADBCA	BCBDD	CDCAB

二、題組（每題 3 分，共 30 分）

26-30	31-35
ACBDD	ABDAC

第一次段考國二國文科解答

1~5	DCACA	21~25	CACDB	41~45	DBDCD
6~10	DBCBD	26~30	CCBCD	46~50	CDCAA
11~15	AABAB	31~35	DCBAC		
16~20	ADCBA	36~40	BDDAB		

空白卷)高雄市立鼓山高中 113 學年度第二期第一次段考《國一》國文科答案卷

____年____班____號 姓名_____

選擇題	非選題	總分

二、國字注音：(每字 1 分，共 24 分)

1. 賄「賂」官員	ㄌㄨㄞˋ	2. 印度「梵」語	ㄘㄣˊ	3. 「了」無聲	ㄌㄞˊ
4. 「ㄨㄟ」為奇觀	蔚	5. 三座「ㄌㄞˋ」壇	醺	6. 「一ㄣˊ」席	筵
7. 「ㄑㄧˊ」人憂天	杞	8. 結「ㄌㄞˊ」	繭	9. 破「ㄘㄨㄣˊ」沉舟	釜
10. 「甫」經下水	ㄘㄨ	11. 「蠱」立	ㄣˊ	12. 「ㄌㄣˊ」刻	鐫
13. 無遠「ㄘㄨˊ」居	弗	14. 「狙」擊	ㄌㄣˊ	15. 「瑰」寶	ㄍㄨㄟ
16. 「尅」仔標	ㄨㄞ	17. 「ㄣˊ」那	剎	18. 一「幘」照片	ㄘㄣˊ
19. 連「一」	漪	20. 「庇」護所	ㄨㄟ	21. 令人扼「腕」	ㄨㄞ
22. 「ㄗㄨˊ」咒	詛	23. 夫妻「ㄨㄟ」離	仵	24. 這「ㄨㄞ」行為	樁

三、摘釋與注釋：(1-14 題各 1 分；15-18 題各 2 分，共 22 分)：

1. 「比」肩：	並列	2. 「了」無聲：	完全。
3. 徒然：	只是	4. 故重「耳」：	句末助詞，矣、了
5. 矗立：	高聳直立	6. 瑰寶：	珍貴的寶物
7. 倏忽：	很快的樣子	8. 天籟：	形容美妙的聲音
9. 涎著臉：	厚著臉皮	10. 「徑」至 <u>宛市</u> 中：	直接
11. 氣派儼然：	氣勢莊嚴	12. 「甫」經下水：	剛剛
13. 乍暖還寒：	形容天氣冷熱不定	14. 「蔚」為壯觀：	聚集
15. 濫觴：	比喻事物的開端、起源		
16. 過眼雲煙：	比喻事情消逝極快，不留痕跡		
17. 具體而微：	內容大致齊全，只是規模較小		
18. 立德、立功、立言：	樹立德行、建立功業、著書立說		

四、翻譯：(每題 2 分，共 4 分，翻譯不完整扣 1 分，錯字扣 0.5 分，扣完為止)

1. <u>定伯復言</u> ：「我新死，不知鬼悉何所畏忌？」 答：定伯又問鬼：「我剛死，不知道鬼都害怕忌諱些什麼？」
2. <u>鬼言</u> ：「步行太極，可共迭相擔也。」 答：鬼說：「走路太累了，我們可以互相輪流背著對方走，比較省力。」

高雄市立鼓山高中 113 學年度第二學期第一次段考《國一》數學科作答卷

考試範圍:1-1 至 1-3 & 6-1

1 年 班 號 姓名

一、 單選題：每題 3 分

1	2	3	4	5	6	7	8	9	10
B	C	D	A	D	C	C	A	B	C

二、 填充題：(A)至(J)每格 2 分,其餘每格 4 分

(A)	(B)	(C)	(D)	(E)
$-6x+4y-2$	$\frac{x-5y-3}{12}$	9	-4	5
(F)	(G)	(H)	(I)	(J)
6	-2	2	1	50
(K)	(L)	(M)	(N)	(O)
14	18	90	$(-4, 3)$	1
(P)	(Q)	(R)	(S)	(T)
$x+y=23$	$x=y+5$	6	62	30

三、 計算題(每題 5 分共 10 分 需列出過程否則不計分)

(1)	$\text{日: } 150\text{元/hr}$ $\text{夜: } 180\text{元/hr}$	(2)	$\text{男生需 } 2\text{頂}$ $\text{女生需 } 4\text{頂}$ 共 6J頂
-----	--	-----	---

高雄市立鼓山高中113學年度第二學期第一次段考《國二》數學科作答卷

考試範圍：第四冊1-1~2-1

答案請寫在答案卷上

班號姓名

一、選擇題：每題4分，共40分

1	2	3	4	5	6	7	8	9	10
D	C	C	B	D	C	A	A	B	C

二、填充題：每格4分，共44分

1.	2.	3.	4.
-3	-2	7	98
5.	6.	7.	8.
-4	240	$\frac{32}{3}$	2
9..	10(1).	10(2).	
7	乙	$y=50x+600$	

三、計算題：共16分(需寫出計算過程)

1. 已知等差級數 $7+15+23+\cdots+167$ ，則：

(1) 此級數共有幾項？(4分)

(2) 此級數的和為多少？(4分)

答：(1) 21項
(2) 1827

2. 已知一次函數 $y=ax+7$ ，且 $x=-1$ 時， $y=4$ ，求：

(1) $a=?$ (4分)

(2) $x=1\sim 20$ 的函數值之和 $=?$ (4分)

答：(1) $a=3$
(2) 770

[滿分 100 分]

一、單一選擇題（每題 4 分，共 88 分）

- 1.(B) 2.(A) 3.(C) 4.(D) 5.(A)
6.(C) 7.(A) 8.(C) 9.(A) 10.(B)
11.(A) 12.(A) 13.(A) 14.(D) 15.(A)
16.(A) 17.(C) 18.(D) 19.(C) 20.(C)
21.(C) 22.(D)

二、非選擇題-計算（每題 6 分，共 12 分）

1. $\because 28 \times \frac{1}{4} = 7, 28 \times \frac{3}{4} = 21,$

$\therefore Q_1$ 是由小到大排列第 7、8 筆資料的平均，即 $Q_1 = 63,$

$\therefore Q_3$ 是由小到大排列第 21、22 筆資料的平均，即 $Q_3 =$
82，

故四分位距 $= 82 - 63 = 19$ （分）。

2. $\because \overline{OM}$ 為 120 公尺， O 與 M 為對稱點， \therefore 對稱軸方程式

為 $x = 60$ 。

又路徑的最大高度為 20 公尺，

\therefore 此二次函數的頂點坐標為 $(60, 20)$ ，故 $h = 60$ 、 $k =$
20，

因此函數為 $y = a(x - 60)^2 + 20$ 。

\because 圖形通過原點 $(0, 0)$ ，將其代入 $y = a(x - 60)^2 +$
20，

可得 $0 = a(0 - 60)^2 + 20, a = -\frac{1}{180},$

故二次函數為 $y = -\frac{1}{180}(x - 60)^2 + 20$ 。

答： $y = -\frac{1}{180}(x - 60)^2 + 20$

【閱讀共 100 分。配分：1~23 ➡每題 2 分；24~41 ➡每題 3 分】

1	2	3	4	5	6	7	8					
C	D	B	B	C	A	D	C	C	B	D	C	C
12	13	14	15	16	17	18	19	20	21	22		
B	B	C	D	C	C	D	D	B	B	A		
23	24	25	26	27	28	29	30	31	32	33		
C	D	D	B	D	A	D	C	B	D	B		
34	35	36	37	38	39	40	41	42	43	44		
C	A	C	A	B	C	D	B					

【聽力共 100 分。配分：1~10 ➡每題 4 分；11~30 ➡每題 3 分】


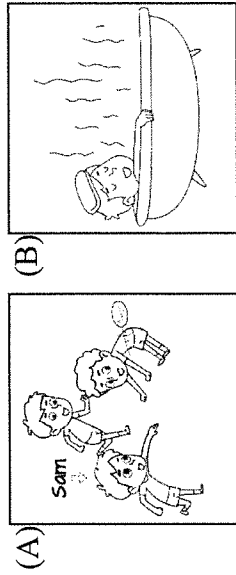
1	2	3	4	5	6	7	8	9	10
B	A	B	A	C	B	C	C	A	B
11	12	13	14	15	16	17	18	19	20
B	C	A	A	C	B	A	C	B	C
21	22	23	24	25	26	27	28	29	30
C	A	B	C	A	A	C	B	A	B

一、辨識句意：每題均有三張圖片，請依據所聽到的句子，選出符合描述的圖片。

1. 《腳本區》

CD: Sam is taking a bath in the bathroom.

《題目區》



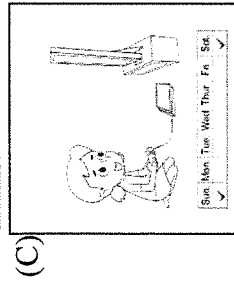
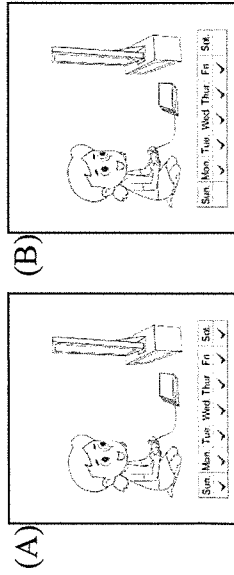
《答案區》

答案：B
題號：A0BL1001

2. 《腳本區》

CD: Annie doesn't play video games every day. She only plays on weekends.

《題目區》



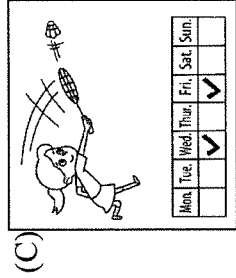
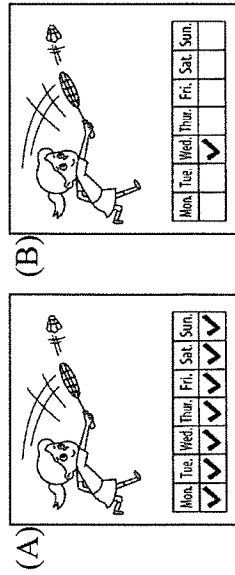
《答案區》

答案：C
題號：A0BL1002

3. 《腳本區》

CD: Lisa practices badminton once a week.

《題目區》





《答案區》

答案：B
題號：A0BL2001

4. 《腳本區》

CD: Jim sometimes cleans his house on weekends.

《題目區》




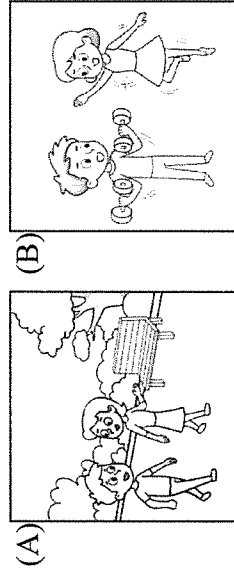
《答案區》

答案：A
題號：A0BL2002

5. 《腳本區》

CD: The man is exercising, and the woman is dancing.

《題目區》



《答案區》

答案：B
題號：A0BR1001

6. 《腳本區》

CD: Mark practices badminton on Wednesdays and tennis on Sundays.

《題目區》

(A)							(B)						
Mon.							Mon.						
Tue.							Tue.						
Wed.				☁			Wed.				☁		
Thur.							Thur.						
Fri.							Fri.						
Sat.							Sat.						
Sun.				☁			Sun.				☁		

(C)						
Mon.						
Tue.						
Wed.				☁		
Thur.						
Fri.						
Sat.						
Sun.						

《答案區》


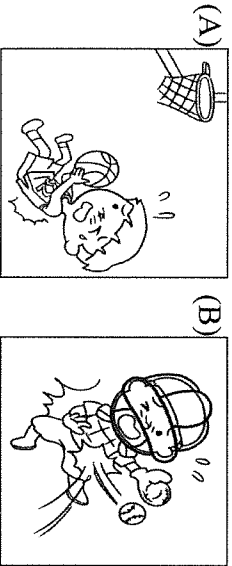
答案：A

題號：A0BR1002

7. 《腳本區》

CD: Look at that boy! He is a great basketball player.

《題目區》



《答案區》

答案：C

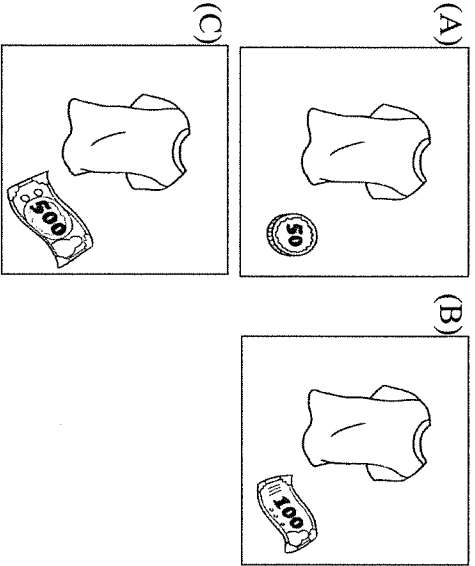
題號：A02L1173

8. 《腳本區》

CD: The T-shirt is only one hundred dollars. What are

you waiting for? Get it now!

《題目區》

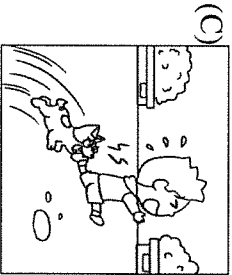



《答案區》

答案：B

題號：A02L1174

9. 《腳本區》
CD: The dog always runs after Andrew. He doesn't like the dog.
《題目區》



《答案區》


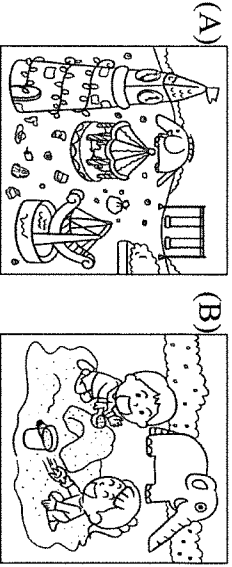
答案：C

題號：A02L2172

10. 《腳本區》

CD: The park is usually dirty. No one cleans it.

《題目區》



《答案區》

答案：A

題號：A02L2183

二、基本問答：每題均有三個選項，請依據所聽到的內容，選出一個最適合的回應。

11. 《腳本區》

CD: Lucy likes the book about robots.

《題目區》

- (A) I don't like it, either.
(B) Me too. I read it every day.
(C) Really? She doesn't like the book.

《答案區》

答案：B

題號：A0BL1003

12. 《腳本區》

CD: What time does your brother get up every day?

《題目區》

- _____
- (A) He gets up at 8 a.m.
- (B) He eats breakfast at 7 a.m.
- (C) He is playing with my sister.

《答案區》

答案：A

題號：A0BL1004

13. 《腳本區》

CD: How much is your watermelon milk?

《題目區》

- _____
- (A) Sure (當然). I like it.
- (B) It's sixty-five dollars.
- (C) Yes, I drink it twice a day.

《答案區》

答案：B

題號：A0BL1005

14. 《腳本區》

CD: How often do you go to the night market?

《題目區》

- _____
- (A) Once a month.
- (B) I usually go to the night market at 8:30 p.m.
- (C) I always go to the night market with my sister.

《答案區》

答案：A

題號：A0BL2003

15. 《腳本區》

CD: Let's make some changes to our kitchen.

《題目區》

- _____
- (A) That's terrible. Let's move.
- (B) We have enough food for everyone.
- (C) That's a good idea. Our kitchen is too small.

《答案區》

答案：C

題號：A0BL2004

16. 《腳本區》

CD: What does Kelly usually do in the evening?

《題目區》

- _____
- (A) She has a busy life.
- (B) She takes out the trash.
- (C) She never cleans the table.

《答案區》

答案：B

題號：A0BL2005

17. 《腳本區》

CD: Do you know Kevin Wang?

《題目區》

- _____
- (A) No, he's my cousin.
- (B) Yes, he's my classmate.
- (C) No, he's on the sports field.

《答案區》

答案：B

題號：A0BR1003

18. 《腳本區》

CD: I worry about my grades. What can I do?

《題目區》

- _____
- (A) I enjoy it, too.
- (B) Study every day.
- (C) Let's do it together.

《答案區》

答案：B

題號：A0BR1004

19. 《腳本區》

CD: The toilet seat is too dirty. How often do you clean it?

《題目區》

- _____
- (A) Err... twice a month.
- (B) Don't touch it with your fingers.
- (C) Follow him. He knows the way to the park.

《答案區》

答案：A

題號：A0BR1005

20. 《腳本區》

CD: I clean the toilet three times every day.

《題目區》

- _____
- (A) The germs may kill me anytime.
- (B) I don't believe you. The toilet is always dirty.
- (C) That's terrible. Don't you clean it every day?

《答案區》

答案：B

題號：A02L2070

三、言談理解：每題均有三個選項，請依據所聽到的對話與問題，選出一個最適當的答案。

21. 《腳本區》

CD: W: Do you and your sister play in the playground after school?

B: No, we don't.

W: Then what do you do in the evening?

B: Well, we play basketball together.

Q: What do the boy and his sister do after school?
《題目區》

- _____
(A) Read.
(B) Watch TV.
(C) Play sports.

《答案區》

答案：C

題號：A0BL1006

22. 《腳本區》

CD: M: What does John do in the morning?

W: He takes a walk in the park, and then he washes his face.

M: Does he make breakfast every day?

W: Yes, he does. Then he takes his son to school.

Q: What does John do in the morning?

《題目區》

- _____
(A) He exercises at home.
(B) He makes breakfast.
(C) He takes his son home.

《答案區》

答案：B

題號：A0BL1008

23. 《腳本區》

CD: W: It's 9 p.m. Do the dishes, Kevin.

B: I know, but I'm busy now.

W: What are you doing in your room?

B: I'm playing video games.

W: Kevin!

Q: What does the boy usually do at 9 p.m.?

《題目區》

- _____
(A) He usually mops the floor.
(B) He usually does the dishes.
(C) He usually plays basketball.

《答案區》

答案：B

題號：A0BL2007

24. 《腳本區》

CD: W: Do you often exercise in the evening?

M: Yes, and I do it three days a week.

W: Does your wife do it with you?

M: Yes, but she only does that once a month.

Q: Who exercises three times a week?

《題目區》

- _____
(A) The man.
(B) The man's wife.

(C) The man and his wife.

《答案區》

答案：A

題號：A0BL2010

25. 《腳本區》

CD: W: My sister Anna has problems with her teeth. She has three bad teeth. She eats a lot of cakes and drinks a lot of juice, but she doesn't brush her teeth every day.

Q: What can we say about Anna?

《題目區》

- _____
(A) She is hungry.
(B) She has terrible teeth.
(C) She eats a lot of fruit every day.

《答案區》

答案：B

題號：A0BR1010

國二英聽解答

一、辨識句意：(每題 4 分，共 32 分)

1. 答案：(A)

M: The pumpkin pies here smell good and taste great!

2. 答案：(C)

Emma is a little thinner than Emily.

3. 答案：(A)

Look at the sign. It says, "Be Careful of Red Fire Ants!"

4. 答案：(B)

David is the youngest in my family, but he can eat the most of all.

5. 答案：(A)

The math test is as hard as the science test. Most of the students got below 60.

6. 答案：(C)

Let's go to that steak house near my house.

7. 答案：(A)

Bill is the tallest boy on the basketball team.

8. 答案：(C)

Sam almost finished his salad and steak, but didn't touch the bread at all.

二、基本問答 (每題 4 分，共 40 分)

9. 答案：(A)

What's your country like, Eason?

10. 答案：(B)

Is the pink sweater more expensive than the blue one?

11. 答案：(A)

Which bottle of water is the most expensive?

12. 答案：(A)

Why is your mom the busiest person in your family?

13. 答案：(B)

Let's have some beef noodles for dinner.

14. 答案：(C)

Is the doll the smallest in your store?

15. 答案：(C)

How would you like your steak, sir?

16. 答案：(B)

Watch out. There is a spider in the tree.

17. 答案：(A)

I want to order another cheesecake. Would you like one too?

18. 答案：(B)

You don't look good. Are you okay?

三、言談理解 (每題 4 分，共 28 分)

19. 答案：(B)

M: Yuki, which subject is more difficult for you, math or science?

W: I think math is much harder for me. I often don't do well on the math test.

M: How about science? I think science is much more difficult for me.

W: Well, I think science is very interesting to me. I always do well.

M: Maybe I need your help on science.

W: No problem.

Q: Which is true?

20. 答案：(A)

M: It is pretty cold outside. Alice, put on your heavy jacket before going out.

W: Dad, but I don't feel cold, and I don't really want to look heavy in a jacket.

M: Well... Being healthy is more important than anything else.

Q: What does Dad tell Alice?

21. 答案：(C)

W: Jack, how tall are you?

M: I am about 175 centimeters tall.

W: How about your brothers, Jim and James?

M: Well, Jim is 183 centimeters tall, and James is 165 centimeters tall.

W: Oh, I see.

Q: Who is the shortest in Jack's family?

22. 答案：(C)

W: Mike, who is the smartest boy in your class?

M: Peter is. He is smarter than all the other boys in the class. He always

gets good grades on all the subjects.

W: Is he also very popular in your class?

M: Well, I think he is the most popular one, too.

Q: Who is the smartest and most popular in the class?

23. 答案：(C)

M: I would like to buy an Apple watch or iphone for my mom. Which one is better, Jill?

W: Both of them are not so cheap. Why not buy a bag for her?

M: Yeah, I know. Because her birthday is coming, I want to give her a

special surprise. I don't want to buy bags because she has many. But her watch and cellphone are old. That's why I want to buy one for her.

W: Well, I know that the watch in the YoYo Store is on sale. It just came out last week. Maybe we can go together, and you can buy one there.

M: That is a good idea. I can go there this afternoon. Thanks.

Q: Which one does Jill tell the man to buy?

24. 答案：(B)

M: Do you eat pork?

W: No, we don't. Many people from Turkey don't eat pork.

M: Do you eat beef, then?

W: Yes, we do.

Q: What do we know about the woman?

25. 答案：(B)

W: Let's have a swim, Andy.

M: Well, I want to stay on the beach. Don't swim too far, Carol.

W: Don't worry. I'm the best swimmer in our class.

M: I know, but you still need to watch out for strong waves.

Q: Where are the man and the woman?

一、字彙測驗（18%，每題 2 分）

1. knife	2. toast	3. until	4. shout	5. friendly
6. scared	7. answer	8. Spiders	9. spoon	

二、形容詞比較級（12%，每題 2 分）

1. later	2. lower	3. drier	4. better	5. worse	6. more
----------	----------	----------	-----------	----------	---------

三、單位量詞（8%，每題 2 分）

1. gram	2. miles	3. kilograms	4. inches
---------	----------	--------------	-----------

四、適當的形容詞（8%，每題 2 分）

1. wetter	2. the most dangerous	3. the scariest	4. more delicious
-----------	-----------------------	-----------------	-------------------

五、反身代名詞（8%，每題 2 分）

1. myself	2. ourselves	3. himself	4. themselves
-----------	--------------	------------	---------------

六、看圖回答問題（12%，每題 3 分）

1. How did the boy feel?
2. They smell like cheese.
3. Alex is the youngest in the family.
4. The knife is the longest.

七、文法測驗（20%，每題 2 分）

1. D	2. B	3. A	4. C	5. B
6. D	7. A	8. D	9. D	10. A

八、題組（14%，每題 2 分）

1. C	2. A	3. C	4. B	5. B
6. D	7. C			

班級 座號: 姓名:

得分:

範圍康軒英文第 2 冊 L1-Review1 課本+習作

一、單字測驗 30%(每一題 3 分)

1	2	3	4	5
beautiful	kangaroo	quiet	thirsty	orange
6	7	8	9	10
example	terrible	dirty	habit	badminton

二、填入適當的動詞形式 10%(每一格 2 分)10%。(每一格 2 分)

1.(1)	2.(2)	(3)	3.(4)	4.(5)
are	brushes	goes	has	win

三、文法、對話與完成句子測驗: 30%(每一題 3 分)

1D	2C	3C	4B	5A
6C	7C	8B	9B	10B

四、克漏字選擇:10%(每一題 2 分)

1 C	2 D	3 D	4D	5C
-----	-----	-----	----	----

五、閱讀測驗 10%(每一題 2 分)

1C	2A	3A	4 D	5B
----	----	----	-----	----

六、依提示回答問題 10% (錯一字扣一分，扣完為止)

1. It is five hundred NT dollars.	(數字需用英文書寫回答:2%)
2. No, he doesn't. He dances with his sister on Wednesdays.	(看圖詳答 2%)
3.No, he doesn't. He takes out the trash three times a week.	(看圖依正確數次完成回答 3%)
4. I can't believe it. He cleans his house once a year.	(翻譯 3%)

完成作答題 Good Luck!

鼓山高中國中部113學年度第二學期一年級公民科第一次月考解答																			
每題3分，第一題4分																			
1.	A	2.	A	3.	D	4.	B	5.	A	6.	A	7.	D	8.	D	9.	B	10.	D
11.	A	12.	B	13.	C	14.	A	15.	B	16.	C	17.	A	18.	B	19.	B	20.	C
21.	B	22.	B	23.	A	24.	A	25.	C	26.	A	27.	B	28.	A	29.	C	30.	D
31.	C	32.	A	33.	D														

鼓山高中國中部113學年度第二學期二年級公民科第二次月考解答																			
1-10 每題2分、11-30 每題3分、31-40 每題2分																			
1.	B	2.	B	3.	B	4.	B	5.	B	6.	B	7.	B	8.	A	9.	B	10.	B
11.	A	12.	D	13.	A	14.	A	15.	D	16.	A	17.	D	18.	D	19.	C	20.	C
21.	D	22.	C	23.	D	24.	C	25.	C	26.	C	27.	A	28.	C	29.	C	30.	A
31.	A	32.	A	33.	A	34.	B	35.	B	36.	C	37.	A	38.	B	39.	D	40.	D

鼓山高中國中部113學年度第二學期三年級公民科第一次月考解答																			
每題4分總分100分																			
1.	A	2.	B	3.	C	4.	A	5.	A	6.	B	7.	A	8.	B	9.	A	10.	B
11.	D	12.	A	13.	A	14.	D	15.	D	16.	C	17.	A	18.	B	19.	B	20.	D
21.	B	22.	A	23.	C	24.	A	25.	A										

